

## أتحقق من فهمي

### حل المتباينات بالضرب والقسمة

أتحقق من فهمي: صفحة 24



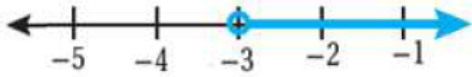
3  $\frac{y}{3} > -1$

منهاجي



4  $-\frac{4}{7}m < 8$

$y > -3$



$m > -14$



أتحقق من فهمي: صفحة 26



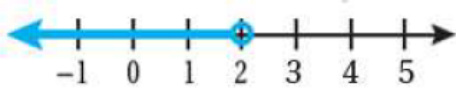
3  $4d < 8$

منهاجي

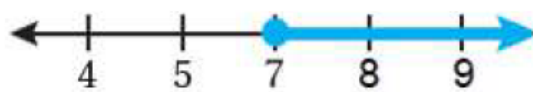


4  $-2y \leq -14$

$d < 2$



$y \geq 7$



أتحقق من فهمي:



**عمل:** يتقاضى أحمدُ JD 2.5 عن كل ساعة عمل، أكتب متباينةً وأحلّها؛ لإيجاد عدد الساعات التي يجب أن يعمل فيها حتى يتقاضى JD 400 على الأقل.

$2.5y \geq 400$  ,  $y \geq 160$