

المجد في الكيمياء

جيد 2008ل



مدارس ليڤانت الدولية
Levant International Schools



الوحدة الأولى أشكال
الجزيئات وقوى
التجاذب بينها

المجد في الكيمياء

للمعلمة عبير المصري

مدارس ليڤانت الدولية

الجبيهة - خلف جامعة العلوم التطبيقية

هاتف : 065237091

الوحدة الأولى


أشكال الجزيئات وقوى التجاذب بينها



النتائج العامة :

يتوقع من الطالب أن :

- التوصل الى المفاهيم الأساسية المتعلقة بالروابط بين الذرات والجزيئات
- توضيح العلاقة بين أزواج الإلكترونات حول الذرة المركزية والشكل الفراغي للجزيء
- تحديد قطبية الجزيئات
- التعرف الى أنواع قوى التجاذب بين الجزيئات واثرها على الخصائص الفيزيائية للمواد



التوزيع الإلكتروني



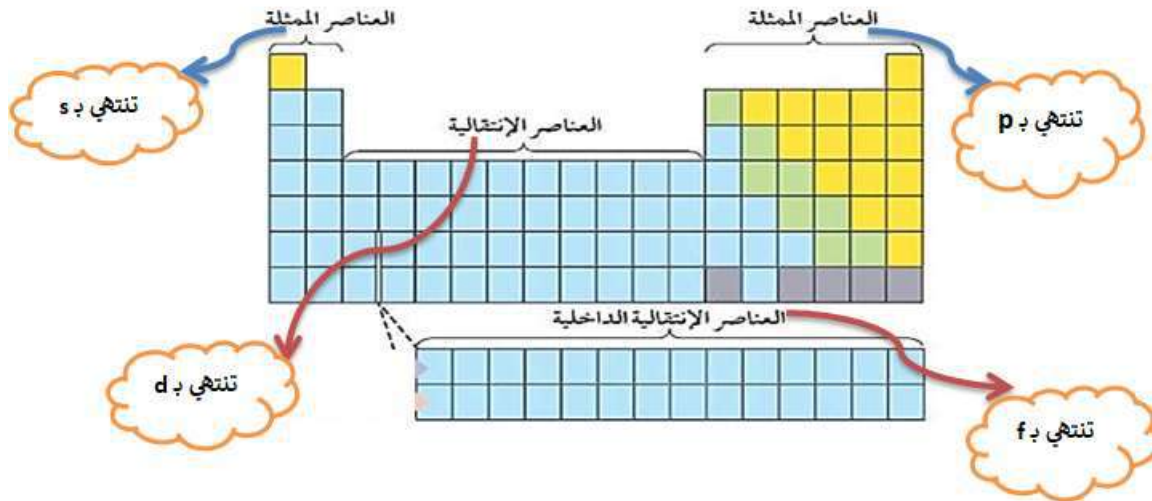
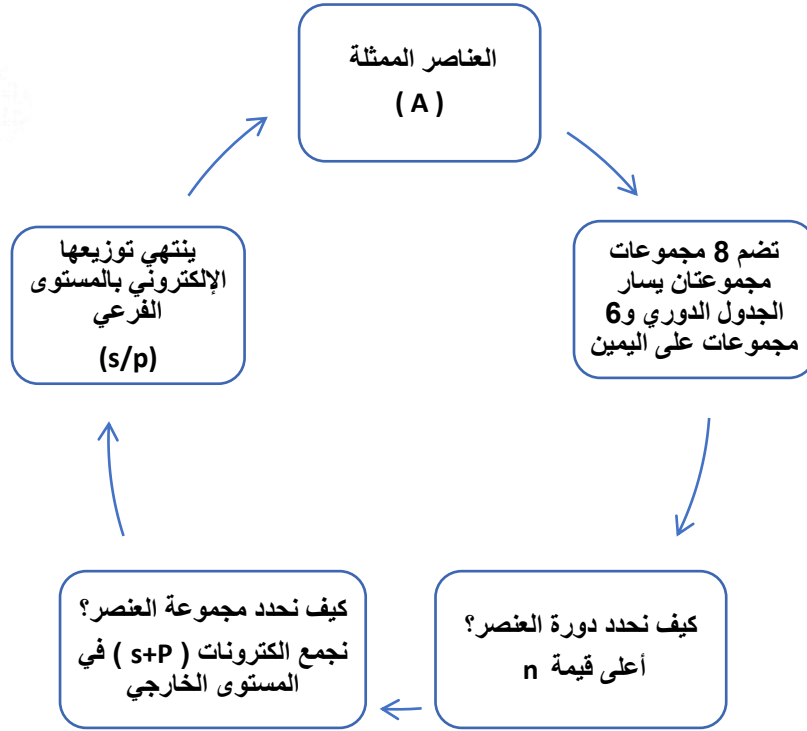
يتم تعبئة الإلكترونات على مستويات الطاقة الفرعية حسب الترتيب الآتي :

S S P S P S d P S d P S f d P

❖ التوزيع الإلكتروني بدلالة الغاز النبيل :

التوزيع الإلكتروني	العدد الذري	رمز العنصر	اسم العنصر النبيل
	2	He	الهيليوم
	10	Ne	النيون
	18	Ar	الآرغون
	36	Kr	الكربتون

Revision



** تركيب لويس:

- هو تمثيل نقطى لإلكترونات التكافؤ (إلكترونات المستوى الأخير) حيث يرمز لكل إلكترون بنقطة واحدة توضع على رمز العنصر .


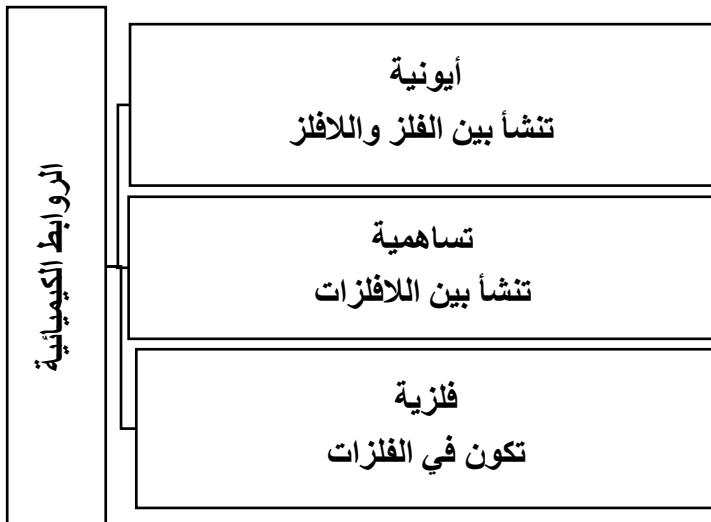


تدريب 1 : أكمل الجدول التالي

العنصر	التوزيع الالكتروني	رقم مستوى التكافؤ	عدد إلكترونات التكافؤ	تركيب لويس
${}^6\text{C}$				
${}^7\text{N}$				
${}^{15}\text{P}$				
${}^9\text{F}$				
${}^8\text{O}$				
${}^{14}\text{Si}$				
${}^{20}\text{Ca}$				

**** الروابط الكيميائية :**

هي قوة تجاذب تنشأ بين ذرتين أو أكثر عن طريق فقد الإلكترونات أو كسبها أو **المشاركة فيها** .





الرابطه التساهمية :

هي الرابطه الكيمائية الناتجة من تشارك زوج أو أكثر من الإلكترونات بين ذرتين أو أكثر من العناصر اللافلزية . وتسمى المركبات الناتجة عن الرابطه التساهمية " جزيئات " .



تدريب 2 بين باستخدام تركيب لويس كيف تنشأ الرابطه التساهمية في كل من :





الدرس 1 ◀ نظرية تنافر أزواج إلكترونات مستوى التكافؤ 10-23



ملاحظات هامة :

أزواج إلكترونات الرابطة :
هي إلكترونات مستوى
التكافؤ التي شاركت في
تكوين الرابطة

أيما وجدت ذرة الكربون
فهي مركزية , وأيما وجد
الهيدروجين أو الفلور فهي
ذرات طرفية

الذرة المركزية هي الذرة
الأقل عددًا في الجزيء
وتكوّن أكبر عدد من
الروابط ويكون لها أقل
قيمة كهروسالبية

أزواج الإلكترونات
غيرالرابطة : هي إلكترونات
مستوى التكافؤ التي لم
تشارك في تكوين الرابطة

➤ أكتب تركيب لويس وحدد عدد أزواج الإلكترونات الرابطة وغير الرابطة حول الذرة المركزية في كل من :

NF_3 (العدد الذري $N = 7$, $F = 9$)

.....

.....

.....

.....

.....

.....

.....

.....

.....

.....

.....

.....

.....

.....

.....

.....

.....

.....

.....

.....

.....

.....

.....

OF_2 (مجموعة O , 6A , مجموعة F , 7A)

.....

.....

.....

.....

.....

.....

.....

.....

.....

.....

.....

.....

.....

.....

.....

.....

.....

.....

.....

.....

.....

.....

.....



.....

.....

.....

.....

.....

.....

.....

.....

.....

.....

.....

.....

.....

.....

.....

.....

.....

.....

.....

.....

.....

.....

.....



.....

.....

.....

.....

.....

.....

.....

.....

.....

.....

.....

.....

.....

.....

.....

.....

.....

.....

.....

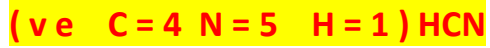
.....

.....

.....

.....

.....



.....

.....

.....

.....

.....

.....

.....

.....

.....

.....

.....

.....

.....

.....

.....

.....

.....

.....

.....

.....

.....

.....

.....



.....

.....

.....

.....

.....

.....

.....

.....

.....

.....

.....

.....

.....

.....

.....

.....

.....

.....

.....

.....

.....

.....

.....



.....

.....

.....

.....

.....

.....

.....

.....

.....

.....

.....

.....

.....

.....

.....

.....

.....

.....

.....

.....

.....

.....

.....

.....

.....

.....



.....

.....

.....

.....

.....

.....

.....

.....

.....

.....

.....

.....

.....

.....

.....

.....

.....

.....

.....

.....

.....

.....

.....

.....

.....

.....

.....

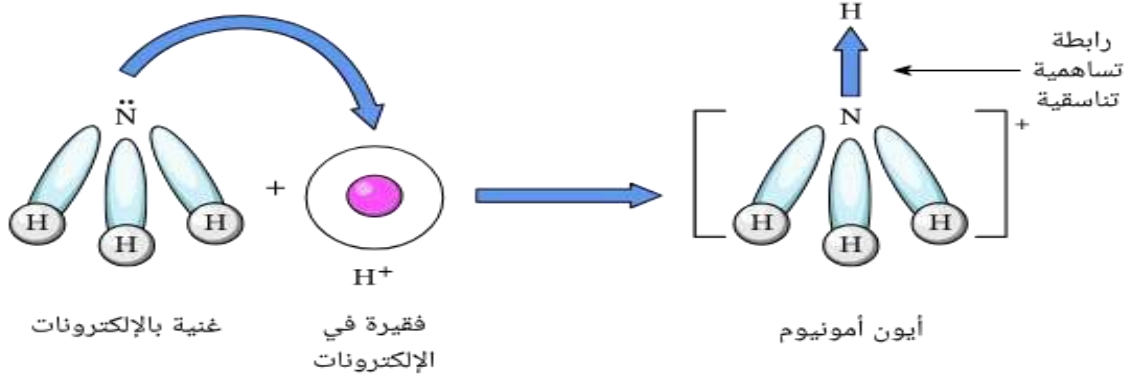
.....

الرابطة التناسقية

- هي نوع من الروابط التساهمية بحيث تقدم (تشارك) إحدى الذرات بزوج من الإلكترونات والأخرى تشارك بفلك فارغ .

الذرة التي تشارك بفلك فارغ تسمى (حمض لويس) .

الذرة التي تشارك بزوج الإلكترونات تسمى (قاعدة لويس) .

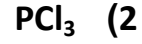
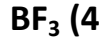


CONCLUSION

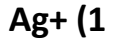
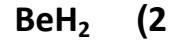
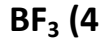





• إحدى الجزيئات التالية لا يمكن أن تكون قاعدة لويس :



• جميع الجزيئات التالية يمكن أن تكون حمض لويس عدا :




• **وضح بالرسم كيف تنشأ الرابطة التناسقية في كل من :**



.....
.....
.....
.....
.....
.....
.....
.....
.....
.....

.....
.....
.....
.....
.....
.....
.....
.....
.....
.....
.....
.....
.....
.....
.....
.....
.....
.....
.....
.....
.....



.....

.....

.....

.....

.....

.....

.....

.....

.....

.....

.....

.....

.....



.....

.....

.....

.....

.....

.....

.....

.....

.....

.....

.....

.....

.....

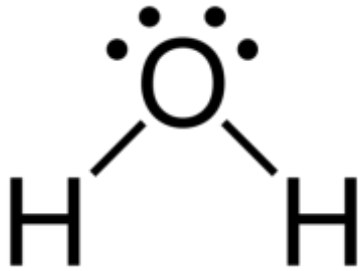
أشكال الجزيئات والزوايا بين الذرات

أنواع الإلكترونات حول الذرة المركزية

إلكترونات غير رابطة

إلكترونات رابطة

- تتنافر الإلكترونات مع بعضها البعض وذلك وفقًا للترتيب التالي :



.....
.....
.....

- وبناءً على هذا التنافر تفترض **نظرية VSPER** : أن أزواج الإلكترونات التكافؤ تترتب حول الذرة المركزية بحيث تكون أبعد ما يمكن ليكون التنافر ما بينها أقل ما يمكن (أكثر استقرار) .

هذا يعني أن لكل جزيء شكل فراغي محدد يتخذه للوصول إلى حالة الاستقرار وتقليل التنافر .

ملاحظة :

الأزواج غير الرابطة من الإلكترونات حول الذرة المركزية تشغل حيز أكبر من زوج الإلكترونات الرابطة لأنها تنجذب إلى نواة الذرة المركزية فقط أما الزوج الرابط فينجذب لنواحي الذرتين المكونتين للرابطة لذلك فإن تنافر الأزواج غير الرابطة مع الرابطة يقلل من مقدار الزاوية بين الأزواج الرابطة عن الزاوية المتوقعة .

✓ **أتحقق** : ما العلاقة بين عدد أزواج الإلكترونات حول الذرة المركزية ومقدار الزاوية بين الروابط في الجزيء؟

.....
.....
.....
.....
.....

الأشكال الفراغية للجزيئات والزوايا بين الروابط :

الحالة الأولى: الجزيئات التي تكون صيغتها العامة { AB₂ }

يوجد حول الذرة المركزية إلكترونات غير
رابطة (منحي بزواية 104.5)



لا يوجد حول الذرة المركزية إلكترونات
غير رابطة (خطي بزواية 180 °)

أمثلة :





الحالة الثانية: الجزيئات التي تكون صيغتها العامة { AB3 }



يوجد حول الذرة المركزية إلكترونات غير
رابطة (هرم ثلاثي بزاوية 107)

لا يوجد حول الذرة المركزية إلكترونات غير
رابطة (مثل مستوي بزاوية 120 °)

أمثلة:



الحالة الثالثة: الجزيئات التي تكون صيغتها العامة { AB4 }

لا يوجد حول الذرة المركزية إلكترونات غير رابطة

(10°) 9.5 (رباعي الأوجه منتظم بزاوية

أمثلة:



الحالة الرابعة: الجزيئات التي تكون صيغتها العامة { AB5 }

لا يوجد حول الذرة المركزية إلكترونات غير رابطة

(هرم ثنائي مثلث بزاوية 90 , 120°)

مثال: PCl₅

الحالة الخامسة: الجزيئات التي تكون صيغتها العامة { AB6 }

لا يوجد حول الذرة المركزية إلكترونات غير رابطة

(ثماني السطوح بزاوية 90°)

مثال: SF₆

أكمل الجدول التالي (اتحقق صفحة 22 من الكتاب المدرسي)

الجزئي	BeH ₂	BF ₃	SiH ₄
تركيب لويس			
الشكل الفراغي			
مقدار الزاوية			

• تصنّف الأشكال الفراغية إلى أساسية ومشتقة :

الأشكال المشتقة	الأشكال الأساسية

أفكر: يحقّق الأوكسجين في مركّباته قاعدة الثمانية، فما الشكل المتوقع لجزء الأوزون O₃؟ وكيف تترتب أزواج الإلكترونات حول الذرة المركزيّة؟

.....

.....

.....

.....

.....

.....

.....

مراجعةُ الدرس

1 - الفكرةُ الرئيسيَّةُ: أوضِّحْ سببَ اختلاف الأشكال الفراغية للجزيئات.

.....
.....
.....

3 - أرسمُ تركيبَ لويس والأشكال الفراغية لكلِّ من الآتية:

أ . ثنائي فلوريد الأوكسجين OF_2 .

ب . رباعي كلورو ميثان CCl_4 .

ج . أيون الهيدرونيوم H_3O^+ .

4 - أفسِّرْ:

أ . يختلف مقدار الزاوية بين الروابط في الجزيئات (CH_4 , NH_3 , H_2O)، على الرغم من أن الذرة المركزية في كلِّ منها تُحاط بأربعة أزواج من الإلكترونات.

.....
.....
.....
.....

ب . لجزيء ثاني أكسيد الكربون CO_2 شكل خطي، ولجزيء الماء H_2O شكل مُنحَن.

.....
.....
.....

5 - عنصران افتراضيان (X , Y)، يرتبط كلُّ منهما مع الهيدروجين مكونًا الصيغة (YH_3 , XH_3).

أقارن بين الجزيئين من حيث:

أ . تركيب لويس لكلِّ منهما.

ب . الشكل الفراغي لكلِّ منهما.

ج . مقدار الزاوية بين الروابط في كلِّ منهما.

د . امتلاك أزواج إلكترونات غير رابطة.

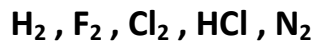
الدرس 2 ◀ الروابط والأفلاك المتداخلة 35-24

يمكن تفسير كيفية توزع الإلكترونات في الأفلاك التي عجزت نظرية تنافر أزواج إلكترونات مستوى التكافؤ من تفسيرها بالاعتماد على :

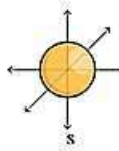
1. نظرية رابطة التكافؤ

2. نظرية الأفلاك الجزيئية

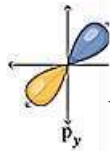
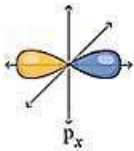
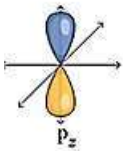
فسرت تداخل الأفلاك لتكوين الرابطة سيجما وباي في الجزيئات البسيطة التي تتكون من ذرتين فقط مثل :



REMEMBER

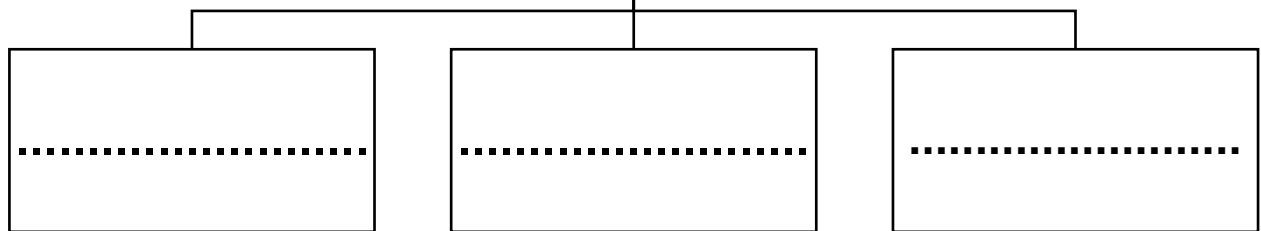


يمتلك فلك واحد شكله كروي S الغلاف الفرعي



∞ يمتلك 3 أفلاك شكلها P الغلاف الفرعي

أنواع الروابط التساهمية



تدريب حدد عدد الإلكترونات المنفردة التي يمتلكها كل عنصر مما يلي :

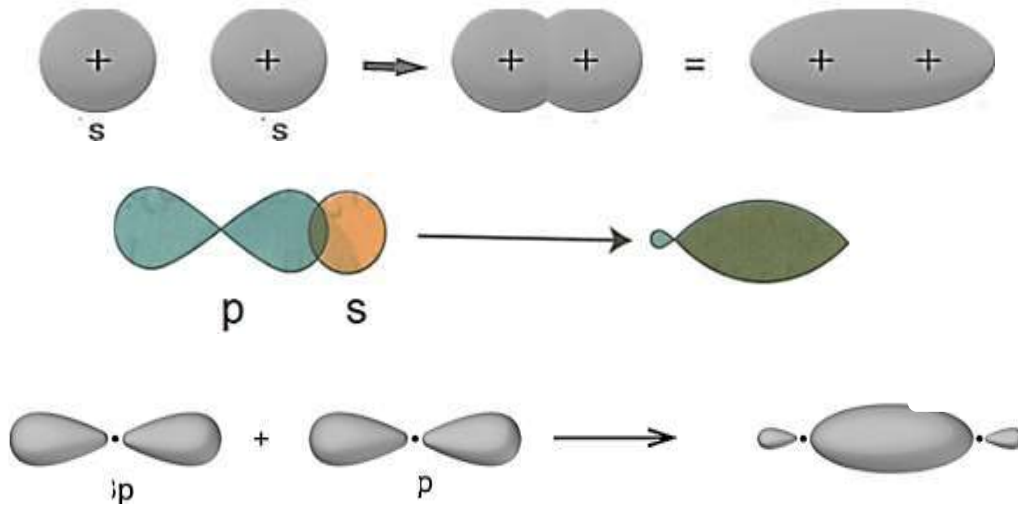
O_8	Cl_{17}
Ne_{10}	H_1

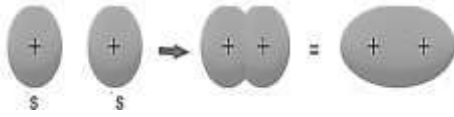


- الأفلاك التي تحتوي إلكترونات منفردة هي التي تكوّن الروابط (التداخلات)
- لا يحدث التداخل باي (الجانبي) إلا بعد حدوث التداخل سيجما (الرأسي)
- الرابطة سيجما أقوى من الرابطة باي.
- الكثافة الإلكترونية هي منطقة التداخل بين الذرتين والتي يتركز فيها وجود إلكترونات الرابطة.

❖ أولاً : كيف يتم تداخل الأفلاك لتكوين الرابطة سيجما ؟

- ✓ تنشأ الرابطة سيجما من تداخل رأسي بين أفلاك (S - S) أو (S - P) أو (P - P) .
- ✓ تكون منطقة الكثافة الإلكترونية على طول المحور الواصل بين نواتي الذرتين المرتبتين .





✓ تداخل أفلاك (S-S) :

تداخل الأفلاك في جزيء الهيدروجين H_2

.....

.....

.....

.....

.....

.....

.....



✓ تداخل أفلاك (S-P) :

تداخل الأفلاك في جزيء HCl

.....

.....

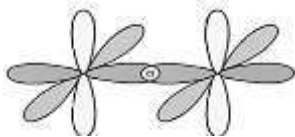
.....

.....

.....

.....

.....



✓ تداخل أفلاك (P-P) :

تداخل الأفلاك في جزيء F_2

.....

.....

.....

.....

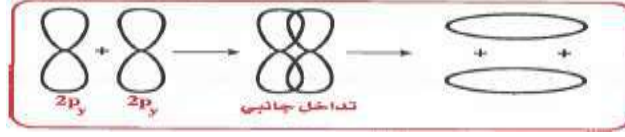
.....

.....

.....

❖ ثانيًا : كيف يتم تداخل الأفلاك لتكوين الرابطة باي؟

✓ تنشأ الرابطة سيجما من تداخل جانبي بين أفلاك (P – P) فقط .



✓ تكون منطقة الكثافة الإلكترونية على جانبي المحور الواصل بين نواتي الذرتين المرتبتين .

لذلك هي أضعف من الرابطة سيجما

✓ وضح كيف يتم تداخل الأفلاك لتكوين الروابط في الجزيئات التالية :

O₂ جزيء

.....

.....

.....

.....

.....

.....

.....

.....

.....

.....

N₂ جزيء

.....

.....

.....

.....

.....

.....

.....

.....

.....

.....



وجه المقارنة	الرابطة سيجما	الرابطة باي
نوع التداخل		
الأفلاك المتداخلة		
منطقة الكثافة الإلكترونية		

Hybridization and Hybrid Orbitals التهجين والأفلاك المَهجَنَة

مشكلة: تشير الدراسات إلى أن بعض الجزيئات لا يتوافق تركيبها مع الحقائق التي جاءت بها نظرية رابطة التكافؤ والنظرية الأفلاك الجزيئية (عدم التوافق في مقدار الزاوية أو في عدد الروابط التي تكونها الذرة أو كلاهما)

الحل: افترض العلماء أن الذرة تستخدم أفلاك تختلف عن الأفلاك الذرية التي تظهر في تركيب الذرة الإلكترونية ، وهذه الأفلاك الجديدة تنشأ من اندماج بين أفلاك التكافؤ في الذرة نفسها (نظرية الأفلاك المهجنة).

هذا يعني أن عملية التهجين فسرت تكون الروابط وتداخل الأفلاك في الجزيئات التي تحتوي ذرة مركزية (تتكون من 3 ذرات فأكثر)



○ **التهجين:** هو اندماج أفلاك مستوى التكافؤ في الذرة نفسها لينتج منه الأفلاك جديدة تتشابه في الشكل والسعة والطاقة وتختلف في الاتجاه الفراغي .



الفلك s



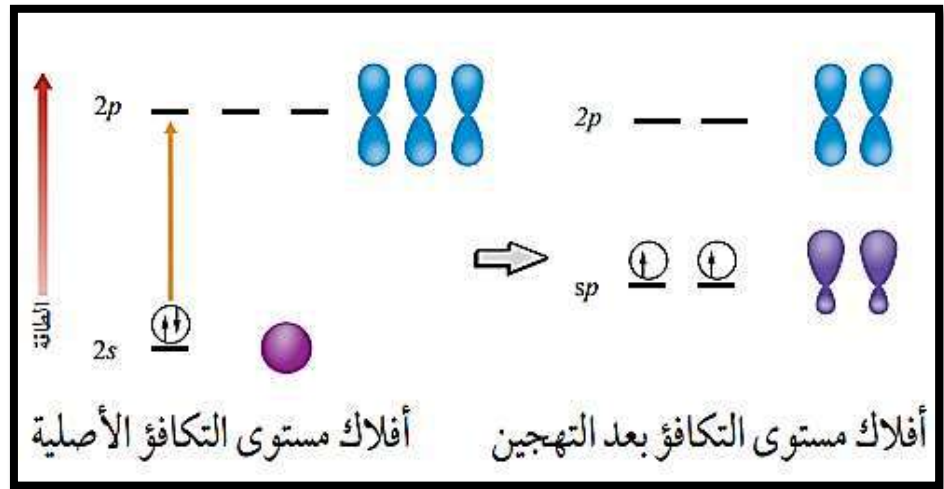
شكل فلك p



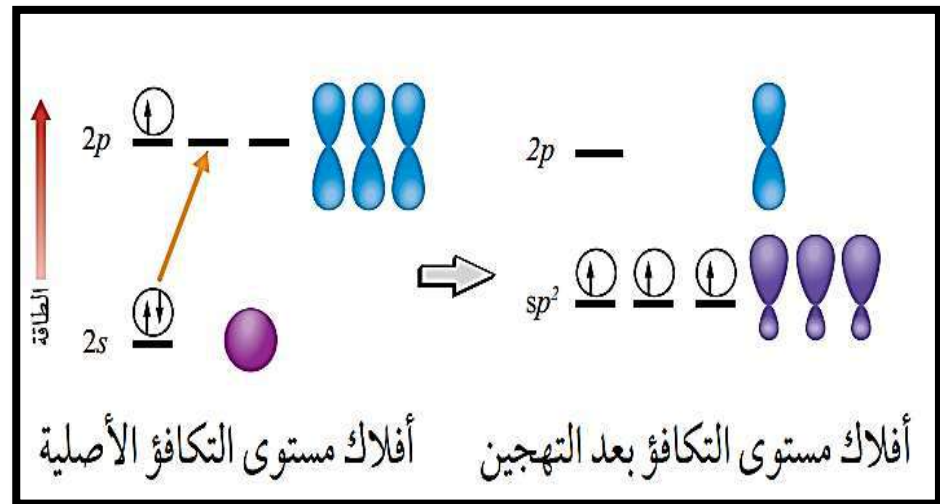
الفلك المَهجَن sp³

○ أنواع التهجين :

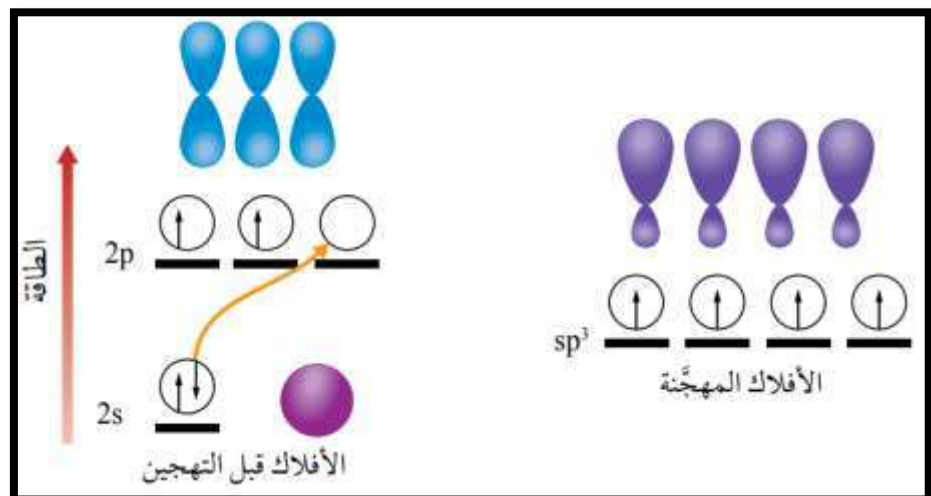
1. تهجين sp : يندمج فيه فلك s مع فلك p



2. تهجين sp^2 : يندمج فيه فلك s مع اثنين من أفلاك p



3. تهجين sp^3 : يندمج فيه فلك s مع ثلاثة أفلاك p



➤ أكمل الجدول التالي :

نوع الافلاك المتداخلة	نوع التهجين على الذرة المركزية	الشكل الفراغي للجزيء	الجزيء
			SiCl_4
			PCl_3
			OF_2
			NF_3
			BeCl_2
			BH_3
			H_2O
			NH_3

➤ فسر سبب التهجين لكل من الجزيئات التالية

CH_4	H_2O
NH_3	BH_3

➤ قارن بين مركبات الكربون التالية :

	C_2H_2	C_2H_4	CH_4
الشكل الفراغي			
نوع التهجين			
عدد روابط سيجما وباي			
الأفلاك المتداخلة			

قطبية الجزيئات Polarity of Molecules

تعتمد قطبية الرابطة على فرق الكهروسالبية بين الذرتين المكونتين للرابطة فتزداد بزيادة الفرق.

- الكهروسالبية هي قدرة الذرة على جذب إلكترونات الرابطة نحوها .

وفق مقياس باولنج :

نوع الرابطة	فرق الكهروسالبية
أيونية	أعلى من 2
تساهمية قطبية	من 0.4 - 2
تساهمية غير قطبية	أقل من 0.4

➤ في الجزيئات النقية يكون فرق الكهروسالبية = 0

أولاً قطبية الجزيئات البسيطة

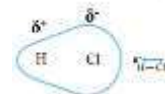
الجزيء البسيط

غير قطبي

لا يوجد فرق في الكهروسالبية

قطبي

يوجد فرق في الكهروسالبية



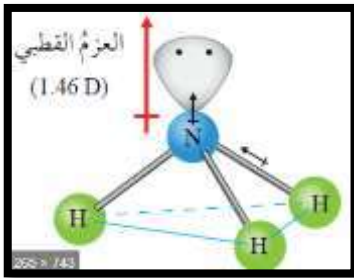
ثانيًا قطبية الجزيئات التي تحتوي ذرة مركزية

قطبية هذه الجزيئات تعتمد بشكل أساسي على الشكل الفراغي والذرات الطرفية المرتبطة بالذرة المركزية

الأشكال الفراغية

الأشكال المشتقة
(منحنى - هرم ثلاثي)

دائمًا قطبية لأن محصلة العزوم القطبية لا تساوي صفر

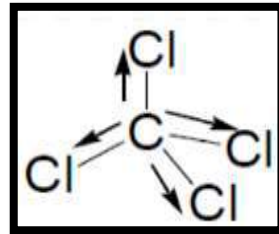


الأشكال الأساسية
(خطي - مثلث مستوي - رباعي أوجه المنتظم)

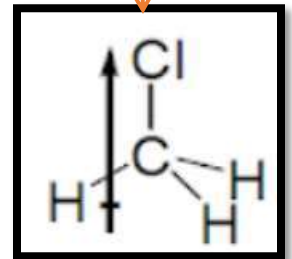
انظر الذرات الطرفية



متشابهة يكون الجزيء غير قطبي



مختلفة يكون الجزيء قطبي



ملاحظات هامة :

- المركبات الهيدروكربونية هي مركبات غير قطبية دائماً لأنه لا يوجد فرق في الكهروسالبية بين الكربون والهيدروجين .
- الذرة الأعلى كهروسالبية في الجزيء يتكون عليها شحنة جزيئية سالبة () والذرة الأقل كهروسالبية يتكون عليها شحنة جزيئية موجبة () .
- الإلكترونات الغير رابطة على الذرة المركزية لها دائماً عزم قطبي باتجاه الأعلى (بعيد عن المركز)
- نعبر عن قطبية الرابطة بسهم رأسه يشير إلى الذرة الأعلى كهروسالبية .

➤ قارن بين كل مما يلي :

العزم القطبي لجزيء الماء H_2O و الجزيء OF_2

العزم القطبي للجزيء NH_3 و لجزيء NF_3

➤ أكمل الجدول التالي :

السبب	قطبي / غير قطبي	الشكل الفراغي	الجزئي
		—	HCl
			H ₂ O
			BF ₃
			CH ₄
			NH ₃
		—	O ₂
			HCN

4 - أفسرُ:

أ . الجزيء NF₃ قطبي في حين الجزيء BF₃ غير قطبي .

ب . العزمُ القطبيُّ لجزيء الماء (H₂O) أكبرُ من العزم القطبيِّ للجزيء (OF₂) .

5 - إذا علمتُ أن العنصرين (Y, X) يرتبط كل منهما مع الهيدروجين مكونًا الصيغة (YH₂, XH₂)، فأجب عن الأسئلة الآتية:

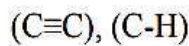
YH ₂	XH ₂	
		تركيب لويس
		الشكل الفراغي
		نوع تهجين الذرة المركزية
		مبررات التهجين
		القطبية

6 - يُستخدمُ الأستيلين في قصّ الفلزات ولحامها في ورش تصليح هياكل السيارات .
أدرس جزيء الأستيلين (CH≡CH)، ثمَّ أجب عن الأسئلة الآتية:

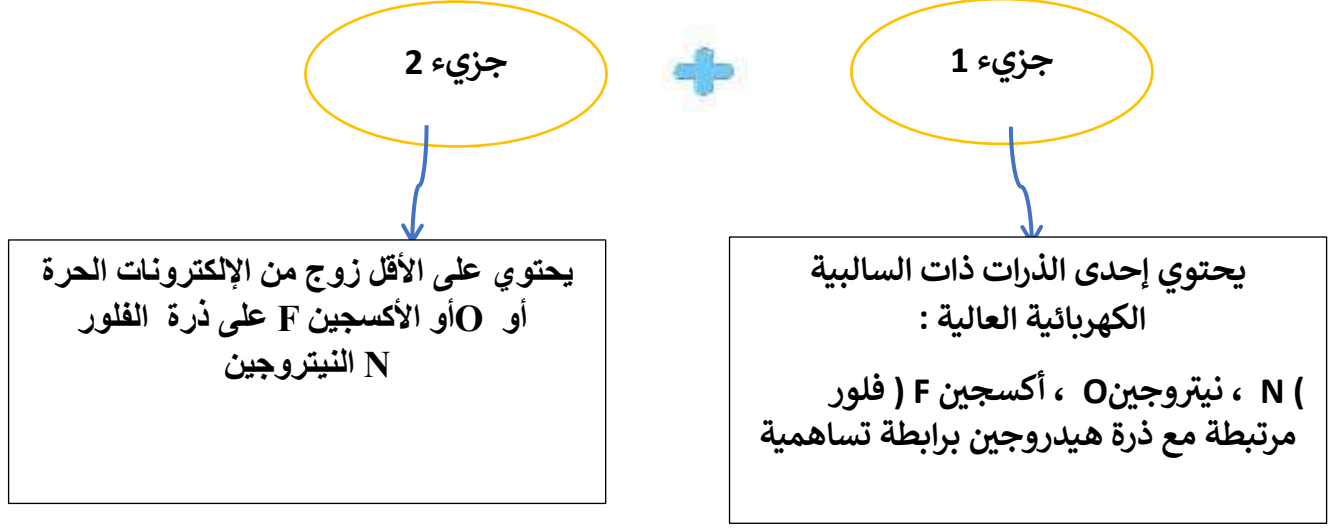
أ . أتوقع نوع التهجين الذي تستخدمه كلٌّ من ذرتي الكربون في الجزيء .

ب . أحدد عدد الروابط سيجما وباي في الجزيء .

جـ . أسمي الأفلاك التي تستخدمها ذرة الكربون في تكوين كلٍّ من الروابط الآتية:



الروابط الهيدروجينية Hydrogen Bonds




في هذه الرابطة :

- ترتبط الشحنة الجزيئية الموجبة الموجودة على ذرة الهيدروجين في الجزيء الأول مع زوج الإلكترونات الحر الموجود على إحدى ذرات N O F في الجزيء الآخر.
- ترسم على شكل خط منقط لتمييزها تكون أطول من الرابطة التساهمية وأضعف منها.

✓ **أتحقق** أحدد من بين المواد الآتية المواد التي ترتبط جزيئاتها

بروابط هيدروجينية: CHCl_3 , CH_3OH , HBr , CH_3NH_2



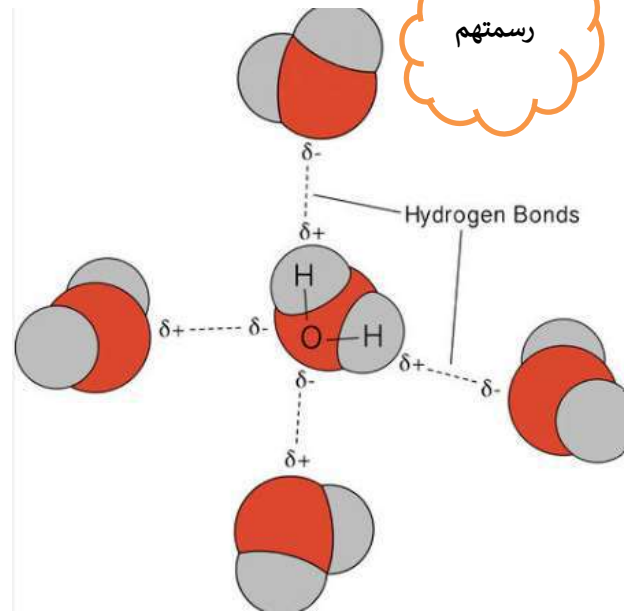
الترايب الهيدروجيني بين جزيئات الماء H_2O

كل جزيء من الماء يمكن أن يكون حتى 4 روابط هيدروجينية كما في الشكل التالي :

رسمتنا



رسمتهم

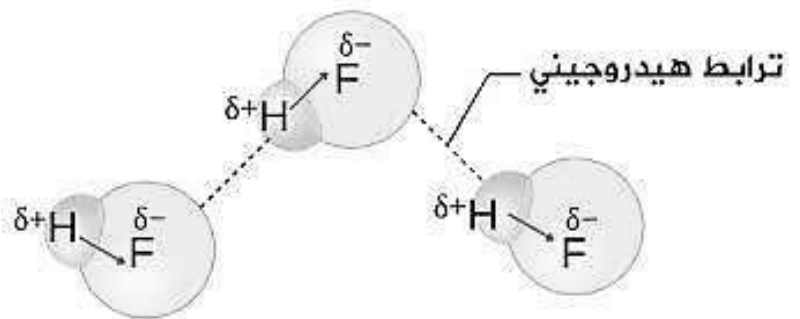


وضح بالرسم كيف يتم الترابط الهيدروجيني بين جزيء الماء H_2O وجزيء الميثانول CH_3OH

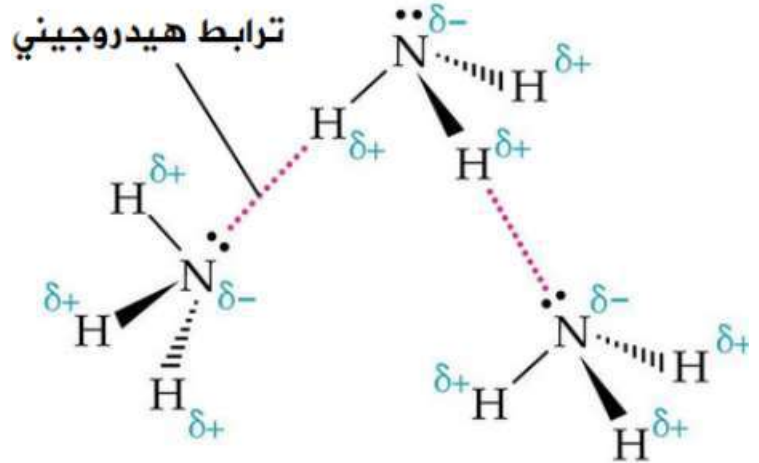
الترايب الهيدروجيني بين جزيئات HF

كل جزيء من فلوريد الهيدروجين يكون حتى رابطتين هيدروجينيتين كما في الشكل .

لذلك درجة غليان HF
من درجة غليان H_2O



الترايط الهيدروجيني بين جزيئات الأمونيا NH_3



➤ فسّر ما يلي :

1- قوة الرابطة الهيدروجينية بين جزيئات فلوريد الهيدروجين HF أكبر منها بين جزيئات الماء ؟

لأن قطبية الرابطة H-F أكبر (اقوى) من قطبية الرابطة H-O (قطبية الرابطة H-F > H-O > H-N)

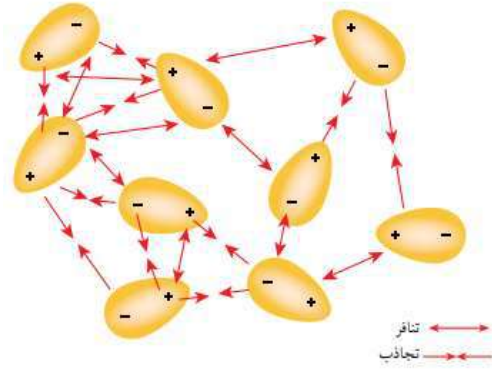
وذلك لأن

2- درجة غليان H_2O أعلى من درجة غليان HF بالرغم من أن قطبية الرابطة H-F أقوى من قطبية H-O ؟

القوى ثنائية القطب Dipole-Dipole Forces

- هي قوى تجاذب تنشأ بين الجزيئات القطبية .

تترتب الجزيئات بحيث تتغلب قوى التجاذب على قوى التنافر وتبقى الجزيئات متماسكة في الحالة الصلبة أو السائلة



* يأتي تأثير قوى ثنائية القطب في المرتبة الثانية بعد قوى الروابط الهيدروجينية في التأثير في درجات الغليان (الهيدروجينية أقوى من ثنائية القطب).

✓ **أتحقق**

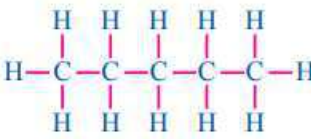

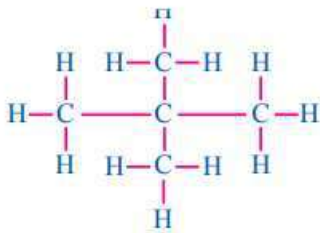
- 1 - أحدد المواد التي يُتوقع أن ترتبط جزيئاتها في الحالة السائلة بقوى ثنائية القطب: HI , BF_3 , CO_2
- 2 - أرتب المواد الآتية تصاعدياً بحسب درجة غليانها:
 NH_3 , CH_3OH , CH_3Cl

قوى لندن London Forces

- قوى تجاذب ضعيفة تنشأ نتيجة الاستقطاب اللحظي للجزيئات أو الذرات .
- تنشأ قوى لندن في جميع الجزيئات والذرات ولكنها تظهر في الغازات النبيلة والجزيئات الغير قطبية .
- تعتمد قوتها على :

1-تزداد بزيادة عدد الإلكترونات في الجزيء (كتلته المولية) فسر ذلك

2- طول السلسلة الكربونية للمركبات الهيدروكربونية (السلسلة الأطول اقوى من السلسلة الأقصر بسبب زيادة فرصة التجاذب على طول السلسلة) .

			
<p>بنتان 36 °C 25.8 kJ/mol</p>	<p>-2 ميثيل بيوتان 28 °C 24.7 kJ/mol</p>	<p>2، 2-ثنائي ميثيل بروبان 9.5 °C 22.8 kJ/mol</p>	<p>اسم المركب درجة الغليان طاقة التبخر</p>

✓ **أتحقّق:**

1 - أحمّدُ الموادّ التي ترتبط جسيماتها ارتباطاً رئيساً بقوى لندن

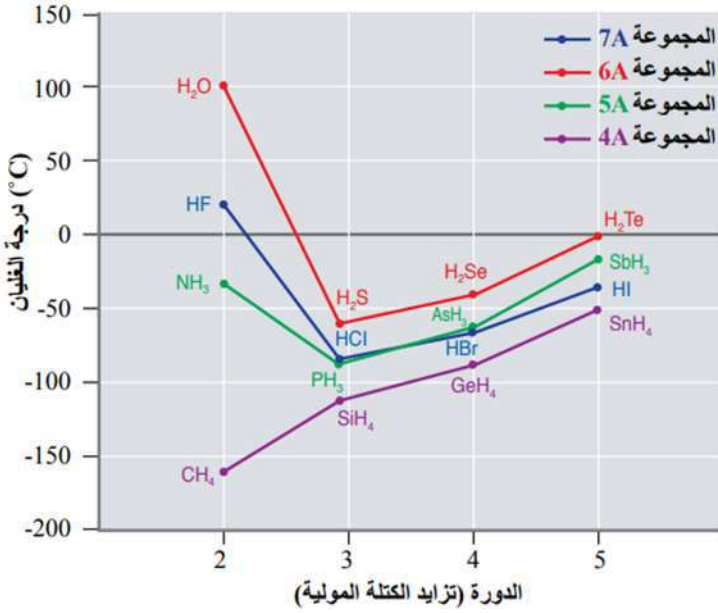
في ما يأتي: C_3H_8 , CH_3CH_2OH , Ne , $SiCl_4$, HBr

2 - أيها أتوقّع أن يكون له درجة غليان أعلى، C_5H_{12} أم C_3H_8 ؟ أبرّر

إجابتي.

➤ ادرس الشكل التالي وأجب عما يليه من أسئلة :

فسر :



1- وجود فرق كبير بين درجة غليان NH_3 و CH_4

.....
.....
.....

2- درجة غليان SbH_3 أعلى من درجة غليان NH_3

.....
.....
.....

3- درجة غليان مركبات المجموعة الرابعة مرتبة $\text{GeCl}_4 > \text{SiCl}_4 > \text{CCl}_4$

.....
.....



مراجعةُ الدرس

1 - الفكرةُ الرئيسةُ: أَوْضِّحْ سببَ اختلافِ الموادِ في خصائصها الفيزيائية.

.....
.....

3 أَوْضِّحْ، تَكُونُ ثنائيَّ القطبِ اللحظيِّ بين ذرّاتِ الهيليوم (He).

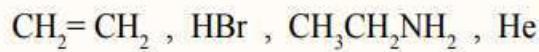
.....
.....
.....

4 - أفسّر:

أ . درجةُ غليانِ المركّبِ HOCH₂CH₂OH أعلى من درجة غليانِ المركّبِ CH₃CH₂OH.

.....
.....

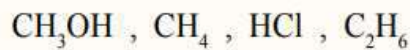
5 - أحدّدْ نوعَ قوى التجاذبِ بين جسيماتِ كلِّ من الموادِّ الآتية في الحالة السائلة:



.....
.....

6 - أرّتبْ الموادَّ الآتية تصاعديًّا نحسب تزايد قوّة التجاذبِ بين جزيئاتها في الحالة السائلة

في الظروف نفسها:



.....
.....