



امتحان شهادة الدراسة الثانوية العامة لعام ٢٠٢٦

(وثيقة محمية/محمود)

د : س

مدة الامتحان: ٣٠ : ١

رقم النموذج: (١)

المبحث: الجغرافيا

رقم المبحث: 117

اليوم والتاريخ: الاثنين ٢٩/٦/٢٠٢٦
رقم الجلوس:

اسم الطالب:

اختر رمز الإجابة الصحيحة في كل فقرة مما يأتي، ثم ظلل بشكل غامق الدائرة التي تشير إلى رمز الإجابة في نموذج الإجابة (ورقة القارئ الضوئي) فهو النموذج المعتمد (فقط) لاحتساب علامتك، علماً أن عدد الفقرات (٥٠)، وعدد الصفحات (٥).

١- يُشير الرمز (س) على الخريطة المُجاورة إلى سلاسل جبلية

تشكّلت بفعل الالتواءات، هي:

- (أ) الألب
(ب) الهيمالايا
(ج) الأنديز
(د) الروكي



٢- يُعرّف النطاق الزلزالي الذي يبدأ من سواحل المحيط الأطلسي، مروراً بشمال الهند وصولاً إلى جُزر الهند الشرقية بـ:

- (أ) الحلقة النارية
(ب) الحزام الألبّي
(ج) سان أندرياس
(د) تشيلي العظيم

٣- مجموعة الأشكال الطبيعية التي تتكوّن نتيجة إذابة الصخور الكلسية خلال عملية الكَرْبنة، هي:

- (أ) جلاميد التَّكوير
(ب) قباب النقشُر
(ج) مُنحدرات الهشيم
(د) طبوغرافية الكارست

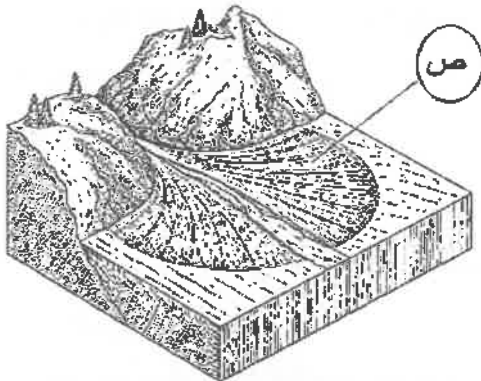
٤- تزداد قُدرة النهر على عملية الحَتّ والنقل كلما:

- (أ) زادت صلابة الصخر في المجرى
(ب) قلّت درجة الانحدار
(ج) قلّ عرض النهر
(د) زادت كمية التّصريف للنهر

٥- يوضّح الشكل المُجاور أحد الأشكال الأرضية الناتجة عن الإرساب النهري

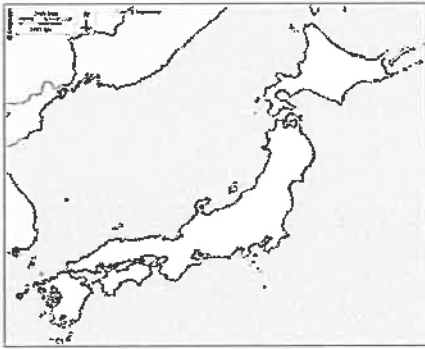
حيث يُشير الرمز (ص) في الشكل إلى:

- (أ) المروحة الفيضيّة
(ب) السّهل الفيضيّ
(ج) المجرى الرئيس
(د) رأس المروحة



الصفحة الثانية/ نموذج (١)

- ٦- يُعزى عدم تكوين دلتا لنهر الأمازون على الرغم من أن لديه أكبر حوض تصريف نهري في العالم إلى:
- (أ) وجود غطاء نباتي كثيف في المجرى
(ب) وجود الصخور اللينة في المجرى
(ج) قوة الأمواج القادمة من المحيط الأطلسي
(د) تزايد درجة انحدار منطقة المصب
- ٧- تُعرف المناطق المُغطاة بالحصى والتي تُشكّل بفعل تدرية الرياح ذرات الرمال الناعمة تاركة وراءها الحصى والرمال ذات الأحجام الكبيرة والمتوسطة التي لا تستطيع الرياح تحريكها بـ:
- (أ) أراضي الحماد (ب) أراضي الرِّق (ج) الفرشات الرملية (د) العروق الرملية
- ٨- من الأشكال الأرضية الناتجة عن الإرساب النخري:
- (أ) الأقواس النخرية (ب) الحواجز النخرية (ج) المسلات النخرية (د) الكهوف الساحلية
- ٩- المؤسس الفعلي لعلم الجغرافيا السياسية والذي نشر كتابًا بعنوان "الجغرافيا السياسية"، هو:
- (أ) أرسطو (ب) رودلف كليلين (ج) ابن خلدون (د) فريدريك راتزل
- ١٠- الدولة المحتواة من الدول الآتية، هي:
- (أ) النمسا (ب) سان مارينو (ج) بوليفيا (د) أثيوبيا



- ١١- يُمثّل الشكل المُجاور خريطة اليابان التي يتّخذ شكلها الجغرافي الشّكل:
- (أ) المُنتظم (ب) المُستطيل
(ج) المُجرّأ (د) غير المُنتظم

- ١٢- تُشكّل الإدارة الفعّالة أحد العوامل الحاسمة في استقرار الدولة وقوتها؛ إذ تعتمد كفاءتها على:
- (أ) توافر الموارد الطبيعية
(ب) الاستقرار السياسي والنظام الدبلوماسي
(ج) تعبئة الموارد العسكرية
(د) توزيع السكّان المُتوازن
- ١٣- يُشير مُصطلح النُخوم إلى المناطق أو المساحات غير المأهولة بالسكّان والتي تُفصل بين المناطق المأهولة وتتميّز بأنّها:
- (أ) لا تملك صِفة قانونية
(ب) غير ثابتة وقابلة للتغيّر
(ج) لا تخضع لقانون الدولة الداخلي
(د) حديثة ظهرت بعد وُضْع الحدود
- ١٤- الجُلف الذي كان الهدف الأساسي له عند تأسيسه "الدفاع عن أوروبا الغربية (خلال الحرب الباردة)، هو:
- (أ) حركة عَدَم الانحياز (ب) وارسو (ج) الناتو (د) مجموعة الثمانية
- ١٥- يختصّ الأمن السيبراني بـ:
- (أ) حماية البنية التحتية الرقمية
(ب) إدارة الأزمات والكوارث بكفاءة عالية
(ج) الحدّ من الفكر المُتطرّف والأعمال الإرهابية
(د) ضَبْط المُتورّطين في قضايا المُخدرات
- ١٦- يستند الأمن الوطني الأردني إلى المُرتكزات الآتية جميعها، ما عدا:
- (أ) السياسة الأردنية
(ب) المسار الديمقراطي والمُشاركة السياسية
(ج) القوّات المُسلّحة الأردنية والأجهزة الأمنية
(د) التقسيمات الإدارية

الصفحة الثالثة/ نموذج (١)

١٧- من أسباب أخطاء الشمول عند إجراء التعداد السكاني:

- (أ) عدم فهم السكان الأسئلة فهمًا صحيحًا
(ب) تقديم المُكَّان معلومات غير دقيقة
(ج) نسيان بعض الأحياء والمناطق النائية
(د) أخطاء من فريق التعداد في أثناء تسجيل البيانات

١٨- دولة ضخمة يزيد عدد السكان فيها على مليار وأربعمئة مليون نسمة؛ أي ما يُعادل 18% من مُكَّان العالم، هي:

- (أ) كندا (ب) ألمانيا (ج) روسيا (د) الصين

١٩- يقطن حوالي 18.5% من مُكَّان الأردن في:

- (أ) عمان (ب) إربد (ج) الزرقاء (د) الكرك

٢٠- إذا عُلِمَت أنّ عدد المواليد في دولة ما (160,000) نسمة، وعدد الوفيات (30,000) وفاة، وكان عدد سُكَّان

الدولة في مُنتصف السَّنَةِ (10) مليون نسمة، فإنَّ مُعدَّل الزيادة الطبيعية يُساوي:

- (أ) 1.3% (ب) 2.3% (ج) 3.3% (د) 4.3%

٢١- الدولة التي تُعدّ من أكثر دُول العالم من حيث التَّعقيد اللُّغوي، هي:

- (أ) السويد (ب) النرويج (ج) سويسرا (د) الهند

٢٢- وفقًا لنظرية الانتقال الديمغرافي، المرحلة التي تُصل فيها المُجتمعات إلى الاستقرار، إذ تُصبح مُعدَّلات المواليد

والوفيات مُنخفضة جدًا ويكون مُعدَّل النمو السكاني شُبُه ثابت أو يتوقَّف تمامًا، هي المرحلة:

- (أ) الرابعة (ب) الثالثة (ج) الثانية (د) الأولى

٢٣- تُهدَف نظرية الحُجْم الأُمثل للسُّكَّان التي وَصَّعها العالم إدورد هاريسون، إلى:

(أ) تفسير كيفية انتقال المُجتمعات من عصر ما قَبْل الخِدَاثة إلى مُجتمعات ما بعد الخِدَاثة

(ب) فهم التحوُّلات الاجتماعية الاقتصادية التي تمرُّ فيها مُختلف البُلدان

(ج) تفسير تنامي ظاهرة الفقر ومُشكلاته بتزايد أعداد السُّكَّان

(د) المُوازنة بين عدد السُّكَّان والموارد بما يُسهم في تعزيز رفاهية المُجتمع

٢٤- يُعرف تَمَنُّع الرُّوجين بِصحة جيدة تُمكنهما من الإنجاب بصورة طبيعية، إلى جانب تَمَتُّعهما بالحقِّ في اتِّخاذ قرارات

تتعلَّق بالحمل والولادة مع ضمان الرعاية الصَّحِّيَّة المُلائمة بـ:

- (أ) تنظيم الأسرة (ب) تحديد النسل (ج) الصَّحَّة الإيجابية (د) رعاية الأمومة

٢٥- من أسباب مُشكلة البطالة في الأردن:

(أ) عدم توافق مُخرجات التَّعليم مع سوق العَمَل

(ب) نقص العمالة الوافدة

(ج) انخفاض مُعدَّلات النمو السكاني

(د) مُشاركة المرأة في سوق العَمَل

٢٦- تُعدُّ طبَّقة التروبوسفير من أهمِّ طبَّقات الغلاف الجوّي عند دراسة المُناخ؛ ومن خصائصها:

(أ) تتخفّف فيها درجة الحرارة بالارتفاع للأعلى

(ب) تحترق فيها معظم الشُّهب والنيازك

(ج) أقلُّ الطبقات سُكَّانًا

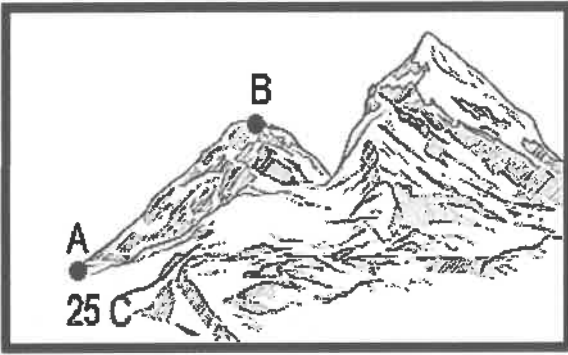
(د) تتشكَّل فيها ظاهرة الشَّقَق القطبي

٢٧- الشهر الذي تكون فيه الشمس في أبعد نُقطة عن الأرض (الأوج)، هو شهر:

- (أ) حزيران (ب) تموز (ج) آب (د) أيلول



الصفحة الرابعة/ نموذج (١)



٢٨- إذا عَلِمْتَ أَنَّ درجة الحرارة في المنطقة (A) الواقعة على مستوى سطح البحر كانت 25 سيلسيوس، فإنّ درجة الحرارة المُتوقَّعة عند النقطة (B) الواقعة على ارتفاع 2000 متر عن مستوى سطح البحر ستكون:

- (أ) 38°C (ب) 31.5°C
(ج) 13°C (د) 12°C

٢٩- يتأثر الضَّغط الجوّي بعدة عوامل طبيعية تُؤدِّي إلى تغيُّر قيمته من مكان لآخر حيث ترتفع قيم الضَّغط الجوّي كُلِّما:

- (أ) ارتفع المكان عن سطح البحر (ب) ارتفعت درجة الحرارة
(ج) انخفضت كثافة الهواء (د) قلت نسبة رطوبة الهواء

٣٠- تتحرك الأجسام المُتحركة (ومنها المياه والرياح) إلى يمين اتجاهها في نصف الكرة الأرضية الشمالي وإلى يسار اتجاهها في نصف الكرة الأرضية الجنوبي بفعل:

- (أ) قوَّة الاحتكاك (ب) ميلان محور الأرض (ج) القوَّة الكارولية (د) انحدار الضَّغط الجوّي

٣١- عند التقاء كتلة هوائية دافئة رطبة مع كتلة هوائية باردة جافة، يرتفع الهواء الدافئ فوق البارد، وعند وصوله إلى درجة تُقْطع الندى يتكاثف بخار الماء مُكوِّناً:

- (أ) الضباب الإشعاعي (ب) ضباب الجبهات (ج) الضباب المُتقلِّب (د) الضباب الدخاني

٣٢- الإقليم المناخي الفرعي الذي يمتد بين درجتي عرض 45-60 شمال خط الاستواء، هو إقليم:

- (أ) غُرب القارّات (ب) التندرا (ج) البحر المُتوسِّط (د) الصحاري الحارة

٣٣- الغاز الذي يُعدّ الأكثر تأثيراً من حيث الكميّة في تسارع وتيرة التغيُّر المُناخي، هو غاز:

- (أ) أكسيد النيتروز (ب) ثاني أكسيد الكبريت (ج) ثاني أكسيد الكربون (د) أول أكسيد الكربون

٣٤- تعتمد تجارة الكربون التي أقرها بروتوكول كيوتو لتقليل انبعاثات الكربون على مبدأ:

- (أ) المُساءلة البيئية (ب) المُلوِّث يُدْفَع (ج) المُسؤولية البيئية (د) لا للكربون

٣٥- تتسم البيئة بمجموعة من الخصائص التي تُعكس طبيعتها الديناميكية وتفاعل عناصرها ومن هذه الخصائص:

- (أ) ثبات مُكوِّناتها واستقرارها (ب) التّشابه بين مُكوِّناتها
(ج) تنوعها الحيوي (د) القصور في التّكيف

٣٦- المدينة التي تُعدّ أكثر مُدن العالم تلوثاً، هي مدينة:

- (أ) بكين - الصين (ب) طوكيو - اليابان (ج) موسكو - روسيا (د) نيودلهي - الهند

٣٧- من الانتقادات التي وُجِّهت إلى النظرية التوافقية البيئية أنّها:

- (أ) افتقرت إلى الدقّة العلميّة والمعايير الكميّة الواضحة (ب) بالغت في تقدير سيطرة الإنسان على البيئة
(ج) تجاهلت قدرة الإنسان على التّأقلم مع بيئته (د) اتّسمت بالطابع التجريبي التّحليلي

٣٨- من الدُّول التي تُعدّ أكبر مراكز تجمُّع النفايات الإلكترونيّة في العالم:

- (أ) أندونيسيا (ب) جنوب أفريقيا (ج) أثيوبيا (د) غانا

الصفحة الخامسة/ نموذج (١)

٣٩- يتسبب الاستخدام المفرط لمركبات الكلوروفلوروكربون في:

(أ) حرائق الغابات (ب) الأمطار الحمضية (ج) استنزاف غاز الأوزون (د) الضباب الدخاني

٤٠- جميع ما يأتي من أنواع الخدمات البيئية وفق تقرير التقييم البيئي للألفية، ما عدا:

(أ) الخدمات التنظيمية (ب) خدمات الإمداد (ج) الخدمات التسويقية (د) خدمات الدعم

٤١- تُعرّف عملية التطور الاقتصادي والاجتماعي التي تهدف إلى تلبية احتياجات الحاضر دون المساس بقدرة الأجيال المقبلة على ذلك بالتنمية:

(أ) الاقتصادية (ب) المُستدامة (ج) الاجتماعية (د) الثقافية

٤٢- المحميّة الطبيعية التي تتسم بوجود أكبر تنوع حيوي ضمن المحميّات المنشأة في الأردن، هي محمية:

(أ) اليرموك (ب) ضانا (ج) دبين (د) الموجب

٤٣- تُعرّف المواقف العمليّة التي يمزّ بها الفرد خلال حياته المهنية أو الشخصية وتؤثّر في طريقة تفكيره وتعامله مع المواقف المستقبلية بـ:

(أ) الكفاءات (ب) النّجارب (ج) الخبرات (د) المؤهلات

٤٤- تُعرّف الزراعة التي تُمارس داخل المباني أو البيوت الزجاجية مُتعددة الطوابق لزراعة المحاصيل باستخدام أنظمة إضاءة وريّ ذكيّة؛ لتوفير إنتاج مُستمرّ بالزراعة:

(أ) المائية (ب) التجارية (ج) الرأسيّة (د) المختلطة

٤٥- الثورة الصناعية التي وصفها المُنتدى الاقتصادي العالمي بأنّها " ثورة تدمج بين المجالات المادية والرقمية والحيوية" هي الثورة الصناعية:

(أ) الرابعة (ب) الثالثة (ج) الثانية (د) الأولى

٤٦- التقنية التي تُعزّز الشفافية وتتّبع المُنتجات من المصدر إلى المُستهلك في قطاع الصناعة، هي:

(أ) الذكاء الاصطناعي وتحليل البيانات (ب) الواقع الافتراضي والمُعزّز

(ج) سلاسل التوريد الذكيّة (د) الروبوتات الذكيّة

٤٧- المبدأ الاقتصادي الذي يُعدّ أحد أسباب قيام التجارة الدولية هو:

(أ) المنفعة المطلقة (ب) التوازن التجاري (ج) النُدرة (د) الفرصة البديلة

٤٨- من أشهر المواقع السياحية في إقليم آسيا والمحيط الهادي:

(أ) شلالات نياجارا (ب) تاج محلّ (ج) بُرج إيفل (د) نهر الأمازون

٤٩- يُعرّف الارتفاع المُستمرّ في المستوى العامّ لأسعار البتّلغ والخدمات خلال مدّة زمنية مُعيّنة؛ ما يُؤدّي إلى انخفاض القوّة الشرائية، بـ:

(أ) الاستقرار (ب) الانكماش (ج) الكساد (د) التضخّم

٥٠- من عناصر ريادة الأعمال، ويعني اكتشاف فجوة أو حاجة في السوق واستغلالها بذكاء ومرونة:

(أ) الفرصة (ب) الابتكار (ج) المخاطرة (د) التّنظيم والإدارة



امتحان شهادة الدراسة الثانوية العامة لعام ٢٠٢٦

(وثيقة محمية/محمود)

د : س

مدة الامتحان: ٣٠ : ١

رقم النموذج: (١)

المبحث: الجغرافيا

رقم المبحث: 117

اليوم والتاريخ: الاثنين ٢٩/٦/٢٠٢٦
رقم الجلوس:

إجابات الأسئلة

اسم الطالب:

اختر رمز الإجابة الصحيحة في كل فقرة مما يأتي، ثم ظلل بشكل غامق الدائرة التي تشير إلى رمز الإجابة في نموذج الإجابة (ورقة القارئ الضوئي) فهو النموذج المعتمد (فقط) لاحتساب علامتك، علماً أن عدد الفقرات (٥٠)، وعدد الصفحات (٥).

١- يُشير الرمز (س) على الخريطة المُجاورة إلى سلاسل جبلية

تشكّلت بفعل الالتواءات، هي:

(ب) الهيمالايا

(أ) الألب

(د) الروكي

(●) الأنديز



٢- يُعرّف النطاق الزلزالي الذي يبدأ من سواحل المحيط الأطلسي، مروراً بشمال الهند وصولاً إلى جُزر الهند الشرقية بـ:

(د) تشيلي العظيم

(ج) سان أندرياس

(●) الحزام الألبّي

(أ) الحلقة النارية

٣- مجموعة الأشكال الطبيعية التي تتكوّن نتيجة إذابة الصخور الكلسية خلال عملية الكَرْبنة، هي:

(●) طبوغرافية الكارست

(ج) مُنحدرات الهشيم

(ب) قباب النقشُر

(أ) جلاميد التَّكوّير

٤- تزداد قُدرة النهر على عملية الحَتّ والنقل كلما:

(ب) قلّت درجة الانحدار

(أ) زادت صلابة الصخر في المجرى

(●) زادت كمية التّصريف للنهر

(ج) قلّ عرض النهر

٥- يوضّح الشكل المُجاور أحد الأشكال الأرضية الناتجة عن الإرساب النهري

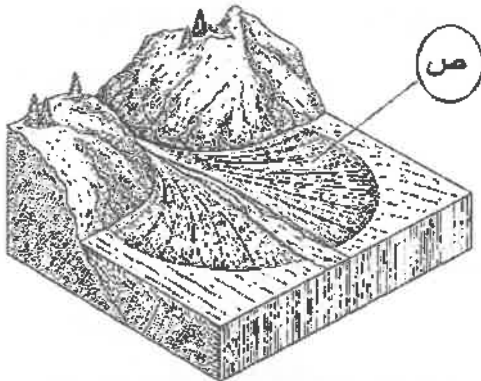
حيث يُشير الرمز (ص) في الشكل إلى:

(ب) السّهْل القَبْضيّ

(●) المروحة القَبْضيّة

(د) رأس المروحة

(ج) المجرى الرئيس



الصفحة الثانية/ نموذج (١)

٦- يُعزى عدم تكوين دلتا لنهر الأمازون على الرغم من أن لديه أكبر حوض تصريف نهري في العالم إلى:

- (أ) وجود غطاء نباتي كثيف في المجرى
(ب) وجود الصخور اللينة في المجرى
(ج) قوة الأمواج القادمة من المحيط الأطلسي
(د) تزايد درجة انحدار منطقة المصب

٧- تُعرف المناطق المُغطاة بالحصى والتي تُشكّل بفعل تدرية الرياح ذرات الرمال الناعمة تاركة وراءها الحصى والرمال

ذات الأحجام الكبيرة والمتوسطة التي لا تستطيع الرياح تحريكها بـ:

- (أ) أراضي الحماد (●) أراضي الرِّق (●) الفرشات الرملية (ج) العروق الرملية (د)

٨- من الأشكال الأرضية الناتجة عن الإرساب التخري:

- (أ) الأقواس البحرية (●) الحواجز البحرية (●) المسلات البحرية (ج) الكهوف الساحلية (د)

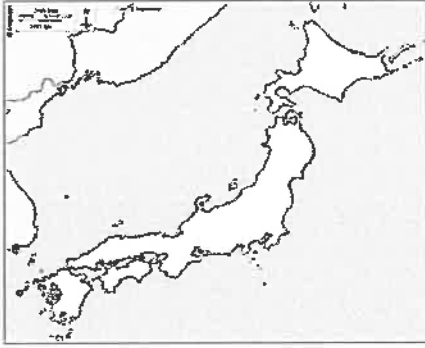
٩- المؤسس الفعلي لعلم الجغرافيا السياسية والذي نشر كتابًا بعنوان "الجغرافيا السياسية"، هو:

- (أ) أرسطو (ب) رودلف كليين (ج) ابن خلدون (د) فريدريك راتزل (●)

١٠- الدولة المحتواة من الدول الآتية، هي:

- (أ) النمسا (●) سان مارينو (●) بوليفيا (ج) أثيوبيا (د)

١١- يُمثل الشكل المُجاور خريطة اليابان التي يتخذ شكلها الجغرافي الشُّكل:



- (أ) المنتظم (ب) المستطيل (ج) غير المنتظم (د) المجرأ (●)

١٢- تُشكّل الإدارة الفعّالة أحد العوامل الحاسمة في استقرار الدولة وقوتها؛ إذ تعتمد كفاءتها على:

- (أ) توافر الموارد الطبيعية (ب) الاستقرار السياسي والنظام الدبلوماسي (●)
(ج) تعبئة الموارد العسكرية (د) توزيع السُّكَّان المُتوازن

١٣- يُشير مُصطلح النُحوم إلى المناطق أو المساحات غير المأهولة بالسُّكَّان والتي تُفصل بين المناطق المأهولة وتتميز بأنّها:

- (أ) لا تملك صِفة قانونية (●) (ب) غير ثابتة وقابلة للتغير
(ج) لا تخضع لقانون الدولة الداخلي (د) حديثة ظهرت بعد وُضْع الحدود

١٤- الجُلف الذي كان الهدف الأساسي له عند تأسيسه "الدفاع عن أوروبا الغربية (خلال الحرب الباردة)، هو:

- (أ) حركة عَدَم الانحياز (ب) وارسو (●) (ج) الناتو (د) مجموعة الثمانية

١٥- يختص الأمن السيبراني بـ:

- (أ) حماية البنية التحتية الرقمية (ب) إدارة الأزمات والكوارث بكفاءة عالية (●)
(ج) الحد من الفكر المُتطرّف والأعمال الإرهابية (د) ضَبْط المُتورّطين في قضايا المُخدرات

١٦- يستند الأمن الوطني الأردني إلى المُرتكزات الآتية جميعها، ما عدا:

- (أ) السياسة الأردنية (ب) المسار الديمقراطي والمُشاركة السياسية (●)
(ج) القوّات المُسلّحة الأردنية والأجهزة الأمنية (د) التقسيمات الإدارية (●)

الصفحة الثالثة/ نموذج (١)

١٧- من أسباب أخطاء الشمول عند إجراء التعداد السكاني:

(أ) عدم فهم السكان الأسئلة فهمًا صحيحًا (ب) تقديم المُكَّان معلومات غير دقيقة

● نسيان بعض الأحياء والمناطق النائية (د) أخطاء من فريق التعداد في أثناء تسجيل البيانات

١٨- دولة ضخمة يزيد عدد السكان فيها على مليار وأربعمئة مليون نسمة؛ أي ما يُعادل 18% من سُكَّان العالم، هي:

(أ) كندا (ب) ألمانيا (ج) روسيا (د) الصين ●

١٩- يقطن حوالي 18.5% من سُكَّان الأردن في:

(أ) عمان ● (ب) إربد (ج) الزرقاء (د) الكرك

٢٠- إذا عُلِمَت أنّ عدد المواليد في دولة ما (160,000) نسمة، وعدد الوفيات (30,000) وفاة، وكان عدد سُكَّان

الدولة في مُنتصف السَّنَةِ (10) مليون نسمة، فإنَّ مُعدَّل الزيادة الطبيعية يُساوي:

● 1.3% (ب) 2.3% (ج) 3.3% (د) 4.3%

٢١- الدولة التي تُعدّ من أكثر دُول العالم من حيث التَّعقيد اللُّغوي، هي:

(أ) السويد (ب) النرويج (ج) سويسرا (د) الهند ●

٢٢- وفقًا لنظرية الانتقال الديمغرافي، المرحلة التي تُصل فيها المُجتمعات إلى الاستقرار، إذ تُصبح مُعدَّلات المواليد

والوفيات مُنخفضة جدًا ويكون مُعدَّل النمو السكاني شُبُه ثابت أو يتوقَّف تمامًا، هي المرحلة:

● الرابعة (ب) الثالثة (ج) الثانية (د) الأولى

٢٣- تُهدَف نظرية الحُجْم الأمثل للسُّكَّان التي وَصَّعها العالم إدورد هاريسون، إلى:

(أ) تفسير كيفية انتقال المُجتمعات من عصر ما قَبْل الخِدَاثة إلى مُجتمعات ما بعد الخِدَاثة

(ب) فهم التحوُّلات الاجتماعية الاقتصادية التي تمرُّ فيها مُختلف البُلدان

(ج) تفسير تنامي ظاهرة الفقر ومُشكلاته بتزايد أعداد السُّكَّان

● المُوازنة بين عدد السُّكَّان والموارد بما يُسهم في تعزيز رفاهية المُجتمع

٢٤- يُعرف تَمَنُّع الرُّوجين بِصحة جيدة تُمكنهما من الإنجاب بصورة طبيعية، إلى جانب تَمَتُّعهما بالحقِّ في اتِّخاذ قرارات

تتعلَّق بالحمْل والولادة مع ضمان الرعاية الصَّحِّيَّة المُلائمة بـ:

(أ) تنظيم الأسرة (ب) تحديد النسل ● (ج) الصَّحَّة الإيجابية (د) رعاية الأمومة

٢٥- من أسباب مُشكلة البطالة في الأردن:

● عدم توافق مُخرجات التَّعليم مع سوق العَمَل (ب) نقص العمالة الوافدة

(ج) انخفاض مُعدَّلات النمو السكاني (د) مُشاركة المرأة في سوق العَمَل

٢٦- تُعدُّ طبَّقة التروپوسفير من أهمَّ طبَّقات الغلاف الجوي عند دراسة المُناخ؛ ومن خصائصها:

● تتخفُض فيها درجة الحرارة بالارتفاع للأعلى (ب) تحترق فيها معظم الشُّهب والنيازك

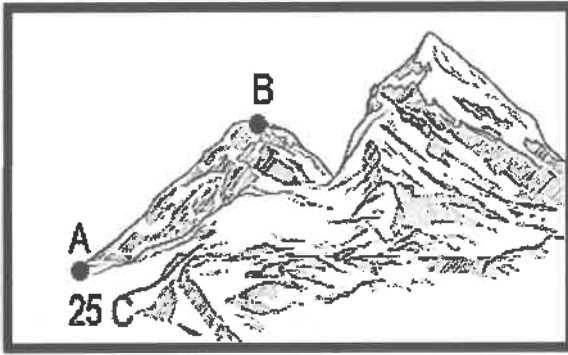
(ج) أقلُّ الطبقات سُكَّانًا (د) تتشكَّل فيها ظاهرة الشَّقَق القطبي

٢٧- الشهر الذي تكون فيه الشمس في أبعد نُقطة عن الأرض (الأوج)، هو شهر:

(أ) حزيران ● (ب) تموز (ج) آب (د) أيلول



الصفحة الرابعة/ نموذج (١)



٢٨- إذا عَلِمْتَ أَنَّ درجة الحرارة في المنطقة (A) الواقعة على مستوى سطح البحر كانت 25 سيلسيوس، فإنَّ درجة الحرارة المُتوقَّعة عند النقطة (B) الواقعة على ارتفاع 2000 متر عن مستوى سطح البحر ستكون:

- (أ) 38°C
(ب) 31.5°C
(ج) 13°C
(د) 12°C

٢٩- يتأثر الضَّغط الجوّي بعدة عوامل طبيعية تُؤدِّي إلى تغيُّر قيمته من مكان لآخر حيث ترتفع قيم الضَّغط الجوّي كُلِّما:

- (أ) ارتفع المكان عن سطح البحر
(ب) ارتفعت درجة الحرارة
(ج) انخفضت كثافة الهواء
(د) قلت نسبة رطوبة الهواء

٣٠- تتحرك الأجسام المُتحرَّكة (ومنها المياه والرياح) إلى يمين اتجاهها في نصف الكرة الأرضية الشمالي وإلى يسار اتجاهها في نصف الكرة الأرضية الجنوبي بفعل:

- (أ) قوَّة الاحتكاك
(ب) ميلان محور الأرض
(ج) القوَّة الكارولية
(د) انحدار الضَّغط الجوّي

٣١- عند التقاء كتلة هوائية دافئة رطبة مع كتلة هوائية باردة جافة، يرتفع الهواء الدافئ فوق البارد، وعند وصوله إلى درجة تَقطُّع الندى يتكاثف بخار الماء مُكوِّناً:

- (أ) الضباب الإشعاعي
(ب) ضباب الجبهات
(ج) الضباب المُتقلِّب
(د) الضباب الدخاني

٣٢- الإقليم المناخي الفرعي الذي يمتد بين درجتي عرض 45-60 شمال خط الاستواء، هو إقليم:

- (أ) غُرب القارَّات
(ب) التندرا
(ج) البحر المُتوسِّط
(د) الصحاري الحارة

٣٣- الغاز الذي يُعدُّ الأكثر تأثيراً من حيث الكميَّة في تسارع وتيرة التغيُّر المُناخي، هو غاز:

- (أ) أكسيد النيتروز
(ب) ثاني أكسيد الكبريت
(ج) ثاني أكسيد الكربون
(د) أول أكسيد الكربون

٣٤- تعتمد تجارة الكربون التي أقرها بروتوكول كيوتو لتقليل انبعاثات الكربون على مبدأ:

- (أ) المُساءلة البيئية
(ب) المُلوِّث يُدْفَع
(ج) المُسؤولية البيئية
(د) لا للكربون

٣٥- تتسم البيئة بمجموعة من الخصائص التي تُعكس طبيعتها الديناميكية وتفاعل عناصرها ومن هذه الخصائص:

- (أ) ثبات مُكوِّناتها واستقرارها
(ب) التَّشابه بين مُكوِّناتها
(ج) تنوعها الحيوي
(د) القصور في التَّكيف

٣٦- المدينة التي تُعدُّ أكثر مُدن العالم تلوثاً، هي مدينة:

- (أ) بكين - الصين
(ب) طوكيو - اليابان
(ج) موسكو - روسيا
(د) نيودلهي - الهند

٣٧- من الانتقادات التي وُجِّهت إلى النظرية التوافقية البيئية أنَّها:

- (أ) افتقرت إلى الدقَّة العِلْمِيَّة والمعايير الكميَّة الواضحة
(ب) تجاهلت قدرة الإنسان على التَّأقلم مع بيئته
(ج) اتَّسمت بالطابع التجريبي التَّحليلي
(د) بالغت في تقدير سيطرة الإنسان على البيئة

٣٨- من الدُّول التي تُعدُّ أكبر مراكز تجمُّع النفايات الإلكترونيَّة في العالم:

- (أ) أندونيسيا
(ب) جنوب أفريقيا
(ج) إثيوبيا
(د) غانا

الصفحة الخامسة/ نموذج (١)

٣٩- يتسبب الاستخدام المفرط لمركبات الكلوروفلوروكربون في:

(أ) حرائق الغابات (ب) الأمطار الحمضية (ج) استنزاف غاز الأوزون (د) الضباب الدخاني

٤٠- جميع ما يأتي من أنواع الخدمات البيئية وفق تقرير التقييم البيئي للألفية، ما عدا:

(أ) الخدمات التنظيمية (ب) خدمات الإمداد (ج) الخدمات التسويقية (د) خدمات الدعم

٤١- تُعرّف عملية التطور الاقتصادي والاجتماعي التي تهدف إلى تلبية احتياجات الحاضر دون المساس بقدرة الأجيال المقبلة على ذلك بالتنمية:

(أ) الاقتصادية (ب) المستدامة (ج) الاجتماعية (د) الثقافية

٤٢- المحمية الطبيعية التي تتسم بوجود أكبر تنوع حيوي ضمن المحميات المنشأة في الأردن، هي محمية:

(أ) اليرموك (ب) ضانا (ج) ديبين (د) الموجب

٤٣- تُعرّف المواقف العمليّة التي يمزّ بها الفرد خلال حياته المهنية أو الشخصية وتؤثر في طريقة تفكيره وتعامله مع المواقف المستقبلية بـ:

(أ) الكفاءات (ب) التجارب (ج) الخبرات (د) المؤهلات

٤٤- تُعرّف الزراعة التي تُمارس داخل المباني أو البيوت الزجاجية مُتعددة الطوابق لزراعة المحاصيل باستخدام أنظمة إضاءة وريّ ذكيّة؛ لتوفير إنتاج مُستمرّ بالزراعة:

(أ) المائية (ب) التجارية (ج) الرأسية (د) المختلطة

٤٥- الثورة الصناعية التي وصفها المنتدى الاقتصادي العالمي بأنها " ثورة تدمج بين المجالات المادية والرقمية والحيوية" هي الثورة الصناعية:

(أ) الرابعة (ب) الثالثة (ج) الثانية (د) الأولى

٤٦- التقنية التي تُعزّز الشفافية وتتبع المنتجات من المصدر إلى المستهلك في قطاع الصناعة، هي:

(أ) الذكاء الاصطناعي وتحليل البيانات (ب) الواقع الافتراضي والمُعزّز

(ج) سلاسل التوريد الذكية (د) الروبوتات الذكية

٤٧- المبدأ الاقتصادي الذي يُعدّ أحد أسباب قيام التجارة الدولية هو:

(أ) المنفعة المطلقة (ب) التوازن التجاري (ج) الندرة (د) الفرصة البديلة

٤٨- من أشهر المواقع السياحية في إقليم آسيا والمحيط الهادي:

(أ) شلالات نياجارا (ب) تاج محلّ (ج) برج إيفل (د) نهر الأمازون

٤٩- يُعرّف الارتفاع المُستمرّ في المستوى العامّ لأسعار البتّلغ والخدمات خلال مدّة زمنية مُعيّنة؛ ما يُؤدّي إلى انخفاض القوة الشرائية، بـ:

(أ) الاستقرار (ب) الانكماش (ج) الكساد (د) التضخّم

٥٠- من عناصر ريادة الأعمال، ويعني اكتشاف فجوة أو حاجة في السوق واستغلالها بذكاء ومرونة:

(أ) الفرصة (ب) الابتكار (ج) المخاطرة (د) التنظيم والإدارة