



سلسلة كُتُبِ الرِّياضيات للمَرَحَلَةِ الابتدائية

الرِّياضيات

للمصف الخامس الابتدائي

المؤلفون

د. طارق شعبان رجب

حسين صادق كاظم

سعد عبد الجبار حسن

د. أمير عبدالمجيد جاسم

منعم حسين علوان

زينة عبد الأمير حسين

بُنِيَتْ وَصُمِّمَتْ (سِلْسِلَةٌ كُتِبَ الرِّيَاضِيَّاتِ لِلْمَرْحَلَةِ الْإِبْتِدَائِيَّةِ عَلَى أَيْدِي فَرِيقٍ مِنَ الْمُتَخَصِّصِينَ فِي وَزَارَةِ التَّرْبِيَّةِ / الْمَدِيرِيَّةِ الْعَامَّةِ لِلْمَنَاهِجِ وَبِإِشْرَافِ خَبْرَاءَ مِنْ مَنظَمَةِ (الْيُونِسْكُو) عَلَى وَفْقِ الْمَعَايِيرِ الْعَالَمِيَّةِ لِتَحْقِيقِ بِنَاءِ الْمَنَهْجِ الْحَدِيثِ الْمَتَمَثِّلَةِ فِي جَعْلِ التَّلَامِيذِ :

متعلمين ناجحين مدى الحياة .

أفراداً واثقين بأنفسهم .

مواطنين عراقيين يشعرون بالفخر .

المشرف العلمي على الطبع : م.م مروة فليح حسن

التصميم : فراس عبد الهادي محمد

المشرف الفني على الطبع : فراس عبد الهادي محمد

الموقع والصفحة الرسمية للمديرية العامة للمناهج

www.manahj.edu.iq

manahjb@yahoo.com

Info@manahj.edu.iq



manahjb

manahj

استناداً الى القانون يوزع مجاناً ويمنع بيعه وتداوله في الأسواق



دأبت وزارة التربية متمثلة بالمديرية العامة للمناهج على تطوير المناهج بصورة عامة والرياضيات بصورة خاصة لكي تواكب التطورات العلمية والتكنولوجية في مجالات الحياة المختلفة .

بنيت سلسلة كتب الرياضيات العراقية على محورية التلميذ في عمليتي التعليم والتعلم وعده المحور الرئيس في العملية التربوية على وفق المعايير العالمية . ان سلسلة كتب الرياضيات العراقية الجديدة وضمن الاطار العام للمناهج تعزز القيم الاساسية المتمثلة بالالتزام بالهوية العراقية و التسامح واحترام الرأي والرأي الآخر والعدالة الاجتماعية وتوفير فرص متكافئة للتميز والابداع كما تعمل على تعزيز كفايات التفكير و التعلم و الكفايات الشخصية والاجتماعية وكفايات المواطنة والعمل .

تميزت سلسلة كتب الرياضيات العراقية للمرحلة الابتدائية للصفوف (٤-٦) في تنظيم الدروس على ست فقرات : أتعلم ، أتأكد ، أتحدث ، أحل ، أفكر ، أكتب . يأتي كتاب الرياضيات للصف الخامس الابتدائي مشتملاً على اربعة محاور اساسية : محور الاعداد والعمليات ، محور الجبر ، محور الهندسة والقياس ومحور الاحصاء و الاحتمالات ضمن الاوزان النسبية لكل محور .

فهو بذلك يمثل دعامة من دعائم المنهج المطور في الرياضيات الى جانب دليل المعلم وكتاب التمرينات وعليه نأمل ان يساعد تنفيذها على اكساب التلاميذ المهارات العلمية والعملية وتنمية ميولهم لدراسة الرياضيات .

اللهم وفقنا لخدمة عراقنا العزيز وابنائنا



رقم الصفحة	المحتوى	الفصل (١) :
٨	الاعداد ضمن المليارات	الدرس ١
١١	القيمة المكانية للاعداد ضمن المليارات	الدرس ٢
١٤	تقريب الاعداد لاقرب مليون	الدرس ٣
١٧	خطة حل المسألة (الخطوات الاربع)	الدرس ٤
	جمع الأعداد الكبيرة وطرحها	الفصل (٢) :
٢٦	جمع الاعداد ضمن المليارات وطرحها	الدرس ١
٢٩	تقدير نواتج الجمع والطرح	الدرس ٢
٣٢	الجمل المفتوحة	الدرس ٣
٣٥	خطة حل المسألة (حل مسألة اسهل)	الدرس ٤
	ضرب الاعداد	الفصل (٣) :
٤٤	الضرب في (١٠٠٠،١٠٠،١٠) ومضاعفاتها	الدرس ١
٤٧	ضرب عدد من ثلاث مراتب في عدد من مرتبة واحدة	الدرس ٢
٥٠	ضرب عدد من ثلاث مراتب في عدد من مرتبتين	الدرس ٣
٥٣	خطة حل المسألة (أخمن واثقق)	الدرس ٤
	قسمة الاعداد	الفصل (٤) :
٦٠	القسمة على عدد من مرتبة واحدة	الدرس ١
٦٣	القسمة على عدد من مرتبتين	الدرس ٢
٦٦	القسمة على مضاعفات ١٠،١٠٠،١٠٠٠	الدرس ٣
٦٩	انماط القسمة والجمل المفتوحة	الدرس ٤
٧٢	خطة حل المسألة (معقولة الاجابة)	الدرس ٥
	الكسور العشرية	الفصل (٥) :
٨٠	الكسور العشرية حتى مرتبة الاجزاء من الف والاعداد الكسرية	الدرس ١
٨٣	مقارنة الكسور العشرية وترتيبها	الدرس ٢
٨٦	تقريب الكسور العشرية والاعداد الكسرية	الدرس ٣
٨٩	التحويل بين الكسور العشرية و الكسور الاعتيادية والاعداد الكسرية	الدرس ٤
٩٢	أنماط الكسور العشرية	الدرس ٥
٩٥	خطة حل المسألة (أمثل بنموذج)	الدرس ٦
	عمليات على الكسور الاعتيادية و العشرية	الفصل (٦) :
١٠٢	جمع الكسور ذات المقامات المختلفة وطرحها	الدرس ١
١٠٥	جمع الأعداد الكسرية وطرحها	الدرس ٢
١٠٨	جمع الكسور العشرية والاعداد العشرية وطرحها	الدرس ٣
١١١	ضرب الكسور الاعتيادية	الدرس ٤
١١٤	الجمل العددية المفتوحة	الدرس ٥

١١٧	خطة حل المسألة (اكتب جملة عددية)	الدرس ٦
	القواسم والمضاعفات	الفصل (٧):
١٤٤	العدد الاولي	الدرس ١
١٤٧	التحليل الى العوامل والصور الاسية	الدرس ٢
١٣٠	المربع الكامل والجذر التربيعي	الدرس ٣
١٣٣	المكعب الكامل والجذر التكعيبي	الدرس ٤
١٣٦	القاسم المشترك الاكبر والمضاعف المشترك الاصغر	الدرس ٥
١٣٩	خطة حل المسألة (التبرير المنطقي)	الدرس ٦
	الهندسة	الفصل (٨):
١٤٦	التوازي و التعامد	الدرس ١
١٤٩	تصنيف المثلثات	الدرس ٢
١٥٢	انشاءات هندسية (مستقيمت و اشكال هندسية)	الدرس ٣
١٥٥	أنماط هندسية	الدرس ٤
١٥٨	خطة حل المسألة (أبحث عن نمط)	الدرس ٥
	القياس	الفصل (٩):
١٦٤	قياس الزوايا و رسمها	الدرس ١
١٦٧	مجموع قياسات زوايا المثلث والاشكال الرباعية	الدرس ٢
١٧٠	مساحة المثلث	الدرس ٣
١٧٣	وحدات الكتل المترية	الدرس ٤
١٧٦	التحويل بين وحدات الزمن	الدرس ٥
١٧٩	خطة حل المسألة (الخطوات الأربع)	الدرس ٦
	الاحصاء والاحتمالات	الفصل (١٠):
١٨٦	تمثيل البيانات بالنقاط المجمع و تفسيرها	الدرس ١
١٨٩	الوسط الحسابي والوسيط والمنوال والمدى	الدرس ٢
١٩٢	خطة حل المسألة (انشي قائمة منظمة)	الدرس ٥



الأعدادُ الكبيرةُ

سوفَ أتعلّمُ في هذا الفصل :

الدرس (١) الأعدادَ ضمنَ الملياراتِ

الدرس (٢) القيمةَ المكانيةَ للأعدادِ ضمنَ الملياراتِ

الدرس (٣) تقريبَ الأعدادِ لأقربِ مليونٍ

الدرس (٤) خطةَ حلِّ المسألةِ (الخطواتُ الأربعةُ)



بلغَ عددُ سكانِ العالمِ في سنة ٢٠١٣ نحو ٧ ملياراتِ و٢٠٠ مليونِ نسمة

الإختبار القبلي

أكمل النمط وأصفه:

٤.....		٦.....	٧.....		٩.....
--------	--	--------	--------	--	--------

تتناقص الأعداد بمقدار..... في كل مرة

٨.....		٦.....		٤.....	
--------	--	--------	--	--------	--

تتزايد الأعداد بمقدار..... في كل مرة

اكتب القيمة المكانية للرقم باللون الأحمر فيما يلي :

- ١٨٠٠٢٣٣ ٥ ٩٩٤٤٥٦ ٤ ٢٧٨٩٨ ٣
 ٩٢٢٠٥٥١ ٨ ٨٠٠٥٢٢٧ ٧ ٦٣٣٢٠١٠ ٦

اكتب العدد بالصورة التحليلية :

..... + + + + + = ٥٧٧١٨٨ ٩

..... + + + + + = ٩٩٩٢٦٦٦ ١٠

اكتب العدد بالصورة الرقمية:

..... ١١ سبعمئة واثنتان وأربعون ألفاً وستمئة وواحد

..... ١٢ ستة ملايين وسبعة وسبعون ألفاً وثلاثمئة

أقارن بين الأعداد مستعملاً الرموز (= ، > ، <) :

٥٤٣٤١٠٢ ○ ٥٣٤٤١٠٢ ١٤ ٢٣٢٠١٦٦ ○ ٣٢٣٠١٦٦ ١٣

٩١٢٩١١ ○ ١١٩٩١٢ ١٦ ١٠٨٠٤٠٩ ○ ١٠٨٠٩٠٤ ١٥

١٧ أرتب الأعداد من الأصغر إلى الأكبر : ٢٠٦٣٣٤٢ ، ٢٠٤٣٣٤٨ ، ٢٠٢٣٣٤٥

..... ، ،

١٨ أرتب الأعداد من الأكبر إلى الأصغر : ٩٧٧٠٠٣١ ، ٨٧٧٠٠٥١ ، ٨٧٧٠٠٢١

..... ، ،

أحوط الإجابة الصحيحة:

١٩ العدد ٢٠٦٥٥١ مقرب إلى أقرب مئة هو : ٢٠٧٠٠٠ ، ٢٠٦٥٠٠ ، ٢٠٦٦٠٠

٢٠ العدد ٩٠١٢٣٥٥ مقرب إلى أقرب ألف هو : ٩٠١٣٠٠٠ ، ٩٠١٢٠٠٠ ، ٩٠٢٢٠٠٠



أتعلم



يعدُّ سد الموصِل من أكبر السدود في العراق ، تحتوي بحيرة السد على ٩٠٠ مليون متر مكعب من المياه ، في موسم الربيع زاد منسوب البحيرة ١٠٠

فكرة الدرس

أتعرَّف الأعداد ضمن المليارات، وأكتبها بالصورة الرقمية

المفردات

عشرات الملايين

مئات الملايين

المليار

مليون متر مكعب ، كم متراً مكعباً من المياه أصبح في بحيرة السد ؟

تعرفت سابقاً الأعداد ضمن الملايين. وإذا عددت بالملايين فإن العدد التالي للعدد ٩ ملايين هو ١٠ ملايين (عشرة ملايين) ، سوف أتعرَّف الأعداد بعشرات الملايين ومئات الملايين قراءة وكتابةً بصورٍ مختلفة. حتى أصل إلى ٩٠٠ مليون. والعدد الذي يأتي بعد ٩٠٠ مليون هو ١٠٠٠ مليون والذي يسمى **ملياراً** (١ مليار = ١٠٠٠٠٠٠٠٠٠) .

سوف أتعرَّف الأعداد بالمليارات قراءةً وكتابةً بصورٍ مختلفة.

أمثلة

١ أجد عدد الأمتار المكعبة من المياه في البحيرة بعد الزيادة .

عدد الأمتار المكعبة من المياه في البحيرة هو ٩٠٠ مليون متر مكعب .

مقدار الزيادة في عدد الأمتار المكعبة من المياه هي ١٠٠ مليون متر مكعب .

لإيجاد عدد الأمتار المكعبة الكلية للمياه في البحيرة بعد الزيادة

$٩٠٠ \text{ مليون} + ١٠٠ \text{ مليون} = ١٠٠٠ \text{ مليون متر مكعب}$

يسمى العدد ١٠٠٠ مليون بالمليار

الصورة الرقمية للمليار هي ١.٠٠٠.٠٠٠.٠٠٠ . واحد وأمامه ٩ أصفار .

٢ أكتب العدد بالصورة الرقمية :

٢ مليار = ٢.٠٠٠.٠٠٠.٠٠٠ ، ٧ مليار = ٧.٠٠٠.٠٠٠.٠٠٠

٣ أكمل ما يلي :

أ (الصورة الرقمية للعدد عشرة مليارات هي ١٠.٠٠٠.٠٠٠.٠٠٠)

ب (٨٣ عشرة ملايين = ٨٣.٠٠٠.٠٠٠) ج (٧٥ مئة مليون = ٧٥.٠٠٠.٠٠٠)

د (الصورة الرقمية للعدد ٣ مليارات و ٤ مئة مليون هي ٣.٤٠٠.٠٠٠.٠٠٠)





٤ عددُ سكانِ العالمِ في سنةِ ٢٠١٣ هو ٧ ملياراتٍ و ٢٠٠ مليونِ نسمةٍ. اكتب هذا العدد بالصورةِ الرقميةِ، وبمئاتِ ملايينِ. الصورةُ الرقميةُ هي **٧٢٠٠٠٠٠٠٠٠٠**.

عددِ المئاتِ في العددِ **٧٢٠٠٠٠٠٠٠٠٠٠** هو **٧٢**، وعددِ العشراتِ فيه هو **٧٢٠**.

لذا **٧٢٠٠٠٠٠٠٠٠٠٠** = **٧٢** مئة مليون = **٧٢٠** عشرة ملايين

٥ أكمل ما يلي:

٣٠ مليوناً = **٣** عشرات الملايين ، الصورة الرقمية هي **٣٠٠٠٠٠٠٠٠**.

٤٥ مليوناً = **٤** عشرات الملايين و **٥** ملايين ، الصورة الرقمية هي **٤٥٠٠٠٠٠٠٠**.

٦ مليار = **٦٠٠** مئة مليون = **٦٠٠٠** عشرة ملايين ، الصورة الرقمية هي **٦٠٠٠٠٠٠٠٠٠٠**.

٧ ملياراتٍ و **٢٠٠** مليون = **٧٢٠٠** عشرة ملايين ، الصورة الرقمية هي **٧٢٠٠٠٠٠٠٠٠٠٠**.

أتأكد

اكتب العدد بالصورةِ الرقميةِ:

١ ثلاثون مليوناً =

٢ أربعة وثمانون مليوناً =

٣ ٥ مليار =

٤ ٩ مليار =

أكمل ما يلي :

٥ ٤٠ مليوناً = عشرات الملايين ، الصورة الرقمية هي

٦ مليوناً = ٥ آحاد الملايين و ٩ عشرات الملايين ، الصورة الرقمية هي

٧ ٦٠ عشرات الملايين = مليار و مئة مليون

٨ أكمل النمط وأصفه:

٨٠٠٠٠٠٠٠٠		٥٠٠٠٠٠٠٠٠	٤٠٠٠٠٠٠٠٠
-----------	--	-----------	-----------

٩ تبعدُ الأرضُ من الشمسِ نحو مئة وخمسين مليون كيلومترٍ.

اكتب هذه المسافة بالصورةِ الرقميةِ، وبعشراتِ الملايينِ.

الصورةُ الرقميةُ للعددِ مئة وخمسين مليوناً هي

المسافةُ بعشراتِ الملايينِ هي عشرة ملايينِ.

أحدث: كيف أكتب ٢٠ ملياراً بالصورةِ الرقميةِ، وبمئاتِ الملايينِ؟

١٠ أكمل النمط وأصفه:

٣.....	٥.....	٧.....
--------	--------	--------

تتناقص الأعداد بمقدار في كل مرة

أكتب العدد بالصورة الرقمية:

١١ ثلاث وعشرون مليوناً = ١٢ ستمئة مليون =

١٣ ٣ مليار = ١٤ ٨ مليار =

أكمل مايلي :

١٥ مليوناً = ٤ عشرات الملايين، الصورة الرقمية هي

١٦ ٧٣ مليوناً = عشرات الملايين و..... ملايين، الصورة الرقمية هي

١٧ تسعة مليارات و٤٠٠ مليون = مئة مليون

١٨ عدد كريات الدم الحمر في جسم الانسان نحو ثلاثين مليار

كرية. اكتب عدد كريات الدم الحمر بالصورة الرقمية وبمئات

الملايين.



أفكر

١٩ تحد : أكمل ما يأتي :

أصغر بعشرين مليار	العدد	أكبر بعشرة مليارات
	٢٠	
٣		

٢٠ أكتشف الخطأ : كتب سعد العدد ٦٦٠ مليوناً على النحو الآتي:

٦٦٠ مليوناً = ٦٠٠ مئة مليون و ٦٠ عشرة ملايين والصورة الرقمية للعدد هي ٦٦٠،

أكتشف خطأ سعد وأصححه.

أكتب العدد خمسة مليارات و ٣٠٠ مليون بمئات الملايين بالصورة الرقمية .

أكتب



القيمة المكانية للأعداد ضمن المليارات

أتعلم



يقع العراق في الجنوب الغربي من قارة آسيا، وعدد سكانه في سنة ٢٠١٣ بلغ ٣٢٦٥٤٢٥٠ نسمة. وأما عدد سكان آسيا فقد بلغ ٣ مليارات و ٨٧٩ مليون نسمة في العام نفسه. كيف أمثل العديدين بالصورة التحليلية؟

فكرة الدرس

أحدّ القيمة المكانية لأرقام العدد ضمن المليارات .

المفردات

القيمة المكانية

الصورة التحليلية

الصورة اللفظية

تعلمت سابقاً تمثيل الأعداد حتى ٩٩٩ ٩٩٩ ٩ بجدول القيمة المكانية وكتابة العدد بالصورتين التحليلية واللفظية، ويمكنني تمثيل الأعداد ضمن المليارات في جدول القيمة المكانية بالطريقة نفسها.

أمثلة

١ أمثل عدد سكان العراق في جدول القيمة المكانية ثم أكتبه بالصورة التحليلية . أكبر المراتب في عدد سكان العراق هي مرتبة عشرات الملايين . لذا سأكتب جدول المراتب حتى عشرات الملايين فقط .

الملايين		الالوف			الوحدات		
عشرات	آحاد	مئات	عشرات	آحاد	مئات	عشرات	آحاد
٣	٢	٦	٥	٤	٢	٥	٠

لكتابة العدد بالصورة التحليلية أحدّ القيمة المكانية لكل رقم فيه . ويساعدني جدول القيمة المكانية على ذلك .

$$٣٠٠٠٠٠٠ + ٢٠٠٠٠٠ + ٦٠٠٠٠ + ٥٠٠٠ + ٤٠٠٠ + ٢٠٠ + ٥٠ + ٠ = ٣٢٦٥٤٢٥٠$$

يقع الرقم ٣ في مرتبة عشرات الملايين ، لذا قيمته المكانية هي ٣٠٠٠٠٠٠

٢ أمثل عدد سكان آسيا ٣ ٨٧٩ ٠٠٠ ٠٠٠ في جدول القيمة المكانية ثم أكتبه بالصورة التحليلية .

المليارات	الملايين		الالوف			الوحدات			
	مئات	عشرات	آحاد	مئات	عشرات	آحاد	مئات	عشرات	آحاد
٣	٨	٧	٩	٠	٠	٠	٠	٠	٠

$$٣٠٠٠٠٠٠٠٠٠ + ٠ + ٠ + ٠ + ٠ + ٠ = ٣٨٧٩٠٠٠٠٠٠٠٠$$

$$٣٠٠٠٠٠٠٠٠٠٠ + ٨٠٠٠٠٠٠٠ + ٧٠٠٠٠٠٠ + ٩٠٠٠٠٠٠ +$$

٣ أكتب العدد بالصورة الرقمية أو اللفظية

الصورة اللفظية	الصورة الرقمية
ثلاثة وثلاثون مليوناً وستمئة وأربعة وخمسون ألفاً ومئتان وخمسون	٣٣٦٥٤٢٥٠
تسعة وثلاثون ملياراً وخمسمئة وسبعة وخمسون مليوناً وأربعمئة وأربعة آلاف ومئتان وستة وعشرون	٣٩٥٥٧٤٠٤٢٢٦

أتأكد

١ مساحة سطح الكرة الأرضية ٥١٠٠٧٢٠٠٠ كيلو متر مربع تقريباً. أمثل هذا العدد في جدول القيمة المكانية.

٢ عدد سكان الصين ١٣٣٩٧٢٤٨٥٢ نسمة في العام ٢٠١٠. أمثل العدد في جدول القيمة المكانية.

استعمل جدول القيمة المكانية التالي للإجابة عن الأسئلة من ٣ إلى ٥.

المليارات	الملايين			الآلاف			الوحدات		
	مئات	عشرات	احاد	مئات	عشرات	احاد	مئات	عشرات	احاد
٩	٤	١	٠	٥	٨	٧	٠	٧	٢

٣ القيمة المكانية للرقم ٨ هي

٤ القيمة المكانية للرقم ٩ هي:

٥ العدد بالصورة التحليلية = + + + +

..... + + + +

اكتب العدد بالصورة الرقمية:

٦ = ٤٠٠٠٠٠٠ + ٢٠٠٠٠٠٠ + ١٠٠٠٠٠٠ + ٤٠٠٠٠٠ + ٠ + ٣٠٠ + ٠ + ٢

٧ = ٦٠٠٠٠٠٠٠ + ٠ + ٧٠٠٠٠٠٠ + ٥٠٠٠٠٠ + ٠ + ٨٠٠٠ + ٨٠٠ + ١٠ + ٠

٨ تنتج محطة لتنقية مياه الشرب ٥٤١٤٧٢٠٩٦ لتراً من الماء

الصالح للشرب في الشهر.

القيمة المكانية للرقم ٤ في المرتبة الكبرى تساوي مرة

من القيمة المكانية للرقم ٤ في المرتبة الصغرى.



العدد بالصورة اللفظية	العدد بالصورة الرقمية:
ثلاثمئة وخمسة ملايين ومئتان وتسعون ألفاً وسبعون	
	٩٦١٠٤٤٤٠٥



أحدث: كيف أحدد القيمة المكانية للرقم ٣ في العدد ٤٣٢١١٩٠٩٦؟

أحل

استعمل جدول القيمة المكانية التالي للإجابة عن الأسئلة من ١٠ إلى ١٣.

المليارات		الملايين			الآلاف			الوحدات		
عشرات	أحاد	مئات	عشرات	أحاد	مئات	عشرات	أحاد	مئات	عشرات	أحاد
٥	٨	٩	١	٨	٠	٣	٤	٠	٢	٢

١٠ القيمة المكانية للرقم ١ هي (١١) القيمة المكانية للرقم ٥ هي

١٢ القيمة المكانية للرقم ٨ في مرتبة آحاد المليارات تساوي مرة من القيمة المكانية للرقم ٨ في مرتبة آحاد الملايين.

١٣ العدد بالصورة التحليلية = + + + + +
..... + + + +

أكتب العدد بالصورة الرقمية.

١٤ = ٦٠٠٠٠٠٠ + ٠ + ١٠٠٠٠٠٠ + ٩٠٠٠٠٠ + ٠ + ٧٠٠٠ + ٣٠٠ + ٠ + ١

١٥ = ١٠٠٠٠٠٠٠ + ٤٠٠٠٠٠٠٠ + ٠ + ٠ + ٥٠٠٠٠٠ + ٢٠٠٠٠ + ٦٠٠٠ + ٠ + ٦٠ + ٧

١٦ في أحد مواسم حصاد الشعير، تم حصاد ٥٢١٥٧٣٦٩٠ كغم من الشعير.
أكتب اسم مرتبة الرقم المكرر، ثم أحدد قيمته المكانية.

أ (يقع الرقم ٥ في مرتبة ، وقيمته المكانية هي
ب (يقع الرقم ٥ في مرتبة ، وقيمته المكانية هي

أفكر

١٧ ما أكبر عدد وما أصغر عدد يمكن كتابتهما باستعمال البطاقات التالية وما مرتبة الرقم ٧ وقيمته المكانية في كل عدد منها؟

٦ ٣ ٤ ٩ ٥ ٧ ٨ ٢ ١

أكبر عدد:

الرقم ٧ يقع في مرتبة وقيمته المكانية

أصغر عدد:

الرقم ٧ يقع في مرتبة وقيمته المكانية

١٨ **حس عددي:** ما العدد الذي يسبق ٣ مليار بواحد؟

مسألة عن القيمة المكانية للرقم ٥ في العدد ٦٢٥٣١٤٠٩.

أكتب



١٣



تقريب الأعداد لأقرب مليون

الدرس ٣

أتعلم



كان ربح أحد المصارف في الحسابات الختامية لسنة ٢٠١٤ هو ٤٣٨٢٠٠٠٠٠ دينار. مارجُ المصرف مقدراً لأقرب مئة ألف؟

فكرةُ الدرس
أقربُ الأعدادِ الى أقربِ مليونِ المفرداتُ التقريبُ (\approx)

تعلّمت سابقاً تقريبَ أعدادٍ الى أقرب ألف. ويمكنني تقريبَ أعداد كبيرة الى أقرب مئة ألف أو الى أقرب مليون بالطريقة نفسها. ويمكنني أيضاً التقريبُ باستعمالِ مستقيم الأعداد أو القيمة المكانية.

أمثلة

١) أقرب العدد الذي يمثل ربح المصرف الى أقرب مئة ألف.

طريقة (١) : التقريبُ باستعمالِ مستقيم الأعداد.

المرتبة التي أريدُ التقريبَ إليها هي مئات الألوف ويقعُ فيها الرقمُ ٨. لذا،

- أعينُ العددَ ٤٣٨٢٠٠٠٠٠ على مستقيم الأعدادِ .

- أعينُ العددَ الذي تزيدُ فيه مرتبةُ مئات الألوف بمقدار ١ عن العدد الذي عينته وهو ٤٣٩٠٠٠٠٠٠

والعدد الذي تقلُّ فيه مرتبة مئات الألوف بمقدار ١ وهو ٤٣٨٠٠٠٠٠٠ على مستقيم الأعدادِ.



أجد أن العددَ ٤٣٨٢٠٠٠٠٠ أقربُ موقِعاً الى العددِ ٤٣٨٠٠٠٠٠٠ منه الى العددِ ٤٣٩٠٠٠٠٠٠٠ .

طريقة (٢) : التقريبُ باستعمالِ القيمةِ المكانيةِ .

- أضعُ خطاً تحتَ الرقمِ الذي في المرتبةِ التي أريدُ التقريبَ إليها، وهو الرقمُ ٨.

٤٣٨٢٠٠٠٠

- الرقمُ الواقعُ الى يمينِ الرقمِ ٨ في العددِ هو ٢، وبما أن ٢ أصغرُ من ٥ فأُنني

أبقي الرقمَ ٨ دونَ تغييرِ.

- أضعُ أصفاراً بدلَ جميعِ الأرقامِ التي الى يمينِ مرتبةِ مئات الألوفِ.

أي الى يمينِ الرقمِ ٨. فيكونُ : ٤٣٨٢٠٠٠٠ \approx ٤٣٨٠٠٠٠٠





٢ مساحة القارة القطبية الجنوبية المتجمدة ١٣٧٢٠٠٠٠ كم^٢.

اكتب العدد الذي يمثل مساحة القارة لأقرب مليون.

- أضع خطأً تحت الرقم في مرتبة آحاد الملايين. ١٣٧٢٠٠٠٠

- الرقم إلى يمين الرقم ٣ هو ٧. بما أن $٧ < ٥$ ، أضع الرقم ٤ في العدد

بدلاً من الرقم ٣ ثم أضع أصفاراً بدل جميع الأرقام التي إلى يمين مرتبة آحاد

الملايين فيصبح ١٤٠٠٠٠٠٠

لذا فإن $١٣٧٢٠٠٠٠ \approx ١٤٠٠٠٠٠٠$

٣ أعدد الإجابة الصحيحة :

العدد	التقريب لأقرب مئة ألف	التقريب لأقرب مليون
٢٠٦٣٨٢٩١١	٢٠٦٣٠٠٠٠٠ ، ٢٠٦٤٠٠٠٠٠	٢٠٧٠٠٠٠٠٠ ، ٢٠٦٠٠٠٠٠٠
٥٤٩٠٢٥٤٢٠٠٦	٥٤٩٠٢٥٠٠٠٠ ، ٥٤٩٠٢٦٠٠٠٠	٥٤٩٠٣٠٠٠٠٠٠ ، ٥٤٩٠٢٠٠٠٠٠٠

أتأكد

أقرب العدد إلى القيمة المكانية للرقم الذي باللون الاحمر:

١ ≈ ٣١٩٠٧٣١٠ ٢ ≈ ٤٢٩٨٨٠٠١

٣ ≈ ٧٢١٣٦٤٢٥ ٤ ≈ ٩١٣٦٢٠٣٤

أقرب العدد لأقرب مليون :

٥ ≈ ٧٣٤٠٧٧٨٢ ٦ ≈ ٥٨١٥٨٢٠٣٩ ٧ ≈ ٣٣٠٤٥١٥٨٠٨

٨ ≈ ٧٠٦٢٥٥٠١٢ ٩ ≈ ٢٤٥٩٨٣٧١١ ١٠ ≈ ٥٩٠٠٢٠٨٦٦٢١

١١ أحوط الإجابة الصحيحة :

العدد	العدد لأقرب مئة ألف	العدد لأقرب مليون
٥٧٧٦٣٦٠٤١	٥٧٧٦٠٠٠٠٠ ، ٥٧٧٧٠٠٠٠٠	٥٧٨٠٠٠٠٠٠٠ ، ٥٧٧٠٠٠٠٠٠٠
٤١٠٥٤١١٠٧	٤١٠٥٤٠٠٠٠٠ ، ٤١٠٥٥٠٠٠٠٠	٤١٠٥٠٠٠٠٠٠٠ ، ٤١٠٦٠٠٠٠٠٠٠



١٢ مساحة قارة أوروبا عشرة ملايين ومئة وثمانون ألف كيلومتر مربع.

أقرب المساحة لأقرب مئة ألف.



١٥

منهاجي
متعة التعليم الهادف



١٣ يقطع الضوء مسافة ٢٩٩٧٩٤٥٨ كم في الثانية الواحدة. أقرب هذا العدد لأقرب مليون في الثانية الواحدة.

أحدث: إذا كان عدد البطاريات التي ينتجها مصنع هو ٨٧٢٠٢٢٥٢ فهل من المعقول أنه ينتج ٨٨ مليون بطارية تقريبا؟ أفسر اجابتي.

أحل

أقرب العدد إلى القيمة المكانية للرقم الذي باللون الاحمر.

١٤ $٧٤١٠٠١ \approx$ ١٥ $٥٦١٧٢٠٠ \approx$

١٦ $٣١٣٤٦٠٢٢١ \approx$ ١٧ $٦٠٠٨٢٨٠٢٩٥ \approx$

أقرب العدد لأقرب مليون.

١٨ $٧٣٧٢٦٢١٠١ \approx$ ١٩ $٦١٦٢٥٢٣٣٤ \approx$

٢٠ $٩٧٢٠٣٣٥٧١٧ \approx$ ٢١ $٨٠٦٠١٥٥٢٣٠٣ \approx$

٢٢ أحوط الإجابة الصحيحة :

العدد	العدد لأقرب مئة ألف	العدد لأقرب مليون
٤١٠٨٧٢٥٥١	٤١٠٨٠٠٠٠ ، ٤١٠٩٠٠٠٠	٤١٠٠٠٠٠٠ ، ٤١٠٠٠٠٠٠
٥٤٩٠٢٥٤٩٠٠٦	٥٤٩٠٢٥٠٠٠٠ ، ٥٤٩٠٢٦٠٠٠٠	٥٤٩٠٣٠٠٠٠٠٠ ، ٥٤٩٠٢٠٠٠٠٠٠



٢٣ مساحة قارة أفريقيا ٣١٣٧٠٠٠٠ كيلومتر مربع .

أقرب المساحة لأقرب مليون كيلومتر مربع مستعملاً مستقيم

الأعداد.

أفكر

٢٤ **أكتشف الخطأ:** كتبت سعاد العدد أربعمئة وإثنين وثلاثين مليوناً وخمسمئة ألف ومئتين وأحد

عشر مقرباً لأقرب مليون بالصورة الرقمية : ٤٣٢٠٠٠٠٠٠٠ ، أكتشف خطأ سعاد وأصححهُ .

أكتب تقريب العدد ٢٩٩٥٣٠١٠٢ لأقرب مليون .

١٦

خطة حل المسألة (الخطوات الأربع)

أتعلم



تنشط الموانئ العراقية بالحركة التجارية حيث تنقل البواخر البضائع بين العراق ودول العالم. في أحد موانئ الدولة باخرتان محملتان بالسكر تحمل

فكرة الدرس
استعمل الخطوات الأربع في حل المسألة

الباخرة الأولى ٤٨٠٤٥٠٠ كيس، وتحمل الباخرة الثانية ٤٤٠٥٤٠٠ كيس. أي الباخرتين تحمل أكياساً أكثر؟

أفهم

مامعطيات المسألة؟ حمولة الباخرة الأولى ٤٨٠٤٥٠٠ كيس، وحمولة الباخرة الثانية ٤٤٠٥٤٠٠ كيس.
ما المطلوب في المسألة؟ أي الباخرتين تحمل أكياساً أكثر؟

أخطط

كيف أحل المسألة؟

استعمل القيمة المكانية للمقارنة ومستقيم الأعداد للتحقق. عدد المراتب في العددين هو نفسه ٨. لذا أقرن الأرقام في المراتب المتقابلة في العددين من اليسار إلى اليمين حتى أصل إلى مرتبة قيمتها المكانية في العدد الأول مختلفة عن قيمتها في العدد الثاني.

أحل

العددان لهما المراتب نفسها وهو ٨ مراتب. لذا أبدأ بمقارنة المراتب من اليسار إلى اليمين.

	٤٨٠٤٥٠٠	٤٤٠٥٤٠٠	المرتبتان متساويتان.
	٤٨٠٤٥٠٠	٤٤٠٥٤٠٠	المرتبتان متساويتان.
	٤٨٠٤٥٠٠	٤٤٠٥٤٠٠	$٤ < ٨$
	٤٨٠٤٥٠٠	٤٤٠٥٤٠٠	إذن $٤٨٠٤٥٠٠ < ٤٤٠٥٤٠٠$

لذا، الباخرة الأولى تحمل أكياساً أكثر.

أتحقق

أستعمل مستقيم الأعداد للتحقق من إجابتي:



$٤٤٠٥٤٠٠ < ٤٨٠٤٥٠٠$ لذا إجابتي صحيحة.

مَسَائِلُ

٨٧٦٠٠٠٢

٤٥٦٠٠٠٢٠

٣٣١٠٠٠٩

٧٠٢٠٠٢١

٤٩٩٢٠٠٤



١ قَرَّبْتُ خَدِجَةَ الأَعْدَادَ فِي القَائِمَةِ المَجَاوِرَةِ لِأَقْرَبِ مِئَةِ أَلْفٍ
ثم رَتَّبْتُهَا تصاعدياً. اكتب هذا الترتيبَ .

٢ عدد السكان لثلاثِ قاراتٍ مقرباً لأقربِ مليونٍ كما يلي :

أفريقيا : ٩٢٣٠٠٠٠٠٠

أمريكا الشمالية : ٥٣٩٠٠٠٠٠٠

أمريكا الجنوبية : ٣٨٢٠٠٠٠٠٠

أ (اكتبِ القيمةَ المكانيةَ للرقم ٣ في كلِّ عددٍ من هذه الأعدادِ .

ب (هل يمكنني القولُ إنَّ عددَ سكانِ أفريقيا يساوي تقريباً عددَ السكانِ في أمريكا الشماليةِ
وأمريكا الجنوبيةِ معاً؟ أفسرُ إجابتي .

٣ كانت أرباحُ أحدِ المصارفِ العراقيةِ في أربعِ سنواتٍ متتاليةٍ كما يلي :

السنة الأولى : ٧٤٦١٠٠٢ دينار

السنة الثانية : ٦٩٢٨٠١١٠ دنانير

السنة الثالثة : ١٢٥١٦٦٠٠ دينار

السنة الرابعة : ١١٨٠٢٣٠٥٠ ديناراً

أقربُ الأرباحِ في السنواتِ الأربعِ لأقربِ مليونٍ، ثم أرَتبُ الأعدادَ المقربةَ من الأكبرِ إلى
الأصغرِ .

٤ تقريبُ العددِ ٤٨١٠٦ □ ٧ لأقربِ مليونٍ هو ٨ ٠٠٠ ٠٠٠

اكتبُ جميعَ الأرقامِ التي يمكنُ وضعُ أحدها في □ ليكون التقريبُ صحيحاً . أفسرُ اجابتي .

٥ أجدُ أكبرَ عددٍ وأصغرَ عددٍ يمكنُ تقريبيهما إلى العددِ ٨٢٠٠٠٠٠ . اشرحُ كيفَ عرفتَ ذلكَ .



مراجعة الفصل

المفردات

عشرات الملايين ، مئات الملايين ، المليار ، القيمة المكانية ، الصورة التحليلية ، الصورة الرقمية ، الصورة اللفظية ، التقريب

أكمل الجمل الآتية باستعمال المفردات في الجدول اعلاه :

- ١ العدد ٨٤٠٠٠٠٠٠ فيه الرقم ٨ في مرتبة
- ٢ للعدد ٧٩٥٠٢٨ هي ٨ + ٢٠ + ٠ + ٥٠٠٠ + ٩٠٠٠٠ + ٧٠٠٠٠٠
- ٣ للرقم ٤ في العدد ٣٥٤١٦٠٢ هي ٤٠٠٠٠
- ٤ للعدد ١٢٦٥١٠٢٩ هي اثنا عشر مليوناً وستمئة وواحد وخمسون ألفاً وتسعة وعشرون
- ٥ العدد ٣٢١٨٩٠ لأقرب ألف هو العدد ٣٢٢٠٠٠

الأعداد ضمن المليارات

الدرس (١)

مثال ١ : اكتب العدد بالصورة الرقمية :

ثلاثون مليوناً = ٣٠٠٠٠٠٠٠

٧٠ مليوناً = ٧٠٠٠٠٠٠٠

تدريب ١

اكتب العدد بالصورة الرقمية :

٦٠ مليوناً =

٨٠ مليوناً = عشرات ملايين ، الصورة الرقمية هي

٨٠ مليوناً = ٤ ملايين و ٣ عشرات ملايين ، الصورة الرقمية هي

مثال ٢ : أكمل ما يأتي :

ثلاثمئة مليون = ٣٠ عشرات الملايين الصورة الرقمية هي ٣٠٠٠٠٠٠٠٠

٨٠٠ مليون = عشرات الملايين الصورة الرقمية هي ٨٠٠٠٠٠٠٠٠

تدريب ٢

أكمل ما يأتي :

٩٠٠ مليون = عشرات الملايين ، الصورة الرقمية هي

٩٠٠ مليون = عشرات الملايين ، الصورة الرقمية هي

مثال ٢ :

أحدّد مرتبة الرقم باللون الاحمر، ثمّ أحدّد قيمته المكانية:

الرقم ٨٩٢٠٧٨٠٥١ يقع في مرتبة عشرات الملايين وقيمته المكانية ٩٠٠٠٠٠٠٠

الرقم ١٧٤٢٦١٥٠٠٠ يقع في مرتبة مئات الملايين وقيمته المكانية ٧٠٠٠٠٠٠٠٠

تدريب ٢ :

أكتب اسم مرتبة الرقم باللون الاحمر، ثمّ أحدّد قيمته المكانية:

الرقم ٧٠١٤٢٢٠٦٨١١٦ يقع في مرتبة وقيمته المكانية
١٦

الرقم ٣٢٢٠٧٠٩١٩٥ يقع في مرتبة وقيمته المكانية
١٧

تقريب الأعداد لأقرب مليون

الدرس (٣)

مثال : أقرب العدد لأقرب مليون :

$$٦٠٠٠٠٠٠ \approx ٦٢٨٥٠٥٠$$

$$٥٠٠٠٠٠٠ \approx ٤٧١٣٠٠٠$$

$$٩٨٠٠٠٠٠٠ \approx ٩٨٠٠٧١١٣٢$$

$$٢٠٠٠٠٠٠ \approx ١٩٠٣١٠٠$$

$$٣٠١٣٠٠٠٠٠ \approx ٣٠١٢٦٠٠٠٤٤$$

$$٦٠١٠٠٠٠٠٠ \approx ٦٠٠٩٤٥٢٠٢$$

تدريب :

أقرب العدد لأقرب مليون :

$$\dots \approx ٤٤١٦٠٠١$$

$$\dots \approx ٣٣٨٧٥٠٠٠$$

$$\dots \approx ٧٢٠٦٦٠١٠٢$$

$$\dots \approx ٥١٥٠٣٠٠٢٧$$

منهاجي

متعة التعليم الهادف



اختبار الفصل

أكتب العدد بعشرات وبمئات الملايين وبالصورة الرقمية :

- ١ ٩٠ مليوناً = عشرات الملايين ، الصورة الرقمية هي
- ٢ ثلاثمئة مليون = مئات الملايين ، الصورة الرقمية هي
- ٣ ٨٠٠ مليون = مئات الملايين = عشرات الملايين ، الصورة الرقمية هي
- ٤ ٦٠ ملياراً = مئات الملايين = عشرات الملايين ، الصورة الرقمية هي

أكمل مايلي :

- ٥ ٩٣ مليون = آحاد الملايين و عشرات الملايين ، الصورة الرقمية هي
- ٦ مليوناً = ٣ عشرات الملايين و ٧ مئات الملايين ، الصورة الرقمية هي
- ٧ ٥٩٠ عشرات الملايين = مئة مليون و مليارات ، الصورة الرقمية هي
- ٨ ٥٠٠ مليوناً = مئة مليون = عشرة ملايين ، الصورة الرقمية هي
- ٩ ٤٥٠ مليوناً = مئة مليون و عشرات ملايين ، الصورة الرقمية هي
- ١٠ كان واردٌ أحد المحالِّ التجارية للذهب في يوم الخميس تسعين مليون دينار. كم عشرة



ملايين في هذا العدد؟ وكم مئة ألف فيه؟

تسعون مليوناً = عشرات الملايين

تسعون مليوناً = مئة ألف

١١ أستعمل جدول القيمة المكانية لأكتب العدد بالصورة التحليلية :

المليارات		الملايين			الألوف			الوحدات		
عشرات	احاد	مئات	عشرات	احاد	مئات	عشرات	احاد	مئات	عشرات	آحاد
٣	٦	٠	٢	٧	٠	٥	٤	٠	٣	٠

القيمة المكانية للرقم ٢ هي:

القيمة المكانية للرقم ٦ هي:

العدد بالصورة التحليلية =

أختيار الفصل

١٢ يبيّن الجدول التالي بُعد بعض الكواكب عن الشمس بصورة تقريبية بملايين الكيلو مترات.

الكوكب	الأرض	المريخ	المشتري	زحل
البعد عن الشمس	١٥٠ مليوناً	٢٢٥ مليوناً	٧٧٥ مليوناً	١٤٢٥ مليوناً

أ (هل يبعد أحد هذه الكواكب من الشمس أكثر من مليار كيلو متر؟ إن كانت إجابتك نعم، فما هذا الكوكب؟

ب (أي كوكبين مجموع بعديهما عن الشمس يساوي مليار كيلو متر؟ أفسر إجابتك.

أقرب العدد لأقرب مليون :

١٣ ≈ ١٦.٢٣٢٤٤ ١٤ ≈ ٣٤٥.١٠٧٧٥

١٥ ≈ ٨١٤٦.٦٥٩٩ ١٦ ≈ ٩٠٧.٥٨٩٢٤٠

١٧ أستعمل الخطوات الأربع لحل المسألة التالية:

اخترت صباح عدداً من الأعداد الآتية : ٤٣٠.٣٧٨٦٠٠ ، ٣٠٤٢٨٦٠٠ ، ٤٣٠.٤٧٨٦٠٠ وقربته الى أقرب مئة ألف ثم قربت العدد الناتج الى أقرب مليون. ثم كتبت في كراسيتها العدد ٤٣١٠٠٠٠٠ . ما العدد الذي اخترته صباح لتقريبه؟ اشرح كيف عرفت ذلك.



جمع الأعداد الكبيرة وطرحها



سوف أتعلّم في هذا الفصل:

الدرس (١) جمع الأعداد ضمن المليارات وطرحها

الدرس (٢) تقدير نواتج الجمع والطرح

الدرس (٣) الجمل المفتوحة

الدرس (٤) خطة حل المسألة (حل مسألة أسهل)

يُغطي الماء تقريباً ثلثي سطح الكرة الأرضية، وتبلغ المساحة الإجمالية لليابسة ١٥٠٤٢٨٥٠٠ كم^٢ أمّا المساحة الكلية لسطح الأرض فهي ٥١٠٠٦٥٦٠٠ كم^٢. يمكنني استعمال الطرح لإيجاد مساحة الجزء من سطح الكرة الأرضية الذي تغطيه المياه .

الاختبار القبلي

أجد ناتج الجمع

الملايين	الألوف			الوحدات			
	آحاد	مئات	عشرات	آحاد	مئات	عشرات	
٤	٦	٩	٠	٧	٤	٢	
٢	٧	٤	٣	٠	٦	٧	
+							

٢١٣٤٥٠٠١ ٤

٣١٣٨٠٤ ٣

٦٢٧٠٢ ٢

٥٠٨٧٧١٢ +

٤٩٩٣٤٦ +

١٩٨٦٠ +

أجد ناتج الطرح :

الملايين	الألوف			الوحدات			
	آحاد	مئات	عشرات	آحاد	مئات	عشرات	
٨	٦	١	٧	٣	١	٤	
٥	٦	٤	٠	٩	٦	٢	
-							

٧٢٩٥٤٧١ ٨

٨١١٦٣٥ ٧

٦٢٧٠٢ ٦

٦٨٨٠٥٦٢ -

٤٨٠٣٤٦ -

١٢٨٠٥ -

أجد ناتج الطرح :

..... = ٣٥٠٠٧٩ - ٨٠٠٢٠٠ ١٠

..... = ٢٠٦٦٠٢٢ - ٤٠٠٠٥٠٠ ٩

أقدر ناتج الجمع أو الطرح بالتقريب لأقرب مليون :

..... ≈ ٦١١٠٦٨٢١ + ٢٧٧١٣١٦٦ ١٢

..... ≈ ١٧٢١٤٩٠ + ٥١٢٤٦٢٠ ١١

..... ≈ ٤٠٨٩٠٠٠ - ٨١٥٢٠٠٠ ١٤

..... ≈ ٢٥٣٠٠٨١ - ٦٢٨٠٠٣٦ ١٣

أجد العدد المفقود في كل مما يأتي :

٧٠٠٠ = + ٣٠٠٠ ١٥

٥١٤٦١٩ = - ٩٢٠٠٣٥ ١٦



جمع الأعداد ضمن المليارات و طرحها

الدرس ١

أتعلم



بلغت أرباح أحد المتاجر ٢٥١٥٠٤٧٥٠ ديناراً في سنة ٢٠١٣، و ١٦٩٠٨٢٥٠٠ دينار لسنة ٢٠١٤. ما أرباح المتجر في السنتين؟

فكرة الدرس
أجمع أعداداً ضمن المليارات وأطرحها

المفردات
جمع أعداد كبيرة
طرح أعداد كبيرة

تعلمت سابقاً جمع الأعداد و طرحها ضمن الملايين، ويمكنني جمع أعداد كبيرة و طرحها ضمن المليارات (دون إعادة التسمية أو مع إعادة التسمية) بالطريقة نفسها.

أمثلة

١ أجد أرباح المتجر في السنتين .

أستعمل جدول القيمة المكانية ليجاد ناتج الجمع :

لكي أجد الأرباح في السنتين، أجمع العددين ٢٥١٥٠٤٧٥٠ و ١٦٩٠٨٢٥٠٠

الملايين			الألوف			الوحدات		
مئات	عشرات	آحاد	مئات	عشرات	آحاد	مئات	عشرات	آحاد
٢	٥	١	٥	٠	٤	٧	٥	٠
١	٦	٩	٠	٨	٢	٥	٠	٠
٤	٢	٠	٥	٨	٧	٢	٥	٠

أجمع الآحاد

أجمع العشرات

أجمع المئات

أجمع آحاد الألوف

أجمع عشرات الألوف

أجمع مئات الألوف

أجمع آحاد الملايين

أجمع عشرات الملايين

أجمع مئات الملايين

$$٠ = ٠ + ٠$$

$$٥ = ٥ = ٠ + ٥$$

$$١٢ = ٥ + ٧ = ٢ \text{ مئات} + ١ \text{ الآف}$$

$$٧ = ٢ + ٤ + ١ \text{ الآف}$$

$$٨ = ٨ + ٠ \text{ عشرة الآف}$$

$$٥ = ٠ + ٥ \text{ مئات الآلاف}$$

$$١٠ = ٩ + ١ \text{ عشرات الملايين}$$

$$١٢ = ٦ + ٥ + ١ \text{ عشرات الملايين} + ١ \text{ مئات الملايين}$$

$$٤ = ١ + ٢ + ١$$

أرباح المتجر في السنتين هي ٤٢٠٥٨٧٢٥٠ ديناراً



٢ أطح العدد ٣٢٠٢٥٦٨٨٨ من العدد ٩٨٣٥٧٤٢٩٦٩
يمكنني استعمال جدول القيمة المكانية للطرح .

المليارات		الملايين			الألوف			الوحدات		
آحاد	مئات	عشرات	آحاد	مئات	عشرات	آحاد	مئات	عشرات	آحاد	
٩	٨	٣	٥	٧ ^٦	٤ ^{١٣}	٢ ^{١٢}	٨ ^٨	٨ ^{١٦}	٩	
٣	٢	٠	٢	٥	٥	٦	٨	٨	٨	
٦	٦	٣	٣	١	٨	٦	٠	٨	١	

نتيج الطرح هو ٦٦٣٣١٨٦٠٨١

أتأكد

١ أجمع :

المليارات		الملايين			الألوف			الوحدات		
عشرات	آحاد	مئات	عشرات	آحاد	مئات	عشرات	آحاد	مئات	عشرات	آحاد
٣	٥	٠	٤	٥	٨	٠	٧	٣	٦	٢
٤	٨	٠	٩	٥	٧	٥	٣	٨	٠	١

٢ أطح :

المليارات		الملايين			الألوف			الوحدات		
عشرات	آحاد	مئات	عشرات	آحاد	مئات	عشرات	آحاد	مئات	عشرات	آحاد
٨	٥	٢	٥	٤	٤	٩	٥	٦	٢	٢
٦	٧	١	٠	٩	٦	٠	٨	٣	٠	٨

أجد ناتج :

٥٩٣٨٠٨٠٧١٩ (٥)

١٢٢٤٧٩٨٣٠١ +

٢٨٥٧٤٦٠٠٠ (٤)

٤٣٠٠٧٦٥٣٣ +

٢٨٥٤٣٧٠٢ (٣)

٣٤٧٦٠٨٥١ +

٦ ٢ ١ ٤ ١ ٨ ٥ ٥ ٨ ٢ ٨

٤ ٤ ٩ . ٠ . ٩ ١ ٩ ٢ -

٧ ٤ ٨ ٣ ٢ ٣ ٦ ١ ٦ ٧

١ ٣ ٩ ٣ ٩ . ١ ٧ ٧ -

٦ ١ ٤ ١ ١ ٢ ٤ ٣ ٦

٢ ٨ ٥ ٥ ٧ . ٠ . ٠ -



٩ إذا علمت أن عدد سكان قارة أمريكا الشمالية ٥٢٨٧٢٠٥٨٨ نسمة ،
وعدد سكان قارة أمريكا الجنوبية هو ٣٨٢٠٠٠٠٠٠٠ نسمة في سنة ٢٠١٤ .

فما عدد سكان القارتين معاً؟ وما الفرق بينهما؟

أحدث: كيف أجريت عمليات إعادة التسمية في المثال (١)؟



أحل أجد ناتج:

١٠

المليارات		الملايين			الألوف			الوحدات		
عشرات	أحاد	مئات	عشرات	أحاد	مئات	عشرات	أحاد	مئات	عشرات	أحاد
١	٢	٤	٦	٥	٨	٣	٠	٠	٤	٥
٤	٨	٠	٩	٠	٩	٩	٨	٧	٥	٦

١١

المليارات		الملايين			الألوف			الوحدات		
عشرات	أحاد	مئات	عشرات	أحاد	مئات	عشرات	أحاد	مئات	عشرات	أحاد
٧	٣	٧	٤	٤	١	١	٦	٣	٥	٢
٥	٤	٦	٥	٠	٩	٧	٧	٨	٠	٦

٨ ٤ ١ ٧ ١ ٥ ٦ ٤ ٧ ١ ١٤

٢ ٥ . ٩ . ٣ ٩ ١ ٩ ٢ -

١٣ ١ ٢ ٢ . ٠ . ٧ ٧ ٦ ٦ ١٣

٥ ٩ . ٦ ٨ ٨ ٨ . ٠ ٥ +

١٢ ٩ . ٥ ١ ٥ ٧ . ٠ ١٢

٢ ٤ ٤ ٩ . ٣ ٣ ٢ +

أفكر

٩ ٨ ٨ ٣ ٤
٣ ٦ ٤ ٨ ٧
٥ ٤ ٩ ٣ ٢ ٩ ١ .

١٥

تحذ: أضع العدد المناسب في:

٧ ٥ ٢ ٥ ٨ ٦ ٥

٣ ٤ ٣ . ٩ ٥ -

٤ . ٢ ٣ ١ .

عديدين ، كل منهما من تسعة مراتب وأجد مجموعهما .

أكتب

تقدير نواتج الجمع والطرح

الدرس ٢

أتعلم



بلغ إنتاج أحد الآبار من النفط الخام في شهر تموز ٨٤٣٠١٢٠ برميلاً وفي شهر آب ٨٧٩٠٣٤٠ برميلاً .
يمكنني تقدير إنتاج البئر في الشهرين .

فكرة الدرس

استعمل التقريب لأقدر ناتج الجمع والطرح المفردات التقدير

تعلمت سابقاً تقدير نواتج الجمع والطرح ضمن مئات الآلاف ، ويمكنني تقدير نواتج الجمع والطرح ضمن الملايين بالطريقة نفسها .

أمثلة

١ كيف أقدر إنتاج البئر من النفط الخام في الشهرين ؟

المطلوب هو إيجاد قيمة تقريبية للإنتاج .

أكبر مرتبة في إنتاج البئر في كلا الشهرين هي آحاد الملايين لذا أقدر الإنتاج في كلا الشهرين لأقرب مليون .

<p>الخطوة (٢) : أجمع العددين بعد التقريب</p> $\begin{array}{r} 800000 \\ + 900000 \\ \hline 1700000 \end{array}$ <p>التقدير</p>	<p>الخطوة (١) : أقرب كل عدد لأقرب مليون</p> $\begin{array}{r} 8430120 \leftarrow 800000 \\ 8790340 \leftarrow 900000 \end{array}$
---	---

لذا ، $8430120 + 8790340 \approx 1700000$ برميل إنتاج البئر في الشهرين .

٢ اقترض راضي مبلغاً ٣٥٢٧٥٠٠٠ دينار من المصرف العقاري لشراء شقق سكنية لأبنائه ، وقام بتسديد مبلغ ٢٧٦٢٥٠٠٠ دينار في السنة الأولى . قدر المبلغ المتبقي من القرض . أكبر مرتبة في مبلغ القرض ومبلغ التسديد هي عشرة ملايين . لذا ، أقرب المبلغين لأقرب مليون .



<p>الخطوة (٢) : أطرح العددين بعد التقريب</p> $\begin{array}{r} 3500000 \\ - 2762500 \\ \hline 700000 \end{array}$ <p>التقدير</p>	<p>الخطوة (١) : أقرب كل عدد لأقرب مليون</p> $\begin{array}{r} 3527500 \leftarrow 3500000 \\ 2762500 \leftarrow 2800000 \end{array}$
--	---

لذا ، $3527500 - 2762500 \approx 700000$ دينار المبلغ المتبقي من القرض هو ٧٠٠٠٠٠٠ دينار تقريباً .



٣ تبلغ مساحة قارة أمريكا الشمالية ٢٤٧١٠٠٠٠ كم^٢ ، و مساحة أمريكا الجنوبية ١٧٨٤٠٠٠٠ كم^٢ .

أقدر مساحة القارتين معاً مستعملاً التقريب لأقرب مئة ألف

الخطوة (١) : أقرب كل عدد لأقرب مئة ألف الخطوة (٢) : أطرح العددين بعد التقريب

$$\begin{array}{r} ٢٤٧٠٠٠٠ \\ ١٧٨٠٠٠٠ + \\ \hline ٤٢٥٠٠٠٠ \end{array}$$

التقدير

$$\begin{array}{r} ٢٤٧١٠٠٠٠ \leftarrow ٢٤٧٠٠٠٠ \\ ١٧٨٤٠٠٠٠ \leftarrow ١٧٨٠٠٠٠ \end{array}$$

إن ، $٢٤٧١٠٠٠٠ + ١٧٨٤٠٠٠٠ \approx ٤٢٥٠٠٠٠$.
مساحة القارتين معاً هي ٤٢٥٠٠٠٠ كم^٢ تقريباً .

أتأكد

أقدر ناتج الجمع بالتقريب لأقرب مليون :

١ $\approx ٥٤٧٠٠٠٢٠ + ٢١٤٠٠٠٦٠$

٢ $\approx ٤٢٣٠٠٦٧٠ + ٤٢٨١٠٤٠٠$

٣ $\approx ١٠٦٠٠٠٢١ + ٧١٣٠٠٠٦٦$

أقدر ناتج الطرح بالتقريب لأقرب مليون :

٤ $\approx ٢٩٠٠٠٠٠ - ٤٣٠٠٠٠٠$

٥ $\approx ٥٣٢٣٠٠٠٠ - ٨٢٦١٠٠٠٠$

٦ $\approx ٤٠٨٩٠٠٠٠١ - ٨١٥٢٠٠٠٠٤$

يبين الجدول مساحات أربع دول عربية :

٧ أقدر مساحة العراق والسعودية معاً لأقرب مئة ألف

كيلو متر مربع .

٨ أقدر الفرق بين مساحتي السودان والجزائر لأقرب مليون

كيلو متر مربع .

٩ أقدر مساحة السعودية والسودان والجزائر معاً لأقرب مليون كيلو متر مربع .

أحدث: كيف أستعمل التقريب لتقدير ناتج الجمع $٢٣٤٤٢١٠٠ + ٥١٧١٨٠٦٠$ ؟

الدولة	المساحة كم ^٢
العراق	٤٣٧٠٧٢
السعودية	٢١٥٠٠٠٠
السودان	١٨٨٦٠٠٠
الجزائر	٢٣٨١٧٤١

أقدر ناتج الجمع أو الطرح بالتقريب لأقرب مليون :

..... $\approx ٢٠٨٠٠٠٠١٢ + ٥٤١٠٠٠٠٢٧$ ١٠

..... $\approx ٤٦٣٠٠٠٣ + ٥١٧٠٠٠١$ ١١

..... $\approx ٤٠٨٩٠٠٠٠١ - ٨١٥٢٠٠٠٠٤$ ١٢

..... $\approx ٣٢٠٠٠٠٠ - ٨٦٠٠٠٠٠$ ١٣

أقدر ناتج الجمع أو الطرح لأقرب مليون :

..... $\approx ٢٢٠٧٦٠٢٧١ + ٦٢١٦٣٠٥٠٦$ ١٤

..... $\approx ٥٠٩٨٠٠٢٠٤ - ٧٢٦٢٠١٠٠٦$ ١٥

١٦ إذا علمت أن مساحة الولايات المتحدة الأمريكية ٩٨٣٤٠٠٠ كم^٢

ومساحة كندا ٩٩٨٥٠٠٠ كم^٢.

أقدر الفرق بين مساحتهما لأقرب مليون كيلو متر مربع.

١٧ بلغ إنتاج أحد مصانع النسيج لإحدى السنوات، ١٤٢١٠٠٠٠ متر

من القماش الأبيض و ٨٧٩٠٠٠٠ متر من القماش الملون .

ما مجموع إنتاج المصنع من النوعين تقريباً ؟

أفكر

١٨ **اكتشف الخطأ** كتبتُ علياً ناتج الجمع مقدراً بالتقريب لأقرب مليون كآتي :

..... $\approx ٣٠٦٦٧٠٠٠٠ + ٦٠١١٢٠٠٠٠$ ، اكتشف خطأ علياً ثمّ أصححه.

١٩ **تحذ :** أقدر ناتج الطرح بالتقريب لأقرب مليون .

..... $٣٩٩٧٢٣٨٠١ - ٧١٩٦٠٢١٤٥$

عددين ، ناتج جمعهما بالتقريب لأقرب مليون هو ٨٠٠٠٠٠٠٠ .

أكتب



٣ أحلُّ الجملة المفتوحة:

$$٢٧٥٣٦٤٢٥ = \boxed{} - ٨٦٠٠٢٩١٠$$

أحلُّ الجملة المفتوحة والذي هو نفسه حلُّ جملة الطرح:

$$\boxed{} = ٢٧٥٣٦٤٢٥ - ٨٦٠٠٢٩١٠$$

أطرح رأسيّاً

$$\begin{array}{r} ١٥٩٩ \quad ١٠ \\ ٧٥١٠١٠١٢٨٠١٠ \\ \underline{٨٦٠٠٢٩١٠} \end{array}$$

لذا العدد المفقود هو ٥٨٤٦٦٤٨٥ ، $\frac{٢٧٥٣٦٤٢٥}{٥٨٤٦٦٤٨٥} -$



٤ نزل غواصٌ إلى النقطة (أ) على عمق ٢٠٠ متر تحت

سطح الماء . توقف قليلاً ثم صعد للأعلى إلى النقطة

(ب) على عمق ١٦٠ متراً تحت سطح الماء .

ما المسافة التي صعدها الغواصٌ من النقطة (أ)

إلى النقطة (ب) ؟

أكتبُ جملةً مفتوحةً تعبرُ عن المسألة ثم أحلُّها .

$$١٦٠ = \boxed{} - ٢٠٠$$

$$٢٠٠ = \boxed{} + ١٦٠$$

$$\boxed{٤٠} = ١٦٠ - ٢٠٠$$

إذن ، العدد المفقود هو ٤٠

المسافة التي صعدها الغواصٌ من (أ) إلى (ب) هي ٤٠ متراً

أتأكد

أحلُّ كلَّ جملةٍ مفتوحةٍ :

$$٤ \dots \dots = \boxed{} - ٩ \dots \dots \quad ٦ \dots \dots = \boxed{} + ٢ \dots \dots$$

$$٥٧٩٩٠٠٨٨ = \boxed{} - ٨٤١٥٥٣٣٦ \quad ٩٢٤٤٠٢٠١ = \boxed{} + ٦٠٨٣٧١٧$$

$$٣ \dots \dots = ٥ \dots \dots - \boxed{} \quad ٧ \dots \dots = \boxed{} + ٥٥٠٦٠٦٠٨١$$





٧ تنتج محطة أبقار من الحليب ٤٥٠٣٠٠٠٠ لتراً شهرياً،

فإذا أنتجت محطة الأبقار الأولى ٢٣١٧٠٩٢٢ لتراً .

فما مقدار كمية الحليب الذي أنتجته محطة الأبقار الثانية؟

أتحدث: أشرح كيف أحلُّ جملةً مفتوحةً .



أحل

أحلُّ كل جملة مفتوحة .

$$٨٠٠٠٠٠ = \boxed{} + ٥٠٠٠٠٠ \quad ٨$$

$$٢٠٠٠٠٠ = \boxed{} - ٧٠٠٠٠٠ \quad ٩$$

$$٤٩٨٨٠٩٦ = \boxed{} - ٧٦٢٣٣٧٧ \quad ١٠$$

$$٦٠٠٠٠٠٠ = \boxed{} + ٤٤٠٣٠٣٠٩٢ \quad ١١$$

$$٧٠٠٠٠٠٠ = ٢٠٠٠٠٠٠ - \boxed{} \quad ١٢$$

١٣ قُدِّر وزنُ جبلِ جليديٍّ في القطبِ الشمالي في فصل الشتاء

فكان ٦٠٤٤٠٥٥٠ كغم، وفي فصل الصيف بدأ الجليد يذوبُ

نتيجة ارتفاع درجات الحرارة حتى أصبح وزنه ٤٢٠٠٦٦٠٤

كغم . ما وزنُ كمية الجليد التي ذابت من الجبل؟

أفكر

تحذ: كيف أجد العدد المفقود في الجملة التالية:

$$٤٠٠٠٠٠٠ = ٣٠٠٠٠٠٠ - \boxed{} - ٩٠٠٠٠٠٠ \quad ١٤$$

سؤال مفتوح: أجد العدد المفقود في الجملة التالية:

$$٧٠٠٠٠٠٠ < \boxed{} < ٩٠٠٠٠٠٠ \quad ١٥$$

أكتب

العدد المفقود في $\boxed{}$:

$$٧٠٠٠٠٠٠ = ٤٠٠٠٠٠٠ + ٣٠٠٠٠٠٠$$

$$٤٠٠٠٠٠٠ = \boxed{} - ٧٠٠٠٠٠٠$$



خطة حل المسألة (حل مسألة أسهل)

أتعلم



اقترض مهندس ٣٢٦٤٠٠٠٠ دينار من أحد المصارف و٢٠٣١٠٠٠٠ دينار من أخيه لشراء شقة ، سدد من القرضين ٢٣٧٨٠٠٠٠ دينار مالمبلغ المتبقي عليه من القرضين الواجب تسديده ؟

فكرة الدرس

استعمل خطة حل المسألة لحل مسألة أسهل .

أفهم

مامعطيات المسألة؟ المبلغ الذي اقترضه مهندس من المصرف ٣٢٦٤٠٠٠٠ دينار المبلغ الذي اقترضه من أخيه ٢٠٣١٠٠٠٠ دينار .

المبلغ الذي تم تسديده من القرضين ٢٣٧٨٠٠٠٠ دينار .

ما المطلوب في المسألة؟ إيجاد المبلغ المتبقي من القرضين الذي عليه تسديده .

أخطط

كيف أحل المسألة؟ أحل مسألة أسهل لتساعدني على حل المسألة :

أفرض ما اقترضته من المصرف ٣٢ ديناراً و من أخي ٢٠ ديناراً وسددت من القرضين ٢٣ ديناراً .

أجمع القرضين لأجد المبلغ الكلي الذي اقترضته . ثم أطرح منه المبلغ المسدد .

أجمع :	٣٢	+	٢٠	=	٥٢
أطرح :	٥٢	-	٢٣	=	٢٩

أحل

الآن أحل المسألة بالأعداد الأصلية بنفس الأسلوب :

أجمع القرضين . ثم أطرح من الناتج المبلغ المسدد :

أجمع :	٣٢٦٤٠٠٠٠	+	٢٠٣١٠٠٠٠	=	٥٢٩٥٠٠٠٠
أطرح :	٥٢٩٥٠٠٠٠	-	٢٣٧٨٠٠٠٠	=	٢٩١٧٠٠٠٠

لذا المبلغ المتبقي من القروض الواجب تسديدها هو ٢٩١٧٠٠٠٠ دينار

أتحقق

أجمع المبلغ المتبقي والمبلغ الذي تم تسديده :

$$٥٢٩٥٠٠٠٠ = ٢٣٧٨٠٠٠٠ + ٢٩١٧٠٠٠٠$$

ناتج الجمع هو مجموع القرضين . لذا الإجابة صحيحة .

مَسَائِلُ



- ١ مساحة قارة آسيا ٤٣٨٢٠٠٠٠ كيلومتراً مربعاً. ومساحة قارة أوروبا ١٠١٨٠٠٠٠ كيلومتراً مربعاً. فما مساحة القارتين معاً؟



- ٢ إنطلقت باخرة تجارية من المرفأ (أ) محملة بـ ٣٤٥٧٦٠٠٠ كيس من السكر وعندما رست عند المرفأ (ب) أفرغت جزء من حمولتها ثم غادرت المرفأ وهي تحمل ١٥٣٥٨٠٠٠ كيس من السكر . ما عدد أكياس السكر التي أفرغتها الباخرة في المرفأ (ب)؟



- ٣ بلغ عدد سكان قارة أمريكا الشمالية في إحدى السنوات ٥٢٨٧٢٠٥٨٨ نسمة، وعدد سكان قارة أمريكا الجنوبية ٣٨٢٠٠٠٠٠٠ نسمة . وعدد سكان قارة افريقيا ١٠٢٢٣٤٠٠٠ نسمة. بكم يزيد عدد سكان افريقيا على عدد سكان أمريكا الشمالية وأمريكا الجنوبية معاً؟

يُبين الجدول الإنتاج اليومي لبعض الدول العربية . اعتمد عليه لحل الأسئلة ٤ - ٦

الدولة	السعودية	العراق	الإمارات	الكويت	قطر	الجزائر
الإنتاج / براميل	٩٩.....	٣٤.....	٣٠.٨٣.....	٢٦.٨٢.....	١٦.٣١.....	١٨.٨٥.....

- ٤ رتب الدول بحسب إنتاجها من البترول من الأصغر إلى الأكبر .
- ٥ كم يزيد إنتاج السعودية على إنتاج الإمارات والكويت معاً؟
- ٦ كم يقل إنتاج الجزائر عن إنتاج العراق؟
- ٧ زار ٢٧٩٢٤٢٦ شخصاً حديقة في السنة الأولى من افتتاحها . وزارها ١٥٣٠٤٠٠ شخص في النصف الأول من السنة الثانية . كم شخصاً من المفترض أن يزور الحديقة في النصف الثاني من السنة الثانية ليكون عدد زوار الحديقة في السنة الثانية متساوياً في السنتين؟

مراجعة الفصل

المفردات

الجملة المفتوحة، العدد المفقود، المليار، تقدير، طرح أعداد كبيرة، جمع أعداد كبيرة

أكمل الجمل الآتية باستعمال المفردات في الجدول اعلاه :

- ١ حل الجملة المفتوحة هو إيجاد فيها .
- ٢ هي عبارة رياضية تحتوي على عدد واحد مفقود أو أكثر .
- ٣ يستعمل التقريب في نواتج الجمع والطرح .

جمعُ الأعدادِ ضمنِ الملياراتِ وطرحها

الدرسُ (١)

مثال ١ : أجد ناتج الجمع :

المليارات	الملايين			الالوف			وحدات			
	احاد	مئات	عشرات	احاد	مئات	عشرات	احاد	مئات	عشرات	احاد
٥	٤	٠	٧	١	٩	٠	٢	٧	٤	
١	٦	٠	٥	٨	٣	٤	٥	٦	٠	+
٧	٠	١	٣	٠	٢	٤	٨	٣	٤	

تدريب ١ : أجد ناتج الجمع :

المليارات	الملايين			الالوف			وحدات			
	احاد	مئات	عشرات	احاد	مئات	عشرات	احاد	مئات	عشرات	احاد
٢	٢	٠	١	٢	٠	٣	٥	١	٠	
٦	٨	٧	٩	٩	٦	٨	٤	٩	٥	+

مثال ٢ : أجد ناتج الطرح :

المليارات	الملايين			الالوف			وحدات			
	احاد	مئات	عشرات	احاد	مئات	عشرات	احاد	مئات	عشرات	احاد
٦	٢	٥	٤	٧	٧	١	٢	٣	٥	
٢	٦	٠	٠	٩	٥	٧	٧	٦	١	-
٣	٦	٥	٣	٨	١	٣	٤	٧	٤	

تدريب ٢ : أجد ناتج الطرح :

المليارات	الملايين			الآلاف			وحدات		
	احاد	مئات	عشرات	احاد	مئات	عشرات	احاد	مئات	عشرات
٩	٣	٤	٦	٤	٣	٦	٣	٦	٢
٤	٨	٨	٥	٠	٩	٩	٧	٠	٥

تدريب ٣ : أجد ناتج الطرح :

$$\begin{array}{r} ٨٠٠٠٠٦٠٠٠٤ \\ - ٣١٩٩١١٠٥٥ \\ \hline \end{array}$$

$$\begin{array}{r} ٨٠٤٠٠٠٠٠ \\ - ٢٦٠٣١٠٢٤ \\ \hline \end{array}$$

الدرس (٢) تقدير نواتج الجمع والطرح

مثال ١ : أقدر ناتج الجمع بالتقريب لأقرب مليون :

$$٦٣٦١٠٠٢ + ٢٨٤٥٠٠٦ \approx \dots\dots\dots$$

أقرب كل عدد لأقرب مليون :

$$\begin{array}{r} ٦٠٠٠٠٠٠ \\ + ٣٠٠٠٠٠٠ \\ \hline ٩٠٠٠٠٠٠ \text{ التقدير} \end{array} \quad \left| \quad \begin{array}{r} ٦٠٠٠٠٠٠ \leftarrow ٦٣٦١٠٠٢ \\ ٣٠٠٠٠٠٠ \leftarrow ٢٨٤٥٠٠٦ \end{array}$$

$$\text{لذا } ٩٠٠٠٠٠٠ \approx ٦٣٦١٠٠٢ + ٢٨٤٥٠٠٦$$

تدريب ١ : أقدر ناتج الجمع بالتقريب لأقرب مليون :

$$\dots\dots\dots \approx ٢٧٤٠٦٠١ + ٤٣٥٠٣٠٤$$

مثال ٢ : أقدر ناتج الطرح بالتقريب لأقرب مليون :

$$\dots\dots\dots \approx ٢٧٣٢٧٠١٠ - ٨٣٩١٣٠٩٠$$

أقرب كل عدد لأقرب مليون :

$$\begin{array}{r} ٨٤٠٠٠٠٠٠ \\ - ٢٧٠٠٠٠٠٠ \\ \hline ٥٧٠٠٠٠٠٠ \text{ التقدير} \end{array} \quad \left| \quad \begin{array}{r} ٨٤٠٠٠٠٠٠ \leftarrow ٨٣٩١٣٠٩٠ \\ ٢٧٠٠٠٠٠٠ \leftarrow ٢٧٣٢٧٠١٠ \end{array}$$

$$\text{لذا } ٥٧٠٠٠٠٠٠ \approx ٢٧٣٢٧٠١٠ - ٨٣٩١٣٠٩٠$$

تدريب ٢ : أقدّر ناتج الطرح بالتقريب لأقرب مليون :

$$52910900 - 27350500 \approx \dots\dots\dots$$

الجمل المفتوحة

الدرس (٣)

مثال ١ : أحلّ الجملة المفتوحة:

$$71330101 = \boxed{} + 5092414$$

أستعمل العلاقة بين الجمع والطرح وأكتب جملة طرح مرتبطة بجملة الجمع :

$$\boxed{} = 5092414 - 71330101$$

أطرح رأسياً

$$\begin{array}{r} 71330101 \\ - 5092414 \\ \hline \end{array}$$

$$66237687$$

لذا العدد المفقود هو 66237687

تدريب ١ : أحلّ الجملة المفتوحة:

$$9345117 = \boxed{} + 6093514$$

مثال ٢ : أحلّ الجملة المفتوحة:

$$46887076 = \boxed{} - 91006553$$

أكتب جملة مرتبطة مع جملة الطرح في السؤال:

$$\boxed{} = 46887076 - 91006553$$

أطرح رأسياً

$$\begin{array}{r} 46887076 \\ - 91006553 \\ \hline \end{array}$$

$$44119477$$

لذا العدد المفقود هو 44119477

تدريب ٢ : أحلّ الجملة المفتوحة:

$$45533777 = \boxed{} - 7000000$$



اختبار الفصل

١ اجمع :

$$٤٠٠٠٠٠٠٠ \text{ مليوناً } + ٢٠٠٠٠٠٠٠ \text{ مليوناً } = \dots\dots\dots \text{ مليوناً }$$

٢ اطرح :

$$٨٠٠٠٠٠٠٠ \text{ مليوناً } - ٣٠٠٠٠٠٠٠ \text{ مليوناً } = \dots\dots\dots \text{ مليوناً }$$

$$\dots\dots\dots = ٣٠٠٠٠٠٠٠ - ٨٠٠٠٠٠٠٠$$

٣ أجد ناتج الجمع :

المليارات	الملايين			الألوف			الوحدات			
	آحاد	مئات	عشرات	آحاد	مئات	عشرات	آحاد	مئات	عشرات	
٨	٨	٦	٧	٩	٤	٠	٢	٥	٠	+
١	٠	٠	٧	٢	٦	٤	٨	٧	٣	

٦ $٢٤٥٥٧٨٧٠٠٩ +$

٥ $٦١٧٠٦٩٩٧٢ +$

٤ $٧١٨٠٦٨١ +$

$٥٩٠٨٤٢٤٠٣١ +$

$١٦٠٧٤٠٨٠١ +$

$٣٤٠٥٣٧٢٥ +$

٧ أجد ناتج الطرح :

المليارات	الملايين			الألوف			الوحدات			
	آحاد	مئات	عشرات	آحاد	مئات	عشرات	آحاد	مئات	عشرات	
٨	٣	٣	٨	٢	٢	٦	٣	٣	٦	-
٤	٨	٥	٣	٠	٤	٩	٧	٥	٢	

اختيار الفصل

$$٤٠٠٠٠٠٠ \quad ١٠$$

$$١٣٨٨٠٠١٠ -$$

$$٩٩٦٨٧٢٧٤١٤ \quad ٩$$

$$١٤٨٣٥٩٠٢٦٦ -$$

$$٧٢٤٣٢٣٥٥ \quad ٨$$

$$٥٨٨٣٨٦٠ -$$

أقدر ناتج الجمع أو الطرح بالتقريب لأقرب مليون :

$$\dots \approx ٣٠٩٠٠٠٠٢٤ + ٤٥٢٠٠٠٠٥١ \quad ١١$$

$$\dots \approx ٢٠٣٨٦٠٠٠٧ + ٧٢٢٦٣٠٠٠٣ \quad ١٢$$

$$\dots \approx ٣١٣٠٠٠٠ - ٧٢٩٠٠٠٠ \quad ١٣$$

$$\dots \approx ٥٠٠٤٢٠٠٠٥ - ٨٢٢٠٨٠٠٠٢ \quad ١٤$$

أحل الجمل المفتوحة :

$$٣٠٠٠٠٠٠ = \boxed{} - ٩٠٠٠٠٠٠ \quad ١٥$$

$$٨٣٧٣٠٣٠١ = ٦٠٠٨٥٠١٢ + \boxed{} \quad ١٦$$

$$\boxed{} = ٣٦٨٥٠٤٨٤٢ - ٩١٥٣٥٦٦٣٩ \quad ١٧$$

$$٨٠٠٠٠٠٠٠ = \boxed{} + ٦٦٠٥٠٥٠١١١ \quad ١٨$$

١٩ باخرة شحن تجارية تزن وهي محملة بالحاويات ٧٠٠٠٠٠٠٠ كغم. كم يبلغ وزن الحاويات إذا

علمت أن الباخرة تزن وهي فارغة ٢٠٤٥٠٦٨٨ كغم؟



ضربُ الأعدادِ



سوفُ أتعلّمُ في هذا الفصل :

الدرس (١) الضربُ في (١٠، ١٠٠، ١٠٠٠) ومضاعفاتها.

الدرس (٢) ضربُ عددٍ من ثلاثِ مراتبٍ في عددٍ من مرتبةٍ واحدة.

الدرس (٣) ضربُ عددٍ من ثلاثِ مراتبٍ في عددٍ من مرتبتين.

الدرس (٤) خطة حل المسألة (أخمنُ وأتحمقُ).

ينقلُ القطارُ المسافرينَ من بغدادَ الى البصرة في رحلتين يوميًا. يمكنني حسابُ عددِ الرحلاتِ التي يقومُ بها القطارُ في سنةٍ كاملةٍ (السنة ٣٦٥ يومًا) باستعمالِ الضربِ.

الاختبار القبلي

أكمل نمط الضرب الآتي:

$$\dots = 4 \times 7 \text{ ٤}$$

$$\dots = 40 \times 7$$

$$\dots = 400 \times 7$$

$$\dots = 4000 \times 7$$

$$\dots = 3 \times 9 \text{ ١}$$

$$\dots = 30 \times 9$$

$$\dots = 300 \times 9$$

$$\dots = 3000 \times 9$$

أجد ناتج الضرب.

$$75 \text{ ٤}$$

$$\begin{array}{r} 75 \\ \times 6 \\ \hline \end{array}$$

$$56 \text{ ٦}$$

$$\begin{array}{r} 56 \\ \times 89 \\ \hline \end{array}$$

$$51 \text{ ٣}$$

$$\begin{array}{r} 51 \\ \times 3 \\ \hline \end{array}$$

$$44 \text{ ٥}$$

$$\begin{array}{r} 44 \\ \times 31 \\ \hline \end{array}$$

$$\dots = 7 \times 83 \text{ ٨}$$

$$\dots = 57 \times 81 \text{ ١٠}$$

$$41 \text{ ١٢}$$

$$\begin{array}{r} 41 \\ \times 80 \\ \hline \end{array}$$

$$\dots = 3 \times 49 \text{ ٧}$$

$$\dots = 11 \times 65 \text{ ٩}$$

$$22 \text{ ١١}$$

$$\begin{array}{r} 22 \\ \times 30 \\ \hline \end{array}$$

$$\dots = 90 \times 45 \text{ ١٤}$$

$$\dots = 20 \times 26 \text{ ١٣}$$

أقدر الناتج، وأبين ما إذا كان ناتج التقدير أكبر أم أصغر من ناتج الضرب الحقيقي.

$$\dots = 64 \times 81 \text{ ١٦}$$

$$\dots = 27 \times 17 \text{ ١٥}$$

١٧ اشترى فلاح ٤ علب زيت الزيتون، وه علب زيت الذرة. إذا كان في كل علبه اشترها ١٥

لترًا. كم لترًا من الزيت اشترى الفلاح؟

الضرب في (١٠، ١٠٠، ١٠٠٠) ومضاعفاتها

الدرس ١



أتعلم

في كرة صوف ١٠٠ متر من الصوف . كم متراً من الصوف يوجد في ٣ كرات صوف من النوع نفسه؟

فكرة الدرس

أضرب في مضاعفات ١٠، ١٠٠، ١٠٠٠ مستعملاً الحقائق الأساسية والأنماط في الضرب

يمكنني استعمال حقائق الضرب الأساسية لأجد ناتج ضرب أي عدد من الأعداد في ١٠، ١٠٠، ١٠٠٠ ومضاعفاتها.

أمثلة

١ أستعمل الحقائق الأساسية والأنماط في الضرب لأجد عدد الأمتار

$$3 \times 1 = 3 \quad 3 \times 1 \text{ آحاد} = 3 \text{ آحاد}$$

$$3 \times 10 = 30 \quad 3 \times 10 \text{ عشرات} = 30 \text{ عشرات}$$

$$3 \times 100 = 300 \quad 3 \times 100 \text{ مئة} = 300 \text{ مئة}$$

لذا العدد الكلي للأمتار هو ٣٠٠ متر

٢ أجد ناتج 2×4000

$$2 \times 4 = 8 \quad 2 \times 4 \text{ آحاد} = 8 \text{ آحاد}$$

$$2 \times 40 = 80 \quad 2 \times 40 \text{ عشرات} = 80 \text{ عشرات}$$

$$2 \times 400 = 800 \quad 2 \times 400 \text{ مئة} = 800 \text{ مئة}$$

$$2 \times 4000 = 8000 \quad 2 \times 4000 \text{ آلاف} = 8000 \text{ آلاف}$$

لذا 2×4000 هو ٨٠٠٠

الأحظ أن ٨٠٠٠ هو ناتج ضرب 2×4 بإضافة ٣ أصفار إلى اليمين



ويمكنني أيضا ضربُ أي عددٍ في مضاعفاتِ ١٠، ١٠٠، ١٠٠٠ ذهنياً

٢٠ مضاعف للعدد ١٠

$$١٢٠ = ٢٠ \times ٦ \quad ٣$$

٢٠٠ مضاعف للعدد ١٠٠

$$١٢٠٠ = ٢٠٠ \times ٦$$

٢٠٠٠ مضاعف للعدد ١٠٠٠

$$١٢٠٠٠ = ٢٠٠٠ \times ٦$$

٤ معدل وزنِ الجملِ البالغ ٥٠٠ كيلوغرام ، ما وزنُ ٩ جمالٍ لها الوزنُ نفسه ؟

لإيجادِ وزنِ الجمالِ أضربُ ٩ × ٥٠٠

$$٤٥ = ٥ \times ٩ \quad \text{وأضعُ صفرينِ الى اليمينِ}$$

$$٤٥٠٠ = ٥٠٠ \times ٩$$

لذا وزنُ ٩ جمالٍ هو ٤٥٠٠ كيلوغراما

أتأكد

أجدُ ناتجَ الضربِ مستعملاً الحقائقَ الأساسيةَ والأنماطَ لكل مما يلي :

$$\dots = ٢ \times ٧ \quad ٣$$

$$\dots = ٤ \times ٦ \quad ٤$$

$$٥ = ١ \times ٥ \quad ١$$

$$\dots = ٢٠ \times ٧$$

$$\dots = ٤٠ \times ٦$$

$$٥٠ = ١٠ \times ٥$$

$$\dots = ٢٠٠ \times ٧$$

$$\dots = ٤٠٠ \times ٦$$

$$\dots = ١٠٠ \times ٥$$

$$\dots = ٢٠٠٠ \times ٧$$

$$\dots = ٤٠٠٠ \times ٦$$

$$\dots = ١٠٠٠ \times ٥$$

أجدُ ناتجَ الضربِ ذهنياً

$$\dots = ٩٠٠٠ \times ٩ \quad ٦$$

$$\dots = ٥٠ \times ٨ \quad ٥$$

$$\dots = ٣٠٠ \times ٦ \quad ٤$$

٧ تجمعُ أسماءً في حصالتها يومياً ١٠٠٠ دينار ، ما مقدارُ ما تجمعهُ أسماءُ خلالَ ٧ أيامٍ ؟

٨ معدلُ نومِ الزرافةِ في اليومِ الواحدِ هو ٤ ساعاتٍ ، ما عددُ

ساعاتِ نومِها في ١٠٠ يومٍ ؟

أحدثُ: كيفَ أجدُ ناتجَ ضربِ ٨ في ١٠ و ١٠٠ و ١٠٠٠.



أجد ناتج الضرب مستعملاً الحقائق الأساسية والأنماط لكل مما يلي :

$$\dots = 8 \times 9 \quad (11)$$

$$\dots = 7 \times 5 \quad (10)$$

$$\dots = 1 \times 4 \quad (9)$$

$$\dots = 80 \times 9$$

$$\dots = 70 \times 5$$

$$\dots = 10 \times 4$$

$$\dots = 800 \times 9$$

$$\dots = 700 \times 5$$

$$\dots = 100 \times 4$$

$$\dots = 8000 \times 9$$

$$\dots = 7000 \times 5$$

$$\dots = 1000 \times 4$$

أجد ناتج الضرب ذهنياً

$$\dots = 3000 \times 2 \quad (14)$$

$$\dots = 200 \times 6 \quad (13)$$

$$\dots = 40 \times 7 \quad (12)$$

$$\dots = 1000 \times 28 \quad (17)$$

$$\dots = 7000 \times 9 \quad (16)$$

$$\dots = 2000 \times 8 \quad (15)$$

١٨ توفرُ سعادٌ مبلغَ ١٠٠٠ دينارٍ يومياً ، ما المبلغُ الذي توفرهُ في ٩ أيام ؟

١٩ يقطعُ سميرُ مسافةَ ٢٠٠٠ مترٍ ذهاباً وإياباً يومياً إلى المدرسة ، ما المسافةُ التي يقطعها سميرٌ

في ٥ أيامٍ عند ذهابه إلى المدرسة؟

أفكر

حسّ عددي : أكتبُ العددَ المفقودَ في

$$3000 = \square \times 6 \quad \text{فإن}$$

$$30 = \square \times 6 \quad \text{إذا كان} \quad (20)$$

$$5600 = \square \times 8 \quad \text{فإن}$$

$$56 = \square \times 8 \quad \text{إذا كان} \quad (21)$$

$$= 700 \times 800 \quad \text{تحد : ناتج} \quad (22)$$

٢٣ أجدُ جملي ضربٍ مختلفين يكون ناتجُ ضربٍ كل منهما يساوي ٢٤٠٠٠.

كيف اضربُ ٦٠٠ × ٥

أكتب

الدرس ٢ ضرب عدد من ثلاث مراتب في عدد من مرتبة واحدة

أتعلم



٤ بساتين للفاكهة في كل بستان
٣٤٢ شجرة، كيف يمكنني إيجاد
عدد أشجار الفاكهة في البساتين
الأربعة؟

فكرة الدرس

أضرب عدداً من ثلاث
مراتب في عدد من
مرتبة واحدة

تعلمت سابقاً ضرب عدد من مرتبتين في عدد من مرتبة واحدة. يُمكنني ضرب عدد من ثلاث مراتب أو أكثر في عدد من مرتبة واحدة بالطريقة نفسها.

أمثلة

١ لأجد عدد أشجار الفاكهة في البساتين الأربعة أضرب 4×342

الطريقة الأولى: أضرب المراتب
الخطوة (١): أضرب ٤ بالآحاد

$$4 \times 2 \text{ آحاد} = 8 \text{ آحاد}$$

$$\begin{array}{r} 342 \\ \times 4 \\ \hline 8 \end{array}$$

4×4 عشرات = ١٦ عشرة
أعيد تجميع ١٦ عشرة إلى ١٠٠
مئة و ٦ عشرات

$$\begin{array}{r} 342 \\ \times 4 \\ \hline 8 \\ 160 \\ \hline 1368 \end{array}$$

الخطوة (٢): أضرب ٤ بالعشرات

4×3 مئات = ١٢ مئة
 12 مئة + 100 مئة = 13 مئة
 13 مئة هي ١ الف و ٣ مئات

$$\begin{array}{r} 342 \\ \times 4 \\ \hline 8 \\ 160 \\ 1200 \\ \hline 1368 \end{array}$$

الخطوة (٣): أضرب ٤ بالمئات

الطريقة الثانية: أستعمل الصورة التحليلية.

$$\begin{array}{r} 342 \\ \times 4 \\ \hline 8 \\ 160 \\ 1200 + \\ \hline 1368 \end{array}$$

$8 = 2 \times 4$
 $160 = 40 \times 4$
 $1200 = 300 \times 4$
أجمع نواتج الضرب

توجد ١٣٦٨ شجرة في البساتين الأربعة.



٢ اشترت حنان لبناتها مريم وهند وسلوى ٣ علب أقلام تلوين. ثمن العلبة الواحدة ٧٥٠ ديناراً. كم ديناراً دفعت حناناً ثمناً للعلب الثلاث؟

لإيجاد ثمن العلب الثلاث، أضرب ٣ × ٧٥٠ أستعمل الضرب العمودي.

$$\begin{array}{r} ٧٥٠ \\ \times ٣ \\ \hline ٢١٠٠ + \\ ٢٢٥٠ \\ \hline \end{array}$$

دفعت حنان ٢٢٥٠ ديناراً ثمناً لعلب الألوان.

أضرب ٣ بالآحاد ٣ × ٠ = ٠

أضرب ٣ بالعشرات: ٣ × ٥ عشرات = ١٥٠

أضرب ٣ بالمئات: ٣ × ٧ مئات = ٢١٠٠

أجمع وأعيد تسمية الناتج ٢ مئات و ٢ الاف

٣ أجد ناتج الضرب ٧٣٤ × ٦ باستعمال الصورة التحليلية.

$$\begin{array}{r} ٧٣٤ \\ \times ٦ \\ \hline ٢٤ \\ ١٨٠ + \\ ٤٢٠٠ \\ \hline ٤٤٠٤ \end{array}$$

أضرب ٦ بالآحاد: ٦ × ٤ = ٢٤

أضرب ٦ بالعشرات: ٦ × ٣٠ = ١٨٠

أضرب ٦ بالمئات: ٦ × ٧٠٠ = ٤٢٠٠

أجمع

أتأكد

أجد ناتج الضرب.

٣ = ٤ × ٤٢٣

٤ = ٣ × ٢٧٥

١ = ٦ × ٦٠٠

٦ = ٨ × ٥٠٣

٥ = ٢ × ٨٥٣

٤ = ٧ × ٧٠١

٩ ٣٨٩

٨ ٣٠٢

٧ ٨٨١

٧ ×

٥ ×

٩ ×

١٠ إذا كانت المسافة بين بغداد والبصرة ٥٥٠ كم، فما المسافة التي يقطعها المسافرُ ذهاباً وإياباً؟



١١ يأكل الأسد في الوجبة الواحدة ٧ كغم من اللحم. كم كيلوغراماً

من اللحم يأكل الأسد في ٢٥ وجبة؟



أُتحدّثُ: أشرح كيف أستعمل الصورة التحليلية لإيجاد ناتج ٥×٣٩٢ .

أحل

أجد ناتج الضرب.

..... = ٢×٤٨٧ (١٤)

..... = ٣×٩٥٠ (١٣)

..... = ٨×١١٧ (١٢)

..... = ٩×٨٠٨ (١٧)

..... = ٧×١٠٤ (١٦)

..... = ٦×٦٥٠ (١٥)

٨٧٦ (٢٠)

٥٥٢ (١٩)

٧٠٠ (١٨)

$٥ \times$

$٤ \times$

$٦ \times$

٢١ مزرعة لتربية الدواجن فيها ثلاث قاعات. في كل قاعة ٦٢٥ دجاجة. كم دجاجة في المزرعة؟



٢٢ تبلغ الحمولة القصوى لطائرة مدنية ٢٨٣ راكباً. كم راكباً يمكن أن

يسافر على متن ٥ طائرات من النوع نفسه بحمولتها القصوى؟

يبين الجدول المجاور أسعار نوع من الفطائر وعلبة العصير بالدينار في مطعمين مختلفين.

ذهبت عائلة أحمد المكونة من ٥ أفراد إلى المطعم (أ) وذهبت عائلة كريم المكونة من ٦ أفراد

إلى المطعم (ب) وطلب كل فرد من العائلتين فطيرة وعلبة عصير.

المطعم	سعر الفطيرة	سعر علبة العصير
أ	٧٥٠	٥٠٠
ب	٨٥٠	٦٠٠

٢٣ كم ديناراً دفعت عائلة أحمد للمطعم (أ)؟

٢٤ كم ديناراً دفعت عائلة كريم للمطعم (ب)؟

٢٥ أيهما دفعت أكثر عائلة أحمد أم عائلة كريم؟ اشرح.

أفكر

٢٦ **تحدّ:** يتدرب لاعب رياضي ٣ ساعات يومياً، كم ساعة يتدرب خلال ٢٥ أسبوعاً؟

٢٧ **حسّ عدديّ:** ما الفرق بين العددين ٧×٢٥٣٠٠ و ٨×٢٥٣٠٠ شفويّاً؟

مسألة تمثل حاصل ضرب ٤٢٢×٥ وأجد الناتج.

أكتب

الدرس ٣ ضرب عدد من ثلاث مراتب في عدد من مرتبتين

الدرس ٣

أتعلم



تقطع سيارة سباق مسافة ٣٢٠ كم في الساعة، يمكنني استعمال عملية الضرب لأجد المسافة التي تقطعها السيارة في ١٢ ساعة إذا سارت بالسرعة نفسها.

فكرة الدرس

أضرب عدداً من ثلاث مراتب في عدد من مرتبتين

تعلمت سابقاً ضرب عددين كل منهما من مرتبتين ويمكنك ضرب عدد من مرتبتين في عدد من ٣ مراتب بالطريقة نفسها.

أمثلة

١ أجد المسافة التي تقطعها السيارة إذا سارت بسرعة ٣٢٠ كم بالساعة .
الخطوة (١) : أضرب بالآحاد

$$\begin{array}{r} 320 \\ 12 \times \\ \hline 640 \end{array}$$

$$640 = 320 \times 2$$

الخطوة (٢) : أضرب بالعشرات

$$\begin{array}{r} 320 \\ 12 \times \\ \hline 640 \\ 3200 + \\ \hline 3840 \end{array}$$

$$3200 = 320 \times 10$$

أجمع

لذا فإن المسافة التي تقطعها السيارة في ١٢ ساعة هي ٣٨٤٠ كيلومتر.

٢ يحتاج جسم الإنسان البالغ إلى شرب ١٣ كوباً من الماء يومياً، كم كوباً من الماء يشرب خلال ١٨٢ يوماً؟



$$\begin{array}{r} 182 \\ 13 \times \\ \hline 546 \end{array}$$

$$546 = 182 \times 3$$

$$1820 = 182 \times 10$$

أجمع

$$\begin{array}{r} 1820 \\ 546 + \\ \hline 2366 \end{array}$$

الخطوة (٢) : أضرب بالعشرات

٣ أجدُ ناتجَ ١٥٢×٣٦

الخطوةُ (١) : أضربُ بالآحادِ

الخطوةُ (٢) : أضربُ بالعشراتِ

لذا $٥٤٧٢ = ٣٦ \times ١٥٢$

$$\begin{array}{r} ١٥٢ \\ ٣٦ \times \\ \hline ٩١٢ \\ ٤٥٦٠ + \\ \hline ٥٤٧٢ \end{array}$$

أجمع

$$٩١٢ = ١٥٢ \times ٦$$
$$٤٥٦٠ = ١٥٢ \times ٣٠$$

أتأكد

أجدُ ناتجَ الضربِ.

١ ١٠٠×١٢

٢ ٢٠٢×٦٥

٣ ٣١١×٢٠

٤ ٤٠٥×١٥

٥ ٥٦٠×٢٤

٦ ٤٦×٤٨٥

٧ ٨٠٨×٧٦

٨ ٩٣٠×٥٧

٩ ٧٥٦×٣٧



١٠ تنقلُ شاحنةٌ صغيرةٌ يومياً من مزارعِ القمحِ الى المخازنِ ٨٥٠ كيلوغراماً من القمحِ. كم كيلو غراماً من القمحِ تنقلُ الشاحنةُ خلالَ أسبوعينِ؟



١١ يشربُ الفيلُ البالغُ ١٢٠ لتراً من الماءِ يومياً . كم لتراً من الماءِ يشربُ في ٢٥ يوماً؟

أحدثُ : أشرحُ كيفَ أحتاجُ إلى إعادةِ التسميةِ لإيجادِ ناتجِ ضربِ ٧٨٩×٣٤ .

أحل

أختارُ الإجابةَ الصحيحةَ.

٢٠٠ ، ٦٠٠٠ ، ٩٠٠٠

١٢ $٤٥٠ \times ٢٠ = \dots$

١٦٠٠٠ ، ١٥٦٦٠ ، ١٥٠٠٠

١٣ $٥٢٢ \times ٣٠ = \dots$

١٠٧٦٤ ، ١٠٧٠٠ ، ٨٠٠٠

١٤ $٨٩٧ \times ١٢ = \dots$



أجدُ ناتجَ الضربِ.

$$\dots = 59 \times 305 \quad (17)$$

$$\dots = 64 \times 549 \quad (16)$$

$$\dots = 35 \times 602 \quad (15)$$

$$\dots = 90 \times 923 \quad (20)$$

$$\dots = 607 \times 48 \quad (19)$$

$$\dots = 286 \times 78 \quad (18)$$

$$465 \quad (23)$$

$$644 \quad (22)$$

$$908 \quad (21)$$

$$59 \times$$

$$87 \times$$

$$35 \times$$

٢٤) وزعَ مديرُ مدرسةٍ ١٢ قلمًا على كل تلميذ في مدرسته التي عددُ تلاميذها ٤٢٣ تلميذًا، ما عددُ الأقلام التي تمَّ وُزعتْ عليهم؟



٢٥) ينتجُ مصنعُ للسَّجادِ ٩٥ قطعة من السَّجادِ في اليوم الواحد، كم قطعة سَّجادٍ ينتجُ المصنَّعُ في ١٨٠ يومًا؟

أفكر

تحَدُّ أكتبُ العددَ المفقودَ في :

٢٧

$$\begin{array}{r} 500 \\ \times 44 \\ \hline \square 000 \\ + 2\square 0 \square 0 \\ \hline \square \square \square \square \square \end{array}$$

٢٦

$$\begin{array}{r} 452 \\ \times 14 \\ \hline 1\square 08 \\ + 452\square \\ \hline \square\square 28 \end{array}$$

٢٨) حسِّ عدديًّا: بكم يزيدُ حاصلُ ضربِ ٣٢ × ٥٠ على حاصلِ ضربِ ٣٠ × ٥٠.

من دونِ إجراءِ عمليةِ الضربِ؛ وضِّحْ ذلكَ .

أكتبُ مسألةً من واقعِ الحياةِ أُعبرُ فيها عن حاصلِ ضربِ عددٍ من ثلاثِ مراتبٍ في عددٍ

من مرتبتين، وأجدُ الناتجَ .

خطة حل المسألة (أخمن وأتحقق)



أتعلم

اشترت نورة وسميرة علبة ألوان بمبلغ ٧٥٠ ديناراً دفعت نورة ضعف المبلغ الذي دفعته سميرة. ما المبلغ الذي دفعته سميرة؟

فكرة الدرس

أحل مسألة باستعمال خطة «أخمن وأتحقق»

أفهم

مامعطيات المسألة؟ سعر علبة الألوان ٧٥٠ ديناراً.
دفعت نور ضعف المبلغ الذي دفعته سميرة.
ما المطلوب في المسألة؟ ايجاد المبلغ الذي دفعت سميرة.

أخطط

كيف أحل المسألة؟

أخمن المبلغ الذي دفعته كل واحدة منهن. ثم أتحقق بجمع المبلغين ومقارنة الناتج مع ٧٥٠ ديناراً.

أحل

أخمن مقدار المبلغ الذي دفعته سميرة. فيكون ما دفعته نور هو ضعف ما دفعته سميرة.

التخمين الأول: دفعت سميرة ٢٠٠ دينار، لذا دفعت نور ٤٠٠ دينار.

$$٢٠٠ + ٤٠٠ = ٦٠٠ \text{ (أصغر من ٧٥٠)}$$

التخمين الثاني: دفعت سميرة ٣٠٠ دينار، لذا دفعت نور ٦٠٠ دينار.

$$٣٠٠ + ٦٠٠ = ٩٠٠ \text{ (أكبر من ٧٥٠)}$$

التخمين الثالث: دفعت سميرة ٢٥٠ ديناراً، لذا دفعت نور ٥٠٠ دينار.

$$٢٥٠ + ٥٠٠ = ٧٥٠ \text{ (صحيح)}$$

أتحقق

دفعت سميرة ٢٥٠ ديناراً ودفعت نورة ٥٠٠ دينار
دفعت نورة وسميرة ٧٥٠ ديناراً.
 $٢٥٠ \times ٢ = ٥٠٠$ دينار
 $٥٠٠ + ٢٥٠ = ٧٥٠$ ديناراً.

مَسَائِلُ



١ قطعة أرض مساحتها ٦٠٠٠ متر مربع. مزروعة بالقمح والخضراوات. مساحة الجزء المزروع بالخضراوات يساوي ثلث مساحة الجزء المزروع بالقمح، ما مساحة الجزء المزروع بالخضراوات؟



٢ حضرت فرح كعكةً لعيد ميلاد اختها الكبيرة جمانة. سألت إحدى صديقات فرح: كم سنة عمرك الآن؟ أجابت فرح: عمري هونصف عمر أختي جمانة، ومجموع عمرينا ٢٤ سنة. ما عمر جمانة؟

٣ أعدت ميس فطائر باللحم. استعملت ٧٠٠ غرام من اللحم والطحين. وكان وزن اللحم يقل عن وزن الطحين بمقدار ١٠٠ غرام. ما وزن الطحين المستعمل؟



٤ استعمل عادل ٦٠ لتراً من الماء لري شجرة ليمون وشجرة تفاح. إذا استعمل لشجرة التفاح نصف كمية الماء التي استعملها لشجرة الليمون. فكم لتراً استعمل لكل شجرة؟

٥ وضع مزارع سياجاً حول حديقة مستطيلة الشكل طولها يساوي ضعف عرضها، إذا استعمل المزارع ٣٠٠ متر من الأسلاك، فما طول الحديقة؟ وما عرضها؟



مراجعة الفصل

الدرس (١)

الضرب في ١٠، ١٠٠، ١٠٠٠ ومضاعفاتها

مثال: أجد ناتج الضرب مستعملاً الحقائق الأساسية والأنماط لكل مما يلي:

$$16 = 2 \times 8 \quad 3$$

$$15 = 3 \times 5 \quad 6$$

$$2 = 1 \times 2 \quad 1$$

$$160 = 20 \times 8$$

$$150 = 30 \times 5$$

$$20 = 10 \times 2$$

$$1600 = 200 \times 8$$

$$1500 = 300 \times 5$$

$$200 = 100 \times 2$$

$$16000 = 2000 \times 8$$

$$15000 = 3000 \times 5$$

$$2000 = 1000 \times 2$$

تدريب:

أجد ناتج الضرب مستعملاً الحقائق الأساسية والأنماط لكل مما يلي:

$$\text{_____} = 4 \times 8 \quad 3$$

$$\text{_____} = 6 \times 9 \quad 6$$

$$\text{_____} = 1 \times 3 \quad 1$$

$$\text{_____} = 40 \times 8$$

$$\text{_____} = 60 \times 9$$

$$\text{_____} = 10 \times 3$$

$$\text{_____} = 400 \times 8$$

$$\text{_____} = 600 \times 9$$

$$\text{_____} = 100 \times 3$$

$$\text{_____} = 4000 \times 8$$

$$\text{_____} = 6000 \times 9$$

$$\text{_____} = 1000 \times 3$$

الدرس (٢) ضرب عدد من ثلاث مراتب في عدد من مرتبة واحدة

الدرس (٢)

مثال: أجد ناتج الضرب لكل مما يأتي:

$$\begin{array}{r} 443 \\ 8 \times \\ \hline 3544 \end{array} \quad 4$$

$$\begin{array}{r} 675 \\ 2 \times \\ \hline 1350 \end{array} \quad 3$$

$$\begin{array}{r} 324 \\ 3 \times \\ \hline 972 \end{array} \quad 6$$

$$\begin{array}{r} 300 \\ 2 \times \\ \hline 600 \end{array} \quad 1$$

$$\begin{array}{r} 935 \\ 7 \times \\ \hline 6545 \end{array} \quad 8$$

$$\begin{array}{r} 649 \\ 4 \times \\ \hline 2596 \end{array} \quad 7$$

$$\begin{array}{r} 705 \\ 2 \times \\ \hline 1410 \end{array} \quad 6$$

$$\begin{array}{r} 502 \\ 3 \times \\ \hline 1506 \end{array} \quad 5$$



تدريب :

أجد ناتج الضرب :

$$\begin{array}{r} 194 \\ \times 6 \\ \hline \end{array}$$

$$\begin{array}{r} 342 \\ \times 5 \\ \hline \end{array}$$

$$\begin{array}{r} 651 \\ \times 8 \\ \hline \end{array}$$

$$\begin{array}{r} 900 \\ \times 2 \\ \hline \end{array}$$

$$\begin{array}{r} 647 \\ \times 3 \\ \hline \end{array}$$

$$\begin{array}{r} 301 \\ \times 4 \\ \hline \end{array}$$

$$\begin{array}{r} 509 \\ \times 9 \\ \hline \end{array}$$

$$\begin{array}{r} 700 \\ \times 7 \\ \hline \end{array}$$

ضرب عدد من ثلاث مراتب في عدد من مرتبتين

الدرس (٣)

مثال :

أجد ناتج الضرب لكل مما يأتي :

$$\begin{array}{r} 617 \\ \times 27 \\ \hline \\ 4109 \\ + 13740 \\ \hline 18549 \end{array}$$

$$\begin{array}{r} 444 \\ \times 33 \\ \hline \\ 1332 \\ + 13320 \\ \hline 14652 \end{array}$$

$$\begin{array}{r} 342 \\ \times 15 \\ \hline \\ 1710 \\ + 3420 \\ \hline 5130 \end{array}$$

$$\begin{array}{r} 200 \\ \times 14 \\ \hline \\ 800 \\ + 2000 \\ \hline 2800 \end{array}$$

$$\begin{array}{r} 152 \\ \times 73 \\ \hline \\ 2006 \\ + 59640 \\ \hline 62196 \end{array}$$

$$\begin{array}{r} 407 \\ \times 12 \\ \hline \\ 814 \\ + 4070 \\ \hline 4884 \end{array}$$

$$\begin{array}{r} 901 \\ \times 30 \\ \hline \\ \dots \\ + 27030 \\ \hline 27030 \end{array}$$

$$\begin{array}{r} 500 \\ \times 20 \\ \hline \\ \dots \\ + 10000 \\ \hline 10000 \end{array}$$

تدريب :

أجد ناتج الضرب :

$$\begin{array}{r} 571 \\ \times 24 \\ \hline \end{array}$$

$$\begin{array}{r} 555 \\ \times 44 \\ \hline \end{array}$$

$$\begin{array}{r} 251 \\ \times 16 \\ \hline \end{array}$$

$$\begin{array}{r} 300 \\ \times 12 \\ \hline \end{array}$$

$$\begin{array}{r} 437 \\ \times 71 \\ \hline \end{array}$$

$$\begin{array}{r} 952 \\ \times 34 \\ \hline \end{array}$$

$$\begin{array}{r} 305 \\ \times 60 \\ \hline \end{array}$$

$$\begin{array}{r} 600 \\ \times 40 \\ \hline \end{array}$$

اختبار الفصل

أجد ناتج الضرب مستعملاً الحقائق الأساسية والأنماط لكل مما يلي :

$$\dots = 3 \times 6 \quad \textcircled{3}$$

$$\dots = 2 \times 3 \quad \textcircled{2}$$

$$\dots = 1 \times 7 \quad \textcircled{1}$$

$$\dots = 30 \times 6$$

$$\dots = 20 \times 3$$

$$\dots = 10 \times 7$$

$$\dots = 300 \times 6$$

$$\dots = 200 \times 3$$

$$\dots = 100 \times 7$$

$$\dots = 3000 \times 6$$

$$\dots = 2000 \times 3$$

$$\dots = 1000 \times 7$$

أجد ناتج الضرب ذهنياً

$$\dots = 600 \times 6 \quad \textcircled{6}$$

$$\dots = 8000 \times 9 \quad \textcircled{5}$$

$$\dots = 50 \times 4 \quad \textcircled{4}$$

٧ اشترت جنات من المكتبة ٣ قصص ، ثمن كل قصة ٩٠٠ دينار. كم ديناراً دفعت جنات ثمناً

للقصص؟

٨ سعر بطاقة الدخول إلى متنزه الزوراء ٥٠٠ دينار لكل شخص. ذهبت عائلة مكونة من ٧

أشخاص إلى متنزه الزوراء. ما المبلغ اللازم لدخولهم؟

أجد ناتج الضرب.

$$\begin{array}{r} 750 \\ \times 6 \\ \hline \end{array} \quad \textcircled{11}$$

$$\begin{array}{r} 435 \\ \times 3 \\ \hline \end{array} \quad \textcircled{10}$$

$$\begin{array}{r} 342 \\ \times 2 \\ \hline \end{array} \quad \textcircled{9}$$

$$\begin{array}{r} 850 \\ \times 24 \\ \hline \end{array} \quad \textcircled{14}$$

$$\begin{array}{r} 352 \\ \times 13 \\ \hline \end{array} \quad \textcircled{13}$$

$$\begin{array}{r} 422 \\ \times 22 \\ \hline \end{array} \quad \textcircled{12}$$



قسمة الأعداد

سوف أتعلّم في هذا الفصل :

الدرس (١) القسمة على عدد من مرتبة واحدة

الدرس (٢) القسمة على عدد من مرتبتين

الدرس (٣) القسمة على مضاعفات ١٠ ، ١٠٠ ، ١٠٠٠

الدرس (٤) أنماط القسمة والجمال المفتوحة

الدرس (٥) خطة حل المسألة (معقولة الأجابة)

يشربُ الجملُ من الماء ما يقاربُ ١٣٠ لتراً في ١٠ دقائق .
فكم لتراً يشربُ في الدقيقة الواحدة ؟

الاختبار القبلي

أجد ناتج القسمة.

..... = 4 ÷ 36 ①

..... = 6 ÷ 126 ④

..... = 8 ÷ 1600 ⑦

..... = 5 ÷ 75 ②

..... = 3 ÷ 453 ⑤

..... = 7 ÷ 5670 ⑧

..... = 2 ÷ 112 ③

..... = 3 ÷ 711 ⑥

..... = 5 ÷ 4915 ⑨

أجد ناتج القسمة.

..... ⑩

..... ⑪

..... ⑫

..... ⑬

..... ⑭

..... ⑮

⑯ أحوط بـ الأعداد التي تقبل القسمة على 5 وبـ الأعداد التي تقبل القسمة على 2 :

٤٠٥ ، ٦٠٠ ، ٣٥٥ ، ٩٥٠ ، ٤٣٥ ، ٥٨٥

⑰ أملأ الفراغ برقم واحد لكي أحصل على عدد يقبل القسمة على 3 .

..... ، ١..... ، ٦..... ، ٣..... ، ٧٨.....

⑱ أضع كل عدد من الأعداد التالية في موقعها الصحيح في الجدول وأعطي مبرراً لقراري.

٥٠٠ ، ١٠٠ ، ٢٥٠ ، ٢٠١ ، ٩٩١ ، ١٤

يقبل القسمة على 2	يقبل القسمة على 3	السبب

⑲ هل يمكن تقسيم 15 جائزة بالتساوي على الفائزين الثلاثة الأوائل في مسابقة؟

القسمة على عدد من مرتبة واحدة

أتعلم



مساحة بستان ٩٤٥٥٠
متراً مربعاً. قُسم على قطع
صغيرة مربعة الشكل مساحة
كل منها ٥ أمتار مربعة. غُرست
في كل قطعة صغيرة شجرة.
ما عدد الأشجار التي غُرست في البستان؟

فكرة الدرس

أقسم أعداداً على عدد
من مرتبة واحدة

تعلمت سابقاً قسمة الأعداد من ٤ مراتب على عدد من مرتبة واحدة، ويمكنني قسمة أعداد أكبر على عدد من مرتبة واحدة بالطريقة نفسها.

أمثلة

١ لإيجاد عدد الأشجار التي غُرست في البستان أقسم ٩٤٥٥٠ على ٥.

أبدأ بقسمة ٩ على ٥

اطرح

أنزل الرقم ٤ في مرتبة آحاد الألوف

اطرح

أنزل الرقم ٥ في مرتبة المئات

اطرح

أنزل الرقم ٥ في منزلة العشرات

اطرح

أنزل الرقم ٠ في مرتبة الآحاد، وعند قسمة ٠

على ٥ يكون الناتج صفراً.

$$\begin{array}{r} \times 18910 \\ \hline 5 \overline{) 94550} \\ \underline{5} \\ 44 \\ \underline{40} \\ 045 \\ \underline{45} \\ 0005 \\ \underline{0} \\ 00000 \end{array}$$

لذا، غُرست ١٨٩١٠ أشجار في البستان.

٢ لدى بائع فواكه ١٢٦٠٢ تفاحة، وضعها في صناديق، سعة كل صندوق ٦ تفاحات.

كم صندوقاً ملاً وكم تفاحة بقيت خارج الصناديق؟

اقسم: $12602 \div 6$

$6 > 1$ لا يمكن قسمتها على ٦

أقسم ١٢ على ٦ وأكمل الحل كما في المثال (١)

لذا، يملأ البائع ٢١٠٠ صندوق. وتبقى تفاحتان خارج الصناديق.

$$\begin{array}{r} \times 2100 \\ \hline 6 \overline{) 12602} \\ \underline{12} \\ 006 \\ \underline{006} \\ 0002 \\ \underline{0000} \\ 00002 \end{array}$$



٣ قطع حامد المسافات التالية بالكيلو مترات على دراجته في ٦ أسابيع. ١٩٣، ١٨٨، ١٧٩، ١٩٦، ١٨٥، ١٩٣

جمع حامد المسافات وقسمها على عدد الأسابيع. ما الناتج وماذا يمثل؟

$$1134 = 193 + 185 + 196 + 179 + 188 + 193$$

$$189 = 6 \div 1134 \text{ الناتج}$$

متوسط ما قطع حامد ١٨٩ كيلو متر أسبوعياً. وهذا ما يعرف الوسط الحسابي الذي سنتعلمه لاحقاً

أتأكد

أجد ناتج القسمة والباقي إن وجد:

$$\sqrt{21000}$$

٣

$$\sqrt{50000}$$

٢

$$\sqrt{68440}$$

١

$$\sqrt{54684}$$

٦

$$\sqrt{34446}$$

٥

$$\sqrt{54544}$$

٤

$$\dots = 3 \div 31298$$

٩

$$\dots = 8 \div 30044$$

٨

$$\dots = 6 \div 54075$$

٧



١٠ تُقدّم حديقة الحيوان كميات كبيرة من الطعام للحيوانات

الموجودة فيها. قدّمت للخيل ٤٤٨٠٠ كيلوغرام من الحبوب خلال ٨ أشهر. ما كمية الحبوب التي قدّمتها الحديقة للخيل في الشهر الواحد؟



١١ اشترى سيف طقم ضيوف بمبلغ ٧٥٠٠٠٠ دينار، على أن يدفع

ثمنه على ٥ أقساط متساوية، ما قيمة القسط الواحد؟

١٢ لدى محل تجاري ٦٥ كيساً من الأرز، في كل منها ٧٠ كيلو غراماً. أفرغ التاجر أكياس الأرز

ليضعها في أكياس صغيرة وزن كل كيس منها ٨ كيلوغرامات. كم كيساً صغيراً يملأ؟ وكم كيلوغراماً من الأرز يبقى خارج الأكياس؟

أحدث: وزع مستورد ٧٨٦٢٤ صندوقاً من البضائع المختلفة على ٣ شاحنات كبيرة

بالتساوي لنقلها من الميناء الى المخازن. اشرح كيف أجد عدد الصناديق في كل شاحنة؟

أجد ناتج القسمة والباقي إن وجد:

- ١٣ $\sqrt{3} \overline{) 120.39}$ ١٤ $\sqrt{4} \overline{) 94200}$ ١٥ $\sqrt{9} \overline{) 39907}$
- ١٦ $\dots = 8 \div 27562$ ١٧ $\dots = 7 \div 3527$ ١٨ $\dots = 5 \div 45340$
- ١٩ $\dots = 9 \div 18281$ ٢٠ $\dots = 3 \div 901827$ ٢١ $\dots = 6 \div 42036$



- ٢٢ قررت شركة سياحية نقل مسافريها باستعمال ٧ بوأخر بالتساوي، ما عدد المسافرين على كل باخرة إذا كان عدد المسافرين ٦٣٢١٠ مسافرين؟



- ٢٣ تحتوي إحدى المكتبات الكبيرة على ٨٤٨٦٠ كتاباً موزعة بالتساوي على ٦ قاعات كبيرة للقراءة، ما عدد الكتب في كل قاعة وما عدد الكتب المتبقية؟

أفكر

- ٢٤ **تحذ:** من دون إجراء عملية القسمة أيهما ناتجه أكبر: $5 \div 980445$ أم $5 \div 984405$ ؟ وضح ذلك.

- ٢٥ **مسألة مفتوحة:** أكمل عملية القسمة التالية بالأرقام المناسبة.

$$\begin{array}{r} 5 \square 9 \square \square \\ \sqrt{4} \overline{) 235864} \\ \underline{20} \\ \cdot 35 \\ \cdot 3 \square \\ \hline \cdot \cdot \square \square \\ \quad 3 \square \\ \hline \cdot \cdot \cdot \square \square \\ \quad \quad 2 \square \\ \hline \cdot \cdot \cdot \cdot 2 \square \\ \quad \quad \quad 2 \square \\ \hline \cdot \cdot \cdot \cdot \cdot \cdot \end{array}$$

- ٢٦ **حس عددي:** إذا كان ناتج $5 \div 12500 = 2500$

فما ناتج $5 \div 12505$ من دون إجراء عملية القسمة؟

موقفاً من واقع الحياة يمكن تفسيره باستعمال $1207 = 3 \div 3623$

أكتب



القسمة على عدد من مرتبتين

الدرس

أتعلم



يصل عدد رمشات العين إلى ١٥٠٠ مرة في الساعة الواحدة.
كم مرة ترمش العين في الدقيقة الواحدة؟

فكرة الدرس

أجد ناتج القسمة على عدد من مرتبتين

تعلمت سابقاً القسمة على عدد من مرتبة واحدة. وسوف أتعلم في هذا الدرس القسمة على عدد من مرتبتين.

أمثلة

١ لأجد عدد رمشات العين في كل دقيقة، أقسم ١٥٠٠ على ٦٠.
أجد الناتج

$$\begin{array}{r} 25 \\ 60 \overline{) 1500} \\ \underline{120} \\ 300 \\ \underline{300} \\ 0000 \end{array}$$

أقسم ١٥٠ على ٦٠ لأن $60 > 15$ و $60 > 150$.
اطرح
انزل ٠ من مرتبة الآحاد، واقسم
اطرح
الباقي صفر.

لذا، ترمش العين ٢٥ مرة في الدقيقة.

٢ تنتج شركة لصناعة الألبان والمنتجات الغذائية العديد من أنواع الأجبان والألبان والحليب. بلغ إنتاج الشركة في أحد الأيام ٤٩٥٥ علبة. ورعتها في ٣٥ صندوقاً لها السعة نفسها. كم علبة وضعت في كل صندوق؟ وكم علبة بقيت؟

$$\begin{array}{r} 141 \\ 35 \overline{) 4955} \\ \underline{35} \\ 140 \\ \underline{140} \\ 0055 \\ \underline{35} \\ 0020 \end{array}$$

أقسم ٤٩٥٥ على ٣٥
٤ لا تقسم على ٣٥
أقسم ٤٩ على ٣٥
أنزل الرقم ٥ في مرتبة العشرات
أقسم ١٤٥ على ٣٥
أنزل الرقم ٥ في مرتبة الآحاد
الباقي ٢٠

لذا، وضعت الشركة ١٤١ علبة في كل صندوق وبقي ٢٠ علبة خارج الصناديق.

يمكنني التعبير عن القسمة بصورة افقية.

٣ اقسّم $٢٤٣٠ \div ٣٢$ وأتحقق من إجابتي.

التحقّق.

ناتج القسمة \times المقسوم عليه + الباقي ان وجد.

$$٢٤٠٠ = ٣٢ \times ٧٥$$

$٢٤٣٠ = ٣٠ + ٢٤٠٠$ وهذا يساوي المقسوم.

لذا الإجابة صحيحة.

$$\begin{array}{r} ٧٥ \\ ٣٢ \overline{) ٢٤٣٠} \\ \underline{٢٢٤} \\ ١٩٠ \\ \underline{١٦٠} \\ ٣٠ \end{array}$$

لذا، ناتج القسمة ٧٥ والباقي ٣٠.

٤ شارع طوله ٢٦٥٥ متراً. وضعت شركة الكهرباء عموداً

إنارة عند نقطة بداية الشارع. ثم وضعت عموداً بعد كل

٤٥ متراً. كم عموداً وضعت الشركة في الشارع؟

أقسّم ٢٦٥٥ على ٤٥ .

$$\begin{array}{r} ٥٩ \\ ٤٥ \overline{) ٢٦٥٥} \\ \underline{٢٢٥} \\ ٤٠٥ \\ \underline{٤٠٥} \\ ٠ \end{array}$$

وضعت الشركة عموداً في بداية الشارع، ثم وضعت ٥٩ عموداً على امتداد الشارع.

لذا عدد الأعمدة هو $١ + ٥٩ = ٦٠$ عموداً.

أتأكد

أجد ناتج القسمة والباقي إن وجد. ثم أتحقق من إجابتي :

٣ $٥٣ \div ٧٠٠٦ = \dots$

٢ $٩٥ \div ٩٠٠ = \dots$

١ $٨٥٩ \div ٢١ = \dots$

٦ $٩٠٥٦ \div ٧٢ = \dots$

٥ $٧٨٩٦ \div ٤٥ = \dots$

٤ $٩٩٦٠ \div ٩٦ = \dots$

٩ $١٠٥٨ \div ٢٢ = \dots$

٨ $٩٨٣٢ \div ٨٠ = \dots$

٧ $٦٣٣٩ \div ١٧ = \dots$

١٠ وزعت معلمة التربية الفنية ١٢٦٠ قلماً من الأقلام الملونة على

تلميذات الصف الخامس وعددهن ٨٤ تلميذة بالتساوي.

ما حصة كل تلميذة؟





١١ لدى فلاح قطعاً أرض زراعية مساحتها ٧٨٨٧ متراً مربعاً،
قسّمها على قطعٍ متساويةٍ مساحة كل قطع ٣٣ متراً مربعاً
لزراعة أصنافٍ مختلفةٍ من الخضراوات والأزهار.
ما عدد القطع التي حصل عليها؟

أحدث: اشرح الخطوات التي أتبعها لأقسّم ١٢٢٧٦ على ٦٦ .

أحل

أجد ناتج القسمة والباقي إن وُجد ، ثم أتتحقق من إجابتي :

١٢ = ٧٥ ÷ ١٦٧٣ ١٣ = ٨٢ ÷ ٩٦٨٣ ١٤ = ٦٣ ÷ ٦٣٥٤

١٥ ٢٥ | ٥٦٥٠ ١٦ ٣٠ | ٦٠٩٠ ١٧ ١٤ | ٩٠٤٨

١٨ ١٣ | ٢٥٨٧ ١٩ ١٥ | ٥٠٠٥ ٢٠ ٣٥ | ١٧٤٥

٢١ يراد تقطيع سلك كهربائي طوله ٣٠٤٥ متراً الى قطع طول كل قطع منها ١٥ متراً. هل يمكن



ذلك؟ وكم قطعة كاملة يمكن الحصول عليها؟

٢٢ ينقل تاجر أجهزة تبريد من المخازن الى الأسواق في

شاحنات تحمل كل منها ٤٥ جهازاً. كم شاحنة يحتاج

الى نقل ٥٨٥٠ جهاز تبريد؟

٢٣ تنقل حافلات مشجعي المنتخب العراقي في كرة القدم لمؤازرته في إحدى المباريات. إذا



كان في محطة الحافلات ١٠٩٢ مشجعاً. وكانت الحافلة

الواحدة تتسع لـ ٤٢ راكباً. كم حافلة يحتاجون

إلى نقلهم جميعاً إلى ملعب المباراة؟

أفكر

٢٤ **حس عددي:** ناتج قسمة ٧٢٢٤ على ١٢ يساوي ٦٠٢ ، ما ناتج قسمة ٧٢٢٥ على ١٢ شفويّاً؟

٢٥ **تحذ:** عدنان أحدهما ١٢ وحاصل ضربهما ٧٥٣٦ . ما العدد الآخر؟

أكتب أصغر عدد من ٤ مراتب باقي قسمته على ٣٠ هو ٥ ، أفسر إجابتي.

أتعلم



زرع مزارع ١٠٠٠ فسيلة نخل خلال ٢٠ يوماً ، اذا كان يزرع في اليوم الواحد العدد نفسه من الفسائل ، فكم فسيلة يزرع في اليوم الواحد ؟

فكرة الدرس

استعمل حقائق القسمة الاساسية والانماط لاقسم ذهنياً

استعمل انماط القسمة لتسهيل القسمة على ١٠ ، ١٠٠ ، ١٠٠٠ ومضاعفاتها

أمثلة

١ لإيجاد عدد فسائل النخيل التي زرعتها في اليوم الواحد .

اجد ناتج $١٠٠٠ \div ٢٠$

الطريقة (١) : استعمل حقائق القسمة الاساسية وانماط الضرب

$$٥ = ٢ \div ١٠$$

$$٥٠ = ٢٠ \div ١٠٠$$

$$٥٠٠ = ٢٠ \div ١٠٠٠$$

$$١٠ = ٢ \times ٥$$

$$١٠٠ = ٢ \times ٥٠$$

$$١٠٠٠ = ٢٠ \times ٥٠$$

الطريقة (٢) : اتخلص من الازهار لتسهيل القسمة

$$٥ = ٢ \div ١٠$$

$$٥٠ = ٢٠ \div ١٠٠$$

$$٥٠٠ = ٢ \div ١٠٠٠$$

أتخلص من عدد الازهار نفسه من كل من المقسوم والمقسوم عليه

$$٥٠٠ = ٢٠ \div ١٠٠٠$$

لذا زرع المزارع ٥٠ فسيلة في اليوم الواحد .

٢ ركض عداء مسافة ٣٠٠٠ متر في احدى المسابقات ،

ما المسافة بالكيلومتر ؟

$$١ \text{ كيلومتر} = ١٠٠٠ \text{ متر}$$

$$٣ \text{ كيلومتر} = ٣ \div ١٠٠٠$$



٣ اجد ناتج قسمة ٤٢٠٠٠ ÷ ٦٠ باستعمال الحقائق الاساسية.

اعرف ان ٤٢٠٠ هي ٤٢ مئة لذا فأن :
الحقيقة الاساسية لـ ٤٢٠٠ ÷ ٦٠ هي

$$٧ = ٦ \div ٤٢$$

$$٧ = ٦٠ \div ٤٢٠$$

$$٧٠ = ٦٠ \div ٤٢٠٠$$

لذا فأن ٧٠٠ = ٦٠ ÷ ٤٢٠٠٠

٤ أكمل كلاً من الأنماط التالية :

$$\boxed{٧} = ٨ \div ٥٦ \text{ (ج)}$$

$$\boxed{٤} = ٣ \div ١٢ \text{ (ب)}$$

$$\boxed{٤} = ٢ \div ٨ \text{ (أ)}$$

$$\boxed{٧} = ٨٠ \div ٥٦٠$$

$$\boxed{٤} = ٣٠ \div ١٢٠$$

$$\boxed{٤} = ٢٠ \div ٨٠$$

$$\boxed{٧} = ٨٠٠ \div ٥٦٠٠$$

$$\boxed{٤} = ٣٠٠ \div ١٢٠٠$$

$$\boxed{٤} = ٢٠٠ \div ٨٠٠$$

أتأكد

اكمل كلاً من الأنماط التالية :

$$\dots\dots\dots = ٧ \div ٤٩ \text{ (٣)}$$

$$\dots\dots\dots = ٥ \div ٤٠ \text{ (٢)}$$

$$\dots\dots\dots = ٤ \div ١٦ \text{ (١)}$$

$$\dots\dots\dots = ٧٠ \div ٤٩٠$$

$$\dots\dots\dots = ٥٠٠ \div ٤٠٠٠$$

$$\dots\dots\dots = ٤٠ \div ١٦٠$$

$$\dots\dots\dots = ٧٠٠ \div ٤٩٠٠$$

$$\dots\dots\dots = ٥٠٠٠ \div ٤٠٠٠٠$$

$$\dots\dots\dots = ٤٠٠ \div ١٦٠٠$$

أجد ناتج القسمة في كل مما يلي باستعمال الحقائق الاساسية:

$$\dots\dots\dots = ٩ \div ٧٢ \text{ (٦)}$$

$$\dots\dots\dots = ٣ \div ٢٧ \text{ (٥)}$$

$$\dots\dots\dots = ٥ \div ٤٥ \text{ (٤)}$$

$$\dots\dots\dots = ٩٠ \div ٧٢٠٠$$

$$\dots\dots\dots = ٣٠٠ \div ٢٧٠٠$$

$$\dots\dots\dots = ٥٠ \div ٤٥٠$$

$$\dots\dots\dots = ٩٠٠٠ \div ٧٢٠٠٠$$

$$\dots\dots\dots = ٣٠٠٠ \div ٢٧٠٠٠$$

$$\dots\dots\dots = ٥٠٠ \div ٤٥٠٠$$

٧ تقاضى عامل ١٨٠٠٠٠ الف دينار في ٢٠ يوماً ، ما مقدار

مايتقاضاه عن عمله في اليوم الواحد ؟



أتحدث : عن حقيقة القسمة الأساسية التي تساعدني على إيجاد ناتج ٤٠ ÷ ٣٢٠٠٠ ؟

أكمل كلا من الأنماط الآتية :

..... = $8 \div 56$ ① = $3 \div 90$ ⑨ = $7 \div 28$ ⑧

..... = $8 \div 560$ = $30 \div 900$ = $70 \div 280$

..... = $80 \div 5600$ = $3000 \div 9000$ = $700 \div 2800$

أجد ناتج القسمة في كل مما يأتي باستعمال الانماط :

..... = $8 \div 24$ ⑬ = $3 \div 21$ ⑫ = $4 \div 8$ ⑪

..... = $80 \div 240$ = $30 \div 210$ = $40 \div 80$

..... = $8000 \div 24000$ = $300 \div 2100$ = $400 \div 800$



⑭ زرع تلاميذ مدرسة 3600 شجرة هذا العام ، اذا كان عدد

تلاميذ المدرسة 300 وزرع كل واحد منهم العدد نفسه من

الأشجار فكم شجرة زرع كل تلميذ منهم ؟

⑮ وزع أحد المحسنين مبلغ 750000 دينار على 10 فقراء بالتساوي ، كم أعطى كل واحد منهم؟

أفكر

⑯ حس عددي: من دون إجراء عملية القسمة ، أيهما ناتج قسمته أكبر $50 \div 3500$

أم $30 \div 18000$ شفويًا؟

⑰ تحد: بكم يزيد ناتج $7220 \div 20$ عن ناتج $7200 \div 20$ ؟

كيف أعرف أن ناتج قسمة $600 \div 3$ يتكون من 3 أرقام؟

أكتب

أنماط القسمة والجمل المفتوحة



أتعلم

لدى شهاب ١٢٠ كرة زجاجية
وزَّعَهَا عَلَى ٦ علب في كل
علبة ٢٠ كرة.
 $٢٠ = ٦ \div ١٢٠$

فكرة الدرس

أبحث عن نمط لإيجاد
ناتج القسمة
وأجد العدد المفقود
في الجملة المفتوحة

المفردات

الجملة المفتوحة

افرض أن لديه ١٢٠٠ كرة زجاجية يريد توزيعها على ٦ علب
بالتساوي. كم كرة سيضع في كل علبة؟

ساعدني ما تعلمته سابقاً من حقائق الضرب والقسمة، ومضاعفات ١٠، و ١٠٠، و ١٠٠٠ على
إستخدام الأنماط في القسمة وأحل الجملة المفتوحة.

أمثلة

١ لإيجاد عدد الكرات الزجاجية التي يضعها شهاب في كل علبة
أقسم ١٢٠٠ على ٦ .

استعمل الحقيقة الأساسية $٢ = ٦ \div ١٢$

واستعمل نمطاً يتحوّل فيه ١٢ إلى ١٢٠٠ ويبقى المقسوم عليه دون تغيير.

$$٢ = ٦ \div ١٢$$

اضرب المقسوم وناتج القسمة في حقيقة القسمة الأساسية في ١٠ $٢٠ = ٦ \div ١٢٠$

اضرب المقسوم وناتج القسمة في حقيقة القسمة الأساسية في ١٠٠ $٢٠٠ = ٦ \div ١٢٠٠$

لذا، يضع شهاب ٢٠٠ كرة زجاجية في كل علبة.

٢ استعمل حقائق القسمة وابحث عن نمط لإيجاد ناتج القسمة :

$$٣ \div ٢١٠٠ (أ)$$

أبدأ بحقيقة القسمة الأساسية $٧ = ٣ \div ٢١$

ثم ابحث عن نمط قسمة يحوّل ٢١ إلى ٢١٠٠ ويبقى فيه المقسوم عليه ٣.

$$٧ = ٣ \div ٢١$$

- ١٠ اضربِ المقسومَ وناتجَ القسمةِ في الحقيقةِ الأساسيةِ في ١٠ $٧٠ = ٣ \div ٢١٠$
- ١٠٠ اضربِ المقسومَ وناتجَ القسمةِ في الحقيقةِ الأساسيةِ في ١٠٠ $٧٠٠ = ٣ \div ٢١٠٠$
- (ب) $٨٠ \div ٧٢٠٠$
- ابدأ بحقيقةِ القسمةِ الأساسيةِ $٧٢ \div ٨ = ٩$.
- ثم ابحثْ عن نمطٍ يحوّل ٧٢ إلى ٧٢٠٠،
ويحوّل ٨ إلى ٨٠
- $٩ = ٨ \div ٧٢$
- ١٠ اضربِ المقسومَ والمقسومَ عليه في الحقيقةِ الأساسيةِ في ١٠ $٩ = ٨٠ \div ٧٢٠$
- ١٠ اضربِ المقسومَ وناتجَ القسمةِ في الخطوةِ السابقةِ في ١٠ $٩٠ = ٨٠ \div ٧٢٠٠$

٣ أكتب العدد المناسب في :

- (أ) $٥ = ٩ \div ٤٥$ (ب) $٨ = ٧ \div ٥٦$ (ج) $٤ = ٨ \div ٣٢$
- $٥ = ٩٠ \div ٤٥٠$ $٨٠ = ٧ \div ٥٦٠$ $٤٠ = ٨ \div ٣٢٠$
- $٥ = ٩٠٠ \div ٤٥٠٠$ $٨٠٠ = ٧ \div ٥٦٠٠$ $٤٠ = ٨٠ \div ٣٢٠٠$

أتأكد

اكتب حقيقةً قسمةً ونمطَ قسمةٍ أستنتجُ منه ناتجَ القسمةِ في كلِّ ممَّا يلي:

- ١ = $٧ \div ٦٣$ ٢ = $٦ \div ٤٢$ ٣ = $٣ \div ٢٤$
- = $٧ \div ٦٣٠$ = $٦٠ \div ٤٢٠$ = $٣٠٠ \div ٢٤٠٠$
- = $٧ \div ٦٣٠٠$ = $٦٠ \div ٤٢٠٠٠$ = $٣٠٠ \div ٢٤٠٠٠٠$

أكتب العدد المناسب في :

- ٤ $٥٠٠ = \square \div ٢٥٠٠$ ٥ $\square = ٦ \div ١٨٠٠$ ٦ $٨ = \square \div ٧٢٠٠$

٧ فاز عداءُ ركض المسافات الطويلة بالمرتبة الأولى إذ قطع مسافة ٣٥٠٠ متر في ٧ دقائق،

ما المسافة التي قطعها في الدقيقة الواحدة بافتراض
أنه ركض المسافة كلها بالسرعة نفسها؟





٨ قام فريقٌ مدرسيٌّ بزراعة حديقة المدرسة ، وزَّعتِ المعلمةُ ٣٠ شتلةً من الورودِ على ١٥ تلميذٍ بالتساوي، ما عددُ الشتلاتِ التي زرعها كلُّ تلميذٍ؟

أحدث: كيف أجد ناتجَ قسمة ٧٧٠٠ ÷ ١١ باستعمالِ حقيقةِ قسمةٍ أساسيةٍ ونمطِ قسمةٍ؟

أحل

أكمل الجملِ التاليةَ :

٩ ١٠ = ٨ ÷ ١٠ = ٨٠ ÷ ٨٠٠ ١١ ١٠٠ = ÷ ٨٠٠٠

أجد ناتجَ القسمةِ :

١٢ = ٧ ÷ ٤٢٠٠ ١٣ = ٩٠ ÷ ٦٣٠٠٠ ١٤ = ٣٠ ÷ ٣٦٠٠٠

١٥ = ٨ ÷ ٣٢٠ ١٦ = ٧٠ ÷ ٤٩٠٠ ١٧ = ٩٠٠ ÷ ٣٦٠٠٠

١٨ أجرَ صاحبٌ محلًّا للدراجاتِ الهوائيةِ ٩ دراجاتٍ بمبلغِ ٨١٠٠٠ دينارٍ لساعةٍ واحدةٍ ، ما سعرُ تأجيرِ الدراجةِ للساعةِ الواحدةِ ؟



١٩ إذا كانتِ الفراشةُ تقطعُ ٨٠ ميلاً في اليومِ الواحدِ . فكم يوماً تستغرقُ لقطعها مسافةً ض ٦٤٠ ميلاً ؟

أفكر

٢٠ مسألة مفتوحة: أكتب ثلاث جمل ناتج قسمة كل منها يساوي ٨٠ .

٢١ تحد: إذا كان ناتج قسمة ٤٢٥٠ على ٢٥ يساوي ١٧٠ فما ناتج قسمة ٤٥٠٠ على ٢٥٠ ؟

٢٢ حس عددي: أحسب شفوياً الفرق بين ناتج ٣٦٠٠٠ ÷ ٤٠ وناتج ٣٦٠٠٠ ÷ ٤٠٠ .

كيف يمكنني إيجاد ناتج ٦٤٠٠٠ ÷ ٨٠ باستعمال حقيقة قسمة اساسية ؟

أكتب

خطة حل المسألة (معقولة الإجابة)

الدرس ٥

أتعلم



ينقلُ قاربٌ ٧٢٠ صندوقاً من البضائع في ٤٥ يوماً. يقولُ سامرٌ أن القاربَ ينقلُ ١٥ صندوقاً يومياً تقريباً. هل إجابته معقولة؟

فكرةُ الدرس

أحلُّ مسألةً باستعمالِ خطةٍ «معقولة الإجابة».

أفهم ما المعطيات من المسألة؟ ينقلُ القاربُ ٧٢٠ صندوقاً في ٤٥ يوماً.

ما المطلوبُ في المسألة؟ عددُ الصناديقِ التي ينقلها القاربُ في اليومِ الواحدِ.

أخط كيف أحل المسألة؟

بما أن إجابة سامرٍ تقريبية، فإنني أقدّرُ ناتجَ قسمةِ ٧٢٠ على ٤٥ وأقارنُ الناتجَ بإجابة سامرٍ.

أحل

أقربُ ٤٥ إلى ٥٠.

أقربُ ٧٢٠ إلى ٧٠٠

$$١٤ = ٥٠ \div ٧٠٠$$

لذا، $١٤ \approx ٤٥ \div ٧٢٠$

١٤ قريبةٌ من إجابة سامرٍ. لذا، إجابته معقولةٌ.

أتحقق

اضرب: $٧٠٠ = ٥٠ \times ١٤$

وهي قريبةٌ من ٧٢٠. لذا الإجابة معقولةٌ.

مَسَائِلُ



١ تملأ حنفية خزان ماء سعته ٣٠٠ لتر في ٦ ساعات. تقول أحلام إن الحنفة تصبُّ نحو ٩٠٠ لتر في الساعة تقريباً. هل إجابتها معقولة؟ تحقّق من الإجابة.



٢ أجرى تلاميذ ٤ صفوف بحثاً حول ٣٦٩ نوعاً مختلفاً من الحشرات، إذا وُزعت هذه الأنواع على الصفوف بالتساوي. على كم نوع من الحشرات أجرى تلاميذ كل صف بحثاً؟ تقول مريم إن ٩٠ نوعاً تقريباً من الحشرات وزع لكل صف. هل إجابة مريم معقولة؟



٣ لبناء سور طوله ٢٨٠ متراً، احتاج بناءً إلى ٤ ساعات يومياً مدة ٣ أيام. كم متراً تقريباً من البناء أنجز البناء في الساعة الواحدة؟ يقول البناء إنه أنجز ٢٤ متراً تقريباً في الساعة الواحدة؟ تحقّق من معقولية إجابهته.



٤ شاركت مجموعة مكونة من ٦٧ تلميذاً بالنادي العلمي للمدرسة. وتم تقسيمهم على ١٤ مجموعة، ذكرت ايمان بأن كل مجموعة تتضمن ٥ تلاميذ، تحقّق من معقولية الإجابة.



٥ اشترى مسؤول أحد المخيمات الكشفية ٨٥٠ علبة عصير لتوزيعها على المشاركين في المخيم في مدى ١٢ يوماً. قال وليد إنه يمكن توزيع ٧٠ علبة تقريباً لعلماء المشاركين يومياً، وقال أنور إنه يمكن توزيع تقريباً ٦٠ علبة يومياً. أيهما إجابهته أكثر معقولية؟ سوِّغ إجابتك.

مراجعة الفصل

القسمة على عدد من مرتبة واحدة

الدرس (١)

مثال :

أجد ناتج القسمة والباقي ان وجد :

$$\begin{array}{r} 197 \\ 4 \overline{) 789} \\ \underline{4-} \\ 38 \\ \underline{36-} \\ 09 \\ \underline{08-} \\ 01 \end{array}$$

٣

$$\begin{array}{r} 725 \\ 7 \overline{) 5078} \\ \underline{49-} \\ 017 \\ \underline{014-} \\ 0038 \\ \underline{0035-} \\ 0003 \end{array}$$

٢

$$\begin{array}{r} 320.1 \\ 2 \overline{) 640.2} \\ \underline{6-} \\ 04 \\ \underline{04-} \\ 0002 \\ \underline{0002-} \\ 0000 \end{array}$$

١

تدريب :

أجد ناتج القسمة والباقي إن وُجد :

$$6 \overline{) 7443}$$

٣

$$9 \overline{) 6906}$$

٢

$$8 \overline{) 546}$$

١

القسمة على عدد من مرتبتين

الدرس (٢)

مثال : أجد ناتج القسمة والباقي إن وُجد. واثقق من إجابتني :

$$5420 = 20 \div 271 \text{ والباقي } 20$$

اقسم : $271 \div 54$
اطرح : $54 - 50$
انزل ٢
اطرح : $42 - 25$
انزل ٠
اطرح : $170 - 150$
الباقي ٢٠

$$\begin{array}{r} 271 \\ 20 \overline{) 5420} \\ \underline{50-} \\ 042 \\ \underline{040-} \\ 020 \\ \underline{020-} \\ 000 \end{array}$$

$$\text{أثقق: } 5400 = 20 \times 271$$

$5420 = 20 + 5400$ وهو المقسوم ، لذا الإجابة صحيحة.

تدريب :
أجد ناتج القسمة والباقي إن وُجد. وأتحقق من إجابتي :

$$\underline{48} \overline{) 129006} \quad 3$$

$$\underline{90} \overline{) 34000} \quad 6$$

$$\underline{35} \overline{) 23955} \quad 1$$

الدرس (٣) القسمة على مضاعفات ١٠، ١٠٠، ١٠٠٠

مثال : أستعمل الحقيقة الأساسية لإيجاد ناتج :

$$5 = 7 \div 35 \quad \text{الحقيقة الأساسية} \quad \dots = 70 \div 3500$$

$$\text{لذا } 50 = 70 \div 3500$$

تدريب : أستعمل الحقيقة الأساسية لإيجاد ناتج :

$$\dots = 500 \div 3000 \quad 6$$

$$\dots = 80 \div 4800 \quad 1$$

الدرس (٤) أنماط القسمة والجمال المفتوحة

مثال : أجد ناتج قسمة باستعمال حقائق القسمة وأنماطها:

$$9 = 3 \div 27 \quad 6$$

$$6 = 8 \div 48 \quad 1$$

$$90 = 3 \div 270$$

$$6 = 80 \div 480$$

$$900 = 3 \div 2700$$

$$600 = 80 \div 48000$$

تدريب : أجد ناتج قسمة باستعمال حقائق القسمة وأنماطها:

$$\dots = 40 \div 3200 \quad 6$$

$$\dots = 6 \div 1600 \quad 1$$



اختبار الفصل

أجد ناتج القسمة والباقي إن وُجدَ.

$$\dots = 5 \div 34500 \quad ٢$$

$$\dots = 6 \div 54343 \quad ١$$

$$\dots = 15 \div 57780 \quad ٤$$

$$\dots = 9 \div 203329 \quad ٣$$

$$\dots = 60 \div 4600 \quad ٦$$

$$\dots = 64 \div 8794 \quad ٥$$

$$\sqrt{569031} \quad ٨$$

$$\sqrt{87876} \quad ٧$$

$$\sqrt{78567} \quad ١٠$$

$$\sqrt{68003} \quad ٩$$

$$\sqrt{489900} \quad ١٢$$

$$\sqrt{46800} \quad ١١$$

أجد ناتج قسمة باستعمال حقائق القسمة وأنماطها:

$$\dots = 10 \div 50 \quad ١٤$$

$$\dots = 6 \div 14 \quad ١٣$$

$$\dots = 90 \div 720 \quad ١٦$$

$$\dots = 6 \div 36 \quad ١٥$$

$$\dots = 800 \div 6400 \quad ١٨$$

$$\dots = 30 \div 180 \quad ١٧$$

أجد ناتج ما يأتي :

$$\dots = 3 \div 8430 \quad ٢٠$$

$$\dots = 7 \div 3654 \quad ١٩$$

$$\dots = 13 \div 67509 \quad ٢٢$$

$$\dots = 9 \div 34211 \quad ٢١$$

$$\dots = 71 \div 45441 \quad ٢٤$$

$$\dots = 44 \div 30272 \quad ٢٣$$

$$\dots = 56 \div 65525 \quad ٢٦$$

$$\dots = 45 \div 42210 \quad ٢٥$$

$$\dots = 8 \div 6425 \quad ٢٨$$

$$\dots = 63 \div 98002 \quad ٢٧$$

اختبار الفصل

٢٩ أنتج مصنع لمجموعة من السيارات الصغيرة ١٦٠٠ عجلة ، إذا خصص لكل سيارة ٥ عجلات

فما عدد السيارات ؟

أستعمل الحقيقة الأساسية لأجد ناتج القسمة:

$$\begin{array}{r} 3 \overline{) 9000} \end{array} \quad 31$$

$$\begin{array}{r} 4 \overline{) 8000} \end{array} \quad 30$$

$$\begin{array}{r} 17 \overline{) 34000} \end{array} \quad 33$$

$$\begin{array}{r} 3 \overline{) 6400} \end{array} \quad 32$$

$$\begin{array}{r} 37 \overline{) 8190} \end{array} \quad 35$$

$$\begin{array}{r} 28 \overline{) 6155} \end{array} \quad 34$$

٣٦ عدنان من هواة جمع الطوابع. حصلَ على ١٦٥٠ طابعاً. ويرغبُ في أنْ يثبتها في صفحاتِ

ألبوم. تتسعُ الصفحةُ الواحدةُ إلى ١٢ طابعاً كم صفحةً يحتاجُ إلى تثبيتِ الطوابعِ جميعها؟



منهاجي
متعة التعليم الهادف



الكسور العشرية

سوف أتعلّم في هذا الفصل :

الدرس (١) الكسور العشرية حتى مرتبة الأجزاء من الالف.

الدرس (٢) مقارنة الكسور العشرية وترتيبها

الدرس (٣) تقريب الكسور العشرية.

الدرس (٤) التحويل بين الكسور العشرية والكسور الاعتيادية

الدرس (٥) أنماط الكسور العشرية

الدرس (٦) خطة حل المسألة (امثل بأنموذج)



PM
02:16:09

نستخدم الكسور العشرية في كتابة وحدات القياس الصغيرة .

NOV, 1

الاختبار القبلي

اكتب الكسر الذي يمثله الجزء الملون في الأشكال الآتية بأبسط صورة.



الكسر هو $\frac{\square}{\square}$



الكسر هو $\frac{\square}{\square}$

أكتب العدد المناسب في \square .

٥ $\frac{4}{6} = \frac{2}{\square}$

٤ $\frac{\square}{3} = \frac{3}{9}$

٣ $\frac{\square}{6} = \frac{4}{8}$

٦ أقرن بين الكسور العشرية مستعملاً الرموز (= ، < ، >).

٠,٣٧ ٠,٣٦ ٠,٠٩ ٠,١٨

٧ أرتب الكسور التالية من الأكبر إلى الأصغر.

٠,١٥ ، ٠,١٧ ، ٠,١


٨ لدى نزار $\frac{5}{8}$ كيلو غرام من الجوز، أعطاه صديقه أيسر $\frac{3}{16}$ كيلو غرام من الجوز، كم كيلو غرام من الجوز أصبح عند نزار؟

٩ يبعد منزل كمال من المدرسة $\frac{5}{6}$ كيلو متر. مشى كمال من منزله قاصداً المدرسة. وبعد أن قطع مسافة $\frac{11}{18}$ كيلو متر التقى صديقه خالدًا ومشيا معاً حتى وصلا إلى المدرسة. كم كيلو متر سارا معاً؟

الکسور العشرية حتى مرتبة الاجزاء من الف والاعداد العشرية

الدرس ١

أتعلم



١ سنتيمتر هو جزء من مئة من المتر
ويكتب على صورة الكسر $\frac{1}{100}$ متر
وعلى صورة الكسر العشري ٠,٠١ متر.
كيف يكتب المليمتر على صورة كسر
عشري من المتر؟

فكرة الدرس
أتعرف الاجزاء من
الالف
المفردات
الأجزاء من الف

تعلّمت سابقاً كتابة الأجزاء من العشرة، والأجزاء من المئة على صور كسور عشرية. وستتعلم كتابة الأجزاء من الألف على صورة كسر عشري. يمكن استعمال نموذج الألف وجدول القيمة المكانية لتمثيل الكسور العشرية وكتابتها بأجزاء من ألف. العدد الكسري: هو كسر بسطه أكبر ويمكن كتابته بأشكال مختلفة (مثل: $\frac{23}{100} = \frac{23}{100} = 0,23$)

أمثلة


١ اكتب ١ مليمتر على صورة كسر عشري من المتر.
١ متر = ١٠٠٠ مليمتر ، إذن ١ مليمتر = $\frac{1}{1000}$ من المتر
يُكتب $\frac{1}{1000}$ على صورة الكسر العشري ٠,٠٠١ ويُقرأ (جزءاً واحداً من الألف)
لذا، ١ مليمتر = ٠,٠٠١ متر



٢ بلغ وزن طفل حديث الولادة ٣,٩٣٥ كيلو غرامات.
أبين هذا الوزن على جدول القيمة المكانية.

الأجزاء من الألف	الأجزاء من المئة	الأجزاء من عشرة	الفارزة العشرية	آحاد
٥	٣	٩	٠	٣

يُقرأ العدد ٣,٩٣٥ : ثلاثة عدد صحيح ، ومئتان وخمسة وثلاثون جزءاً من الألف ويمكن كتابته ايضاً على شكل $3\frac{935}{1000}$.



٣ ما الكسر العشري الذي يمثله الجزء المظلل من مكعب الألف؟
الجزء المظلل في الشكل يمثل الكسر الاعتيادي $\frac{15}{1000}$.
ويكتب على صورة الكسر العشري ٠,٠١٥ ويُقرأ: خمسة عشر جزءاً من الألف.


٤ المتر المكعب يساوي ١٠٠٠ لتر. اكتب ٦١٨ لتراً على صورة كسر، وكسر عشري من المتر المكعب.

على صورة كسر: ٦١٨ لتر = $\frac{618}{1000}$ متر مكعب.


على صورة كسر عشري: ٦١٨ لتر = ٠,٦١٨ متر مكعب.

أتأكد

ما الكسر العشري الذي يمثله الجزء المظلل من مكعب الألف؟



٢



١

اكتب كلاً مما يأتي على صورة كسر عشري أو عدد كسري:

٣ ست مئة وخمسة وخمسون جزءاً من الألف

٤ خمس مئة وسبعة وثلاثون جزءاً من الألف

٥ وزن علبة حليب ١,٧٢٥ كيلوغرام. بين هذا الوزن على جدول القيمة المكانية.

٦ سعة علبة عصير ٣٧٥ مليلتراً. ما سعة علبة العصير على صورة كسر عشري من اللتر؟

(تذكر: ١ لتر = ١٠٠٠ مليلتر).

٧ خزان المياه يحتوي على ألف لتر من الماء أُستخدم ٥٣٢ لتراً منها لتنظيف البيت. ما الكسر العشري الذي تمثله كمية المياه المستعملة؟

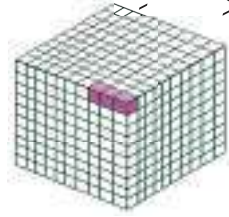
٨ شارك ألف متسابق في سباق الماراثون وأعطيت الجائزة للفائزين الثلاثة الأوائل. ما الكسر العشري الذي يمثله عدد الفائزين؟

أحدثت: كيف أكتب الجزء المظلل في الأنموذج على صورة كسرٍ عشريٍّ؟



أحل

ما الكسر العشري الذي يمثله الجزء المظلل من مكعب الألف؟



١٠



٩

اكتب كلاً مما يأتي على صورة كسرٍ عشريٍّ:

١١ سبعة وثمانون جزءاً من الألف

١٢ مئة وثمانية أجزاء من الألف.



١٣ شارع قيد الإنشاء طوله ألف متر تم تعبيد ١٢٠ متراً منه في اليوم

الأول ، ما الكسر العشري الذي تمثله المسافة المتبقية؟

تحتوي مزرعة على ١٠٠ شجرة ٤٨٥ شجرة من النخيل و١٩٢ شجرة حمضيات، و٦٨ شجرة تفاح.

وبقية الأشجار من العنب.



١٤ اكتب الكسر العشري الذي يُمثل أشجار النخيل في المزرعة.

١٥ اكتب الكسر العشري الذي يُمثل أشجار الحمضيات في المزرعة.

١٦ أبين الكسر العشري الذي يُمثل أشجار التفاح في المزرعة في جدول القيمة المكانية.

١٧ أجد الكسر الاعتيادي الذي يُمثل أشجار العنب في المزرعة، ثم أكتبه على صورة كسرٍ

عشريٍّ.

أفكر

١٨ مسألة مفتوحة: اكتب كسراً عشرياً يقع بين الكسرين العشريين ٠,٣٤٤ و٠,٤٣٥

١٩ تحد: اكتب عدداً كسرياً يقع بين ٤,٥٦ ، ٤,٥٧

مسألة تتضمن كسراً عشرياً لجزء من ١٠٠٠.

أكتب

أتعلم



الجدول التالي يبيِّن بعض مكونات أنواع العصائر في اللتر الواحد.

المكونات	الكمية (لتر)
العصير الطبيعي المركز	٠,١٥٠
السكر	٠,١٧٥
المواد الحافظة	٠,٠١٥

فكرة الدرس

أقارن بين الكسور العشرية وأرتبها

أيُّ المكونات الثلاثة في الجدول هو الأكبر؟

تعلّمت سابقاً المقارنة بين الأعداد الكلية، والكسور العشرية لغاية أجزاء من المئة. وستتعلم المقارنة بين كسور عشرية لغاية الأجزاء من الألف وترتيبها. يمكنك استعمال جدول القيمة المكانية لمقارنة الكسور العشرية.

أمثلة

١ لأجد أيُّ مكونات العصير في الجدول هو الأكبر.

أقارن باستعمال القيمة المكانية، بدءاً من اليسار.

العصير	الجزء من الف	الجزء من مئة	الأعشار	الفاصلة العشرية	الاحاد
العصير	٠	٥	١	٠	٠
السكر	٥	٧	١	٠	٠
مواد حافظة	٥	١	٠	٠	٠

اولاً) أنظر إلى مرتبة الأجزاء من العشرة، فأجد أن $٠ < ١$ وهذا يدلُّ على أنَّ كمية كلِّ من العصير والسكر أكبر من كمية المواد الحافظة.

ثانياً) انتقل إلى مرتبة الأجزاء من المئة فألاحظ أن $٥ < ٧$

لذا $٠,١٧٥$ أكبر من $٠,١٥٠$

لذا كمية السكر أكبر من كمية العصير

أي أن كمية السكر هي الأكبر.

٢ أقرن بين الكسور العشرية مستعملاً الرموز (= ، > ، <) :

أ) $0,89 < 0,99$

في منزلة الأجزاء من العشرة : $8 < 9$ ، لذا $0,89 < 0,99$.

ب) $0,914 > 0,921$

في منزلة الأجزاء من العشرة : $9 = 9$

في منزلة الأجزاء من المئة : $1 > 2$ ، لذا ، $0,914 > 0,921$.

ج) $5,416 > 6,003$

في منزلة الآحاد : $5 > 6$ ، لذا لا نقارن الجزأين الكسريين .

إذن ، $5,416$ أصغر من $6,003$.

يمكنك ترتيب كسور عشرية من الأصغر إلى الأكبر أو العكس بالمقارنة فيما بينها .

٣ أرتب الكسور التالية $0,375$ ، $0,354$ ، $0,417$ من الأكبر إلى الأصغر باستعمال جدول القيمة

المكانية

الجزء من الالف	الجزء من مئة	الأعشار	الفارزة العشرية	الاحاد
٥	٧	٣	٠	٠
٤	٥	٣	٠	٠
٧	١	٤	٠	٠

أنظر الى منزلة الأجزاء من عشرة لاحظ أن $4 < 3$

لذا ، أكبر الكسور هو $0,417$.

أقرن بين الكسرين $0,354$ و $0,375$.

أنظر الى مرتبة الأجزاء من المئة أجد أن $7 < 5$ لذا $0,375$ أكبر من $0,354$.

فيكون ترتيب الكسور العشرية من الأكبر الى الأصغر كالآتي

$0,417$ ، $0,375$ ، $0,354$

أتأكد

أقرن بين الكسور العشرية مستعملاً الرموز (= ، > ، <) :

$0,902$ $1,293$

$0,912$ $0,37$

$0,980$ $0,882$



أتعلم

يبلغ طول جناح فراشة الملكة ٠,٣١ م ، كم يساوي هذا الطول لأقرب جزء من عشرة من المتر؟

فكرة الدرس
أقرب كسوراً عشرية إلى اقرب جزء من المئة، وأقرب جزء من العشرة وأقرب جزء من الألف.

تعلمت سابقاً تقريب الأعداد الكلية لأقرب عشرة، ولأقرب مئة. ويمكنني تقريب الكسور العشرية، والأعداد الكسرية بالطريقة نفسها.

أمثلة

١) لأقرب طول جناح الفراشة إلى أقرب جزء من عشرة. أستخدم إحدى الطريقتين الآتيتين:

الطريقة (١): أستعمل خط الأعداد ← ٠,٣١ ٠,٣ ٠,٤

لاحظ أن ٠,٣١ أقرب إلى ٠,٣ منه إلى ٠,٤. لذا تقريب ٠,٣١ إلى أقرب جزء من عشرة هو ٠,٣.

الطريقة (٢): أضع خطأً تحت الرقم في المرتبة التي ستقرب إليها، وهي مرتبة الأجزاء من

عشرة ٠,٣١ انظر إلى الرقم في المرتبة التي على يمينه، أ حذف جميع الأرقام

التي إلى يمين الرقم الذي تحته خط إذا كان أكبر من ٥ وأضيف ١ إلى الرقم الذي تحته

خط وأ حذف جميع الأرقام التي على يمينه.

الرقم إلى يمينه هو ١، وبما أن ١ > ٥ فإنه يُحذف.

إذن، ٠,٣١ لأقرب جزء من عشرة هو ٠,٣.

٢) تبلغ نسبة النيتروجين في الغلاف الجوي تقريباً ٠,٧٨.

قرب هذه النسبة إلى أقرب جزء من عشرة.

ضع خطأً تحت الرقم ٧ في مرتبة الأجزاء من عشرة ٠,٧٨

الرقم على يمين الرقم ٧ هو ٨، ولأن ٨ > ٥

فإنني أضيف ١ إلى الرقم ٧.



لذا تقريب أقرب جزء من عشرة هو ٠,٧٨ الى ٠,٨ وهو أقرب جزء من عشرة.

٣) أقرب كلاً مما يأتي بحسب المطلوب.

(أ) ٠,١٦٥ إلى أقرب جزء من مئة.

الرقم في مرتبة الأجزاء من مئة هو ٦ وإلى يمينه الرقم ٥.

فانني أضيف ١ إلى الرقم ٦ ثم أ حذف الأرقام التي إلى يمينه.

لذا تقريب، ٠,١٦٥، لأقرب جزء من مئة هو ٠,١٧.

(ب) ٧,٦٥٤٩ إلى أقرب جزء من ألف.

الرقم في مرتبة الأجزاء من ألف هو ٤ والرقم الذي على يمينه هو ٩.

لأن $٩ < ٥$ لذا يضاف ١ إلى الرقم ٤ يصبح ٥ ويحذف الرقم ٩

إذن، ٧,٦٥٤٩ لأقرب جزء من ألف هو ٧,٦٥٥

أتأكد

أقرب كلاً مما يأتي إلى أقرب جزء من عشرة. (يُمكنك استعمال خط الأعداد) :

٣) ٠,٦٤

٢) ٠,٤٢٩

١) ٠,٧٩٢

٦) ٠,٨٦١

٥) ٠,٢٩٥

٤) ٠,٥٤٣

أقرب كلاً مما يأتي إلى أقرب جزء من مئة :

٩) ٠,١٦٣

٨) ٠,٩٩٤

٧) ٠,٣٤٥

١٢) ٠,٦٢٧

١١) ٠,٨٩١

١٠) ٠,٤٥٦

أقرب كلاً مما يأتي إلى أقرب جزء من ألف :

١٥) ١٢,٠٠٥٨

١٤) ١,٠٣٩٢

١٣) ٠,٣٨١٦

١٨) ١٤,١٠٦٢

١٧) ٣,٥٦٩٣

١٦) ٠,٤٥٩٢

١٩) يُشكّل الأوكسجين ما نسبته ٢١,٠ من الهواء. أقرب هذه النسبة الى أقرب جزء من عشرة.

أتحدّث: كيف أقرب ٠,٨٤٩ الى أقرب جزء من مئة ؟ أفسر اجابتي.



أحل

أقربُ كلاً ممَّا يأتي إلى أقربِ جزءٍ من عشرةٍ. (يمكنك استعمالُ خطِ الأعدادِ) :

٢٠. ٠,٥٩٢ ٢١. ٠,٤١٩ ٢٢. ٠,٠٦٩
٢٣. ٠,٧٨٣ ٢٤. ٠,٨٦١ ٢٥. ٠,٤٢٨

أقربُ كلاً ممَّا يأتي إلى أقربِ جزءٍ من مئةٍ :

٢٦. ٠,٠٣٥ ٢٧. ٠,٠٧١ ٢٨. ٠,٠٢٩
٢٩. ٠,٠٤٧ ٣٠. ٩,٠٦٩ ٣١. ٥,٠٣٨٥

أقربُ كلاً ممَّا يأتي إلى أقربِ جزءٍ من ألفٍ :

٣٢. ٠,٤١٢٧ ٣٣. ٠,٠٨١٤ ٣٤. ٠,٢٤٥٩
٣٥. ٠,٣٢١٨ ٣٦. ٣,٧٣٥ ٣٧. ٢,٤٩٧٦

٣٨. يبيِّن الجدولُ أدناه أوزانَ ٣ أطفالٍ حديثي الولادةٍ بالكيلو غرامات. أقربُ هذه الأوزانَ لأقربِ

جزءٍ من مئةٍ.

اسم الطفل	اسامه	ليث	اكرم
وزن الطفل / كغم	٣,٤١٦	٣,٠١٨٤	٣,٢٨٥

أفكر

٣٩. ما أصغرُ عددٍ تقريبيُّه لأقربِ من الف هو ٠,٠٩٢ ؟

٤٠. **تحذُّر:** قربُ ٠,٠٨٩ إلى أقربِ جزءٍ من المئةِ ثم إلى أقربِ جزءٍ من العشرةِ .

٤١. **حس عددي:** أكتب أكبرَ عددين من ٣ مراتبٍ عشريةٍ تقريب كل منهما لأقربِ جزءٍ من مئةٍ

هو ٠,٧٢

مسألة من واقع الحياة أستخدمُ فيها تقريبَ الكسورِ العشريةِ .

أكتب



أتعلم

يُمثل الماء الموجود في إبريق ٠,٨٥ لتراً. هل يمكنك كتابة هذا الكسر على صورة كسر اعتيادي؟

فكرة الدرس

أحوّل بين الكسور العشرية والكسور الاعتيادية والأعداد الكسرية

تعلّمت سابقاً أنّ الكسر العشريّ من مرتبة عشرية واحدة هو كسر اعتياديّ مقامه ١٠

فمثلاً، $٠,٦ = \frac{٦}{١٠}$ والكسر العشريّ من مرتبتين عشريتين هو كسر اعتياديّ مقامه ١٠٠

فمثلاً $٠,٢٥ = \frac{٢٥}{١٠٠}$ ، وكذلك $٠,٠٨ = \frac{٨}{١٠٠}$.

وبالطريقة نفسها يمكنك كتابة كسر عشريّ لغاية الأجزاء من ألف على صورة كسر عشريّ.

الكسر العشريّ هو كسر اعتياديّ بسطه العدد المكوّن من الأرقام في المراتب العشرية ومقامه عدد يتكوّن من ١ وعلى يمينه أصفارٌ بعدد المراتب العشرية.

أمثلة

١ كتابة الكسر ٠,٨٥ على صورة كسر اعتياديّ. بما أن ٠,٨٥ يتكوّن من مرتبتين عشريتين،

$$\text{لذا } ٠,٨٥ = \frac{٨٥}{١٠٠}$$

ويمكنني كتابة كسر اعتيادي بصورة أبسط بقسمة كل من بسطه ومقامه على العدد نفسه.

وتساعد قواعد قابلية القسمة على ذلك.

فمثلاً كل من بسط ومقام الكسر $\frac{٨٥}{١٠٠}$ يقبلان القسمة على ٥ . لذا بقسمة كل من البسط

$$\text{والمقام على ٥، أحصل على الكسر } \frac{١٧}{٢٠} = \frac{٥ \div ٨٥}{٥ \div ١٠٠}$$

ولتحويل كسر اعتياديّ إلى كسر عشريّ، أحوّل الكسر الاعتياديّ إلى كسر مقامه ١٠ أو ١٠٠ أو

١٠٠٠ بضرب كل من البسط والمقام في العدد نفسه، أو قسمتهما على العدد نفسه.

٢ استعملت مديحة $\frac{١}{٤}$ كيلو غرام من السكر في صنع حلوى. اكتب كمية السكر

المستعملة على صورة كسر عشريّ.

أحوّل الكسر إلى كسر مقامه ١٠ أو ١٠٠ أو ١٠٠٠

لا يوجد عددٌ كليٌّ ناتج ضربِه في ٤ يساوي ١٠، لذا ابحث عن عدد ناتج ضربِه في ٤ يساوي ١٠٠.

العدد هو ٢٥

$$\frac{٢٥}{١٠٠} = \frac{٢٥ \times ١}{٢٥ \times ٤} = \frac{١}{٤} \text{ لذا}$$
$$٠,٢٥ = \frac{٢٥}{١٠٠}$$

كتابة العدد الكسري على صورة كسرٍ عشريٍّ أحوّل الجزء الكسريّ منه الى كسرٍ عشريٍّ ثم أكتب العدد الكسريّ بالعدد الكلي نفسه والكسر العشريّ إلى يمين الفارزة العشرية.

٣ أحوّل إلى الصورة المطلوبة.

أ) ٥,٤ إلى عددٍ كسريّ.

$$٥ \frac{٤}{١٠} = ٥,٤$$

كما يمكن تبسيط الكسر $\frac{٤}{١٠}$ بقسمة كل من البسط والمقام على ٢ فيصبح $\frac{٢}{٥}$

$$\text{لذا، } ٥ \frac{٢}{٥} = ٥,٤$$

ب) $١٥ \frac{٧}{٢٠}$ إلى الصورة العشرية.

$$١٥,٣٥ = ١٥ \frac{٣٥}{١٠٠} = ١٥ \frac{٥ \times ٧}{٥ \times ٢٠} = ١٥ \frac{٧}{٢٠}$$

أتأكد

أحوّل كل كسرٍ اعتياديٍّ إلى كسرٍ عشريٍّ :

$$\frac{٣}{١٠} \text{ (٤)} \quad \frac{١}{٥} \text{ (٣)} \quad \frac{٦}{١٠٠} \text{ (٢)} \quad \frac{٧٥}{١٠٠} \text{ (١)}$$

أحوّل الكسر العشريّ إلى كسرٍ اعتياديٍّ. وابسطه :

$$٠,٢٢٥ \text{ (٨)} \quad ٠,٣٥٠ \text{ (٧)} \quad ٠,١٤ \text{ (٦)} \quad ٠,٧٥ \text{ (٥)}$$

أحوّل إلى عددٍ كسريٍّ :

$$١,٤٨ \text{ (١١)} \quad ٣,٢٥ \text{ (١٠)} \quad ٦,٨ \text{ (٩)}$$

أحوّل إلى الصورة العشرية :

$$١٧ \frac{٨}{٥٠٠} \text{ (١٤)} \quad ٤١ \frac{٣}{٥} \text{ (١٣)} \quad ٩ \frac{٣}{٤} \text{ (١٢)}$$



١٥ لدى صائغ ١٨,٤ كيلو غرام من الذهب، اكتب هذا الوزن على صورة عدد كسري.

أتحدث: أبين كيف أحول عدداً كسرياً إلى الصورة العشرية.

أحل

أحول كل كسر اعتيادي إلى كسر عشري:

$$\frac{7}{10} \quad ١٩$$

$$\frac{2}{5} \quad ١٨$$

$$\frac{24}{1000} \quad ١٧$$

$$\frac{25}{100} \quad ١٦$$

أحول الكسر العشري إلى كسر اعتيادي. وأبسّطه:

$$٠,١٢٥ \quad ٢٣$$

$$٠,٠٥ \quad ٢٢$$

$$٠,١٥٠ \quad ٢١$$

$$٠,٤٥ \quad ٢٠$$

أحول إلى عدد كسري:

$$٥,٨٨ \quad ٢٦$$

$$١١,٧٥ \quad ٢٥$$

$$٣,٦ \quad ٢٤$$

أحول إلى الصورة العشرية:

$$١٣\frac{22}{500} \quad ٢٩$$

$$٢٤\frac{3}{٢٠} \quad ٢٨$$

$$٢\frac{1}{٤} \quad ٢٧$$

٣٠ سبيكة من الذهب والنحاس وزنها ١٠٠٠ غرام فيها ٨٥ غراماً من النحاس، ما الكسر العشري

الذي يمثل وزن النحاس في السبيكة؟



٣١ تحتوي صالة رياضية على ألف مقعد. إذا كان في الصالة

٦٥٠ شخصاً جالسين على مقاعد. فما الكسر الاعتيادي الذي

يمثل على عدد المقاعد المشغولة؟ وما الكسر العشري الذي

يمثل المقاعد الفارغة؟

أفكر

٣٢ مسألة مفتوحة: اكتب كسراً عشرياً بين الكسرين الاعتياديين $\frac{1}{5}$ ، $\frac{2}{5}$.

٣٣ حس عددي: من دون اجراء حسابات أي العددين أكبر ٨,٥ أم ٨,٥٧؟

مسألة احتاج فيها تحويل اعداد كسرية الى اعداد عشرية.

أكتب

أتعلم

هل يُمكن إيجاد قاعدة للنمط ادناه، وإيجاد العدد المفقود منها؟

١،٠	٢،٠	٣،٠	٤،٠	؟
-----	-----	-----	-----	---

فكرة الدرس
أجد قاعدة نمط من الكسور العشرية وأكمل النمط.

تعلّمت سابقاً أنماطاً عديدةً، وعرفت أنّ النمط يسيرُ على وفق قاعدةٍ يطلقُ عليها قاعدة النمط. وباستعمال القاعدة يمكنني إيجاد أعداد مفقودة في النمط. وبالطريقة نفسها، يمكن إيجاد قاعدة نمط من كسور عشرية. وإيجاد كسور غير معلومة (مجهولة) فيه.

أمثلة

١ أجد العدد المفقود في النمط.

١،٠	٢،٠	٣،٠	٤،٠	؟
-----	-----	-----	-----	---

بما أن الكسور تتزايد بمقدار ٠،١ في كل مرة. لذا العدد المفقود هو ٠،٥

يمكنك الاستفادة من العدّ القفزيّ في وصف قاعدة لبعض الأنماط.

٢ أصف قاعدة النمط ثم أجد العدد المفقود

١٥،٠	٢٠،٠		٣٠،٠	٣٥،٠
------	------	--	------	------

ألاحظ أنّ الأعداد تتزايد بمقدار ٠،٥ في كل مرة. لذا قاعدة النمط هي: أجمع ٠،٥ في كل مرة. فيكون العدد المفقود هو ٢٥،٠



٣ قاست شهد طول نبتة في بعض الأسابيع فوجدتها تسيرُ على وفق نمطٍ عدديٍّ. سجّلتُ شهد الأطوال الآتية بالمتري. أكتب قاعدة النمط وأكمل الجدول.

الأسبوع	الأول	الثاني	الثالث	الرابع	الخامس	السادس	السابع
الطول	٠,٢١٥	٠,٢٢١	٠,٢٢٧			٠,٢٤٥	

ألاحظُ أنّ الأعدادَ تتزايدُ بمقدارِ ٠,٠٠٦ في كلِّ مرةٍ، لذا قاعدة النمط هي: أجمعُ ٠,٠٠٦ في كلِّ مرةٍ. فيكونُ العددُ المفقود هو ٠,٢٣٣ ، ٠,٢٣٩ ، ٠,٢٥١

أؤكد

أكتبُ قاعدة النمط ثم أكمله :

١	٠,٢٢٣	٠,٢٢١	٠,٢١٩				
---	-------	-------	-------	--	--	--	--

قاعدة النمط

٢	٠,١٦	٠,٢٠	٠,٢٨				
---	------	------	------	--	--	--	--

قاعدة النمط

٣	٠,٠٧٥	٠,١٥٠	٠,٢٢٥	٠,٤٥٠			
---	-------	-------	-------	-------	--	--	--

قاعدة النمط

٤	٠,١١٠	٠,١٢٠	٠,١٥٠				
---	-------	-------	-------	--	--	--	--

قاعدة النمط

٥ هطلت الأمطارُ بصورةٍ خفيفةٍ ومنتظمةٍ على إحدى المدن. سجّل الراصدُ الجويُّ كميةَ الأمطارِ المتجمعة في أنبوب اختبارٍ في ٨ ساعاتٍ متتاليةٍ بالسنتيمتر، فوجد أنها تُشكّل نمطاً. يبيّن الجدولُ كميةَ الأمطارِ المتجمعة في بعض الساعات. أصف النمط وأكمل الجدول.

الساعة	الأولى	الثانية	الثالثة	الرابعة	الخامسة	السادسة	السابعة	الثامنة
الكمية	٠,٠٩	٠,١٥	٠,٢١				٠,٤٥	

أحدث : أكتبُ نمطاً من الكسور العشرية ثم أصفه في موقفٍ من الحياة اليومية.

أكتب قاعدة النمط ثم أكمله :

			٠,٥٦٢	٠,٥٥٨	٠,٥٥٤	٦
--	--	--	-------	-------	-------	---

قاعدة النمط

		٠,٣٦		٠,٢٤	٠,١٨	٧
--	--	------	--	------	------	---

قاعدة النمط

٠,٠٧٢				٠,٠٢٤	٠,٠١٢	٨
-------	--	--	--	-------	-------	---

قاعدة النمط

			٠,٤٣٣	٠,٤٦٣	٠,٤١٣	٩
--	--	--	-------	-------	-------	---

قاعدة النمط

١٠ حضرت أسماء وصفة عمل كعكة. يبين الجدول كميات الدقيق بالكيلوغرام التي وضعتها أسماء في الخلط في عدد من الدقائق. أكتب قاعدة النمط. وأكمل الجدول.

الدقيقة	الأولى	الثانية	الثالثة	الرابعة	الخامسة	السادسة
الكمية	٠,١٢٥	٠,١٧٥	٠,٢٢٥			

أفكر

١١ الكسور العشرية الآتية تشكل نمطاً تغيرت مواقع بعض الأعداد فيه، أعد ترتيبها من الأصغر الى الأكبر لتبين النمط.

٠,٦٣٣ ، ٠,٦٠٠ ، ٠,٦٢٢ ، ٠,٦٥٥ ، ٠,٦١١ ، ٠,٦٤٤

١٢ حس عددي: أكتب نمطاً قاعدته اضعف ٠,٠٠٥ .

أكتب خمسة كسور عشرية مرتبة بشكل نمط .





فكرة الدرس
أمثل بأنموذج

الجدول التالي يبين الأهداف التي سجّلها همام وهاشم ورياض في مباراة لكرة اليد

رياض	هاشم	همام
٦	٧	٥

مثل البيانات بطريقة أخرى تُساعدك على المقارنة لمعرفة أيهم أكثر أهدافاً.

أفهم

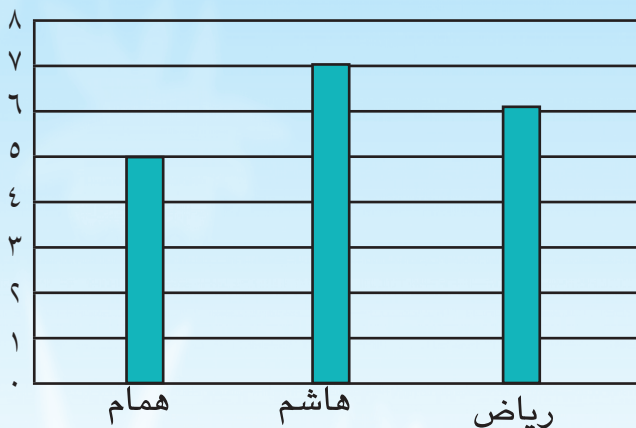
ما المعطيات من المسألة؟ عدد الأهداف التي سجّلها همام وهاشم ورياض.
ما المطلوب في المسألة؟ تمثيل البيانات بطريقة أخرى تُسهّل المقارنة بين الأهداف المسجّلة.

أخط

كيف أحل المسألة؟

أبحث عن طريقة تُساعدني في حل المسألة

أحل



استعمل تمثيل البيانات بالأعمدة حيث تمثل الأعمدة باللون الأزرق عدد أهداف اللاعبين في المباراة. العامود الذي يمثل عدد أهداف هاشم هو أطولها لذا هو أكثرهم أهدافاً.

أتحقق

بما أن العمود الذي يشير للرقم ٧ هو أكبر من العددين ٥ ، ٦ لذا فالحل صحيح.

مَسَائِلُ

١ حصلَ أشرفُ على الدرجاتِ التي في الجدولِ للأشهرِ تشرينِ الأولِ وتشرينِ الآخرِ وكانونِ الأولِ في مادةِ الرياضياتِ.

الاشهر	تشرين الاول	تشرين الآخر	كانون الاول
الدرجات	٨٠	٧٥	٩٠

٢ مثلُ البياناتِ بطريقةٍ أخرى تُساعدُك على المقارنةِ بين درجاته في الأشهرِ الثلاثةِ. يمثلُ الجدولُ التالي معدلَ درجاتِ الحرارةِ في مدينةِ ديالى للأشهرِ المبينةِ.

الاشهر	كانون الثاني	شباط	اذار
درجة الحرارة	١٧	٢٠	٢٥

مثلُ البياناتِ بطريقةٍ أخرى تُساعدُك على المقارنةِ بين درجاتِ الحرارةِ في كلِّ شهرٍ.

٣ سألَ المعلمُ التلاميذَ عن الحيواناتِ التي يريدونَ مشاهدتها لدى زيارتهم حديقةَ الحيوانِ وكانتُ إجاباتهم كما في الجدولِ التالي:

الحيوانات	الاسد	الغزال	القرد
عدد التلاميذ	٥	٣	٨

مثلُ البياناتِ بطريقةِ الأعمدة. لتساعدك على المقارنة بينها .

٤ سجلَ أحمدُ أوزانَ مجموعةٍ من الأطفالِ بالكيلوغرامات فكانت كما يلي :

٥، ٦، ٧، ٥، ٦، ٦، ٩، ٥، ٧، ٨، ٨، ٥، ٦، ٦، ٨، ٨، ٨، ٨، ٧، ٥

مثلُ البياناتِ بجدولِ الإشارات.



مراجعة الفصل

المفردات


الجزء من الف ، الجزء من مئة ، الجزء من عشرة .

أكمل الجمل التالية باستعمال المفردات في الجدول اعلاه :

- ١ ٠,٢٣١٥ أقرب الى أقرب جزء من ٠,٢٣٢
- ٢ ٠,٤٢٩ أقرب الى أقرب جزء من ٠,٤
- ٣ ٠,٨٩١ أقرب الى أقرب جزء من ٠,٨٩

الدرس (١) الكسور العشرية حتى مرتبة الأجزاء من الألف

مثال : اكتب وأقرأ الكسر العشري الذي تمثله الأجزاء المظللة في نموذج مكعب الألف .

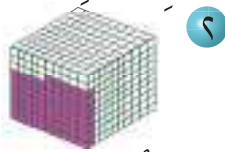


اكتبه : ٠,٠٠٤


أقرأه : أربعة من الالف

تدريب :

ما الكسر العشري الذي يمثله الجزء المظلل من مكعب الألف؟



٢



١

٣ اشترت رقبة ٠,٢٣٥ كيلوغرام من المكسرات اكتب العدد باللغة الكلامية .

اكتب كلاً مما يأتي على صورة كسر عشري:

٤ ثلاث مئة وخمسة وأربعون جزءاً من الالف ٥ تسع مئة واثنان وعشرون جزءاً من الالف

الدرس (٢) مقارنة الكسور العشرية وترتيبها

مثال : أقرن بين الكسور العشرية ٠,١٨٥ ، ٠,١٩ مستعملاً الرموز (= ، > ، <)

في منزلة الأجزاء من عشرة $٠ < ١$ ، لذا ، $٠,١٨٥ < ٠,١٩$

تدريب :

١ أقرن بين الكسور العشرية مستعملاً الرموز (= ، > ، <)

٠,٢٨٩ ، ٠,٠٥٩ ، ٠,١٣٦ ، ٠,٤٤٥ ، ٠,٣٦٧ ، ٠,٣٤٥ ، ٠,٨٤ ، ٠,٨٤٠

٢ اشترى صالح ٠,١٣٥ كيلوغرام واشترى أحمد ٠,١٨ كيلوغرام من التوابل ، ايهما

أشترى كمية أكثر من التوابل؟

الدرس (٣) تقريب الكسور العشرية

الدرس (٣)

مثال : أقرب ٠,٧٩ الى أقرب جزء من مئة

ألاحظ ان ٠,٧٩ قريبة الى ٠,٨٠ ، لذا ، ٠,٧٩ لأقرب جزء من مئة هو ٠,٨٠ أو ٠,٨

تدريب: أقرب كلاً مما يأتي إلى أقرب جزء من عشرة.

١ ٠,٣٩٢ ٢ ٠,٥٢٦ ٣ ٠,٠٨١

أقرب كلاً مما يأتي إلى أقرب جزء من مئة:

٤ ٠,٢٨٥ ٥ ٠,٠٩٦ ٦ ٠,٤٧٣

أقرب كلاً مما يأتي إلى أقرب جزء من ألف:

٧ ٠,١٤٢٦ ٨ ٤,٠٩٦٢ ٩ ٢,٠٠٣٩

الدرس (٤) التحويل بين الكسور الاعتيادية والكسور العشرية والأعداد الكسرية

مثال:

أحول ٠,٧٥ إلى كسر اعتيادي. وبسطه. $\frac{75}{1000} = 0,75$ أقسم البسط والمقام على ٢٥ ،

$$\text{لذا} \quad \frac{3}{40} = \frac{75 \div 25}{25 \div 1000} = \frac{75}{1000}$$

تدريب: أحول كل كسر اعتيادي إلى كسر عشري:

١ $\frac{50}{100}$ ٢ $\frac{20}{1000}$ ٣ $\frac{4}{5}$ ٤ $\frac{7}{10}$

أحول الكسر العشري إلى كسر اعتيادي. وبسطه:

٥ ٠,٤٥ ٦ ٠,٠٢٤ ٧ ٠,١٢٥ ٨ ٠,٦٢٥

أحول إلى عدد كسري: ٩ ٨,٤ ١٠ ٦,٥ ١١ ١,٧٥

أحول إلى الصورة العشرية:

١٢ $3\frac{1}{4}$ ١٣ $15\frac{2}{5}$ ١٤ $\frac{21}{500}$

الدرس (٦) أنماط الكسور العشرية

مثال:

أصف النمط. ثم أكمل الجدول.

٠,٥٥٤	٠,٥٥٨	٠,٥٦٢	٠,٥٧٤
-------	-------	-------	-------

الأعداد إلى يمين الفارزة العشرية تتزايد بمقدار ٠,٠٠٤ في كل مرة. لذا، القاعدة هي أجمع ٠,٠٠٤

للعدد على يمين الفارزة العشرية. يصبح الجدول:

٠,٥٥٤	٠,٥٥٨	٠,٥٦٢	٠,٥٦٦	٠,٥٧٠	٠,٥٧٤
-------	-------	-------	-------	-------	-------

تدريب: أصف النمط. ثم أكمل الجدول.

٠,١٧	٠,٢٤	٠,٣١		
------	------	------	--	--



اختبار الفصل



١ اكتب الجزء المظلل في الشكل المجاور على صورة كسرٍ عشريٍّ .

اكتب كلاً ممّا يأتي على صورة كسرٍ اعتياديٍّ، وكسرٍ عشريٍّ :

٢ خمسةٌ وثلاثونَ جزءاً من ألفٍ ٣ مئةٌ وثمانيةٌ وسبعونَ جزءاً من ألفٍ

حوّل إلى عددٍ كسريٍّ.

٤ ٣,٠٨ ٥ ١٥,٢٥

قرب إلى أقرب جزء من ألفٍ

٦ ١,٠٣٩٢ ٧ ٢,٥٤٦٨

٨ استعمل جدول القيمة المكانية لترتيب الأعداد من الأصغر إلى الأكبر.

٠,٣٣ ، ٠,٢٢٤ ، ٠,١٧٦ ، ٠,٧٢٢

حوّل من كسرٍ اعتياديٍّ إلى كسرٍ عشريٍّ، أو من كسرٍ عشريٍّ إلى كسرٍ اعتياديٍّ.

٩ $\frac{63}{100}$ ١٠ $\frac{1}{10}$ ١١ ٠,٦٥ ١٢ ٠,٣٢٥

١٣ $\frac{5}{10}$ ١٤ $\frac{22}{100}$ ١٥ ٠,٦٨ ١٦ ٥٠,٢٢٥

١٧ استعمل معلم التربيّة الفنية شريطاً طوله ٠,٣٦ متر في عملٍ فنيٍّ ما الكسرُ الاعتياديُّ الذي

يمثل طول الشريط؟ ثم بسّطه.

١٨ لوّن رائد ١٧ مربعاً من أنموذجٍ مربعاتِ المئة. ولوّنت سلمى ٢٥ مربعاً أنموذجاً آخر من مربعاتِ

المئة، ما الكسرُ العشريُّ الذي مثله كلٌّ من رائدٍ وسلمى؟ وأيُّهما أكبر؟

١٩ قطع صادق مسافة سبعمائة وخمسة وعشرين من الألف من الكيلومتر اكتب ما المسافة

التي قطعها صادق على صورة كسرٍ عشريٍّ، وعلى صورة كسرٍ اعتياديٍّ.

عمليات على الكسور الاعتيادية والعشرية

سوف أتعلّم في هذا الفصل :

الدرس (١) جمع الكسور الاعتيادية ذات المقامات
المختلفة وطرحها

الدرس (٢) جمع الأعداد الكسرية وطرحها

الدرس (٣) جمع الكسور العشرية و الأعداد العشرية
وطرحها

الدرس (٤) ضرب الكسور الاعتيادية

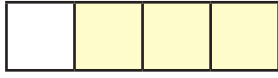
الدرس (٥) الجمل العددية المفتوحة

الدرس (٦) خطة حل المسألة (اكتب جملة عددية)

ما الكسر الذي تمثله كمية البيتزا المتبقية؟

الإختبار القبلي

اكتب الكسر الذي يمثله الجزء الملون في الأشكال الآتية :



٢



١



٤



٣

أعبر عن الكسور التالية بنماذج كما في الأسئلة السابقة :

٥ $\frac{2}{6}$ النموذج

٦ $\frac{5}{9}$ النموذج

٧ أرتب الكسور الآتية تصاعدياً

$$\frac{2}{5}, \frac{1}{2}, \frac{4}{6}, \frac{3}{3}$$

٨ أصل بين الكسر في المجموعة الأولى والكسر الذي يكافئه في المجموعة الثانية :

المجموعة الأولى: $\frac{3}{4}, \frac{2}{6}, \frac{4}{10}, \frac{1}{2}$

المجموعة الثانية: $\frac{2}{5}, \frac{9}{12}, \frac{5}{10}, \frac{1}{3}$

أجد ناتج ما يلي:

٩ $= \frac{3}{4} + \frac{2}{8}$

١٠ $= \frac{3}{5} - \frac{8}{10}$

أقارن بين كل كسرين بوضع أحد الرموز: ($<$ أو $>$ أو $=$) في \bigcirc :

١٢ $\frac{8}{12} \bigcirc \frac{5}{6}$

١١ $\frac{1}{6} \bigcirc \frac{3}{9}$

١٤ $\frac{1}{3} \bigcirc \frac{2}{6}$

١٣ $\frac{3}{4} \bigcirc \frac{5}{8}$



أتعلم



اشترى تلاميذ الصف الخامس الابتدائي عدداً من أوراق الزينة. استعملوا $\frac{1}{3}$ أوراق الزينة في تزيين مقدمة غرفة الصف، وعلقوا $\frac{3}{8}$ الأوراق على جدران الغرفة،

ما الكسر الذي يمثل أوراق الزينة التي استعملها التلاميذ لتزيين الصف؟

فكرة الدرس

أتعرفُ جمعَ الكسور الاعتيادية ذات المقامات المختلفة وطرحها

تعلّمت سابقاً جمعَ وطرحَ كسرين لهما المقام نفسه، أو مقام أحدهما ضعفُ مقام الآخر. وتعلّمت أيضاً إيجادَ كسرٍ مكافئٍ لكسرٍ معلوم. سيساعدك هذا التعلّم السابق على جمع أو طرح كسورٍ بمقاماتٍ مختلفة.

أمثلة

١ لأجد الكسرَ الدالَّ على أوراقِ الزينةِ المستعملة لتزيينِ غرفةِ الصفِ هو $\frac{1}{3} + \frac{3}{8}$

لجمعِ الكسرينِ $\frac{1}{3}$ و $\frac{3}{8}$ ابحثُ عن كسرينِ مكافئينِ لهما المقام نفسه.

أجد مضاعفاتِ ٨ : ٨ ، ١٦ ، ٢٤ ، ٣٢ ،

أجد مضاعفاتِ ٣ : ٣ ، ٦ ، ٩ ، ١٢ ، ١٥ ، ١٨ ، ٢١ ، ٢٤ ،

أول مضاعفٍ مشتركٍ بين العددين ٨ و ٣ هو ٢٤

اجعلُ مقامَ كلِّ من الكسرينِ $\frac{1}{3}$ و $\frac{3}{8}$ العددَ ٢٤

اضربِ البسطَ والمقامَ في ٣

$$\frac{9}{24} = \frac{3 \times 3}{3 \times 8} = \frac{3}{8}$$

اضربِ البسطَ والمقامَ في ٨

$$\frac{8}{24} = \frac{8 \times 1}{8 \times 3} = \frac{1}{3}$$

$$\frac{17}{24} = \frac{8 + 9}{24} = \frac{8}{24} + \frac{9}{24} = \frac{1}{3} + \frac{3}{8}$$

لذا الكسرُ الدالَّ على أوراقِ الزينةِ المستخدمة لتزيينِ غرفةِ الصفِ هو $\frac{17}{24}$



٢) اناءان من الماء في احدهما $\frac{5}{9}$ لتر وفي الآخر $\frac{1}{6}$ لتر ، بكم يزيد ما في الإناء الأول

عما في الإناء الثاني ؟

لأجد ما يزيد الإناء الأول على الإناء الثاني اطرح $\frac{1}{6}$ من $\frac{5}{9}$.

أجد مضاعفات ٦ : ٦ ، ١٢ ، ١٨ ، ٢٤ ،

أجد مضاعفات ٩ : ٩ ، ١٨ ، ٢٧ ،

أول مضاعف مشترك بين العددين ٦ و ٩ هو ١٨

$$\frac{3}{18} = \frac{3 \times 1}{3 \times 6} = \frac{1}{6} \quad \text{و} \quad \frac{10}{18} = \frac{2 \times 5}{2 \times 9} = \frac{5}{9}$$

$$\frac{7}{18} = \frac{3}{18} - \frac{10}{18} = \frac{1}{6} - \frac{5}{9}$$

لذا يزيد الإناء الأول على الإناء الثاني بمقدار $\frac{7}{18}$ لتراً .

أتأكد

أجد ناتج ما يلي:

$$\frac{7}{9} + \frac{2}{6} \quad \text{٢}$$

$$\frac{2}{6} + \frac{1}{7} \quad \text{١}$$

$$\frac{5}{8} - \frac{11}{12} \quad \text{٤}$$

$$\frac{1}{8} + \frac{6}{7} \quad \text{٣}$$

$$\frac{3}{15} - \frac{2}{3} \quad \text{٦}$$

$$\frac{1}{8} - \frac{6}{7} \quad \text{٥}$$

٧) نظف يوسف $\frac{1}{5}$ حديقة المنزل، ونظف غيث $\frac{2}{7}$ الحديقة نفسها. ما الكسر الدال على

ما نظفه يوسف وغيث معاً من الحديقة؟



٨) اشترى أشرف $\frac{3}{4}$ كيلو غرام من الحلوى. أكل منها

$\frac{3}{5}$ كيلو غرام فكم كيلو غراماً بقي من الحلوى؟

أحدث: كيف أجمع كسرين مقاماهما مختلفان ؟



أجدُ ناتجَ ما يلي:

٩. $\frac{1}{4} + \frac{2}{6}$

١٠. $\frac{1}{6} + \frac{3}{7}$

١١. $\frac{3}{5} + \frac{2}{9}$

١٢. $\frac{1}{4} - \frac{5}{16}$

١٣. $\frac{2}{3} - \frac{6}{7}$

١٤. $\frac{4}{14} - \frac{2}{3}$

١٥. اشترى مازن وياسرُ علبةً من العصيرِ. شربَ مازنُ $\frac{3}{4}$ العلبة،وشربَ ياسرُ $\frac{1}{6}$ العلبة. ما الكسرُ الدالُّ على ما شربه الاثنانِ معا

من علبة العصيرِ؟

١٦. سلكٌ كهربائي طوله $\frac{5}{16}$ متر قُطع منه سلك طوله $\frac{3}{8}$ متر. كم متراً بقي من السلك؟

أفكر

١٧. **تفكير ناقد:** احتاج سعيدٌ إلى $\frac{7}{9}$ متر من الحبالِ، لذا وصلَ حبالاً طوله $\frac{1}{3}$ متر بحبلِآخر طوله $\frac{5}{9}$ متر، فهل يفي الحبلُ الموصولُ بالغرضِ؟١٨. **تحذ:** جد ناتجَ :

$$\frac{1}{3} + \frac{1}{4} + \frac{1}{6}$$

أكتب مسألةً تتضمنُ كسرينِ حاصلُ جمعهما يكونُ $\frac{5}{16}$.

جمع الاعداد الكسرية وطرحها

الدرس ٢

أتعلم



قطع عداء مسافة $10\frac{1}{4}$ كيلو متر في الساعة الأولى و $9\frac{1}{3}$ كيلو متر في الساعة الثانية ، كم كيلو متراً قطع العداء في الساعتين ؟

فكرة الدرس

أجمع أعداداً كسرية وأطرحها

أولاً : لجمع كسرين ولجمع عددين كسريين، أجمع الجزئين الكسريين معاً، والعددين الكليين معاً ثم أجمع الناتجين. أو حول العددين الكسريين إلى كسرين كل منهما أكبر من ١ ثم أجمع الناتجين.

ثانياً : لطرح كسرين ولطرح عددين كسريين، أطرح الجزئين الكسريين معاً، والعددين الكليين معاً ثم أطرح الناتجين. أو حول العددين الكسريين إلى كسرين كل منها أكبر من واحد ثم أطرح الناتجين

أمثلة

١ لأجد المسافة التي قطعها العداء في الساعتين، أجمع $10\frac{1}{4}$ و $9\frac{1}{3}$.
الطريقة (١): أجمع الجزئين الكسريين معاً، والعددين الكليين معاً.

$$9 + 10 + \frac{1}{3} + \frac{1}{4} = 9\frac{1}{3} + 10\frac{1}{4}$$

أول مضاعف مشترك للمقامين ٣ و ٤ هو ١٢ (لاحظ أمثلة الدرس الأول)

$$\frac{7}{12} = \frac{4}{12} + \frac{3}{12} = \frac{4 \times 1}{4 \times 3} + \frac{3 \times 1}{3 \times 4} = \frac{1}{3} + \frac{1}{4}$$

$$19\frac{7}{12} = 19 + \frac{7}{12} = 9\frac{1}{3} + 10\frac{1}{4}$$

قطع العداء $19\frac{7}{12}$ كم في الساعتين.

الطريقة (٢): حول كلا العددين الكسريين إلى كسرين أكبر من ١ .

اضرب ٤ في ١٠ ثم اجمع الناتج

$$\frac{41}{4} = 10\frac{1}{4}$$

اضرب ٣ في ٩ ثم اجمع الناتج

$$\frac{28}{3} = 9\frac{1}{3}$$

$$\frac{28}{3} + \frac{41}{4}$$

أول مضاعف مشترك للمقامين 3 و 4 هو 12

$$\frac{235}{12} = \frac{112}{12} + \frac{123}{12} = \frac{4 \times 28}{3 \times 4} + \frac{3 \times 41}{3 \times 4} = \frac{28}{3} + \frac{41}{4}$$

أحوّل الكسر $\frac{235}{12}$ إلى عدد كسريّ بقسمة البسط على المقام.

$$235 \div 12 = 19 \text{ والباقي } 7$$

$$\text{لذا } 19 \frac{7}{12} = \frac{235}{12}$$

٢ لدى بائع لفة قماش طولها $25 \frac{1}{2}$ متراً، باع منها $12 \frac{1}{4}$ متراً كم متراً بقي من لفة القماش؟ لأجدض طول القماش المتبقي في لفة القماش بالأمتار. أطرّح $12 \frac{1}{4}$ من $25 \frac{1}{2}$ اطرّح 12 من

٢٥. اطرّح الجزأين الكسريين، واطرّح العددين الكليين.

$$\left(12 - 25\right) + \left(\frac{1}{4} - \frac{1}{2}\right) = 12 \frac{1}{4} - 25 \frac{1}{2}$$

$$13 \frac{1}{4} = (12 - 25) + \left(\frac{1}{4} - \frac{2}{4}\right)$$

إذن، بقي في لفة القماش $13 \frac{1}{4}$ متراً.

في المثال (١) السابق كان الكسر في المطروح $\frac{1}{4}$ أصغر من الكسر في المطروح منه $\frac{1}{2}$ ، لذا تمت عملية الطرح بسهولة. ولكن إذا كان الكسر في المطروح أكبر من الكسر في

المطروح منه فإن تحويل الأعداد الكسرية إلى كسور أكبر من ١ يجعل الطرح أكثر سهولة.

$$\text{٣ أجد الناتج: } 8 \frac{2}{9} - 6 \frac{3}{7}$$

أحوّل العددين الكسريين إلى كسرين كل منهما أكبر من ١.

$$\frac{45}{7} - \frac{74}{9} = \frac{3 + 6 \times 7}{7} - \frac{2 + 8 \times 9}{9}$$

أول مضاعف مشترك للمقامين 7 و 9 هو 63.

$$1 \frac{50}{63} = \frac{113}{63} = \frac{405}{63} - \frac{518}{63} = \frac{45}{7} - \frac{74}{9}$$

لاحظ انه تم تحويل

الكسر $\frac{1}{2}$

الى كسر مكافئ له

هو $\frac{2}{4}$

أتأكد

أجد ناتج ما يلي :

$$5 \frac{2}{3} + 4 \frac{1}{5} \quad \text{٣}$$

$$2 \frac{3}{6} + 1 \frac{4}{7} \quad \text{٤}$$

$$3 \frac{3}{4} + 2 \frac{2}{7} \quad \text{١}$$

$$8 \frac{1}{8} + 4 \frac{6}{10} \quad \text{٦}$$

$$5 \frac{3}{9} + 2 \frac{2}{7} \quad \text{٥}$$

$$3 \frac{3}{5} + 6 \frac{2}{9} \quad \text{٤}$$

$$٧ \frac{٣}{٧} + ٩ \frac{٥}{٨} \text{ ٩}$$

$$٢ \frac{٣}{٤} - ١١ \frac{١}{٢} \text{ ٨}$$

$$٤ \frac{٤}{٧} - ٦ \frac{٢}{٥} \text{ ٧}$$



١٠. اشترى أحمد $\frac{١}{٢}$ كيلو غرام من البرتقال و $\frac{٣}{٤}$

كيلو غرام من التفاح . كم كيلو غراماً من البرتقال والتفاح

اشترى أحمد؟

أحدث: أوضِّح الطرائق التي استعملها في إيجاد ناتج $\frac{١}{٦} + \frac{٣}{٤}$.

أحل

أجد ناتج ما يلي :

$$١١ \frac{٥}{٩} + ٧ \frac{٣}{٥} \text{ ١٣}$$

$$١ \frac{٣}{٥} + ٣ \frac{٤}{٥} \text{ ١٤}$$

$$٥ \frac{١}{٤} + ٤ \frac{٤}{٧} \text{ ١١}$$

$$٦ \frac{٢}{٧} - ٧ \frac{٤}{٨} \text{ ١٦}$$

$$١ \frac{٣}{٥} - ١١ \frac{١}{٣} \text{ ١٥}$$

$$٤ \frac{٤}{٧} - ١٨ \frac{٦}{٧} \text{ ١٤}$$

$$٤ \frac{٥}{٦} - ٨ \frac{٩}{١٠} \text{ ١٩}$$

$$٦ \frac{٢}{٣} - ١٣ \frac{١}{٢} \text{ ١٨}$$

$$٥ \frac{٣}{٨} - ١٨ \frac{١}{٤} \text{ ١٧}$$

٢٠. المسافة بين مدينتين $\frac{٣}{١٠}$ ٩ كيلو متر. قطعت سيارة مسافة $\frac{٧}{١٠}$ ٥ كيلو متر منها.

ما المسافة المتبقية لتصل السيارة الى المدينة الأخرى؟

أفكر

٢١. مسألة مفتوحة : أكتب عددين كسريين مجموعهما عدد طبيعي.

٢٢. اكتشاف الخطأ : كان لدى شيماء $\frac{٧}{٥}$ كيلو غراماً من القيصر استخدمت منها $\frac{٥}{٣}$

كيلو غرام ، قالت بأنه قد بقي لديها اكثر من ٢ كيلو غراماً من القيصر ، هل ماذكرته شيماء صحيحاً؟

صحح الخطأ إن وجد .

مسألة أجد فيها ناتج طرح عددين كسريين أحدهما مثلاً الآخر .

أكتب



الدرس ٣ جمع الكسور العشرية والأعداد العشرية وطرحها

أتعلم



يشكلُ النتروجينُ ٠,٧٨ من الغلاف الجوي ويشكل غاز الأوكسجين ٠,٢١ منه ما الكسر العشري الدال على مايمثلانه من مكونات الغلاف الجوي؟

فكرةُ الدرس

أجمعُ كسوراً عشريةً وأعداداً عشريةً وطرحها

أمثلة

١ لأجدُ الكسرَ الدالَّ على ما يشكلهُ غاز النتروجينِ وغاز الأوكسجينِ معاً من الغلافِ الجويِّ:

$$\text{أجمع } ٠,٧٨ + ٠,٢١$$

الطريقة (١) :

أحوّلُ الكسرينِ العشريينِ إلى كسرينِ ، ثم أجمعُ.

$$\frac{٢١}{١٠٠} = ٠,٢١ ، \frac{٧٨}{١٠٠} = ٠,٧٨$$

$$\text{لذا. } ٠,٩٩ = \frac{٩٩}{١٠٠} = \frac{٢١}{١٠٠} + \frac{٧٨}{١٠٠} = ٠,٢١ + ٠,٧٨$$

$$\text{فيكون } ٠,٩٩ = ٠,٢١ + ٠,٧٨$$

إنّ، يمثّل النتروجينُ والأوكسجينُ معاً ٠,٩٩ من الغلافِ الجويِّ.

إنّ تساويَ مقامي كسرينِ اعتياديينِ قبلَ جمعِهما أو طرحِهما يقابلهُ في الكسورِ العشريةِ

تساوي عددِ المراتبِ العشريةِ في الكسرينِ العشريينِ.

الطريقة (٢) :

الكسران العشريان ٠,٧٨ و ٠,٢١ لهما عددُ المراتبِ العشريةِ نفسه. لذا أستعملُ طريقةَ

الجمعِ الرأسي بحيث تكون الفارزتان العشريتان في الكسرينِ فوقَ بعضِهما. ثم أجمعُ

كجمعِ الأعدادِ الطبيعيةِ.

$$٠,٧٨$$

$$+ ٠,٢١$$

$$\hline ٠,٩٩$$

منهاجي
متعة التعليم الهادف





٢ وزن أسطوانة الغاز وهي ممتلئة ٢٥,٧٥٠ كغم، ووزنها وهي فارغة ١٥,٣٠٠ كغم.

ما وزن كمية الغاز التي تملأ الأسطوانة؟

وزن كمية الغاز هو الفرق بين وزن الأسطوانة ممتلئة ووزنها وهي فارغة.

لإيجاد وزن الغاز أطرح: ١٥,٣٠ - ٢٥,٧٥

٢٥,٧٥

١٥,٣٠ -

أكتب $٠,٣ = ٠,٣٠$

١٠,٤٥ لذا وزن كمية الغاز التي تملأ الأسطوانة هو ١٠,٤٥ كيلوغرام.

٣ أجد ناتج $٠,٢٦ + ٠,٢٣١$

لجمع الكسرين العشريين أجعل عدد المراتب العشرية نفسه في الكسرين وذلك بوضع أصفار على يمين الكسر الذي يكون عدد مراتبه أقل بقدر عدد المراتب الناقصة.

أكتب $٠,٢٦ = ٠,٢٦٠$

فيكون: $٠,٢٦ + ٠,٢٣١ = ٠,٢٦٠ + ٠,٢٣١$

أرتب الكسرين رأسياً ثم أجمع. $٠,٢٣١$

$٠,٢٦٠ +$

$٠,٤٩١$

٤ أجد ناتج $٠,٦٤٣ - ٣$

لإيجاد ناتج الطرح أجعل عدد المراتب العشرية في العددين هو نفسه. أضع فارزة عشرية على يمين العدد ٣

ثم أضع أصفاراً على يمينها بقدر عدد المراتب العشرية في العدد $٠,٦٤٣$

لذا $٠,٦٤٣ - ٣,٠٠٠ = ٠,٦٤٣ - ٣,٠٠٠$

ثم أطرح كما هو في الأعداد الطبيعية مع الحفاظ على مكان الفارزة العشرية.

٩ ٩

~~٤~~ ~~١~~ ~~٠~~ ~~٠~~

~~٣~~ ~~,~~ ~~٠~~ ~~٠~~ ~~٠~~

$٠,٦٤٣ -$

$٢,٣٥٧$

لذا $٢,٣٥٧ = ٠,٦٤٣ - ٣$

أجد ناتج ما يلي:

٣ ٠,٩٣٢

٠,٢١٠ -

٢ ٠,٣٢١

٠,١١٩ +

١ ٠,٤٣٥

٠,٢١٩ +

٦ ١٥,٦٣٦

٨,٣١٠ -

٥ ٩٩,٥٦٩

٣٤,٣٠٥ +

٤ ٠,٤٣٩

٠,٢٧٤ -

٩ ٠,٥٠ + ٠,٣٨٦

٨ ٠,٤٥ + ٠,٤٨٩

٧ ٠,١٥٤ + ٠,٧٣٢

١٢ ١٥,٧٥٢ - ٢٦,٨١٣

١١ ٢١,١٢ - ٣٤,٤٨٥

١٠ ٢٢,٢٣٤ - ٦٢,٧٦٥



١٣ تحتوي علبة عصير على ٠,١٥ عصير طبيعي و ٠,١٠ سكر. ما الكسر العشري

الدال على كمية العصير الطبيعي والسكر معاً في العصير؟

أحدث: أوضح كيف أجمع أو أطرح كسرين عشريين مراتبهما العشرية مختلفة.

أجد ناتج ما يلي:

أحل

١٦ ٠,٥٤٦

٠,٠٢٥ +

١٥ ٠,٣٥٥

٠,١٢٧ +

١٤ ٠,٣٤٥

٠,٢١٦ +

١٩ ٠,٦٤٦

٠,٣١٣ -

١٨ ٠,٥٦٩

٠,٣٠٤ -

١٧ ٠,٩٤٢

٠,٠١٨ -

٢٢ ٩٩,٥٦٩

٣٤,٣٠٥ -

٢١ ١٧,٩٤٢

١٠,٧١٠ -

٢٠ ٣٧,٣٤٧

١٤,٢٣٦ -

أفكر

٢٣ أستخدم الكسور العشرية: ٦, ٧, ٥, ٩, ١, ٩ في جملتي طرح مختلفتين.

٢٤ اكتشف الخطأ: ذكر سالم بأن ٠,٧٥ - ٠,٣ = ٠,٧٢، بين خطأ سالم وصححه.

جملة عددية أجد فيها حاصل جمع عشرين عشريين وحاصل الفرق بينهما.

أكتب

أتعلم

فكرة الدرس

أجد ناتج ضرب كسرين اعتياديين



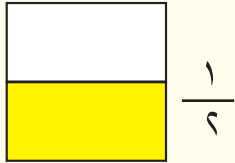

يمزج صباغ اللونين الأصفر والأخضر للحصول على لون أزرق، يحتاج $\frac{1}{4}$ لتر من اللون الأصفر لكل لتر من اللون الأخضر. كم يحتاج من اللون الأصفر لخلطه مع $\frac{1}{4}$ لتر من اللون الأخضر للحصول على اللون الأزرق؟

أمثلة

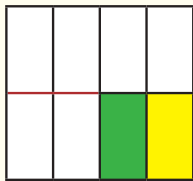
١ أجد كمية اللون الأصفر التي يحتاج إليها الصباغ .

باستعمال أنموذج

أبدأ بمربع لتمثيل اللتر ١



ألون $\frac{1}{2}$ المربع باللون الأصفر



ألون $\frac{1}{4}$ المربع باللون الأخضر فيظهر الجزء المظلل باللونين $\frac{1}{8}$

الأصفر والأخضر معاً بلون أزرق

ألاحظ أن بسط الكسر الناتج هو حاصل ضرب بسطي الكسرين ومقام الكسر الناتج هو

حاصل ضرب مقامي الكسرين.

لذا ناتج ضرب كسرين اعتياديين هو

بسط الكسر الأول × بسط الكسر الثاني

مقام الكسر الأول × مقام الكسر الثاني

لتر ما يحتاج إليه الصباغ من اللون الأصفر للحصول على اللون الأزرق $\frac{1}{8} = \frac{1}{4} \times \frac{1}{2}$

يمكنك تسهيل عملية ضرب كسرين بوضعهما في أبسط صورة قبل ضربهما إن أمكن.

٢ أجد ناتج الضرب $\frac{7}{14} \times \frac{3}{15}$ في أبسط صورة.

الخطوة (١) : أبسط الكسر الأول $\frac{7}{14} = \frac{1}{2}$ ، أبسط الكسر الثاني $\frac{3}{15} = \frac{1}{5}$

الخطوة (٢) : أضرب الكسرين المبسطين $\frac{1}{2} = \frac{1 \times 1}{2 \times 5}$ الناتج في أبسط صورة.

٣ اشترى وائل ٨٠ كرة زجاجية صغيرة واشترى نورس $\frac{3}{4}$ ما اشتراه وائل من الكرات،

ما عدد الكرات التي اشتراها نورس؟

يمكنك كتابة ٨٠ على الصورة $\frac{80}{1}$

أقسم كلاً من البسط والمقام على ٤

$$\frac{80}{1} \times \frac{3}{4} = \frac{80 \times 3}{1 \times 4} = \frac{240}{4}$$

$$60 = \frac{240 \div 4}{4 \div 4}$$

عدد كرات نورس

أتأكد

أجد ناتج الضرب في أبسط صورة :

$$\begin{aligned} \dots &= 10 \times \frac{3}{5} & \text{٣} & \dots &= \frac{6}{8} \times \frac{4}{6} & \text{٤} & \dots &= \frac{3}{4} \times \frac{5}{7} & \text{١} \\ \dots &= \frac{12}{13} \times \frac{1}{2} & \text{٦} & \dots &= \frac{5}{18} \times \frac{3}{10} & \text{٥} & \dots &= 90 \times \frac{1}{4} & \text{٤} \end{aligned}$$



٧ قطعة أرض مستطيلة الشكل طولها $\frac{5}{8}$ كم ، وعرضها $\frac{12}{6}$ كم ،

ما مساحتها بالكيلومتر المربع؟



٨ في حفل مدرسي أقيم بمناسبة يوم الطالب حضرت المعلمة ١٦

قطعة حلوى $\frac{3}{4}$ القطع بطعم الكاكو والباقي بالعسل والجوز

ما عدد قطع الحلوى بالكاكو؟



أُتحدّثُ : أشرحُ كيفَ أحددُ أيهما أكبر $\frac{1}{5} \times \frac{2}{3}$ أم $\frac{1}{3} \times \frac{7}{10}$ ؟

أحل

أجدُ ناتجَ الضرب :

..... = $\frac{8}{10} \times \frac{2}{36}$ ٩ = $\frac{1}{3} \times \frac{2}{44}$ ١٠ = $\frac{3}{7} \times ٩١$ ١١

..... = $٩٨ \times \frac{6}{7}$ ١٢ = $\frac{7}{3} \times \frac{30}{60}$ ١٣ = $\frac{6}{٩٥} \times \frac{5}{١٨}$ ١٤

١٥ اشترتُ دلال ١٠ أمتار من القماشِ. استخدمتُ $\frac{2}{5}$ القماشِ في عملِ ستائرٍ للمطبخِ. ثم



استعملت $\frac{1}{3}$ القماشِ المتبقي في صنعِ غطاءٍ لطاولةِ الطعامِ.

كم متراً من القماشِ استعملت دلال للستائرِ؟

وكم متراً استعملت لغطاءِ طاولةِ الطعامِ؟

١٦ اشترى شهاب قصةً قصيرةً عدد صفحاتها ٦٠ صفحة مقسمةً

على ٣ أجزاءٍ متساوية. قرأ يوم الجمعة $\frac{3}{4}$ الجزء الأول. كم صفحةً

قرأ شهاب يوم الجمعة ؟



أفكر

١٧ اشترك $\frac{2}{3}$ عدد تلاميذ المدرسة في أنشطة رياضية إذا كان عدد تلاميذ المدرسة ٣٢٧

تلميذاً، كم تلميذاً اشترك في الأنشطة ؟

مسألةٌ لإيجاد مساحةٍ مستطيلٍ أطوال أضلاعه كسورٌ اعتياديةٌ.

أكتب



أتعلم

ليث أطول من كمال ب مقدار ١٥ سم.
وطول كمال ١٤ سم . ما طول ليث؟

فكرة الدرس
أحلُّ جملاً عدديَّةً
مفتوحةً

أمثلة

١ إذا كان ليث أطول من كمال ب ١٥ سم وكان طول كمال ١٤ سم فما طول ليث؟
اكتب جملةً عدديَّةً مفتوحةً وأحلّها.
طول ليث - طول كمال = ١٥ سم

$$15 = 114 - \square$$

اكتب جملةً الجمع المرتبطة بجملة الطرح

$$\square = 15 + 114$$

$$\square = 129$$

لذا طول ليث ١٢٩ سم

التحقق: أطرح طول كمال من طول ليث: $129 - 114 = 15$
لذا الإجابة صحيحة.

٢ بيع ٦٥,٢٥ متراً من لفة قماش، وبقي منها ٢٤,٧٥ متراً. ما طول القماش الذي كان في اللفة الكاملة؟

اكتب جملةً عدديَّةً مفتوحةً وحلّها.

طول القماش المبَّيع + طول القماش الباقي = طول القماش في اللفة الكاملة

$$24,75 + 65,25 = \square \text{ طول القماش في اللفة الكاملة غير معلوم}$$

$$\text{أجمع} \quad \square = 90,00$$

يمكنك حذف الأصفار الواقعة على يمين الفارزة العشرية.

لذا طول لفة القماش الكاملة هو ٩٠ متراً .



٣ اشترت سارة كميةً من الفستق. استعملت منها $1\frac{1}{4}$ كيلو غرام لعمل حلوى بالفستق.

وبقي لديها $1\frac{1}{6}$ كيلو غرام من الفستق. ما وزن الكمية التي اشترتها؟

اكتب جملة عددية مفتوحةً

الكمية التي اشترتها من الفستق - الكمية التي استعملتها = الكمية الباقية من الفستق

$$\text{الكمية التي اشترتها من الفستق} - 1\frac{1}{4} = 1\frac{1}{6} - \text{الكمية التي اشترتها غير معلومة}$$

اكتب جملة الجمع المرتبطة بجملة الطرح.

$$\text{الكمية التي اشترتها من الفستق} = 1\frac{1}{4} + 1\frac{1}{6}$$

$$\text{الكمية التي اشترتها من الفستق} = 1\frac{1}{4} + 1\frac{2}{6}$$

$$\text{الكمية التي اشترتها من الفستق} = 2\frac{3}{6}$$

$$\text{اكتب } \frac{2}{6} = \frac{1}{3}$$

اجمع

لذا وزن كمية الفستق التي اشترتها سارة هو $2\frac{3}{6}$ كيلو غرام.

أتأكد

أكتب العدد المناسب في

$$80,758 \quad 3$$

$$13,195 +$$

$$\text{العدد المناسب}$$

$$53,738 \quad 6$$

$$\text{العدد المناسب} +$$

$$98,070$$

$$41,569 \quad 1$$

$$\text{العدد المناسب} +$$

$$64,395$$

$$419,523 \quad 6$$

$$8,310 -$$

$$\text{العدد المناسب}$$

$$870,356 \quad 5$$

$$\text{العدد المناسب} +$$

$$934,305$$

$$95,628 \quad 4$$

$$\text{العدد المناسب} -$$

$$10,710$$

$$25\frac{4}{7} \quad 9$$

$$11\frac{3}{6} -$$

$$\text{العدد المناسب}$$

$$7\frac{9}{80} \quad 8$$

$$\text{العدد المناسب} +$$

$$11\frac{3}{6}$$

$$12\frac{13}{30} \quad 7$$

$$\text{العدد المناسب} +$$

$$15\frac{2}{10}$$



أحدثُ: كيف أحلُّ جملةً عددية مفتوحة لجمع عددين أحدهم معلوم والنتيجة معلوم؟

أحل

أكتبُ العددَ المناسبَ في :

١٩ ٥١٨,٥٩٣

١٣٥٧,٧٢٠ +

١١ ٨٤,٣٥٩

+

٢١٣,٢٣٠

١٠ ٣٥,٦٠٨

+

٤٣,٦٠٨

١٦ $\frac{٤٣}{٧}$

$\frac{١١}{٢٤}$ -

١٥ $١٨\frac{٣}{٨}$

$٩\frac{٣}{٤}$ -

١٤ $٩\frac{٥}{٦}$

+

$١٧\frac{٧}{١٢}$

١٣ $١٤\frac{٩}{١٥}$

+

$٢٠\frac{٤}{٥}$

أفكر

١٧ **تحذ:** لدى خياطٍ قطعتا قماشٍ طولُ القطعةِ الأولى $١٦\frac{١}{٢}$ متراً وطولُ القطعةِ الثانيةِ

$٧\frac{١}{٢}$ أمتار. استعملُ منهما $١٨\frac{٣}{٤}$ متراً، فكم متراً بقي من القماش؟

١٨ **اكتشف الخطأ:** أتم خالد إنجاز مهمتين في ٧,٣٠ ساعة قضى ٣,٤٠ ساعة في إنجاز المهمة

الأولى ذكرَ بأنه قضى ٧,٣٠ + ٣,٤٠ ساعة في إنجاز المهمة الثانية، هل خالد على صواب. اكتشف الخطأ وصححه.

١٩ **تفكير ناقد:** طول شريط ٢٢,٨ متراً قصَ منه ٤,٣ مترات هل ما تبقى من الشريط اصغر من

مثلي ما قصَ منه؟ اشرح

٣٣,٦ = ٢٣,٥ + مسألة تمثل الجملة المفتوحة

أكتب

خطة حل المسألة (اكتب جملة عددية)

الدرس ٦

أتعلم



حصل محمود في امتحان التاريخ على درجة (٩٠). وكانت درجته في الرياضيات تزيد على درجته في التاريخ بمقدار (٥) درجات . ما درجته في الرياضيات؟

فكرة الدرس

أحل المسألة بكتابة جملة عددية

أفهم ما معطيات المسألة؟ درجة محمود في التاريخ ٩٠ . درجته في الرياضيات تزيد

على درجته في التاريخ بمقدار ٥ درجات

ما المطلوب في المسألة؟ إيجاد درجته في الرياضيات

أخطط كيف أحل المسألة؟

أكتب جملة جمع أو طرح عددية تربط درجته بالرياضيات بدرجته في التاريخ. ثم أحلها.

أحل درجته في الرياضيات تزيد على درجته في التاريخ بمقدار ٥ درجات تعني:

درجته في الرياضيات - درجته في التاريخ = ٥

درجته في الرياضيات غير معلومة $90 - \square = 5$

اكتب جملة الجمع المرتبطة بجملة الطرح.

$\square = 5 + 90$

اجمع $\square = 95$

لذا درجة محمود في الرياضيات ٩٥

أتحقق استعمل جملة الطرح المرتبطة بالجمع

$90 = 5 - 95$ فالحل صحيح

مَسَائِلُ



- ١ اشترت هدى $\frac{1}{2}$ كغم من الفستق واشترت ميسم فستقاً أكثر منها بمقدار $\frac{1}{4}$ كغم. كم كيلو غراماً اشترت ميسم من الفستق؟

- ٢ قطعتان من القماش طول الأولى ٦٥,٢٥ متراً. والذي يزيد على طول القطعة الثانية بمقدار ١٥,٢٥ متراً. ما طول القطعة الثانية؟
- ٣ عدد تلاميذ الصف الخامس ٦٥ تلميذاً، ويزيد عددهم على عدد تلاميذ الصف الرابع بـ ٥ تلاميذ. كم عدد تلاميذ الصف الرابع؟ وما عدد التلاميذ في الصفين الرابع والخامس؟



- ٤ إذا كان ثمن تذكرة لعبة القطار في مدينة الألعاب هو ٢٢٥٠ ديناراً وثمان تذكرة لعبة الطائرة أكثر منها بـ ٧٥٠ ديناراً. فما ثمن تذكرة لعبة الطائرة؟



- ٥ يقضي عليّ ساعتين يومياً في مراجعة درس الحاسوب. ويقضي وقتاً في مراجعة درس الرياضيات يزيد بمقدار ساعة ونصف على ما يقضيه في مراجعة درس الحاسوب. كم ساعة يقضي في مراجعة درس الرياضيات؟



مراجعة الفصل

جمع الكسور الاعتيادية ذات المقامات المختلفة وطرحها

الدرس (١)

مثال : أجد ناتج ما يأتي:

$$= \frac{14}{24} + \frac{1}{12}$$

$$\frac{2}{3} = \frac{16}{24} = \frac{14}{24} + \frac{2}{24}$$

أقسم البسط والمقام على ٨

تدريب : أجد ناتج ما يأتي:

$$= \frac{16}{72} + \frac{8}{12} \quad ١$$

$$= \frac{49}{33} - \frac{7}{3} \quad ٣$$

$$= \frac{25}{50} + \frac{3}{9} \quad ٢$$

$$= \frac{6}{5} - \frac{18}{7} \quad ٤$$

٥ زرع فهد $\frac{1}{3}$ أرضه قمحاً و $\frac{1}{4}$ أرضه خضروات ، ما الجزء الذي يدل على ما زرعه فهد من أرضه قمحاً وخضروات؟

جمع الأعداد الكسرية وطرحها

الدرس (٢)

مثال ١ : أجد ناتج جمع ما يأتي:

$$16 \frac{27}{28} = 16 + \frac{7}{28} + \frac{20}{28} = 13 + 3 + \frac{1}{4} + \frac{5}{7} = 13 \frac{1}{4} + 3 \frac{5}{7}$$

تدريب ١ : أجد ناتج ما يأتي:

$$= \frac{6}{12} + \frac{3}{15} \quad ٢$$

$$= \frac{1}{4} + \frac{2}{8} \quad ١$$

مثال ٢ : أجد ناتج ما يأتي:

$$= 6 \frac{3}{28} - 9 \frac{11}{12}$$

$$3 \frac{17}{21} = 3 \frac{68}{84} = 6 \frac{9}{84} - 9 \frac{77}{84} = 6 \frac{3}{28} - 9 \frac{11}{12}$$

أقسم البسط والمقام على ٤

تدريب ٢ : أجد ناتج ما يأتي:

$$= \frac{1}{15} - \frac{1}{10} \quad ٢$$

$$= \frac{3}{4} + 3 \frac{1}{12} \quad ١$$

جمع الكسور العشرية والأعداد العشرية وطرحها

الدرس (٣)

مثال : أجد ناتج ما يأتي :

$$٢,٥٨١ = ١,٦٠٨ - ٣,٧٨٩ \quad ١ \quad ٠,٨٨٩ = ٠,٤٣٣ + ٠,٤٥٦$$

تدريب : أجد ناتج ما يأتي :

$$= ١,٣٠٥ - ٤,٩٠٠ \quad ٢ \quad = ٠,٨٩٧ + ٠,٦٣٥ \quad ١$$

ضرب الكسور الاعتيادية

الدرس (٤)

مثال : لدى أنيس $\frac{1}{6}$ لتر من عصير البرتقال شرب $\frac{3}{5}$ كمية العصير. كم لتراً من العصير شرب أنيس؟

$$\text{لتر } \frac{3}{10} = \frac{3 \times 1}{5 \times 2} = \frac{3}{5} \times \frac{1}{2}$$

تدريب : مع قيس $\frac{3}{4}$ كيلوغرام من التمر. أعطى قيس صديقه ماجداً $\frac{1}{3}$ كمية التمر التي معه. ما وزن كمية التمر التي أخذها ماجد؟

الجمال العددية المفتوحة

الدرس (٥)

مثال : أجد ناتج ما يأتي :

$$٤١,٠١٨ = ٤,٩٦٢ - ٤٥,٩٨٠ \quad ٢ \quad ٤٦,٤٢٦ = ١٢,٧٦٨ + ٣٣,٦٥٨ \quad ١$$

تدريب : أكتب العدد المناسب في

$$\text{ } = ٤,٩٧٦ - ٣٥,٧٦٢ \quad ٢ \quad \text{ } = ١٠,٦٥٣ + ٥٤,٣٤٠ \quad ١$$

٣ ازداد طول أحمد من ١,٣٥ م إلى ١,٦٢ م ، خلال ٥ سنوات، ما الزيادة في طوله؟

اختبار الفصل

أجدُ ناتجَ ما يأتي:

$$= \frac{8}{64} + \frac{45}{90} \quad 3$$

$$= \frac{60}{100} + \frac{1}{30} \quad 2$$

$$= \frac{40}{160} + \frac{5}{90} \quad 1$$

قارنْ باستعمالِ أحدِ الرموزِ. (= ، > ، <):

$$3\frac{6}{16} + 9\frac{3}{15} \quad \text{●}$$

$$8\frac{1}{5} + 6\frac{1}{7} \quad 4$$

$$3\frac{4}{13} + 7\frac{4}{12} \quad \text{●}$$

$$6\frac{10}{5} + 3\frac{30}{9} \quad 5$$

أجدُ ناتجَ ما يأتي:

$$= 1\frac{6}{34} - 5\frac{1}{17} \quad 7$$

$$= 8\frac{1}{5} + 22\frac{1}{23} \quad 6$$

$$= 3\frac{4}{26} - 8\frac{8}{13} \quad 9$$

$$= 8\frac{1}{5} + 11\frac{3}{21} \quad 8$$

$$= 0,236 - 0,789 \quad 11$$

$$= 0,343 + 0,444 \quad 10$$

$$= 0,100 - 0,234 \quad 13$$

$$= 0,343 + 0,678 \quad 12$$

$$= 0,244 - 0,490 \quad 15$$

$$= 0,786 + 0,987 \quad 14$$

$$19,456 \quad 17$$

$$0,113 \quad 16$$

$$\underline{18,009} -$$

$$\underline{13,768} +$$

اكتب العدد المناسب :

$$25\frac{8}{16} \quad 21$$

$$7\frac{12}{14} \quad 20$$

$$56,350 \quad 19$$

$$60,550 \quad 18$$

$$\begin{array}{r} \square - \\ \hline 15\frac{7}{8} \end{array}$$

$$\begin{array}{r} \square + \\ \hline 12\frac{3}{4} \end{array}$$

$$\begin{array}{r} 12,786 - \\ \hline \square \end{array}$$

$$\begin{array}{r} 10,080 + \\ \hline \square \end{array}$$



القواسم والمضاعفات



سوف أتعلّم في هذا الفصل :

الدرس (١) العدد الأولي

الدرس (٢) التحليل الى العوامل والصورة الأسية Q

الدرس (٣) المربع الكامل والجذر التربيعي

الدرس (٤) المكعب الكامل والجذر التكعيبي

الدرس (٥) القاسم المشترك الأكبر والمضاعف المشترك الأصغر

الدرس (٦) خطة حل المسألة (التبرير المنطقي)

١٢	١١	١٠	٩	٨	٧	٦	٥	٤	٣	٢	١
										٤	٢
									٩		٣
							١٦				٤
						٢٥					٥
					٣٦						٦
				٤٩							٧
			٦٤								٨
		٨١									٩
		١٠٠									١٠
	١٢١										١١
١٤٤											١٢

يُمكنني استعمالُ جدولِ الضربِ لأجد مضاعفاتِ الأعدادِ و قواسمَها.

الإختبار القبلي

أجد ناتج الضرب:

٥٠٣٢

٣

١٢٧

٤

٢٣

١

٥ ×

٤ ×

٣ ×

أجد ناتج القسمة.

..... = ٣ ÷ ٣١١٦

٦

..... = ٥ ÷ ١٢٥

٥

..... = ٩ ÷ ٢٧

٤

٧ أكمل الجدول ، وأضع علامة (صح) أو (خطأ) داخل المستطيل :

٧٧٠٣	٨١٤٥	٢٤٠٠	٣٧٦	
				يقبل القسمة على ٢
				يقبل القسمة على ٣
				يقبل القسمة على ٥
				يقبل القسمة على ١٠

أكتب كل عدد مما يأتي كنتاج ضرب ثلاثة أعداد :

٤٢

١٠

٦٠

٩

١٥

٨

١١ ما ناتج : $(٢٠ + ١٢) \times ٢٥$

أكتب المضاعفات الخمس الأولى للأعداد التالية :

١٢ مضاعفات العدد ٤ هي : ٤ ، ٨ ، ، ،

١٣ مضاعفات العدد ٥ هي : ، ، ، ،

١٤ مضاعفات العدد ٣ هي : ، ، ، ،

أجد ناتج كل مما يلي :

١٥ = $٢ \times ٢ \times ٢ \times ٢ \times ٢$

١٦ = $٣ \times ٣ \times ٣$

١٧ = ٥×٥




العدد الأولي

الدرس ١

أتعلم

لدى هدى ٣ ملصقات مربعة الشكل ولدى أخيها أحمد ٤ ملصقات يُريد كل منهما ترتيب ملصقاته على شكل مستطيل أو مربع على سطح مكتبه. هل هناك أكثر من طريقة لذلك؟



فكرة الدرس

أتعرف العدد الأولي وغير الأولي

المفردات

العدد الأولي

العدد غير الأولي

أمثلة

١ استعمل النماذج لأرتب الملصقات.

أرتب ملصقات هدى بطريقتين.

أرتب ملصقات أحمد بثلاث طرق.



$$2 \times 2$$

$$4 \times 1$$

$$1 \times 4$$

لذا، هناك ٣ طرائق لترتيب ٤ ملصقات على هيئة مستطيل أو مربع. العدد ٤ يقبل القسمة على ٤ وعلى ١ وعلى ٢.



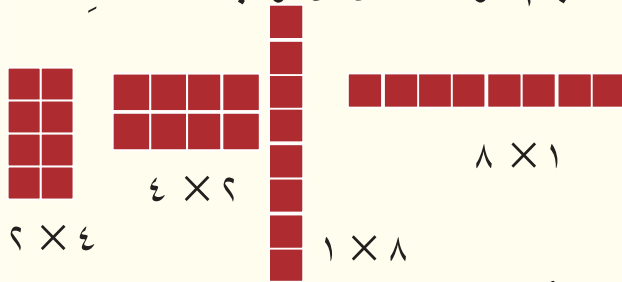
$$1 \times 3$$

$$3 \times 1$$

لذا هناك طريقتان فقط لترتيب ٣ ملصقات على هيئة مستطيل.

لاحظ أن العدد ٣ يقبل القسمة على ٣ وعلى ١ فقط.

٢ لدى مهند ٧ ملصقات، ولدى محمد ٨ ملصقات. بكم طريقة يمكن أن أرتب الملصقات؟



$$2 \times 4$$

$$4 \times 2$$

$$8 \times 1$$


$$1 \times 8$$

يمكنني أن أرتب ملصقات محمد بصف واحد: 1×8 ، أو في عمود واحد: 8×1 وبما أن ٨ يقبل القسمة على ٢ فإنه يمكنني أن أرتب الملصقات أيضاً على الشكلين 2×4 أو 4×2 لذا توجد ٤ طرائق ممكنة لترتيب ٨ ملصقات هي:

$$1 \times 8 \text{ و } 8 \times 1 \text{ و } 2 \times 4 \text{ و } 4 \times 2$$

العدد ٧ لا يقبل القسمة على ٢ أو ٣. لذا لا يمكن تقسيم العدد ٧ على مجموعات متساوية في كل منها أكثر من ١.

لذا، أستطيع أن أرتب ملصقات مهند بطريقتين فقط هما:



$$1 \times 7$$

و

$$7 \times 1$$

لاحظ أن ٧ يُقسَّم على ٧ وعلى ١ فقط. أما ٨ فيُقسَّم على ١ و ٢ و ٤ و ٨.



يُمكنني تصنيفُ الأعدادِ بحسبِ عددِ قواسمها على مجموعتينِ. الأولى: أعدادٌ لكلِّ منها له قاسمان فقط هما العددُ نفسهُ والعددُ ١ مثلُ العددينِ ٣ و ٧ في المثالينِ السابقينِ وتسمَّى أعداداً أوليةً والثانية: أعدادٌ لكلِّ منها أكثرُ من قاسمينِ مثلُ العددينِ ٤ و ٨ وتسمَّى أعداداً غيرَ أوليةٍ.

العددُ الأوليُّ: هو عددٌ أكبرُ من ١ وله قاسمان فقط هما العددُ نفسهُ والعددُ ١.
العددُ غيرُ الأوليِّ: هو عددٌ له أكثرُ من قاسمينِ.

يُمكنني استعمالُ حقائقِ القسمةِ وقواعدِ قابليةِ القسمةِ التي تعلَّمتها لتحديدِ إن كان العددُ أولياً أو غيرَ أوليِّ.

٣) أحدد كل عدد مما يلي إن كان أولياً أم غير أولي من دون استخدام النماذج:

أ) ٩

من حقائقِ الضربِ أعلمُ أنَّ $٩ \times ١ = ٩$ ، $٣ \times ٣ = ٩$ ، $١ \times ٩ = ٩$ ،
لذا للعدد ٩ ثلاثة قواسم هي ١ و ٣ و ٩
لذا ٩ عددٌ غيرُ أوليِّ.

ب) ١٣

من حقائقِ الضربِ أعلمُ أنَّ: $١٣ \times ١ = ١٣$ ، $١ \times ١٣ = ١٣$ ،
يُوجد للعدد ١٣ قاسمان فقط هما ١ و ١٣ .
لذا ١٣ عددٌ أوليِّ.

ج) ١٣٥

٨ قواسم للعدد ١٣٥ هي: ١، ٣، ٥، ٩، ١٥، ٢٧، ٤٥، ١٣٥ ،
يُوجد للعدد ١٣٥ أكثرُ من قاسمينِ. لذا ١٣٥ عددٌ غيرُ أوليِّ.

أتأكد

أستعملُ لأحدد إن كان العددُ أولياً أو غيرَ أوليِّ:

٣) ١٢

٦) ٦

١) ٥

أحدد إن كان كل عدد مما يلي أولياً أو غير أولي من دون استخدام النماذج:

٦) ٢

٥) ٢٨

٤) ١٥

٩) ٢٣

٨) ٢٠

٧) ١٣٦

١٠) لدى سعد ٤٢ طابوقة يريد أن يرصفها أمام منزله على هيئة مستطيل. هل يُمكنه رصفها في أكثر من

صف واحد؟ اشرح إجابتي.



١١ يراد ترتيب ١٢ طاولة صغيرة مربعة بجانب بعضها على هيئة مستطيل . أبين جميع الطرائق الممكنة لترتيبها. ثم أعدد إن كان ١٢ عدداً أولياً أو غير أولي. ماذا يحصل لو كان عدد الطاولات ١٣ طاولة؟

أتحدث: كيف يمكنني تحديد إن كان العدد ٦١ ١٤ أولياً أو غير أولي دون تمثيله بنماذج؟

أحل

أستعمل لأحدد إن كان كل عدد ممّا يلي أولياً أو غير أولي :

١٠ ١٢ ١٦ ١٣ ١١ ١٤

أحدد إن كان كل ممّا يلي عدداً أولياً أم غير أولي :

٣٦ ١٥ ٢٨٢ ١٦ ١٧ ١٧

١٧٠ ١٨ ٣٥ ١٩ ٤٤١ ٢٠

٢١ انظر الى الجدول أدناه ثم اشطب كل عدد أولي . كم عدداً غير أولي بقي في الجدول؟

١١	١٠	٩	٨	٧	٦	٥
١٨	١٧	١٦	١٥	١٤	١٣	١٢

٢٢ هل يمكن أن يعرض محلّ مجوهرات ١٤ خاتماً على هيئة مستطيل في أكثر من صف؟ أشرح إجابتي.

٢٣ يعدّ ٦ كانون الثاني عيد الجيش العراقي . هل العدد ٦ أولي أم غير أولي؟ أفسر إجابتي .

أفكر

٢٤ **اكتشف الخطأ :** كتب تلميذ الأعداد الأولية الأربعة الأولى كما يلي :

١، ٢، ٣، ٥، أكتشف الخطأ وأصحّهُ .

٢٥ **حسّ عدديّ:** اجد أصغر عدد أولي أكبر من ٣٠. أفسر إجابتي.

أبين كيف يمكنني استعمال النماذج لتحديد إن كان العدد أولياً أم غير أولي .

أكتب

التحليل إلى العوامل والصورة الأسية

أتعلم

فكرة الدرس

أتعرف التحليل إلى العوامل الأولية
أتعرف الصورة الأسية

المفردات

التحليل إلى العوامل

شجرة العوامل

الصورة الأسية

الأساس

الأس


لدى فاطمة ٦ كراسي وأرادت ترتيبها على هيئة مستطيل. فرتبها بالطرائق الآتية:



الترتيب الأول صف واحد فيه ٦ كراسي

$$6 = 6 \times 1$$

الترتيب الثاني صفان في كل صف ٣ كراسي



٣ كراسي

٣ كراسي

$$6 = 3 \times 2$$

الترتيب الثالث ٣ صفوف في كل صف ٢ كرسيان



٢ كرسيان

٢ كرسيان

٢ كرسيان

$$6 = 2 \times 3$$

الترتيب الرابع ٦ صفوف في كل منها كرسي واحد.



$$6 = 1 \times 6$$

لذا يمكن ترتيب الكراسي بـ ٤ طرائق.

لاحظ أن ٦ كراسي يمكن ترتيبها في صفوف عددها ١ أو ٢ أو ٣ أو ٦.

تسمى الأعداد ١، ٢، ٣، ٦ عوامل العدد ٦.

كتابة العدد بشكل حاصل ضرب عوامله الأولية تدعى هذه العملية تحليل العدد إلى عوامله الأولية
يمكنني تحليل العدد إلى عوامله الأولية بطريقتين :

١) استعمال شجرة العوامل

٢) استعمال قابلية القسمة

أمثلة

١) أجد جميع عوامل العدد ١٨. وأحدد أيها أعداد أولية.

من حقائق الضرب: $18 \times 1 = 18$ ، $9 \times 2 = 18$ ، وكذلك $6 \times 3 = 18$

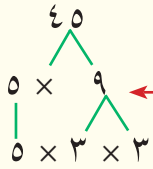
لذا عوامل العدد ١٨ هي ١، ٢، ٣، ٦، ٩، ١٨.

العددان ٢ ، ٣ عددان أوليان. وهما العوامل الأولية للعدد ١٨. يُمكنني كتابة العدد كحاصل ضرب عوامله الأولية. ففي مثال ١ السابق يمكن كتابة العدد ١٨ كحاصل ضرب عوامله الأولية على الصورة: $١٨ = ٢ \times ٣ \times ٣$.

ويُمكنني الحصول على العوامل الأولية لعدد باستعمال شجرة العوامل، أو قابلية القسمة.

٢ اكتب العدد ٤٥ على صورة ضرب عوامله الأولية:

أولاً: طريقة الشجرة:



الخطوة (١): اكتب العدد ٤٥ كحاصل ضرب عددين.

الخطوة (٢): العدد ٩ غير أولي، يُكتب على صورة ضرب عددين أما ٥ فهو أولي يبقى كما هو. جميع الأعداد أصبحت أولية.

الخطوة (٣): اكتب العدد ٤٥ كحاصل ضرب عوامله الأولية $٥ \times ٣ \times ٣ = ٤٥$

ثانياً: طريقة قابلية القسمة (القواسم):

ابحث في كل مرة عن عدد أولي يقبل العدد القسمة عليه.

الخطوة (١): العدد ٤٥ يقبل القسمة على ٣ لأن مجموع أرقامه مضاعف للعدد ٣.

٣	٤٥
٣	١٥
٥	٥
	١

$$١٥ = ٣ \div ٤٥$$

الخطوة (٢): العدد ١٥ يقبل القسمة على ٣. $٥ = ٣ \div ١٥$

الخطوة (٣): العدد ٥ عدد أولي يقبل القسمة على نفسه. $١ = ٥ \div ٥$

الخطوة (٤): اكتب العدد ٤٥ كحاصل ضرب عوامله الأولية $٥ \times ٣ \times ٣ = ٤٥$

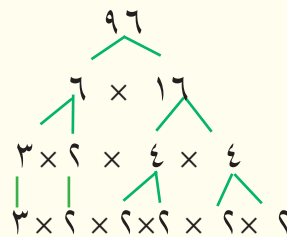
ويسمى كتابة العدد على هذه الصورة تحليل العدد الى عوامله الأولية.

٣ أحل العدد ٩٦ إلى عوامله الأولية بطريقتين:

طريقة الشجرة

طريقة القواسم

لذا
 $٣ \times ٢ \times ٢ \times ٢ \times ٢ \times ٢ = ٩٦$
 $٣ \times ٢ = ٩٦$
 يمكنك كتابة تحليل عدد له عوامل أولية متكررة بصورة مختصرة تسمى الصورة الأسية.



٢	٩٦	$٤٨ = ٢ \div ٩٦$
٢	٤٨	$٢٤ = ٢ \div ٤٨$
٢	٢٤	$١٢ = ٢ \div ٢٤$
٢	١٢	$٦ = ٢ \div ١٢$
٢	٦	$٣ = ٢ \div ٦$
٣	٣	$١ = ٣ \div ٣$
	١	

وبما أن العامل ٢ تكرر ٥ مرات. فإنه يكتب بشكل $٢^٥$ حيث العدد ٢ هو الأساس و(٥) هو الأس



٤ الأميبا كائنٌ حيٌّ من خلية واحدة تتكاثرُ بالانشطار. بعدَ ٧ مراتٍ انشطارٍ في المختبرِ يصبحُ عددها ١٢٨. اكتب العددَ ١٢٨ بالصورةِ الأسيةِ.

احل العدد ١٢٨ الى عوامله الاولية.

$$2 \times 2 \times 2 \times 2 \times 2 \times 2 \times 2 = 128$$

اكتب الناتج بالصورة الاسية

$$2^7 = 128$$

٥ اكتب ٦٧٥ بالصورةِ الأسيةِ.

احل العدد ٦٧٥ الى عوامله الاولية.

$$5 \times 5 \times 3 \times 3 \times 3 = 675$$

اكتب الناتج بالصورة الاسية

$$3^3 \times 5^2 = 675$$

أتأكد

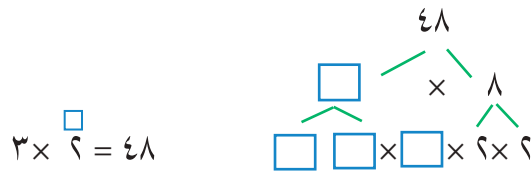
أحل كل عددٍ إلى عوامله الأولية بطريقتين:

٣ ٣٢٤

٦ ٦٢٥

١ ١٩٦

٤ اضع العدد المناسب في □ :



اكتب الأعداد التالية بالصورةِ الأسيةِ:

٦ ٣ × ٣ × ٣ × ٣ × ٢ × ٢ × ٢ = ٦٤٨

٥ ٥ × ٥ × ٣ × ٣ × ٢ = ٤٥٠

٧ لدى محمد ٧٧ كتاباً يريد أن يضعها في رزمٍ على أن تحتوي كل رزمة على عددٍ أوليٍّ من

الكتب. بكم رزمة يمكن أن يضع الكتب؟ وما عدد الكتب في الرزمة الواحدة؟

أحدث: كيف احل العدد ١٥٠ إلى عوامله الأولية بطريقة القواسم؟

أحل

٩ ١٨٠

٨ ٤٨٤

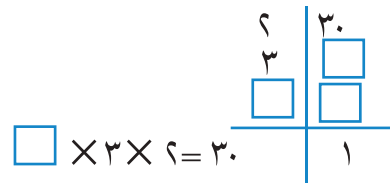
أحل كل عددٍ إلى عوامله الأولية بطريقتين:

اكتب مايلى بالصورة الاسية:

١٠ اضع العدد المناسب في □ :

١١ ٥ × ٥ × ٥ × ٣ × ٣ = ١١٢٥

١٢ ٣ × ٣ × ٣ × ٣ × ٧ × ٧ = ٣٩٦٩



أفكر

١٣ اكتشف الخطأ: حل إبراهيم العدد ٥٠ كنتاج ضرب أعداد أولية، كتب إبراهيم: ٥٠ = ٢ × ٢٥

ماخطأ إبراهيم؟ وأصححه.


ثلاثة اعداد مختلفة يكون العددان ٣.٥ قاسمين لكل منهم.

أكتب



المربع الكامل والجذر التربيعي

أتعلم



الاحظ النماذج الآتية:

يتكوّن الأنموذج الأول من صفين في كلٍّ منهما ٣ مربعاتٍ صغيرةٍ. فهو على هيئةٍ مستطيلٍ. وعددُ المربعاتِ الصغيرةِ التي يتكوّنُ منها هو $6 = 3 \times 2$

يتكوّن الأنموذج الثاني من صفين في كلٍّ منهما مربعان صغيران. فهو على هيئةٍ مربعٍ. وعددُ المربعاتِ الصغيرةِ التي يتكوّنُ منها هو $4 = 2 \times 2$

يتكوّن الأنموذج الثالث من ٣ صفوفٍ في كلٍّ منها ٣ مربعاتٍ صغيرةٍ. فهو على هيئةٍ مربعٍ. وعددُ المربعاتِ الصغيرةِ التي يتكوّنُ منها هو $9 = 3 \times 3$

يُسمّى ٢ مربعَ العدد ٢ وكذلك ٣ مربعَ العدد ٣.

فكرةُ الدرس

أتعرف المربعَ الكاملَ
أتعرف الجذرَ التربيعيَّ

المفردات

المربعُ الكاملُ
الجذرُ التربيعيُّ
رمزُ الجذرِ التربيعيِّ
($\sqrt{\quad}$)

أمثلة

- أجد مربعات الأعداد ٥، ٨، ١٠.
مربع العدد ٥ هو $5 \times 5 = 25$
مربع العدد ٨ هو $8 \times 8 = 64$
مربع العدد ١٠ هو $10 \times 10 = 100$
لاحظ أنّ كلاً من الأعداد ٢٥ و ٦٤ و ١٠٠ هو حاصل ضرب عددٍ في نفسه. فهي مربعاتٌ كاملةٌ. ويمكنني تحديداً إن كان العدد مربعاً كاملاً أم لا باستعمالِ حقائقِ الضربِ، أو تحليلِ العددِ إلى عواملِهِ الأوليةِ.
- أحد أيّ الأعداد التالية مربعٌ كاملٌ:
١٦، ٤٨، ٨١، ١٩٦
 $16 = 4 \times 4 = 4^2$ لذا ١٦ مربعٌ كاملٌ.

لا يوجد عدد يُضربُ في نفسه ويُعطي ٤٨ . لذا ٤٨ ليس مربعاً كاملاً.

$$٨١ = ٩ \times ٩ = ٩^٢ \text{ لذا } ٨١ \text{ مربع كامل.}$$

حلّ العدد ١٩٦ إلى عوامله الأولية .

$$٧ \times ٧ \times ٢ \times ٢ = ١٩٦$$

ويمكن كتابته أيضاً على الصورة: $١٩٦ = (٧ \times ٢) \times (٧ \times ٢)$

$$= ١٤ \times ١٤ = ١٤^٢ \text{ ، لذا } ١٩٦ \text{ مربع كامل.}$$

من الأمثلة السابقة نجد أن المربع الكامل ينتج من ضرب أحد عوامله في نفسه . يُسمى هذا

العامل **الجزر التربيعي** للعدد . ورمز الجذر التربيعي هو $\sqrt{\quad}$

العدد ٤ عامل من عوامل ١٦ و $٤ \times ٤ = ١٦$. فيكون ١٦ هو مربع العدد ٤ ، والعدد ٤ هو

الجذر التربيعي للعدد ١٦ . وبالرموز $\sqrt{١٦} = ٤$

وبالمثل : ٩ عامل من عوامل ٨١ و $٩ \times ٩ = ٨١$. فيكون ٨١ هو مربع العدد ٩ ، والعدد ٩ هو

الجذر التربيعي للعدد ٨١ . وبالرموز $\sqrt{٨١} = ٩$

٣ أجد الجذر التربيعي للعددين : ٢٥ ، ٤٩ .

$$٢٥ = ٥ \times ٥ = ٥^٢ \text{ لذا } \sqrt{٢٥} = ٥$$

$$٤٩ = ٧ \times ٧ = ٧^٢ \text{ لذا } \sqrt{٤٩} = ٧$$

تعلمت سابقاً أن مساحة المربع هي : طول الضلع في نفسه . أي أن المساحة هي مربع

طول الضلع . لذا ، يكون طول ضلع المربع هو الجذر التربيعي لمساحة المربع .

٤ حديقة مدرسية مربعة الشكل ، مساحتها ٦٤ متراً مربعاً . ما طول ضلعها؟

ومن حقائق الضرب تعلم أن $٨ \times ٨ = ٦٤$. لذا $\sqrt{٦٤} = ٨$ فيكون طول ضلع الحديقة

٨ أمتاراً أو طول ضلع المربع = $\sqrt{\text{مساحة المربع}} = \sqrt{٦٤}$.

أتأكد

أجد مربعات الأعداد الآتية :

$$١٢ \quad ٣$$

$$٩ \quad ٢$$

$$٦ \quad ١$$

أجد ناتج ما يأتي :

$$١٣ \quad ٦$$

$$١١ \quad ٥$$

$$٧ \quad ٤$$



أجد الجذر التربيعي لكل عدد مما يلي :

٧ ٩ ٨ ٦٤ ٩ ١٠٠

١٠ ١٢١ ١١ ١٦٩ ١٢ ٤٠٠

أي الأعداد الآتية مربع كامل؟

١٣ ٤ ١٤ ٣٦ ١٥ ٧٥

١٦ قاعة أفراح مربعة الشكل مساحتها ٢٢٥ متراً مربعاً . ما طول ضلع القاعة ؟

أحدث: كيف أجد طول سياج أريد وضعه حول قطعة أرض مربعة الشكل مساحتها

١٠٠ متر مربع؟

أحل

أجد مربعات الأعداد الآتية :

١٧ ٧ ١٨ ١١ ١٩ ٢٥

أجد ناتج ما يأتي :

٢٠ ١٥ ٢١ ٢٠ ٢٢ ١٨

أجد الجذر التربيعي لكل عدد فيما يأتي :

٢٣ ٦٢٥ ٢٤ ١٩٦ ٢٥ ٢٤٠١

٢٦ قالتُ شهد انها تحمل ورقة مكتوباً عليها العدد ٢٥٠٠ وقالت جمانة إن ورقتها تحمل العدد

المكون من الجذر التربيعي للعدد الذي تحمله ورقة شهد مضافا اليه العدد ١٥٠٠ مالمعد الذي

تحمله ورقة جمانة ؟

أفكر

٢٧ قطعة من الورق المقوى مربعة الشكل مساحتها ٨١ سم^٢ . ما طول ضلعها؟ وما محيطها؟

٢٨ **تحذ:** إذا علمت أن الجذر التربيعي للعدد ٨٤١ هو ٢٩ . فما الجذر التربيعي للعدد ٨٤١٠٠ ؟

٢٩ **حس عددي:** إذا كان الجذر التربيعي للعدد ٢٨٩ هو ١٧ وللعدد ٥٢٩ هو ٢٣ فما الجذر

التربيعي للعدد ١٥٢٨٨١ الذي يساوي ٢٨٩ × ٥٢٩ ؟

٣٠ **اكتشف الخطأ:** كتب محمد العدد ٤٩ على الصورة ٧٢ . اكتشف خطأ محمد . ثم صحّحه .

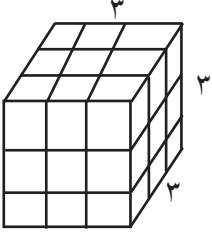
أكتب مسألة من واقع الحياة يستعمل فيها ايجاد الجذر التربيعي ثم أحل المسألة .

المكعب الكامل والجذر التكعيبي

الدرس ٤

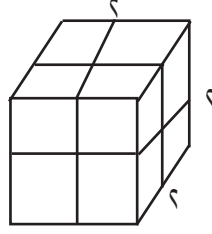
أتعلم

لاحظ النماذج الآتية :



$$27 = 3 \times 3 \times 3$$

النموذج الثاني



$$8 = 2 \times 2 \times 2$$

النموذج الأول

يمكنني استعمال مكعب عدد لوصف عدد المكعبات الصغيرة في كل نموذج، يتكون النموذج الأول من طبقتين في كل منهما 2×2 مكعبات صغيرة، عدد المكعبات الصغيرة التي يتكون منها النموذج الأول هو $2^3 = 2 \times 2 \times 2 = 8$ ،

يتكون النموذج الثاني من 3 طبقات في كل منها 3×3 مكعبات صغيرة، عدد المكعبات الصغيرة التي يتكون منها النموذج الثاني هو $3^3 = 3 \times 3 \times 3 = 27$ يُسمى 2^3 مكعب العدد 2 وكذلك 3^3 مكعب العدد 3.

فكرة الدرس

أتعرف المكعب الكامل
أتعرف الجذر التكعيبي

المفردات

المكعب الكامل

الجذر التكعيبي

الصورة الأسية للمكعب

الكامل

رمز الجذر التكعيبي

مكعب عدد = العدد \times العدد نفسه \times العدد نفسه = (العدد)³ وتسمى الصورة الأسية .
إن «العدد» يُسمى الأساس و «3» يُسمى الأس.

أمثلة

١ أجد مكعبات الأعداد 3، 5، 10.

$$\text{مكعب العدد } 3 \text{ هو } 3^3 = 3 \times 3 \times 3 = 27$$

$$\text{مكعب العدد } 5 \text{ هو } 5^3 = 5 \times 5 \times 5 = 125$$

$$\text{مكعب العدد } 10 \text{ هو } 10^3 = 10 \times 10 \times 10 = 1000$$

لاحظ أن كلاً من الأعداد 27 و 125 و 1000 هو حاصل ضرب الأساس في نفسه 3 مرات. فهي مكعبات كاملة.

ويمكنني تحديد إن كان العدد مكعباً كاملاً أم لا بتحليل العدد إلى عوامله الأولية.

٢ أعدد أي الأعداد التالية مكعباً كامل:

٦٤ ، ٢١٦ ، ٣٢٠

أحل العدد ٦٤ إلى عوامله الأولية.

$$(2 \times 2) \times (2 \times 2) \times (2 \times 2) = 64$$

أكتب العدد على الصورة الآسية

$$2^6 = 2 \times 2 \times 2 =$$

لذا العدد ٦٤ مكعباً كامل.

أحل العدد ٢١٦ إلى عوامله الأولية.

$$3 \times 3 \times 3 \times 2 \times 2 \times 2 = 216$$

أكتب العدد على الصورة الآسية

$$(3 \times 2) \times (3 \times 2) \times (3 \times 2) = 216$$

$$2^3 \times 3^3 = 2 \times 2 \times 2 \times 3 \times 3 \times 3 =$$

لذا ٢١٦ مكعباً كامل.

أحل العدد ٣٢٠ إلى عوامله الأولية.

$$5 \times (2 \times 2 \times 2) \times (2 \times 2 \times 2) = 320$$

أكتب العدد على الصورة الآسية

$$5 \times 8 \times 8 =$$

لا يمكن كتابة العدد ٣٢٠ على صورة (عدد)^٣

لذا ٣٢٠ ليس مكعباً كاملاً.

تلاحظ من الأمثلة السابقة أن المكعب الكامل ينتج من ضرب عدد في نفسه ٣ مرات.

يُسمى هذا العامل الجذر التكعيبي للعدد. ويرمز للجذر التكعيبي بالرمز $\sqrt[3]{\quad}$

٣ إذا كان طول ضلع صندوق من الخشب مكعب الشكل يساوي الجذر التكعيبي لحجمه،

وكان حجمه ٢٧ سم^٣. ما طول ضلعه؟

بما أن طول الضلع هو الجذر التكعيبي للحجم. لذا نجد الجذر التكعيبي للعدد ٢٧.

أكتب العدد بشكل حاصل ضرب عوامله الأولية

$$3 \times 3 \times 3 = 27$$

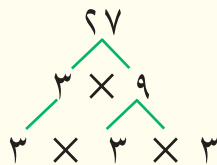
أكتب العدد على الصورة الآسية

$$3^3 =$$

$$3 = \sqrt[3]{27}$$

لذا طول ضلع المكعب يساوي ٣ سم.

طريقة الشجرة



طول ضلع المكعب = $\sqrt[3]{\text{حجم المكعب}}$



أجد مكعبات الأعداد الآتية :

١ ٤ ٢ ٧ ٣ ١١

أجد ناتج ما يلي :

٤ ٢٥ ٥ ٢٨ ٦ ٣٧

أجد الجذر التكعيبي للأعداد الآتية :

٧ ١٢٥ ٨ ٣٤٣ ٩ ٨٠٠٠

أي الأعداد التالية مكعب كامل؟

١٠ ٢٦ ١١ ٨ ١٢ ٤٥

١٣ ٣ ١٤ ٧ × ٢ ١٥ ١٠٠٠

أتحدث: كيف أوضح لزميلي أن $١٠^٢$ تساوي ١٠٠٠؟ أفسر إجابتي.

أحل

أجد مكعبات الأعداد الآتية :

١٦ ٩ ١٧ ٢٠ ١٨ ١٥

أجد الجذر التكعيبي للأعداد الآتية :

١٩ ٥١٢ ٢٠ ١٧٢٨ ٢١ ٧٢٩

٢٢ خزان ماء على شكل مكعب ، طول ضلعه ١٠ م ، ما كمية الماء اللازمة لملئه؟

٢٣ يعدُّ يوم ٩ كانون الثاني عيد الشرطة العراقية ، هل العدد ٩ مكعب كامل؟ أفسر إجابتي.

أفكر

٢٤ **حس عددي:** أجد عدداً يكون مكعباً كاملاً ومربعاً كاملاً في آن واحد ، أكبر من ٤٠ وأقل من ٧٠.

٢٥ **اكتشف الخطأ:** حلل إبراهيم العدد ١٢٥ كنتاج ضرب أعداد أولية كتب إبراهيم : $١٢٥ = ٣^٥$

أين أخطأ إبراهيم؟ وصحِّه.

مسألة من واقع الحياة يستعمل فيها ايجاد الجذر التكعيبي . وأحلها .

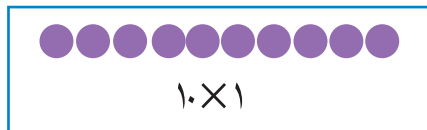


أكتب

الدرس ٥ القاسم المشترك الأكبر والمضاعف المشترك الأصغر

أتعلم



يريدُ معلّمُ الرياضة أن يرتبَ وقوفَ ١٠ تلاميذٍ في صفوفٍ متساويةٍ. بكم طريقةٍ يستطيعُ المعلّمُ عمَلُ ذلك؟
اكتب العدد على شكلٍ حاصلِ ضربِ عددينِ.



يُمكنني أن أرتب التلاميذَ بإحدى الطرائق التالية:
صف واحد فيه ١٠ تلاميذَ 10×1
٢ صفان في كلِّ صفٍ ٥ تلاميذَ 5×2
٥ صفوف في كلِّ صفٍ تلميذان 2×5
١٠ صفوف في كلِّ صفٍ تلميذ واحدٌ. 1×10
لذا يمكنُ ترتيبُ التلاميذِ بـ ٤ طرائقٍ مختلفةٍ.

فكرةُ الدرسِ

أتعرفُ القاسمَ المشتركَ الأكبرَ والمضاعفَ المشتركَ الأصغرَ واجدهما

المفردات

القاسمُ المشتركُ الأكبرُ

رمزُ القاسمِ المشتركِ

الأكبرِ (ق . م . أ)

المضاعفُ المشتركُ

الأصغرُ ورمزه

(م . م . أ)

تعلمت سابقاً إيجاد عوامل عدد. تُسمّى هذه العوامل أيضاً قواسم العدد. وفي بعضِ المواقفِ تحتاجُ إلى إيجاد القواسم المشتركة لعددين مختلفين أو أكثر.

يُسمّى أكبرُ هذه القواسم القاسمَ المشتركَ الأكبرَ ويُكتبُ بالرموزِ على الصورة (ق . م . أ) المضاعفُ المشتركُ الأصغرُ لعددين أو أكثر هو أصغرُ عددٍ مشتركٍ، غيرِ الصفرِ، يكونُ مضاعفاً لكلِّ عددٍ منها. ويُختصرُ بالحروفِ (م . م . أ)

أمثلة

١ أجد القاسمَ المشتركَ الأكبرَ للعددين ١٥ و ٢٠.

لإيجاد القاسم المشترك الأكبر عليك إيجاد قواسم كلِّ عددٍ من العددين.

قواسم العدد ١٥ هي ١، ٣، ٥، ١٥. أكتب قواسم العدد ١٥

قواسم العدد ٢٠ هي ١، ٢، ٤، ٥، ١٠، ٢٠. أكتب قواسم العدد ٢٠

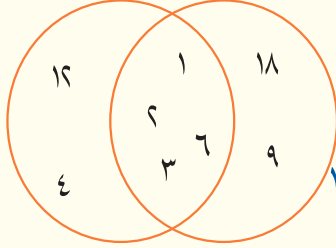
القواسم المشتركة للعددين ١٥ و ٢٠ هي ١، ٥. أكتب القواسم المشتركة

لذا القاسم المشترك الأكبر للعددين ١٥ و ٢٠ هو ٥.



٢ أرادَ معلّمٌ أن يوزعَ ١٨ قلمًا و١٢ دفترًا على عددٍ من التلاميذ المتفوقين. بحيث يحصلُ كلُّ تلميذٍ علماً العدد نفسه من الأقلامِ وعلى العدد نفسه من الدفاتر. ما أكبر عددٍ من التلاميذ يمكنُ أن توزعَ عليهم الأقلامُ والدفاترُ وبالتساوي؟

إن أكبر عددٍ من التلاميذ الذين ستوزعُ عليهم الأقلامُ والدفاترُ هو القاسمُ المشتركُ الأكبرُ للعددين ١٨ و١٢.



أكتب قواسم العدد ١٨

قواسم العدد ١٨ هي ١، ٢، ٣، ٦، ٩، ١٨

أكتب قواسم العدد ١٢

قواسم العدد ١٢ هي ١، ٢، ٣، ٤، ٦، ١٢

أكتب القواسم المشتركة

القواسم المشتركة للعددين ١٨، ١٢ هي: ١، ٢، ٣، ٦

القاسم المشترك الأكبر للعددين ١٢ و ١٨ هو ٦

لذا أكبر عددٍ من التلاميذ يمكنُ توزيعُ الأقلامِ والدفاترِ عليهم بالتساوي هو ٦ تلاميذ

٣ أجد القاسم المشترك الأكبر (ق . م . أ) للأعداد ١٨، ٢٤، ٣٠

أكتب قواسم العدد ١٨

قواسم العدد ١٨: ١، ٢، ٣، ٦، ٩، ١٨

أكتب قواسم العدد ٢٤

قواسم العدد ٢٤: ١، ٢، ٣، ٤، ٦، ٨، ١٢، ٢٤

أكتب قواسم العدد ٣٠

قواسم العدد ٣٠: ١، ٢، ٣، ٥، ٦، ١٠، ١٥، ٣٠

أكتب القواسم المشتركة

القواسم المشتركة: ١، ٢، ٣، ٦

لذا (ق . م . أ) = ٦

أكبر القواسم المشتركة هو العدد ٦

٤ أجد المضاعف المشترك الأصغر للأعداد ٣، ٤، ٨

مضاعفات العدد ٣: ٣، ٦، ٩، ١٢، ١٥، ١٨، ٢١، ٢٤، أكتب بعض مضاعفات العدد ٣.

مضاعفات العدد ٤: ٤، ٨، ١٢، ١٦، ٢٠، ٢٤، ٢٨، أكتب بعض مضاعفات العدد ٤.

مضاعفات العدد ٨: ٨، ١٦، ٢٤، ٣٢، ٤٠، ٤٨، أكتب بعض مضاعفات العدد ٨.

أحدد أصغر مضاعف موجود في مضاعفات الأعداد الثلاثة.

أصغر مضاعف هو ٢٤

المضاعف المشترك الأصغر للأعداد ٣ و ٤ و ٨ هو ٢٤.

لذا (ق . م . أ) = ٢٤



أجد القاسم المشترك الأكبر (ق . م . أ) لكل مما يلي :

- ١ ٩١، ٩٨ ٢ ٣٠، ٣٦، ٤٤ ٣ ٢٠، ٣٠، ٤٥

أجد المضاعف المشترك الأصغر (م . م . أ) في كلِّ ممَّا يلي :

- ٤ ١٦ و ٤٤ ٥ ٩ و ١٢ ٦ ٦ و ١٠ و ١٥

٧ يريدُ بائعُ مرطباتٍ أن يوزعَ ٨ علبِ عصيرِ تفاحٍ ، و ١٢ علبةَ عصيرِ برتقالٍ ، و ١٤ علبةَ عصيرِ مانجو على طاولاتٍ في المحلِّ على أن يضعَ على كلِّ طاولةٍ العددَ نفسه من عصيرِ التفاحِ والعددَ نفسه من عصيرِ البرتقالِ والعددَ نفسه من عصيرِ المانجو ، كم طاولةٍ يحتاج ؟

٨ عندَ بدايةِ العامِ الدراسيِّ قرَّرَ حاتمٌ أن يقرأ قصةً كلَّ ثالثِ أسبوعٍ . ويجري تجربةً مختبريةً كلَّ خامسِ أسبوعٍ . ما رقمُ أولِ أسبوعٍ سيقْرأ فيه حاتمٌ قصةً ويجري تجربةً مختبريةً؟
أحدث: كيف أوضح خطواتِ إيجادِ القاسمِ المشتركِ الأكبرِ لعددَيْن ؟ أعطِ مثالا على ذلك.

أحل

أجد القاسم المشترك الأكبر (ق . م . أ) و المضاعف المشترك الأصغر (م . م . أ) لكل مما يلي :

- ٩ ٦، ٤ ١٠ ٩، ٦، ٣

١١ ترغبُ زينبُ في وضعِ ٢٤ قلمَ تلوينِ أحمرَ ، و ٢٠ قلمًا أخضرَ ، في علبٍ على أن تضعَ في كلِّ علبةٍ العددَ نفسه من الأقلامِ الحمراء والعددَ نفسه من الأقلامِ الخضراء . ما أكبرُ عددٍ من العلبِ تحتاجُ إليه زينبُ؟

أفكر

١٢ مسألة مفتوحة: أكتب عددين قواسمهما المشتركة ١ ، ٣ ، ٥ ، وأبين كيف اجدهما.

١٣ اكتشاف الخطأ: قالت سارة إن ٥ و ١٠ و ١٥ و ٢٠ هي قواسم للعدد ٥ . ما خطأ سارة ؟ وصِّحْهُ .

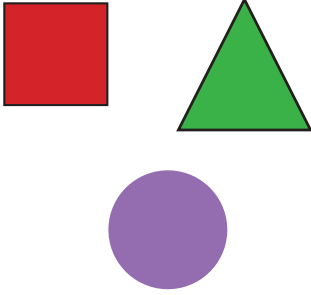
١٤ تحد: يروي مزارعُ الخضراواتِ كلَّ خامسِ يومٍ ، ويروي أشجارَ الليمونِ كلَّ سابعِ يومٍ . اذا بدأ بري الخضروات والليمون لأول مرة يوم ٥ آذار فبعد كم يوم يروي الخضروات والأشجار معاً؟

هل يمكن أن يكون القاسم المشترك الأكبر لعددَيْن هو ١؟ أفسر اجابتي بمثال .

أكتب

خطة حل المسألة (التبرير المنطقي)




أتعلم



وزَّعَ معلمٌ على ثلاثة تلاميذ بطاقات على شكلِ مربعٍ، مثلثٍ، دائرةٍ، فأعطى التلميذ الأول مثلثاً والتلميذ الثالث مربعاً . استعن بالمعطيات لتحديد الشكل الذي أعطي للتلميذ الثاني؟

فكرةُ الدرس
أستعمل التبرير المنطقي لأحلّ مسائل.

أفهم







مامعطيات المسألة؟ ثلاث قطع بأشكال :  ،  ،  وزعت على ثلاث تلاميذ
ما المطلوب في المسألة؟ الشكل الذي أعطي للتلميذ الثاني

أخطط

كيف أحل المسألة؟

استعمل التبرير المنطقي لحل المسألة .

أحل

القطع التي وزعت على التلاميذ الثلاثة هـ :  ،  ، 
اعطي التلميذ الأول 
اعطي التلميذ الثالث 
اذن ، منطقياً يكون التلميذ الثاني قد أعطي له 

أتحقق

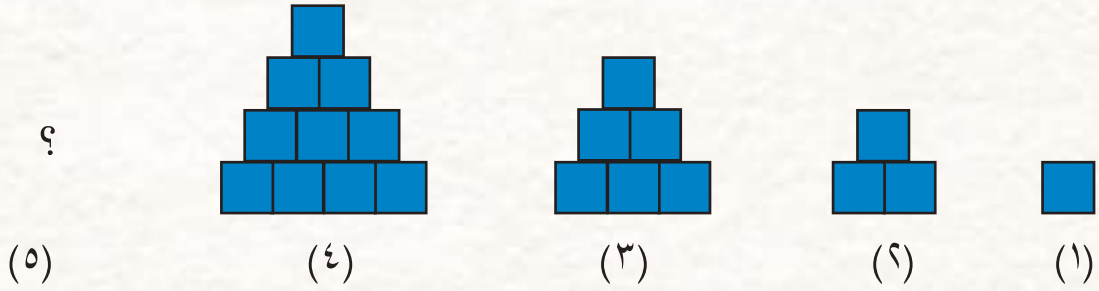
بما أن الاجابات تتوافق مع المعطيات
لذا الحل معقول .



مَسَائِلُ

١) قطعة أرض مساحتها ٦٤ م^٢ ، فإذا كان الطول والعرض عددين صحيحين أكبر من ١ ، هل يمكن أن تكون قطعة الأرض مربعة الشكل ؟

٢) إذا استمر النمط التالي فكم قطعة مربعة سيكون في الشكل الخامس ؟



٣) اصطف ثلاثة تلاميذ في صف واحد ، فإذا لم يقف أحمد في آخر الصف ، ووقف حسن أمام التلميذ الأطول ، ووقف مهند خلف أحمد ، رتب التلاميذ من الأول إلى الأخير وحدد التلميذ الأطول .

٤) أيهما أكبر الجذر التربيعي أم الجذر التكعيبي للعدد ٦٤ ؟ أبرر إجابتني

٥) يعمل كل من سعد ، كاظم ، حسين في إحدى الوظائف التالية: معلم ، مهندس ، طبيب ، إذا كان سعد لا يحب الطب ، وكاظم ليس معلماً ولا طبيباً ، فما مهنة حسين ؟

٦) طلبت معلمة من تلاميذها أن يرسم كل منهم ٣ لوحات فإذا كان عدد التلاميذ ١٦ ما عدد اللوحات التي سيرسمونها ؟

أ (٤٤)

ب (٤٦)

ج (٤٨)

د (٤٩)



مراجعة الفصل

المفردات

المضاعف المشترك الأصغر، القاسم المشترك الأكبر، المكعب الكامل، الجذر التكعيبي، الصورة الأسية للعدد، التحليل للعوامل، شجرة العوامل، الأساس، الأس، العدد الأولي، العدد غير الأولي، الجذر التربيعي، المربع الكامل.

أكمل الجمل الآتية باستعمال المفردات المناسبة في القائمة اعلاه :

- | | | | |
|---|-----------------------------------|---|----------------------------|
| ١ | للعددين ٦ ، ٣ ، هو ٦ | ٢ | للعددين ٦ ، ٣ ، هو ٣ |
| ٣ | له عاملان فقط ١ والعدد نفسه | ٤ | للعدد ٢٥ هو ٥ |
| ٥ | للعدد ٢٧ هو ٣ | ٦ | في العدد ٣ هو ٣ |

العدد الأولي

الدرس (١)

مثال :

أحدّد إن كان العدد ٢١ أولياً أم غير أولي.

من حقائق الضرب تجد أن $٢١ = ٧ \times ٣$ ، $٢١ = ٢١ \times ١$

لذا عوامل العدد ٢١ هي ١، ٣، ٧، ٢١ فهو غير أولي. لأن له أكثر من قاسمين.

تدريب : أحدّد إن كان العدد ٢٠ أولياً أم غير أولي.

التحليل إلى عوامل الصورة الأسية .

الدرس (٢)

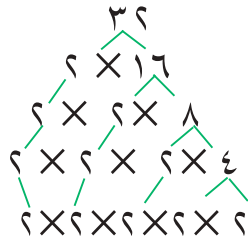
مثال : أحلل العدد ٣٢ إلى عوامله الأولية.

أولاً : طريقة القواسم:

٢	٣٢	$١٦ = ٢ \div ٣٢$
٢	١٦	$٨ = ٢ \div ١٦$
٢	٨	$٤ = ٢ \div ٨$
٢	٤	$٢ = ٢ \div ٤$
٢	٢	$١ = ٢ \div ٢$
	١	

ثانياً : طريقة الشجرة :

$$٣٢ = ٢ \times ٢ \times ٢ \times ٢ \times ٢ = ٢^5$$



تدريب : أحلل العدد ٦٤ إلى عوامله الأولية.

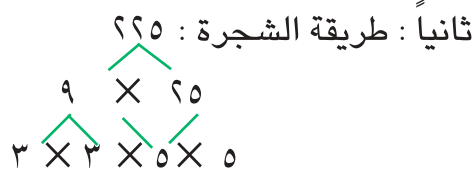
المربع الكامل والجذر التربيعي

الدرس (٣)

مثال : أجد الجذر التربيعي للعدد ٢٢٥ باستعمال الشجرة أو بالقواسم.

أولاً : طريقة القواسم:

٣	٢٢٥	$٧٥ = ٣ \div ٢٢٥$
٣	٧٥	$٢٥ = ٣ \div ٧٥$
٥	٢٥	$٥ = ٥ \div ٢٥$
٥	٥	$١ = ٥ \div ٥$
	١	



$$١٥ = ١٥ \times ١٥ = (٥ \times ٣) \times (٥ \times ٣) = ٥ \times ٥ \times ٣ \times ٣ = ٢٢٥$$

لذا الجذر التربيعي للعدد ٢٢٥ هو ١٥ ويكتب $\sqrt{٢٢٥} = ١٥$

تدريب :

- ١ أجد الجذر التربيعي للعدد ١٤٤.
- ٢ مربع مساحته ٢٥٦ م^٢، أجد طول ضلعه ومحيطه.

الدرس (٤) المكعب الكامل والجذر التكعيبي

مثال : أجد الجذر التكعيبي للعدد ١٢٥ .

أحلل العدد ١٢٥ إلى عوامله الأولية.

$$5 \times 5 \times 5 = 125$$

$$^3 5 =$$

لذا الجذر التكعيبي للعدد ١٢٥ هو ٥ ويكتب $\sqrt[3]{125} = 5$

تدريب :

- ١ أجد الجذر التكعيبي للعدد ٥١٢ .
- ٢ مكعب حجمه ١٠٠٠ سم^٣، أجد طول ضلعه.

الدرس (٥) القاسم المشترك الأكبر والمضاعف المشترك الأصغر

مثال ١ : أجد (ق.م.أ) للعددين ١٦ و ٨

قواسم العدد ١٦: ١، ٢، ٤، ٨، ١٦

قواسم العدد ٨: ١، ٢، ٤، ٨

القواسم المشتركة: ١، ٢، ٤، ٨

لذا (ق.م.أ) = ٨

تدريب ١ :

- ١ أجد (ق.م.أ) للعددين ١٠، ٢٥
- ٢ أجد (ق.م.أ) للأعداد ١٥، ٢٠، ٣٥

مثال ٢ : أجد (م.م.أ) للعددين ٦، ١٠

مضاعفات العدد ٦: ٦، ١٢، ١٨، ٢٤، ٣٠، ٣٦،

مضاعفات العدد ١٠: ١٠، ٢٠، ٣٠، ٤٠، ٥٠، ٦٠،

لذا (م.م.أ) = ٣٠

تدريب ٢ :

- ١ أجد (م.م.أ) للعددين ١٢، ١٦
- ٢ أجد (م.م.أ) للأعداد ٨، ٢٤، ٣٢



أختيار الفصل

أحدد إن كان العدد أولياً أو غير أولي:

٩٦ ٣

٣٣ ٢

١٧ ١

أحلل الاعداد إلى عواملها الأولية. ثم اكتبها بالصورة الأسية:

١٢١ ٦

٦٤٥ ٥

٧٢ ٤

أجد قيمة ما يلي:

٣١٠ ١٠

١٠ ٩

١٤ ٨

٢٩ ٧

أجد الجذر التربيعي للاعداد التالية:

١٤٤ ١٣

١٦٩ ١٢

١٩٦ ١١

أجد الجذر التكعيبي للاعداد التالية:

١٢٥ ١٦

١٣٣١ ١٥

٦٤ ١٤

أجد القاسم المشترك الأكبر (ق.م.أ) والمضاعف المشترك الأصغر (م.م.أ) للاعداد التالية:

٣٠، ١٥، ٥ ١٨

٤٤، ١٢ ١٧



١٩ تريد فائزة أن توزع ٣٠ حبة تفاح و ٤٤ حبة برتقال على أطباق على

أن تضع في كل طبق العدد نفسه من التفاح، والعدد نفسه من البرتقال.

ما أكبر عدد من الأطباق تحتاج إليه فائزة؟ وكم حبة من كل صنف تضع

في الطبق الواحد؟



٢٠ يقدم معرض تجاري هاتف خلوي مجاناً لكل سادس زبون يشتري من

المعرض. ويقدم بطارية هاتف خلوي لكل ثامن زبون يشتري من المعرض.

ما رقم أول زبون يحصل على الهاتف والبطارية معاً؟

٢١ يريد سعد أن يرتب ١٥ لعبة في صفوف متساوية، بكم طريقة يمكن ترتيبها؟

الهندسة

سوف أتعلّم في هذا الفصل :

الدرس (١) التوازي والتعامد

الدرس (٢) تصنيف المثلثات

الدرس (٣) إنشاءات هندسية (مستقيمت و اشكال هندسية)

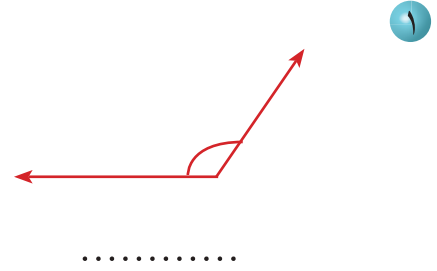
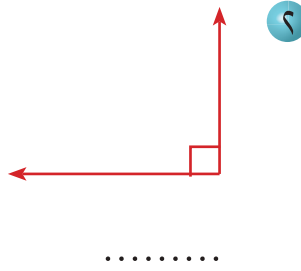
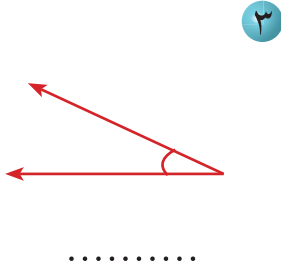
الدرس (٤) أنماطاً هندسية

الدرس (٥) خطة حلّ المسألة (أبحث عن نمط)

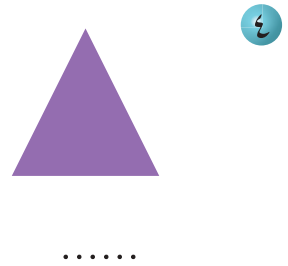

ساحة التحرير من الساحات المميزة في بغداد يوجد فيها نصب الحرية المشهور. ما الأشكال الهندسية التي تظهر في الصورة؟

الاختبار القبلي

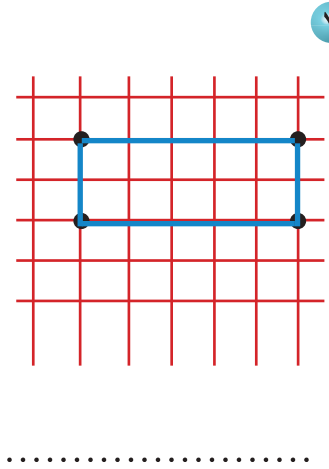
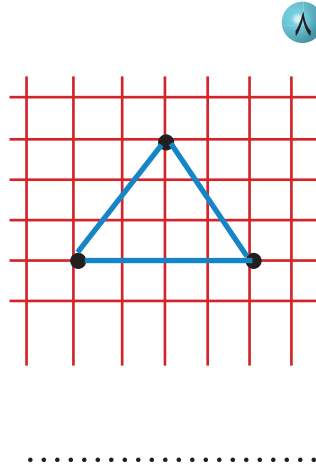
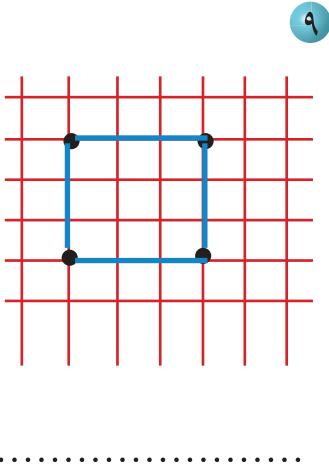
أصنف كل زاوية مما يأتي الى حادة أو قائمة أو منفرجة :



ما نوع زوايا كل شكل من الاشكال الاتية :



أسمي الشكل الذي رؤوسه النقاط المبينة على الشبكة :



أصل كل شكل باسمه وأكتب رمزه :

..... قطعة مستقيمة



..... شعاع



..... مستقيم



التوازي والتعامد

الدرس ١

أتعلم



تتكوّن بوابة حقل الخيول المبيّنة في الشكل من مستقيمتين متوازيتين وأخرى متعامدة عليها . كيف تتعرف إلى المستقيمتين المتوازيتين والمتعامدة؟

فكرة الدرس

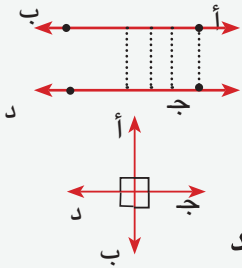
أتعرف المستقيمتين المتوازيتين والمتعامدة

المفردات

رمز التوازي //

رمز التعامد ⊥

المستقيمان المتوازيان : مستقيمان البعد بينهما ثابت ولا يلتقيان



يقرأ : المستقيم أب يوازي المستقيم جد
يكتب : أب //

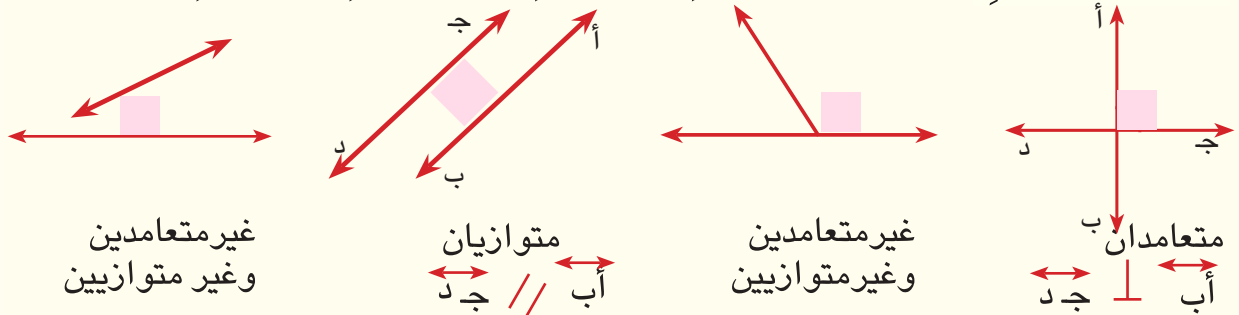
المستقيمان المتعامدان : مستقيمان يتقاطعان ويكونان أربع

زوايا قائمة

يقرأ : المستقيم أب عمودي على المستقيم جد
يكتب : أب ⊥

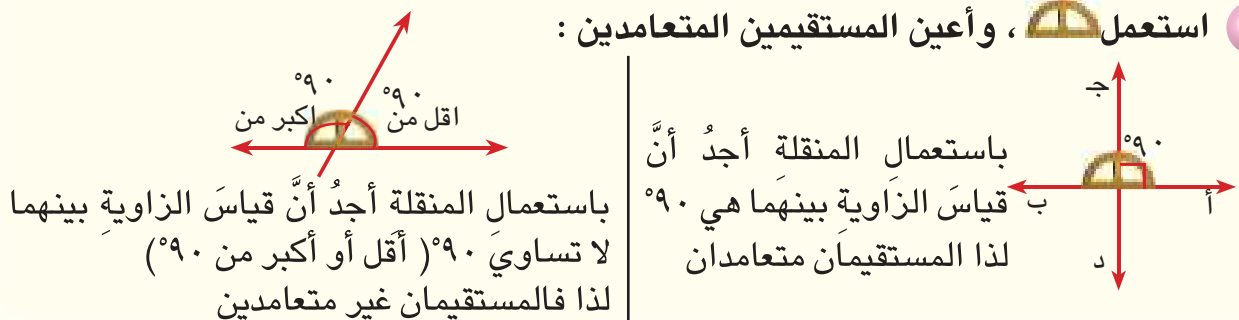
أمثلة

١ أستعين بالأنموذج وأعين المستقيمين المتعامدين والمستقيمين المتوازيين أو غير ذلك :



يمكنك استعمال المنقلة في تحديد إن كان المستقيمان المتقاطعان متعامدين أم لا

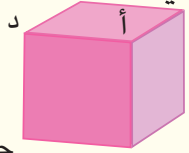
٢ استعمال المنقلة ، وأعين المستقيمين المتعامدين :



باستعمال المنقلة أجد أن قياس الزاوية بينهما لا تساوي ٩٠ (أقل أو أكبر من ٩٠) لذا فالمستقيمان غير متعامدين

باستعمال المنقلة أجد أن قياس الزاوية بينهما هي ٩٠ لذا فالمستقيمان متعامدان

٣ الشكل المجاور يُمثّل مكعباً ، أضع رمزَ التوازي أو رمزَ التعامدِ لكلِّ ممّا يلي :



أ د ⊥ ج د
 أ ب ⊥ ج د
 أ د // ج د
 أ ب // ج د


٤ أحدُ إن كانتِ القطعتانِ في كل شكل مما يأتي متوازيّتين أم متعامدتين أم متقاطعتين وغير متعامدتين :



متوازيّتان



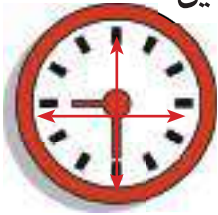
غير متعامدتين



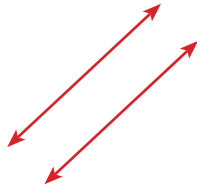
متعامدتان

أتأكد

احدد إن كان المستقيمان متوازيين أم متعامدين أم متقاطعين وغير متعامدين :



٤



٣




٦

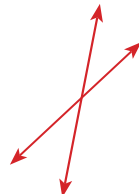


١

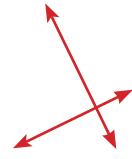
استعمل لأحد إن كان المستقيمان متعامدين أم متقاطعين وغير متعامدين :



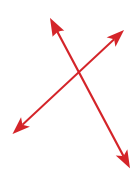
٨



٧



٦

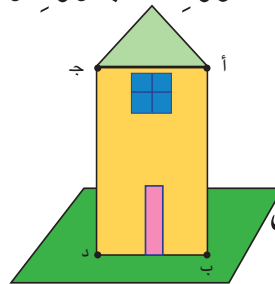


٥

٩ انظر إلى الصورة المجاورة وأحد مستقيمين متوازيين ، ومستقيمين متعامدين :



واضع الرمز المناسب :



انظر إلى الشكل

أ ج ج د ١٢

أ ب ج د ١١

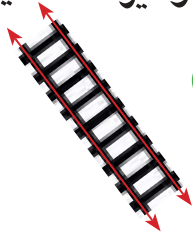
أ ب أ ج ١٠



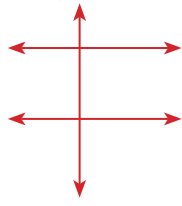
أحدث: كيف يُمكنني استخدام المنقلة لتحديد إن كان المستقيمان متعامدين أم لا ؟

أحل

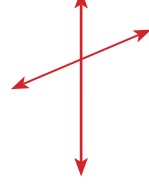
أحدد إن كان المستقيمان متوازيين أم متعامدين أم متقاطعين وغير متعامدين:



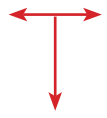
١٦



١٥



١٤




١٣

.....

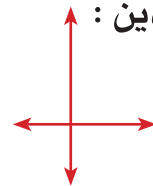
.....

.....

.....



١٩



١٨



١٧

.....

.....

.....

استعمل لأحدد المستقيمين المتعامدين :

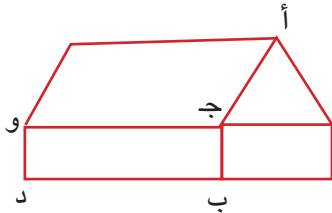


٢٠ سباق التجديف من السباقات الممتعة استعمل الصورة

المجاورة لتحديد إن كانت أ ب ، ح د متوازيتين

أو متعامدتين و أضع الرمز المناسب.

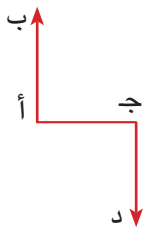
أفكر



٢١ أضع الرمز المناسب في الفراغ مستعملاً الشكل المجاور :

أ ج ح و ، و د ج ب

ج و ب د



٢٢ أضع رمز التوازي او رمز التعامد في المكان

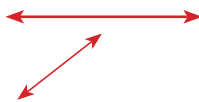
المناسب مستعيناً بالشكل المجاور :

أ ب أ ج ، أ ب ج د ، أ ج ج د

٢٣ **تحذّر:** أرسم مستقيمين يمر كل منهما بنقطتين من النقاط المبينة أدناه. ثم أجد عدد ازواج



المستقيمت المتوازية التي تبدو في الرسم .



٢٤ أبين إن كان المستقيمان في الشكل المجاور متعامدين أم متوازيين.

مسألة أستعمل فيها المستقيمت المتوازية أو المستقيمت المتعامدة.

أكتب



تصنيف المثلثات

أتعلم

فكرةُ الدرس

أتعرفُ أنواعَ المثلثاتِ وفقاً لأطوال أضلاعها
أتعرفُ أنواعَ المثلثاتِ وفقاً لقياسات زواياها

المفردات

مثلثٌ حادُّ الزوايا


مثلثٌ منفرجُ الزاويةِ

مثلثٌ قائمُ الزاويةِ

مثلثٌ متساوي الأضلاع

مثلثٌ مختلفُ الأضلاعِ

مثلثٌ متساوي الساقينِ



أتأمل الصورةَ الظاهرةَ الى اليسار، كيف يُمكنني تصنيفُ هذه المثلثاتِ على وفق قياسات زواياها أو قياسات أطوال أضلاعها؟

المثلثُ مضلعٌ له ثلاثُ زوايا . وقد تكونُ زواياهُ حادةً أو احدى زواياه قائمةً أو احدى زواياه منفرجةً.

وعليه يُمكنني تصنيفُ المثلثاتِ على وفق أنواعِ زواياه على النحو الآتي:



مثلثٌ حادُّ الزوايا : مثلثٌ كلُّ زواياهُ حادةٌ.

مثلثٌ قائمُ الزاويةِ : إحدى زواياهُ قائمةٌ.

مثلثٌ منفرجُ الزاويةِ : إحدى زواياهُ منفرجةٌ.

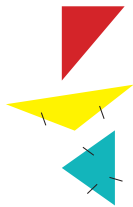
أطوال أضلاع المثلث تكون مختلفة ، أو متساوية أو يتساوى ضلعان فقط. وعليه يُمكنني

تصنيفُ المثلثاتِ على وفق أطوالِ اضلاعها، على النحو الآتي :

مثلثٌ مختلفُ الأضلاعِ : مثلثٌ ليس لأيِّ ضلعين فيه الطول نفسه .

مثلثٌ متساوي الساقينِ : مثلثٌ فيه ضلعان متساويان في الطول في الأقل .

مثلثٌ متساوي الأضلاعِ : مثلثٌ أطوالُ اضلاعه الثلاثة متساويةٌ .




أمثلة

١ أصنف المثلثاتِ في فقرةٍ أتعلم حسب قياسِ زواياها :



المثلثانِ باللونِ الأزرقِ كلُّ منهما حادُّ الزوايا (جميعُ زواياهُ أقلُّ من قائمةٍ)


المثلثانِ باللونِ الأصفرِ كلُّ منهما منفرجُ الزاويةِ (إحدى زواياهُ أكبرُ من قائمةٍ)

المثلثانِ باللونِ الأحمرِ كلُّ منهما قائمُ الزاويةِ (يحتوي على زاويةٍ قائمةٍ)



٢ أصنف المثلثات في فقرة أتعلم حسب أطوال أضلاعها :

المثلثان باللون الأزرق  كل منهما متساوي الأضلاع (أضلاعه متساوية في الطول)
المثلثان باللون الأصفر  كل منهما متساوي الساقين (ضلعان فقط متساويان في الطول)

المثلثان باللون الأحمر  كل منهما مختلف الأضلاع (أضلاعه جميعها مختلفة في الطول)

٣ أكمل الجدول الآتي :

المعطيات	الرسم	نوع المثلث وفقاً لأطوال أضلاعه	نوع المثلث وفقاً لقياس زواياه
(٢سم، ٢سم، ٢سم)، (٦٠°، ٦٠°، ٦٠°)		متساوي الأضلاع	حاد الزوايا
(٧سم، ٧سم، ١٢سم)، (٣٠°، ١٢٠°، ٣٠°)		متساوي الساقين	منفرج الزاوية
(٥سم، ١٢سم، ١٣سم)، (٣٧°، ٩٠°، ٥٣°)		مختلف الأضلاع	قائم الزاوية

٤ أستعمل الرسم المجاور وأصنف المثلثات وفقاً لأطوال أضلاعها وقياسات زواياها :



المثلثان باللون الوردي : كل منهما متساوي الأضلاع ، حاد الزوايا
المثلث باللون البنفسجي : مثلث متساوي الساقين ، منفرج الزاوية
المثلث باللون الأزرق : مثلث مختلف الأضلاع ، قائم الزاوية

أتأكد

أكتب نوع المثلث متساوي الأضلاع أو متساوي الساقين أو مختلف الأضلاع

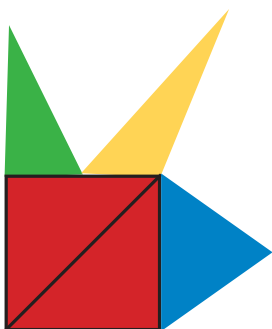
واكتب حاد الزوايا أو قائم الزاوية أو منفرج الزاوية




١  ٤سم ، ٣سم ، ٥سم

٢  ٢سم ، ٢سم ، ٣سم

٣  ٣سم ، ٣سم ، ٣سم

٥  ٣سم ، ٣سم ، ٣سم يمثل الشكل المجاور عدداً من المثلثات أستعين به ، لأكمل الجدول الآتي :



المثلث	العدد	نوعه وفقاً لأطوال أضلاعه	نوعه وفقاً لقياسات زواياه
			
			
			
			





أتحدث: كيف أحدد نوع مثلث أطوال أضلاعه : ٨ سم ، ٨ سم ، ١٣ سم ، وقياس إحدى

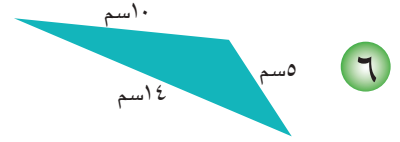
زواياه ١٢٠° . من حيث أطوال أضلاعه وقياسات زواياه؟

أحدد نوع المثلث من حيث أطوال أضلاعه وقياسات زواياه :

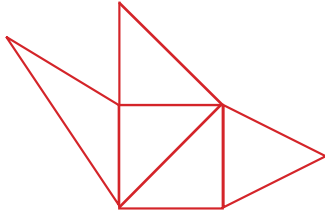
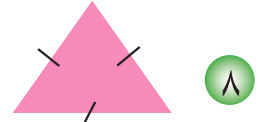
أحل



..... ،



..... ،



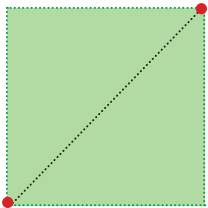
١٠. ألون المثلثات في الشكل المجاور وفقاً لقياسات زواياها حيث

ألون المثلثات المنفرجة الزاوية باللون الأحمر ، القائمة الزاوية

باللون الأزرق والحادة الزوايا باللون الأخضر .


١١. صمم طارق حديقة منزله المربعة الشكل حيث ثبت وتداً في ركنين

متقابلين من الحديقة ، وصل الوتدين بحبل كما يظهر في الشكل المجاور.



ماعدد المثلثات التي قسمت الحديقة عليها ومانوعها بحسب أطوال أضلاعها وقياسات زواياها؟

١٢. يمثل الشكل المجاور عدداً من المثلثات أستعين به في اكمال الجدول الآتي :



نوع المثلث وفقاً لقياسات زواياه			نوع المثلث وفقاً لأطوال اضلاعه		
اللون	عدد المثلثات	النوع	اللون	عدد المثلثات	النوع
		قائم الزاوية			متساوي الأضلاع
		حاد الزوايا			متساوي الساقين
		منفرج الزاوية			مختلف الأضلاع

أفكر

١٣. **تفكير ناقد:** هل يمكن أن يكون المثلث المتساوي الأضلاع منفرج الزاوية؟ أفسر إجابتي.

١٤. **تحذ:** مثلث مجموع أطوال أضلاعه ٢٢ م وطولا ضلعين فيه ٦ م ، ١٠ م ، مانوع المثلث؟

١٥. **مسألة مفتوحة:** ما نوع المثلث متساوي الساقين بحسب قياسات زواياه؟ أعط أمثلة .

مسألة عن نوع المثلث بحسب اطوال اضلاعه وقياسات زواياه .

أكتب

الدرس ٣ انشاءات هندسية (مستقيمت وأشكال هندسية)



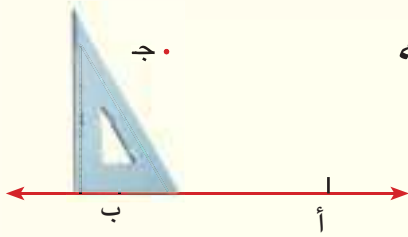
أتعلم

يحتاج المهندسون في عملهم إلى بعض الانشاءات الهندسية ، كيف يمكن لهم عمل هذه الإنشاءات ؟

فكرة الدرس
أنشئ عموداً على مستقيم معلوم و مستقيماً موازياً لمستقيم معلوم أنصف قطعة مستقيمة معطاة .
أنشئ مربعاً أو مستطيلاً باستعمال أدوات هندسية

أمثلة

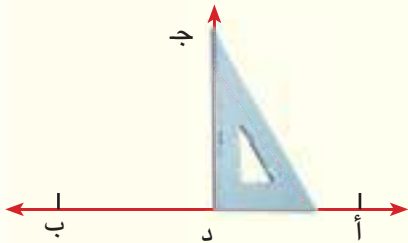
أولاً : إنشاء عمود على مستقيم يمر بنقطة خارجة عنه :



١ أنشئ عموداً على المستقيم AB من نقطة ح الخارجة عنه

الخطوة (١)

أستعمل مثلثاً قائم الزاوية بحيث ينطبق أحد ضلعي الزاوية القائمة على المستقيم AB



الخطوة (٢)

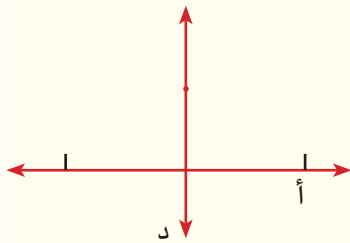
أحرك المثلث الى اليمين مع بقاء ضلعه منطبقاً على AB الى أن تصبح النقطة (ح) على الضلع الآخر للزاوية القائمة في \triangle أحدهم النقطة د على المستقيم AB عند رأس القائمة

الخطوة (٣) أرسم الشعاع د ج فيكون عمودياً على المستقيم AB

ثانياً : إنشاء مستقيم مواز لمستقيم آخر

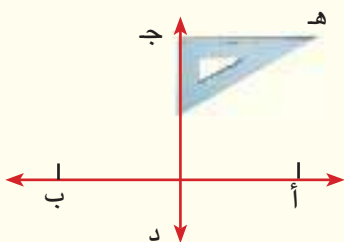
٢ أنشئ مستقيماً موازياً للمستقيم AB من نقطة ح الخارجة عنه

الخطوة (١)



أنشئ مستقيماً عمودياً على المستقيم AB ماراً بنقطة ح (حسب أولاً)

الخطوة (٢)

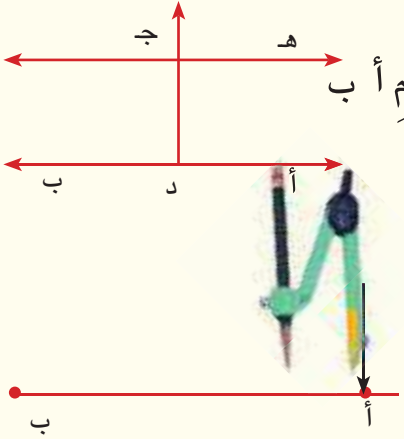


أنشئ مستقيماً عمودياً على ح د ماراً بالنقطة ح . مستخدماً مثلثاً قائم الزاوية وأعين عليه النقطة هـ .



الخطوة (٣)

أرسم مستقيماً يمرُّ بالنقطتين ج ، هـ فيكون موازياً للمستقيم أ ب ويكتب ج هـ // أ ب



ثالثاً: تنصيف قطعة مستقيمة

٣ أنصف القطعة المستقيمة أ ب التي طولها ٨ سم

الخطوة (١)

أفتح فتحةً تزيد على ٤ سم (أكبر من نصف طول القطعة المستقيمة)

ثم أثبت الرأس المُدبَّب للفرجال في النقطة أ وأرسم قوساً يقطع القطعة المستقيمة أ ب.

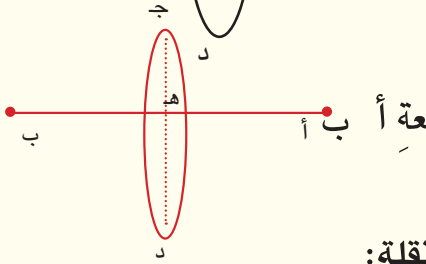
الخطوة (٢)

أحافظ على فتحة الفرجال وأثبت الرأس المُدبَّب في نقطة ب وأرسم قوساً يقطع القوس السابق في النقطتين ج ، د

الخطوة (٣)

أرسم قطعة مستقيمة تصل بين النقطتين ج ، د فنتقاطع مع

القطعة الأصلية أ ب في نقطة مثل هـ التي هي منتصف القطعة أ ب



٤ أرسم مربعاً طول ضلعه ٣ سم. باستعمال المسطرة والمنقلة:

الخطوة (١): أرسم قطعة مستقيمة أ ب طولها ٣ سم مستعملاً المسطرة.

الخطوة (٢): أثبت مركز المنقلة (صفر تدريج المنقلة) عند

النقطة أ على القطعة المستقيمة أ ب ، أضع نقطة عند العدد

(٩٠) أعلى المنقلة .

أرفع المنقلة وأضع صفر المسطرة عند أ بحيث تمر حافة المسطرة

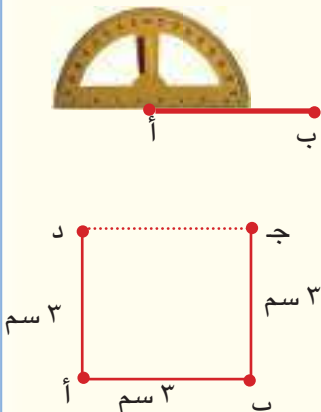
بالنقطة المؤشرة وأعين النقطة د عند العدد ٣ على المسطرة .

الخطوة (٣): أكرر ما عملته في الخطوة ٢ عند النقطة ب

وأعين النقطة ج حيث ب ج = ٣ سم

الخطوة (٤): أرسم القطعة المستقيمة ج د بالمسطرة فاحصل


على المربع أ ب د ج



منهاجي

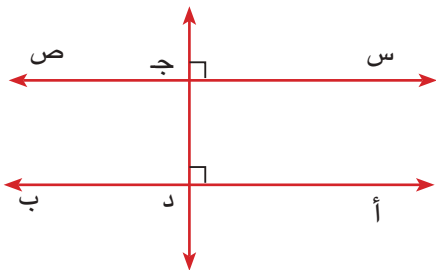
منوعة التعليم الهادف



- ١ أرسمُ مستقيماً مثل أ ب وأحدد نقطة ج خارجةً عنه ، ثم أرسمُ مستقيماً يمرُّ في ج ويوازي المستقيم أ ب
 - ٢ أرسمُ مستقيماً مثل أ ب وأحدد نقطة ج خارجةً عنه ، ثم أرسمُ مستقيماً يمرُّ في ج وعمودياً على المستقيم أ ب .
 - ٣ أرسمُ قطعةً مستقيمةً طولها ١٠ سم ، أنصفُ القطعةَ المستقيمةَ مستعملاً الفرجالَ ثم أتتحق من تنصيفها باستعمالِ مسطرةٍ مدرجةٍ .
 - ٤ ارسم مستطيلاً طوله ٣ سم ، وعرضه ٢ سم ، باستعمالِ المسطرةِ والمنقلةِ .
- أُتَحَدَّث:** كيف أستعملُ  مثلثاً قائم الزاوية في رسمِ مربعٍ؟

أحل

- ٥ أضعُ علامةَ ✓ أو × في الجدولِ التالي وبالمكانِ المناسبِ مستعيناً بالشكلِ المجاورِ

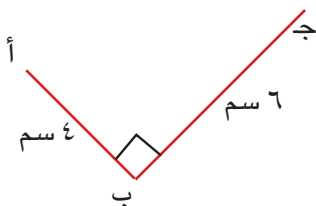


صح	خطأ	العبرة
		أ ب // س ص
		ح نقطة على أ ب
		ح د ⊥ أ ب
		ح د ⊥ س ص

- ٦ أرسمُ المربعَ الذي طول ضلعه ٨ سم ، باستعمالِ المسطرةِ والمنقلةِ .

أفكر

- ٧ **اكتشف الخطأ:** أرادَ محمد أن ينصفَ قطعةَ مستقيمة طولها ١٠ سم مستعملاً فرجالَ بفتحةٍ قدرها ٤ سم ، اكتشف خطأ محمد وصحَّه .



- ٨ **تحد:** ارسم المستطيل أ ب ج د مستعملاً الشكل المجاور :

تلخيصاً لطريقة رسم مستقيم عمودي على مستقيم آخر من نقطة خارجة عنه.

أكتب

أتعلم

نظرَ أحمدُ وسُهِىَ الى الأشكالِ المجاورة :
 فقالت سُهِىَ هذا النمطُ هو: أزرقُ ، أحمرُّ ، أزرقُ ، أحمرُّ ، أزرقُ ، أحمرُّ ،
 قالَ أحمدُ بل هذا النمطُ هو: دائرةٌ ، مربعٌ ، دائرةٌ ، مربعٌ ، دائرةٌ ،
 مربعٌ كلاهما وَصَفَ النمطَ بطريقتهِ الخاصةِ ، كيف وصفتُ سُهِىَ
 النمطُ؟ كيف وَصَفَ أحمدُ النمطُ؟

فكرةُ الدرس
 أكونُ وأكملُ أنماطاً

هندسية معطاة

المفردات

النمطُ

وحدة النمط

النمطُ مجموعة مرتبة من أعداد ، أو أشكال يساعد ترتيبها في توقع العدد أو الشكل التالي.
 أما وحدة النمط فهي الجزء الذي يتكرر من النمط.

أمثلة

١ هل الشكل يمثل نمطاً؟ وإن كان نمطاً فأحدد وحدة النمط .



الخطوة (١) : يبدأ الشكل بـ   ثم   وهكذا بانتظام لذا يمثل نمطاً.

الخطوة (٢) : ألاحظُ أنَّ   ثم   وهكذا

لذا وحدة النمط هي :    

٢ أكمل النمط الهندسي :         

وأحدد وحدة النمط .





وحدة النمط :   

٣ هل المخطط أدناه يمثل نمطاً ولماذا؟



المخطط لا يمثل نمطاً لأنه لم يتكرر بانتظام ولكي يكون نمطاً

يجب أن تكون وحدة النمط هي  

أتأكد

أي المخططات التالية تمثل نمطاً؟ ولماذا؟



أكمل النمط الهندسي وأحدد وحدة النمط:



وحدة النمط




وحدة النمط

أحدث: ابيّن كيف أحدد وحدة النمط.



أحل

أكمل النمط الهندسي وأحدد وحدة النمط:



وحدة النمط



وحدة النمط



وحدة النمط



٨ لدى سالي ، عملت سالي النمط الآتي  طلبت سالي إلى اختها جمانة عمل نمط آخر مختلف. أكتب نمطاً تتوقع من جمانة كتابته .

٩ ما عدد المربعات الموجودة في هذا النمط ان تم توسعته الى ١٤ مضلعاً؟



١٠ أراد أنور أن يوسع النمط الآتي :



فكم دائرة يستعمل للحصول على ٦ متوازي الأضلاع؟

١١ أكون نمطاً من الأشكال التالية بحيث يتكرر فيه المثلث القائم الزاوية ٤ مرات .



أفكر

١٢ انظر النمط المجاور  كيف سيكون وضع المثلث في الموضع العشرين؟ فسّر إجابتك .

نمطاً يتكون من ثلاث دوائر، ثلاثة مثلثات.

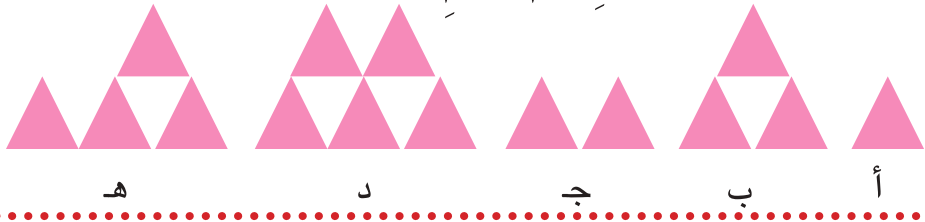
أكتب

خطة حل المسألة (ابحث عن نمط)

أتعلم

تُبيِّن الأشكالُ التاليةُ بعضَ حدودِ نمطٍ هندسيٍّ غيرِ مُرتَّبةٍ .
أعدُ ترتيبَ هذهِ الحدودِ . ثم ارسُمِ الحدودَ الثلاثةَ الآتيةَ

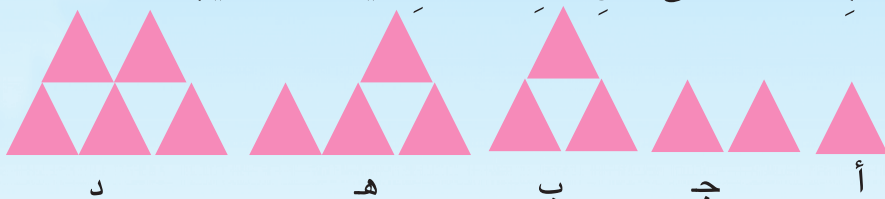
فكرةُ الدرسِ
أبحثُ عن نمطٍ لأحلَّ
المسألةَ




أفهم
ما المعطياتُ من المسألة؟ حدودٌ هندسيةٌ غيرُ مرتبةٍ كما مبينة في أعلاه
ما المطلوبُ في المسألة؟ إعادةُ ترتيبِ الحدودِ ، ورسْمُ الحدودِ الثلاثةِ الآتيةِ.

أخطئ
كيف أحلُّ المسألة؟
أبحثُ عن شيءٍ في الأشكالِ يتغيَّرُ بصورةٍ منتظمةٍ ، واعتمدهُ في إعادةِ الترتيبِ .

أحل
الأشكالُ جميعُها مثلثاتٌ لها الهيئةُ نفسُها ، والقياسُ نفسُه ، اللونُ نفسُه
لذا المتغيِّرُ هو عددُ المثلثاتِ في كلِّ حدٍ وطريقةُ ترتيبِها .
رتَّبِ الحدودَ على وفقِ عددِ المثلثاتِ فيكونُ الترتيبُ هو



الحدودُ الثلاثةُ التاليةُ هي :




أتحقق
الاحظُ أن الزيادةَ في عددِ المثلثاتِ واحدة في كلِّ مرةٍ فالاجابة منطقية



مَسَائِلُ

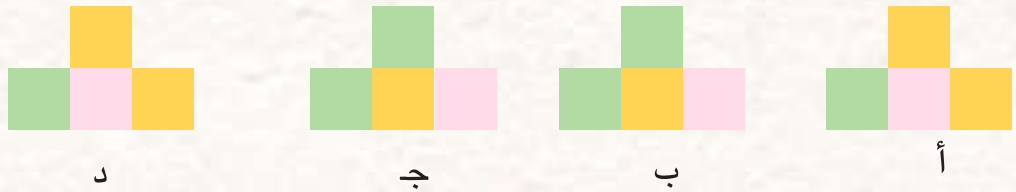
١ عَمِلْتُ بِنَانِ قِلَادَةً بِشَكْلِ  مَا لَوْنُ الْخِرْزَتَيْنِ الْأَخِيرَتَيْنِ لَكِي تُشَكِّلَ نَمَطًا؟

٢ كَوْنِ نَمَطًا يَتَكَرَّرُ ثَلَاثًا مِنْ وَحْدَةِ النَّمَطِ الْمَجَاوِرَةِ . 

٣ أَرْتَبُ الْأَشْكَالَ التَّالِيَةَ لِأَكُونَ نَمَطًا يَتَكَرَّرُ ثَلَاثَ مَرَاتٍ .



٤ تُبَيِّنُ الْأَشْكَالَ التَّالِيَةَ بَعْضَ حُدُودِ نَمَطٍ هَنْدَسِيٍّ غَيْرِ مَرْتَبَةٍ . أَعِدْ تَرْتِيبَ هَذِهِ الْحُدُودِ ثُمَّ ارْسُمْ حِدًا تَالِيًا لَهَا .



٥ تُبَيِّنُ الْأَشْكَالَ التَّالِيَةَ بَعْضَ حُدُودِ نَمَطٍ هَنْدَسِيٍّ غَيْرِ مَرْتَبَةٍ . أَعِدْ تَرْتِيبَ هَذِهِ الْحُدُودِ ثُمَّ ارْسُمْ حِدَيْنِ تَالِيَيْنِ لَهَا .



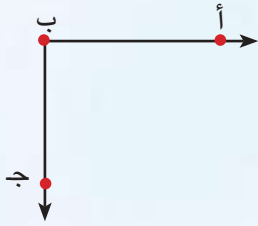
٦ يَصْنَعُ أَحْمَدُ بَرَجًا مِنَ الْمَكْعَبَاتِ ، فَوْضِعَ ٩ مَكْعَبَاتٍ فِي الْقَاعَةِ تَعْلُوهَا ٨ مَكْعَبَاتٍ وَهَكَذَا حَتَّى الطَّبَقَةِ الْأَخِيرَةِ كَمِ مَكْعَبًا فِي الطَّبَقَةِ السَّابِعَةِ؟

٧ أَنْشَأَ مَهْنَدٌ نَمَطًا هَنْدَسِيًّا بِاسْتِعْمَالِ أَشْكَالٍ هَنْدَسِيَّةٍ تَتَكَرَّرُ فِيهِ الْمَرْبَعُ وَيَلِيهِ أَرْبَعُ دَوَائِرَ ، مَا الشَّكْلُ الْحَادِي عَشَرَ فِي هَذَا النَّمَطِ .

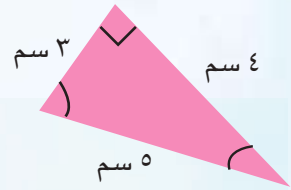
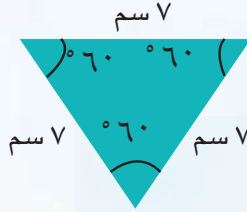
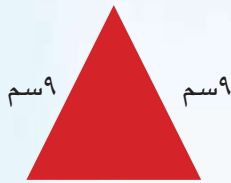


أختبار الفصل

١ استعمل الشكل □ لتعيين المستقيمين المتوازيين أو المتعامدين في الأشكال الآتية:



٢ حدّد نوع كلّ مثلث ممّا يأتي من حيث الزوايا والأضلاع:



٣ أ ب مستقيّم، ج نقطة خارجة عنه .

ارسم عموداً يمرّ من نقطة ج عمودي على المستقيم أ ب .

٤ أنشئ مربعاً طولُه ٧ سم .


٥ مثلث قياسات زواياه : ٨٠°، ٦٠°، ٨٠°

أ) ما نوع المثلث بحسب قياسات زواياه ؟

ب) ما نوع المثلث بحسب أطوال أضلاعه ؟

٦ طولاً ضلعين في مثلث ٥ سم ، ٧ سم ما طول الضلع الثالث فيه ليصبح مثلثاً متساوي الساقين .

٧ أكمل النمط وأحدّد وحدة النمط :



منهاجي
متعة التعليم الهادف



القياس

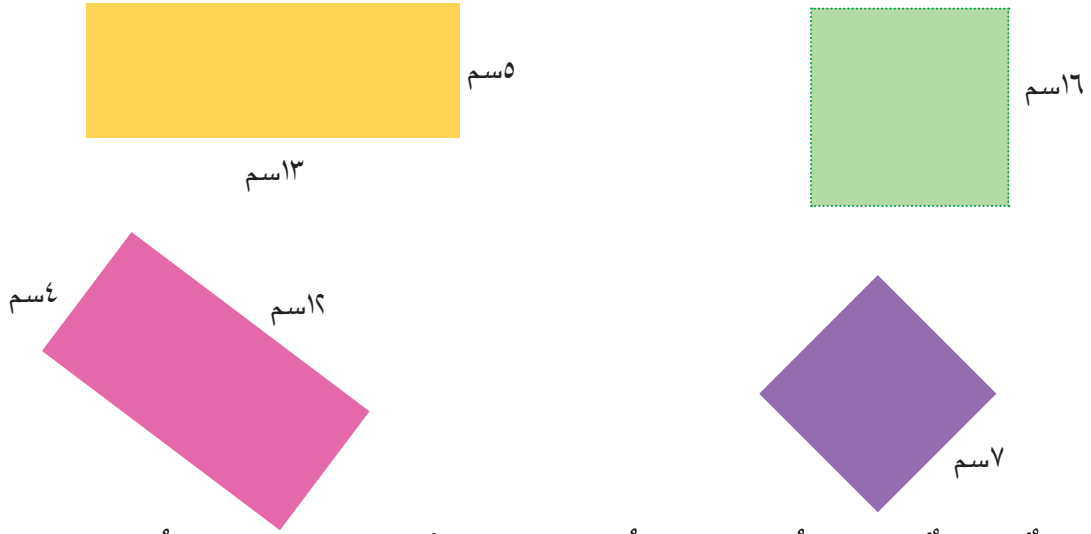
- سوف أتعلّم في هذا الفصل :
- الدرس (١) قياس الزوايا ورسمها
 - الدرس (٢) مجموع قياسات زوايا المثلث والاشكال الرباعيّة
 - الدرس (٣) مساحة المثلث
 - الدرس (٤) وحدات الكتلة المترية
 - الدرس (٥) التحويل بين وحدات الزمن
 - الدرس (٦) خطة حل المسألة (الخطوات الأربع)

كيف نقيس مساحة المثلث؟



الاختبار القبلي

١ أجد محيط كل شكل من الأشكال التالية و مساحته باستخدام القانون :



٢ حديقة منزلية مستطيلة الشكل طولها ١٢ م وعرضها ٩ م، ما مساحة الحديقة؟

وإذا أردنا إحاطتها بسيياج فالى كم متراً من السياج نحتاج؟

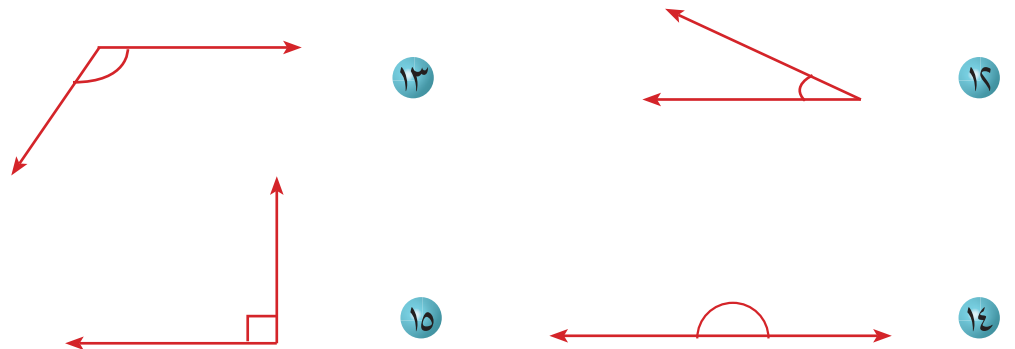
املا الفراغات التالية:

٣ ٨ كم = م ٤ ٦ م = سم ٥ ٣ م = سم

٦ ٨٠٠٠ ملم = م ٧ ٤ ل = مل ٨ ٧ ل = سم^٣

٩ ٩٠٠٠ مل = ل ١٠ ٧٠٠٠ سم^٣ = ل ١١ ٥ كغم = غم

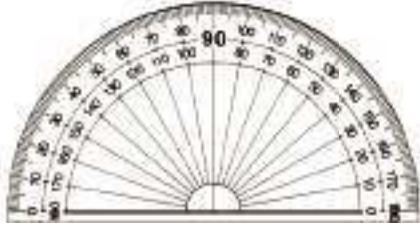
أصنّف كل زاوية إلى قائمة أو حادة أو منفرجة أو مستقيمة



١٦ تحتوي علبة عصير ٢٥٠ مل ، كم لتراً في ١٠ علب من العصير نفسه ؟

قياس الزوايا ورسمها

أتعلم



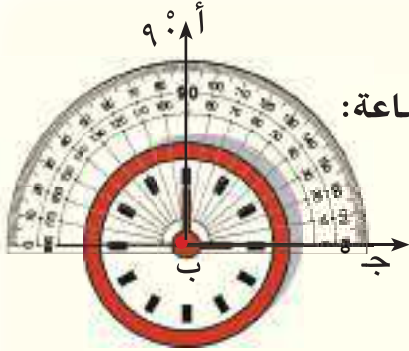
رسم علاءٌ مثلثاً وأراد أن يقيسَ
زواياه فاستعمل المنقلة كيف
استخدم علاء المنقلة لقياسِ
زوايا المثلث؟

فكرةُ الدرس

أتعرف قياسَ الزوايا
وأرسمها.

عَلِمْتُ سابقاً قياسَ الزاويةِ باستعمالِ المنقلةِ ويُمكنك استعمالُ هذه الأداةِ في رسمِ
زوايا.

أمثلة



١ أستعمل المنقلة لأجد قياسَ الزاويةِ بين عقربي الساعة:

الخطوةُ (١): أضع مركز المنقلة على راس الزاوية التي
يصنعها عقربا الساعة بحيث يقع عقرب الساعات على خط
التدريج الصفر الذي في المنقلة .

الخطوةُ (٢): أعدُ ابتداءً من التدريج صفر الى التدريج التي يُوْشر عليها عقرب الدقائق
وهو التدريج ٩٠ ° لذا قياس الزاوية بين عقربي الساعة هو الزاوية ٩٠ ° .

يمكنني استعمال المنقلة والمسطرة لرسم زاوية علم قياسها.

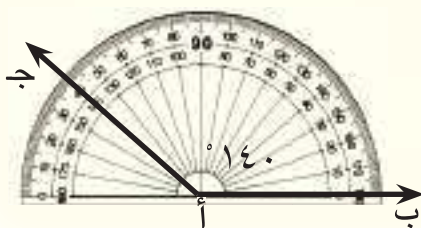
٢ أرسم زاوية قياسها ١٤٠ ° .



الخطوةُ (١): أرسمُ احد ضلعي الزاوية وليكن أ ب
وأحدد رأسها وليكن أ .

الخطوةُ (٢): أضع مركز المنقلة عند رأس الزاوية في النقطة أ بحيث يقع الضلع
أ ب على خط التدريج الصفر في المنقلة .

الخطوةُ (٣): أعدُ بدءاً من الصفر الى التدريج ١٤٠ ° (هو العدد الأكبر على المنقلة)



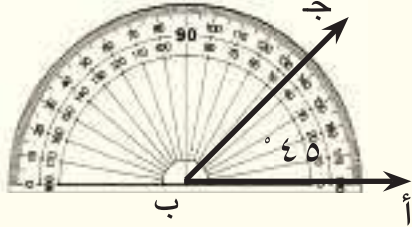
وأعين نقطة على الورقة ولتكن ج تمثل التدريج ١٤٠ °
الخطوةُ (٤): أرفع المنقلة وأصلُ باستعمال المسطرة
بين النقطة ورأس الزاوية لذا قياس الزاوية يساوي ١٤٠ °



٣ استعمل المنقلة والمسطرة لرسم زاوية قياسها ٤٥°

الخطوة (١): أرسم احد ضلعي الزاوية وليكن (ب أ) وأحدد رأسها وليكن (ب).
الخطوة (٢): أضع مركز المنقلة عند النقطة ب بحيث يقع الضلع (ب أ) على خط التدرج
الصفري في المنقلة.

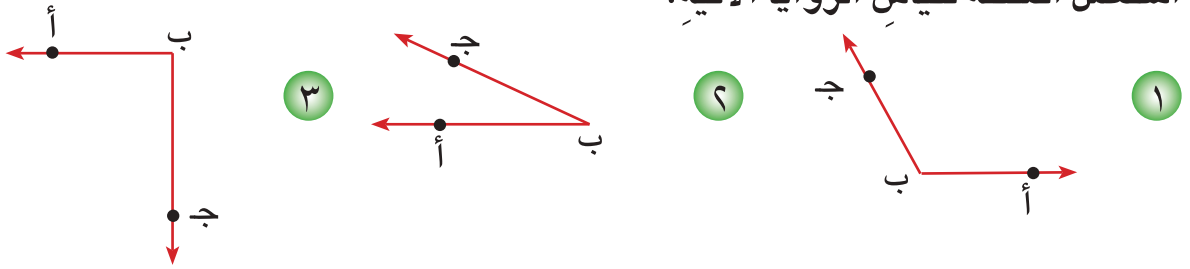
الخطوة (٣): أعدُ ابتداءً من التدرجِ الصفر الى التدرجِ ٤٥° (هو العدد الاصغر على
المنقلة)



وأعين نقطة على الورقة ولتكن ج تمثل التدرج ٤٥° ،
ثم أرفع المنقلة وأصل بين راس الزاوية والنقطة ج
لذا قياس الزاوية أ ب ج يساوي ٤٥° .

أتأكد

أستعمل المنقلة لقياس الزوايا الآتية:



٤ أستعمل المنقلة وأكتب قياس زوايا رؤوس كتاب الرياضيات
أستعمل المنقلة والمسطرة لرسم كل زاوية مما يلي بالقياس المحدد:

- ٥ ٧٥° ٦ ١٨٠° ٧ ٦٠°
٨ ١٥٠° ٩ ١٢٠° ١٠ ١٤٥°

أحدث: كيف أستعمل المنقلة لرسم الزاوية ٥٠° ؟

أحل

أستعمل المنقلة لقياس الزوايا الآتية:



أستعمل المنقلة والمسطرة لرسم كل زاوية من الزوايا التالية:

١٦ ° ٦٤

١٥ ° ١٠٥

١٤ ° ٨٥

١٩ ° ٥٠

١٨ ° ١٣٥


١٧ ° ١٥٠

٢٢ ° ٧٥

٢١ ° ٩٥

٢٠ ° ١٠٠

٢٣ أستعمل المنقلة لقياس زوايا المثلثات الآتية :

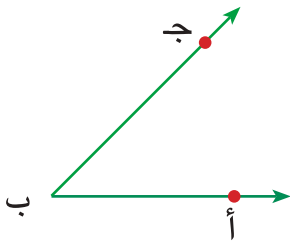


ثم اجد مجموع قياسات زوايا المثلث ، ماذا تلاحظ ؟



٢٤ **تحذ:** أرسم مثلث قياسات زواياه ٤٥° ، ٧٠° ، ٦٥° .

٢٥ **سؤال مفتوح:** زاوية قياسها ٨٠° ما قياسات الزوايا التي اذا أضيفت إليها تبقى زاوية حادة؟




٢٦ **اكتشف الخطأ:** استعمل رياض المنقلة والمسطرة لايجاد

قياس الزاوية في الشكل المجاور، فكانت اجابته ٩٠° ،

أكتشف خطأ رياض وأصحّهُ.

٢٧ **أكتب** مسألة أبين فيها كيف أستعمل المنقلة والمسطرة لرسم زاوية معلومة.



أتعلم

رسم يأسرُ عدداً من المثلثات وقاس زوايا كل مثلث بالمنقلة .

فكرةُ الدرس

أتعرّف مجموعَ قياسات زوايا المثلث ومجموعَ قياسات زوايا الشكل الرباعي

سجل يأسرُ بياناته في الجدول التالي:

ما مجموعَ قياسات زوايا كلِّ مثلثٍ قاسه يأسر؟
ماذا استنتج يأسر؟

المثلث				المجموع
٦٠°	٦٠°	٦٠°	١٨٠°	
٣٠°	٦٠°	٩٠°	١٨٠°	
٥٠°	٦٠°	٧٠°	١٨٠°	
١١٠°	٤٠°	٣٠°	١٨٠°	
١٣٥°	٢٥°	٢٠°	١٨٠°	

أمثلة

١ أجد مجموعَ قياسات زوايا كلِّ مثلثٍ قاسه يأسر

استنتج يأسرُ أن مجموعَ قياسات زوايا المثلث يساوي ١٨٠°

٢ أجد قيمة س في المثلث المجاور.

$$\text{س} + ٦٠ + ٤٠ = ١٨٠$$

$$\text{س} + ١٠٠ = ١٨٠$$

$$\text{س} = ١٠٠ - ١٨٠$$

أفكرُ ما القياس الذي أستبدله بـ (س) وأضيفه

الى ١٠٠ فيكون الناتج يساوي ١٨٠°

$$\text{لذا، س} = ٨٠$$

يُمكنني إيجادَ قياس الزاوية المجهولة في المثلث بطريقةٍ أخرى

هي (أطرحُ مجموعَ الزاويتين المعومتين من ١٨٠°)

٣ ما قيمة س في المثلث الظاهر في اشارة المرور؟

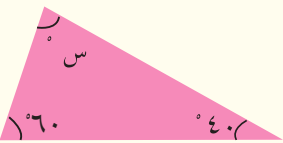
$$١٢٠ = ٦٠ + ٦٠$$

$$٦٠ = ١٢٠ - ١٨٠$$

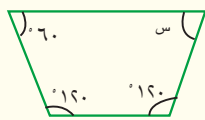
لذا قيمة س هي ٦٠°

أجمعُ الزاويتين المعومتين في المثلث

أطرحُ مجموعَ الزاويتين المعومتين من ١٨٠°



يُمكنني أيضاً أن أجد مجموع قياسات زوايا الشكل الرباعي وذلك برسم قطريه فيتكون لدينا مثلثان مجموع



قياسات كل منهما ١٨٠°، فيكون مجموع قياسات الشكل الرباعي يساوي ٣٦٠°.

٤ أوجد قيمة س في الشكل الرباعي المجاور:

مجموع قياسات زوايا اي شكل رباعي يساوي ٣٦٠°

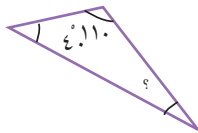
أجمع قياسات الزوايا المعطومة ٣٠٠° = ١٢٠° + ١٢٠° + ٦٠°

أطرح مجموع قياسات الزوايا المعطومة من ٣٦٠° لاجد قيمة

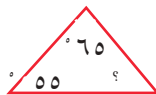
س. لذا قيمة الزاوية س = ٦٠°

أتأكد

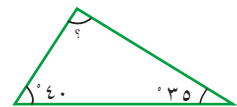
أجد قياس الزاوية المجهولة لكل شكل من الأشكال الآتية:



٣



٢



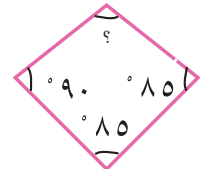
١



٦



٥

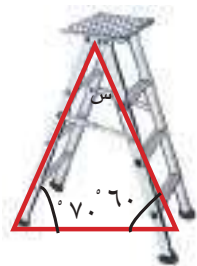


٤

٧ ما قياس الزاوية الثالثة في مثلث قياس زاويتين فيه ١٢٠° ، ٣٠° ؟

٨ ما قياس الزاوية الرابعة في شكل رباعي قياسات ثلاث زوايا فيه ١٥٥° ، ١٠٥° ، ٥٠° ؟

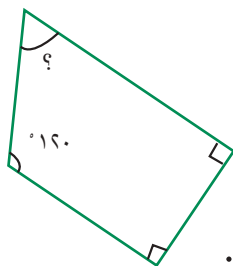
٩ ما قيمة س المؤشرة في الشكل؟



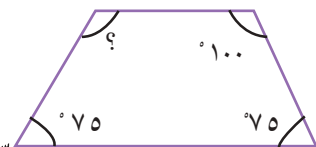
أحدث: كيف أجد قيمة س في الشكل المجاور؟ وأفسر اجابتي.

أحل

أجد قيمة الزاوية المجهولة في كل شكل مما يأتي:

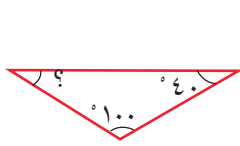


١١

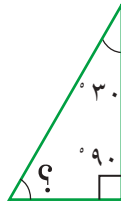


١٠


أجد قياس الزاوية المجهولة لكل شكل من الأشكال الآتية:



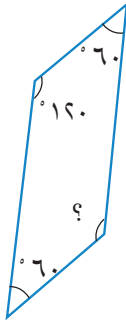
١٤



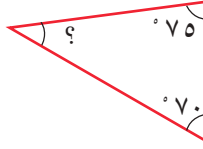
١٣



١٢



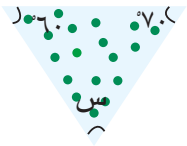
١٧



١٦

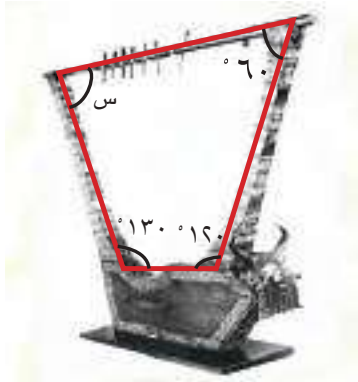


١٥



١٨ قصت حنان قطعة من قماشٍ مثلثة الشكل زواياها مبينة في الشكل المجاور

ما قيمة س؟

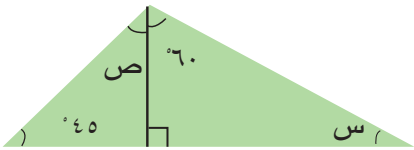


١٩ القيثارة السومرية آلة موسيقية قديمة تُعدُّ من

أهم الآثار الموسيقية التي اكتشفت في العراق أجد

قيمة س في الشكل المؤشر في الصورة .

أفكر



٢٠ **تحذ:** في الشكل المجاور أجد قيمة كلٍّ من س ، ص .

٢١ **حساب ذهني:** أحسبُ ذهنياً قيمة س في المثلث الذي زواياه س° ، 60° ، 30° .

٢٢ **سؤال مفتوح:** مثلث متطابق الضلعين قياسُ إحدى زواياه 50° ، ما قياسُ الزاويتين

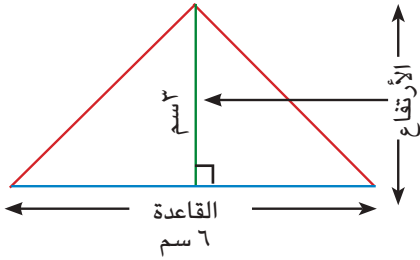
الأخريين؟

مسألة عن طريقة إيجاد قياس زاوية في شكل رباعيٍّ علمت قياسات ثلاث زوايا

أكتب

فيه .

أتعلم



استعمل سامي ورقة مربعات ورسم عليها مثلثا كما في الشكل المجاور وأراد إيجاد مساحته كيف تساعد سامي في إيجاد مساحة المثلث؟

فكرة الدرس

أجد مساحة المثلث باستعمال القانون

المفردات

ارتفاع المثلث

قاعدة المثلث

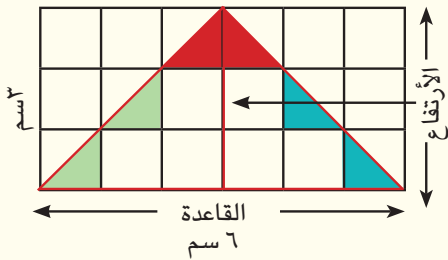
يمكن اعتبار أي ضلع من اضلاع المثلث قاعدة له وعندها يسمى العمود النازل من الرأس المقابل لها بارتفاع المثلث.

أمثلة

١ أجد مساحة المثلث المرسوم في شبكة المربعات.

أحسب عدد الوحدات المربعة داخل المثلث. عدد الوحدات المربعة هو ٩ يمكنني أيضا استعمال القانون لإيجاد مساحة المثلث.

إن مساحة المثلث تساوي نصف مساحة المستطيل والتي تساوي القاعدة في الارتفاع



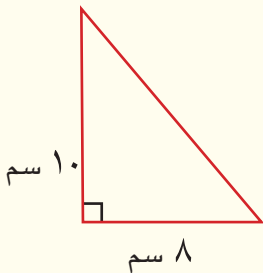
$$\text{مساحة المثلث} = \frac{1}{2} \times \text{القاعدة} \times \text{الارتفاع}$$

$$= \frac{1}{2} \times 6 \text{ سم} \times 3 \text{ سم}$$

$$= \frac{1}{2} \times 18 \text{ سم}^2 = 9 \text{ سم}^2$$

لذا مساحة المثلث ٩ سم^٢

٢ يُبين الشكل المجاور صفيحة معدنية مثلثة الشكل، ما مساحتها؟



$$\text{مساحة الصفيحة المثلثة} = \frac{1}{2} \times \text{القاعدة} \times \text{الارتفاع}$$

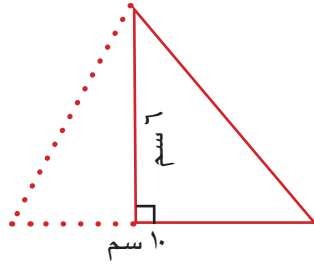
$$= \frac{1}{2} \times 8 \text{ سم} \times 10 \text{ سم}$$

$$= \frac{1}{2} \times 80 \text{ سم}^2 = 40 \text{ سم}^2$$

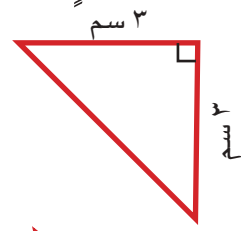
لذا مساحة الصفيحة المثلثة = ٤٠ سم^٢



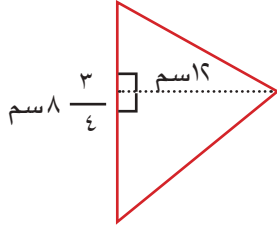
أجد مساحة كل مثلث من المثلثات الآتية :



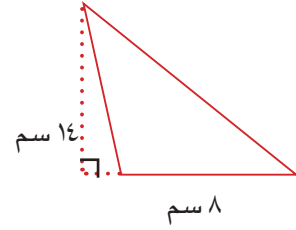
٢



١



٤



٣



٥ يستعمل سائق السيارة مثلثاً طول قاعدته ٤٠ سم وارتفاعه

٣٠ سم عند حدوث عطل في سيارته تجنباً للحوادث المرورية

كما هو موضح بالصورة المجاورة، احسب مساحة هذا المثلث .

٦ أراد مهندسٌ ايجاد مساحة أرضٍ مثلثة الشكل ، ارتفاعها ٦٩ متراً وطول قاعدتها

٥٧ متراً ، أبين كيف أوجد المهندس مساحة هذه الأرض .

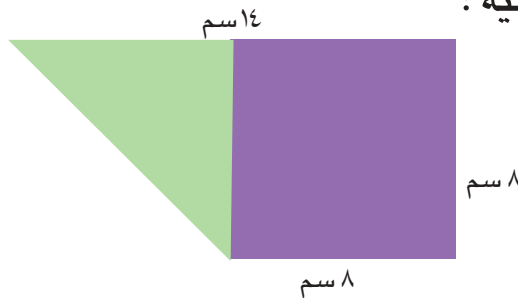
٧ ما مساحة مثلث طول قاعدته ١٢ سم وارتفاعه ٨ سم ؟

٨ مثلث مساحته ٣٠٠ سم^٢ وطول قاعدته ٥٠ سم ، فما ارتفاعه ؟

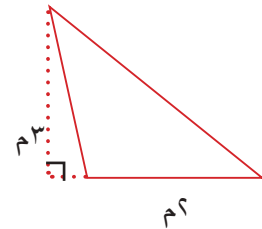
أحدث : كيف أجد مساحة مثلث ؟ أفسر إجابتي.

أحل

أجد مساحة كل مثلث من المثلثات الآتية :



١٠



٩



١١ ما مساحة المثلث الذي طول قاعدته ١٨ سم وارتفاعه ٨ سم ؟

١٢ أجد مساحة الشكل المظلل المجاور الذي علمت أطوال أضلاعه.

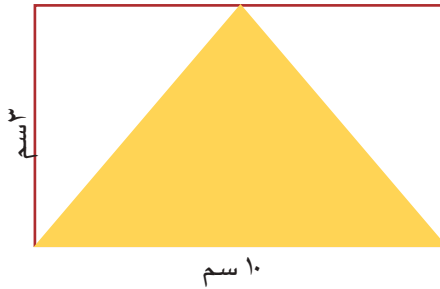
١٣ مثلث مساحته ٨٠ سم^٢ وارتفاعه ١٦ سم، ما طول قاعدته ؟



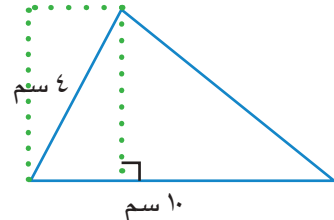
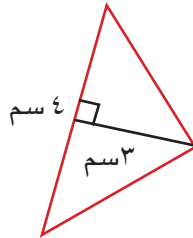
١٤ **تفكير ناقد:** أراد مهندٌ تغليفَ لوحٍ خشبيٍّ على شكلٍ مثلثٍ طول قاعدته ٤٨ سم وارتفاعه ٣٦ سم بورقة ملونة مساحتها ١٠٠ سم^٢ هل تكفي الورقة الملونة لتغليف اللوح الخشبي؟ أفسرُ إجابتي .

١٥ **تحذ:** أرض مساحتها ٤٤ م^٢ قطعت منها قطعة مثلثة الشكل طول قاعدتها ٦ م وارتفاعها ٦ م، أجد ما تبقى من مساحة الأرض .

١٦ أجد مساحة الشكل الملون في أدناه:



١٧ **حساب ذهني:** أحسب ذهنياً أي المثلثين له أكبر مساحة؟



١٨ مثلثٌ طول قاعدته ١٦ سم وارتفاعه مثلي طوله، احسب مساحته.

مسألة عن قطعة أرضٍ مثلثة الشكل عُلِمَ طول قاعدتها وارتفاعها ثم أجد مساحتها.



وحدات الكتل المترية

أتعلم



يبلغ كتلة ذكر الدب القطبي نحو ٦٠٠ كيلو غرام، كم تبلغ كتلته بالغمات؟

فكرةُ الدرس
أَتعرَّفُ وحداتِ الكتلَةِ
المتريةِ
المفردات
الطن (طنّ)

تعلّمتَ سابقاً بأن الكتلة هي قياس كمية المادة في جسم ما . والوحدات التي تقاس بها الكتلة هي الغرام والكيلو غرام وان ١ كغم = ١٠٠٠غم

أمثلة

١ أحسب كتلة الدب القطبي بالغمات .

$$١٠٠٠ \text{ غم} = ١ \text{ كغم}$$

$$٦٠٠ \text{ كغم} = ٦٠٠ \times ١٠٠٠ \text{ غم}$$

$$= ٦٠٠٠٠٠ \text{ غم}$$

لذا كتلة الدب هي ٦٠٠٠٠٠ غم

العلاقة بين الغرام والكيلو غرام

أعوّض عن الكغم بـ ١٠٠٠ غم

أضربُ

ويمكنني قياس الكتل الكبيرة ايضاً بوحدة قياس اخرى هي **الطن**

$$١ \text{ طن} = ١٠٠٠ \text{ كغم}$$

٢ الشكل المجاورُ يُبين النيزك الذي انفجر في الجو قبل

سقوطه على جنوبِ الاورال الروسي سنة ٢٠١٣م والذي

بلغت كتلته نحو ١٠٠٠٠٠٠٠ كغم ما كتلته بالطن؟

$$١ \text{ طن} = ١٠٠٠ \text{ كغم}$$

$$١٠٠٠٠٠٠٠ \text{ كغم} = \square \text{ طن}$$

$$١٠٠٠٠٠٠٠ \div ١٠٠٠ = ١٠٠٠٠٠$$

لذا كتلة النيزك تساوي ١٠٠٠٠٠ طن

العلاقة بين الطن والكيلو غرام

وحدة الكيلو غرام أصغرُ من وحدة الطن

أقسمُ



٣ أرسل مثنى من العراق الى صديقه رامي في الاردن صندوقا كتلته ٣٥٠٠ غرام من التمر عن طريق شركة الشحن فإذا كانت الشركة تأخذ رسوما اضافية اذا زادت كتلة الصندوق على ٤ كيلو غرام، فهل يدفع مثنى رسوما اضافية؟ أفسرُ اجابتي.

العلاقة بينَ والكيلو غرام والغرام
وحدة الكيلو غرام اكبر من وحدة الغرام
أضربُ

$$١٠٠٠ \text{ غم} = ١ \text{ كغم}$$

$$٤ \text{ كغم} = \square \text{ غم}$$

$$٤٠٠٠ = ١٠٠٠ \times ٤$$

$$\text{إذن } ٤ \text{ كغم} = ٤٠٠٠ \text{ غم}$$

$$٤٠٠٠ > ٣٥٠٠$$

لذا لن يدفع مثنى رسوما اضافية

أتأكد

أكمل الجمل الآتية:

- ١ ٥٠٠٠ غم = كغم
٢ ٦ كغم = غم
٣ ٣ طن = كغم
٤ ٨٠٠٠ كغم = طن
٥ ١٥٦٠٠ غم = كغم
٦ ٦٧٥٠ كغم = غم

أضع أحد الرموز (>، <، =) لتصبح كل عبارة مما يأتي صحيحة:

- ٧ ٥٣٠٠ غم > ٣ كغم
٨ ٤٠٠ غم و ٢ كغم > ٤٥٠٠ غم
٩ ٣ طن > ٥٠٠ كغم و ٢٥٠٠ كغم
١٠ ٧٠٠ كغم > ٧ طن
١١ تحمل سيارة ٢ طن من التمر العراقي، كم كيلو غراما حمولة السيارة من التمر؟
١٢ قطار لنقل البضائع حمولته ١٢٠٠٠ طن، أحسب حمولته بالكيلو غرام.
١٣ لدى أمانة بغداد موقف لقياس حمولة المركبات على الخطوط السريعة فإذا كانت حمولة مركبة محملة بالمواد الانشائية ٨٠ طناً فما مقدار حمولتها بالكيلو غرامات؟

أتحدث: كيف أحول من الطن الى الكيلو غرامات وبالعكس؟

أحل

أكمل الجمل الآتية:

- ١٤ ٨٠٠٠ طن = كغم
١٥ ٩ كغم = طن
١٦ ٦ طن = كغم
١٧ ٥٠٠٠ كغم = طن
١٨ ٤٣٢٠٠ غم = كغم
١٩ ٨٦٥٠ كغم = طن

أضع احد الرموز ($=$ ، $<$ ، $>$) لتصبح كل عبارة مما يلي صحيحة :

٢٠ ٣٣٠٠ غم ٣ كغم ٢١ ٧٠٠ غم و ٣ كغم ٣٧٠٠ غم

٢٢ ٢١ طن ٥٠٠ كغم و ١٢٠٠ كغم ٢٣ ٩٠٠ كغم ٩ طن

٢٤ كتلة الحوت الازرق نحو ١٨٠ طنا ما كتلته بالكيلو غرامات وبالغرامات؟



٢٥ تاجرٌ لديه بضاعةٌ وزنها ١٥ طناً ، استأجرَ سيارةً لنقلها ، حمولتها ٥٠٠٠ كغم ، كم مرةً يمكنه استعمالُ السيارة لنقلِ كاملِ البضاعةِ؟



٢٦ زكرت الاحصائيات بأن انتاج محصول الحنطة للعام ٢٠١٤ بلغ ٦٥٨ الف طن ما انتاج محصول الحنطة بالكيلو غرام؟

٢٧ سيارتان حمولة الاولى ٣ أطنان و ١٠ كغم وحمولة السيارة الثانية ٣٠٠١ كغم ، أقرنُ بين حمولتي السيارتين .


أفكر

٢٨ تحد : كم طناً في ٥٣٤١٠ غرامات؟

٢٩ حساب ذهني: كم كيلو غرام في ٣ أطنان؟

مسألةٌ حياتيةٌ أبينُ بها طريقة التحويل بين وحدتين مخلفتين وأفسرُ اجابتي .

أكتب



أتعلم

يحتاجُ فراسُ الى ٣ ساعاتٍ
لإتمام واجبه المدرسي كيف
أجدُ عددَ الدقائق في ٣ ساعاتٍ؟

فكرةُ الدرس
أُعرِّفُ وحداتَ الزمنِ
والعلاقةَ بينها

الدقيقة	٦٠ ثانية
الساعة	٦٠ دقيقة
اليوم	٢٤ ساعة
الاسبوع	٧ أيام
السنة	١٢ شهرا

يُمكنني التحويلُ بين وحداتِ الزمنِ
بنفس طريقة التحويل بين وحداتِ
الكتلة:

أمثلة

١ أجد عددَ الدقائق في الساعاتِ الثلاثِ التي يقضيها فراس في إتمامِ واجبه المدرسي.

العلاقةُ بين الساعةِ والدقيقةِ

$$\text{الساعة} = ٦٠ \text{ دقيقة}$$

$$٣ \text{ ساعة} = \square \text{ دقيقة}$$

$$٣ \times ٦٠ = ١٨٠ \text{ دقيقة}$$

أحول من وحدةِ زمنيةٍ الى اخرى أصغر منها لذا اضرب

لذا الساعاتِ الثلاثِ = ١٨٠ دقيقة

٣ ساعاتِ التي يقضيها فراس في اتمامِ واجبه المدرسي تساوي ١٨٠ دقيقة

٢ استغرقتُ باخرةً ٢ يومين للوصول إلى بلدٍ ما ، ما عددُ الساعاتِ التي تستغرقها

الباخرة للوصول ؟

العلاقةُ بين اليومِ والساعةِ

$$\text{اليوم} = ٢٤ \text{ ساعة}$$

$$٢ \text{ يوم} = \square \text{ ساعة}$$

$$٢ \times ٢٤ = ٤٨ \text{ ساعة}$$

أحول من وحدةِ زمنيةٍ الى اخرى أصغر منها لذا اضرب

٢ يوم التي تستغرقها الباخرة تساوي ٤٨ ساعة

يُمكنني التحويلُ من الوحداتِ الصغيرةِ الى الوحداتِ الكبيرةِ باستعمالِ القسمةِ .

٣ أحوّل ٤٢٠ ثانيةً الى دقائق (يتطلبُ القسمةُ على عددٍ من مرتبتين)

العلاقة بين الدقيقة والثانية

$$\text{الدقيقة} = ٦٠ \text{ ثانية}$$



٤٢٠ ثانية = دقيقة أقسم اذا كان التحويل من وحدة الى وحدة اكبر منها

$$7 = 60 \div 420$$

$$420 \text{ ثانية} = 7 \text{ دقائق}$$

٤ أكمل الفراغات:

$$75 \text{ ساعة} = \text{يوم} \text{ و } \text{ساعة}$$

$$\text{اليوم} = 24 \text{ ساعة}$$

٧٥ ÷ ٢٤ = ٣ ، والباقي ٣ أقسم ٧٥ على ٢٤ لأجد عدد الايام والباقي يمثل الساعات

$$\text{لذا } 75 \text{ ساعة} = 3 \text{ أيام و } 3 \text{ ساعات}$$

أتأكد

اكمل الفراغات :

$$1 \quad 7 \text{ ساعة} = \dots \text{ دقيقة}$$

$$2 \quad 6 \text{ أيام} = \dots \text{ ساعة}$$

$$3 \quad 2 \text{ سنة} = \dots \text{ شهرا}$$

$$4 \quad 400 \text{ ثانية} = \dots \text{ دقيقة}$$

$$5 \quad 8 \text{ أسابيع} = \dots \text{ يوم}$$

$$6 \quad 44 \text{ ساعة} = \dots \text{ أيام}$$

$$7 \quad 7 \text{ ساعة} = \dots \text{ دقيقة}$$

$$8 \quad 97 \text{ ساعة} = \dots \text{ أيام و } \dots \text{ ساعة}$$

$$9 \quad 3615 \text{ دقيقة} = \dots \text{ ساعة و } \dots \text{ دقيقة}$$

$$10 \quad 93 \text{ يوم} = \dots \text{ أسبوع و } \dots \text{ أيام}$$

١١ تنسج دودة القز حولها شرنقة من الحرير وتعيش

خاملة داخلها مدة أسبوعين ، وبعدها تتحول إلى

فراشة ، ما عدد الأيام التي تقضيها الحشرة داخل

الشرنقة ؟

١٢ تتألف المباراة الرسمية لكرة القدم من وقتين مدة كل منهما ٤٥ دقيقة ، ما مدة الوقتين

بالتواني ؟

١٣ وصل باسم إلى مدرسته الساعة الثامنة صباحا وغادرها عند الساعة الواحدة ظهرا ، ما عدد

الدقائق التي امضاها باسم في مدرسته ؟

١٤ أمضت شيماء في تحضير واجباتها ١٨٠ دقيقة ، ما عدد الساعات التي أمضتها شيماء في

تحضير واجباتها ؟

أتحدث: كيف أستخدم وحدات الزمن للتحويل بينها ؟ وأفسر إجابتي .



اكمل الفراغات :

١٥ ساعة = دقيقة ١٦ ٨ أيام = ساعة ١٧ ٤ سنة = شهر

١٨ ٥٠٠ ثانية = دقيقة ١٩ ١٢ أسبوع = يوم ٢٠ ٦٨ ساعة = أيام

٢١ ٤٠٠ دقيقة = ساعة و..... دقيقة ٢٢ ١٥٠ ساعة = أيام و..... ساعة

٢٣ ١٠٤١ دقيقة = ساعة و..... دقيقة ٢٤ ٨٢ يوم = أسبوع و..... أيام

٢٥ استغرق راكبُ دراجةٍ بخاريةٍ لقطعِ المسافةِ بين مدينتين مدةً ٥ ساعات . ما الوقت الذي استغرقه راكبُ الدراجةِ بالدقائقِ ؟

٢٦ وصلت رؤى الى المتجرِ للتسوق في الساعة ... : ١١ صباحاً وغادرتهُ الساعة : : ٢ ظهراً، كم دقيقةً أمضت رؤى في المتجرِ ؟

٢٧ امضى خالد ٤ سنواتٍ خارجَ العراقِ لغرضِ الدراسةِ ، احسبُ عددَ الأشهرِ التي أمضاها خالد خارج العراقِ ؟

أفكر

٢٨ **تحذ:** تتكونُ لعبة كرة القدم من شوطين ، مدةُ كلِّ شوطٍ منها ٤٥ دقيقة واستراحة بين الشوطين مدتها $\frac{1}{4}$ ساعة ما وقتُ المباراةِ كاملةً بالدقائقِ ؟

٢٩ كم اسبوعاً في ٢٧ يوماً و ٢٤ ساعة ؟

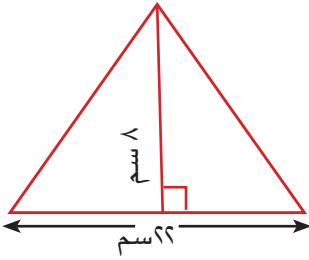
٣٠ **حساب ذهني:** كم ثانيةً في دقيقتين ؟

مسألةٌ أحتاجُ فيها الى تحويلِ الساعة الى ثوانٍ وأفسرُ إجابتي .

أكتب

الدرس ٦ خُطَّةُ حلِّ المسألة (الخطوات الأربع)

أتعلم



أجد مساحة مثلث ، طول قاعدته
٢٢ سم وارتفاعه ٨ سم

فكرة الدرس

أحلُّ المسألة باستعمال
الخطوات الأربع

أفهم

ما معطيات المسألة؟ طول قاعدة المثلث ٢٢ سم وارتفاعه ٨ سم.
ما المطلوب في المسألة؟ مساحة المثلث

أخط

كيف أحلُّ المسألة؟

استعمل قانون مساحة المثلث
المساحة = $\frac{1}{2} \times$ القاعدة \times الارتفاع

أحل

طول القاعدة ٢٢ سم ، الارتفاع ٨ سم

مساحة المثلث = $\frac{1}{2} \times$ القاعدة \times الارتفاع
اعوض من طول القاعدة بـ ٢٢ سم ، ومن الارتفاع بـ ٨ سم

مساحة المثلث = $\frac{1}{2} \times 22 \times 8$ **ابسط**

= ٨٨ سم^٢ **اضرب**

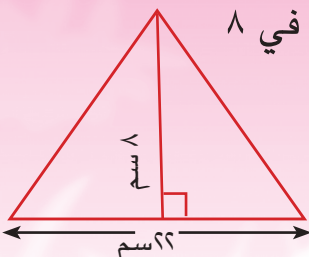
أتحقق

أقسم طول قاعدة المثلث على ٢ وأضرب الناتج في ٨

$$11 = 22 \div 2$$

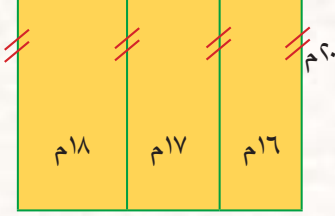
$$88 = 8 \times 11$$

لذا الإجابة معقولة.



مَسَائِلُ

١ ما مساحةٌ مثلث طول قاعدته ٤ اسم وارتفاعه يساوي نصف طول قاعدته ؟



٢ يُبيِّن الشكل المجاور خريطةً لقطعة ارض مقسمة

على قطع سكنية أحسبُ محيطها ؟

٣ يصلُ بلال الى متجره الساعة ٩ صباحا ويغادره الساعة ٣ بعد الظهر ، ما عددُ الدقائق التي

يقضيها بلال في متجره ؟

٤ ما طولُ قاعدةٍ مثلث مساحته ٢٤ سم^٢ وارتفاعه ٨ سم ؟

٥ يعملُ سعد على الحاسوب من الساعة الثامنة صباحاً الى الساعة الثانية ظهراً ، يأخذُ استراحة

مدتها ١٠ دقائق كل ٤٠ دقيقة ، كم مرةً يستريحُ في اليوم ؟

٦ هل تمثل الزوايا التي قيا ساتها ٥٠° ، ٧٠° ، ٧٠° مثلثاً؟ أفسرُ إجابتي .



مراجعة الفصل

المفردات

مساحة المثلث، ارتفاع المثلث، قاعدة المثلث

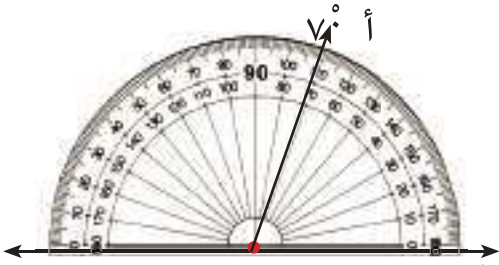
أكمل الجمل الآتية باستخدام المفردات المناسبة من القائمة في أعلاه :

- ١ المثلث تساوي حاصل ضرب نصف قاعدته في ارتفاعه.
- ٢ يمكن اعتبار أي ضلع من أضلاع المثلث
- ٣ هو العمودُ النازل من رأس المثلث على الضلع المقابل له أو امتداده.

رسم الزاوية

الدرس (١)

مثال :



أرسم زاوية قياسها 70°

الخطوة (١): أرسم شعاعاً ب ج .

الخطوة (٢): اطبق مركز المنقلة على النقطة ب، وحافة

المنقلة المستقيمة على الشعاع ب ج.

الخطوة (٣): ابدأ من النقطة ج وأتحرك على قوس المنقلة وأعد على التدريج الذي صفره على

الشعاع ب ج إلى أن أصل إلى العدد 70 على المنقلة. ثم أرسم نقطة على الورقة عند العدد 70

وأسمها أ.

الخطوة (٤): أرفع المنقلة وأرسم شعاعاً يبدأ من النقطة ب ويمر بالنقطة أ فأحصل على

زاوية قياسها 70° .

تدريب :

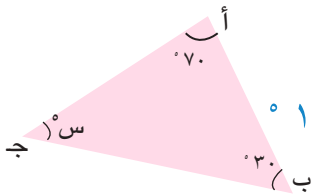
ارسم زاوية قياسها 130°

مجموع قياسات زوايا المثلث والشكل الرباعي

الدرس (٢)

مثال :

١ أجد قيمة س في المثلث المجاور :



س $^\circ + 70^\circ + 30^\circ = 180^\circ$ مجموع قياسات زوايا أي مثلث يساوي 180°

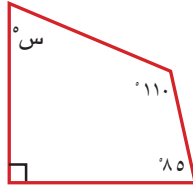
س $^\circ + 100^\circ = 180^\circ$ أجمع 70° مع 30°

س $^\circ + 100^\circ = 180^\circ$ أفكر ما القياس الذي أضعه بدل (س) وأضيفه إلى 100

ليكون الناتج 180

$180^\circ - 100^\circ = 80^\circ$ لذا قيمة س هي 80°

٢ أوجد قيمة س في الشكل الرباعي المجاور :



مجموع زوايا أي شكل رباعي يساوي 360°
 أجمع الزوايا المعطومة $360^\circ = 110^\circ + 85^\circ + 90^\circ + S$
 أطرح مجموع الزوايا المعطومة من 360° لأجد قيمة س
 $360^\circ = 110^\circ + 85^\circ + 90^\circ + S$
 $S = 360^\circ - 285^\circ = 75^\circ$

تدريب : أجد قيمة س في الشكل الرباعي الذي قياسات زواياه هي :
 $90^\circ, 100^\circ, 120^\circ$

الدرس (٣) مساحة المثلث

مثال :

مثلث طول قاعدته ١٢ سم وارتفاعه ٧ سم .مامساحته؟

$$\text{مساحة المثلث} = \frac{1}{2} \times \text{القاعدة} \times \text{الارتفاع}$$

$$= \frac{1}{2} \times 12 \text{ سم} \times 7 \text{ سم} = 42 \text{ سم}^2$$

تدريب : مثلث طول قاعدته ١٨ سم وارتفاعه ٧ سم ، ما مساحته؟

الدرس (٤) وحدات الكتلة المترية

مثال :

صخرة كتلتها ٢٠ طناً ما كتلتها بالكيلو غرام؟

العلاقة بين الغرام والكيلو غرام

١ طن = ١٠٠٠ كغم

٢٠ طناً = 20×1000 كغم

أضرب

لذا كتلة الصخرة هو ٢٠٠٠٠ كغم

تدريب : أحول ١٥٠٠ غم الى كيلو غرام.

الدرس (٥) التحويل بين وحدات الزمن

مثال :

أجد عدد الدقائق في ٤ ساعات التي تقضيها امال في اتمام واجبها المدرسي .

العلاقة بين الساعة والدقيقة

١ ساعة = ٦٠ دقيقة

أحول من وحدة زمنية الى اخرى اصغر منها لذا

٤ ساعة = 4×60 دقيقة

أضرب

$4 \times 60 = 240$ دقيقة

لذا ٤ ساعات التي تقضيها امال في اتمام واجبها المدرسي تساوي ٢٤٠ دقيقة .

تدريب : أحول ١٤٤٠ دقيقة الى أيام.

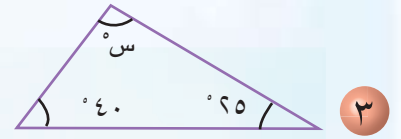
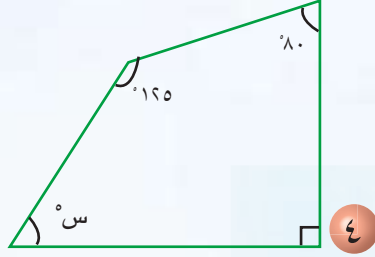


اختبار الفصل

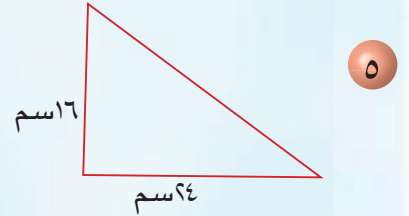
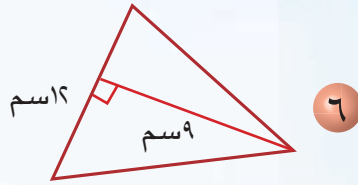
أستعمل المنقلة والمسطرة لرسم الزوايا الآتية :

- ١ ٥٠° ٢ ١٤٠°

أجد قيمة س في كل شكل من الأشكال الآتية :



أجد مساحة كل مثلث من المثلثات الآتية :



أملأ الفراغات الآتية:

٧ ٢٥٠٠٠ غم = كغم ٨ ١٧ كغم = غم ٩ ٨ طن = كغم

١٠ ١٩٠٠٠ غم = كغم ١١ ٧٣ يوم = اسبوع و دقيقة

١٢ أجد مساحة مثلث طول قاعدته ٢٦ سم وارتفاعه يساوي نصف طول قاعدته .

الإحصاءُ

سوف أتعلّم في هذا الفصل :

- الدرس (١) تمثيل البيانات بالنقاط المجمعّة و تفسيرها
الدرس (٢) الوسط الحسابي والوسيط والمنوال والمدى
الدرس (٣) خطة حلّ المسألة (أنشئ قائمة منظمة)

مثلتُ علياءُ أعدادَ الطيور الملونة التي شاهدتها في حديقة الحيوانات في لوحةِ الاشاراتِ وبالأعمدةِ الرأسية هل تستطيعُ علياءُ تمثيلَ أعدادِ الطيورِ بطريقةٍ أخرى؟

الاختبار القبلي

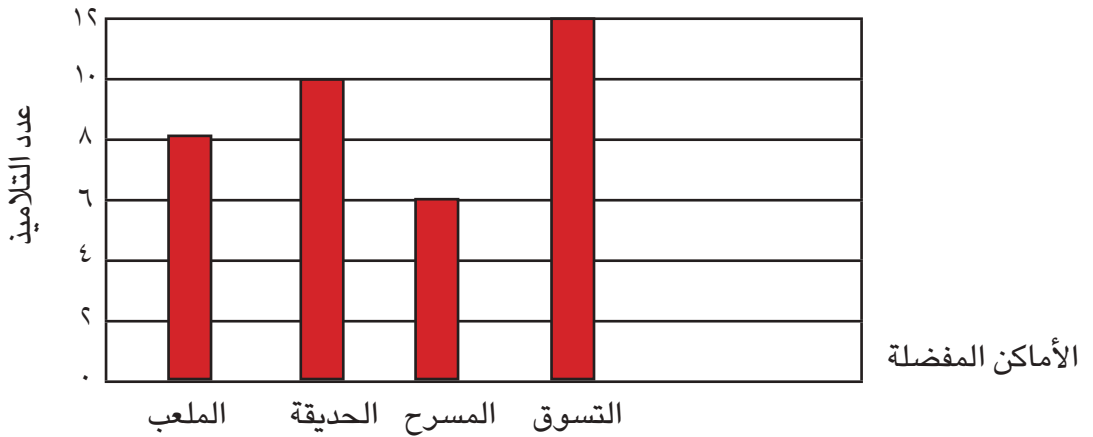
عدد التلاميذ	الغذاء
٦	دجاج و ارز
١٢	فصولياء و رز
٣	سمك
٥	باميا

- ١ الجدول المجاور يمثل عدد التلاميذ الذين صوتوا لوجبة الغذاء المفضلة لدى كل منهم ، أمتلُ البيانات بجدول الإشارات .

- ٢ أمتلُ بيانات الجدول المجاور بالأعمدة الرأسية: واجيبُ عن الاسئلة التي تليه:

اللعبة المفضلة				
كرة الطائرة	كرة اليد	كرة السلة	كرة القدم	اللعبة
٨	٥	٧	١٢	عدد التلاميذ

- * ما اللعبة التي يفضلها أكثر عدد من التلاميذ؟
 - * كم يزيد عدد التلاميذ الذين يفضلون كرة السلة على الذين يفضلون كرة اليد؟
 - * كم تلميذ يفضل كرة الطائرة؟
- ٣ يبين التمثيل بالأعمدة ادناه عدد التلاميذ الذين صوتوا على الأماكن التي يحبون ارتيادها :



- * ما عدد التلاميذ الذين يفضلون ارتياد الحديقة؟
- * ما المكان الأقل تفضيلاً للتلاميذ؟
- * كم يزيد عدد التلاميذ الذين يفضلون أماكن التسوق عن الذين يفضلون الملاعب؟

تمثيل البيانات بالنقاط المجمعَة وتفسيرها

الدرس ١



أتعلم

مثل مالك عدد الأهداف التي سجلها الفريق المدرسي لكرة القدم لإربعة مباريات في لوحة الإشارات الآتية:

المباريات	الإشارات
الأولى	
الثانية	
الثالثة	
الرابعة	

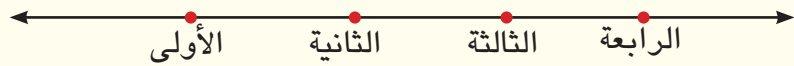
فكرة الدرس

أمثل البيانات بالنقاط المجمعَة وأفسرها
المفردات
النقاط المجمعَة

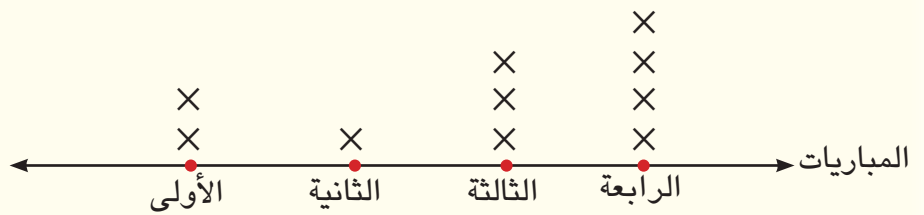
يمكنني تمثيل البيانات بطريقة أخرى تسمى التمثيل بالنقاط المجمعَة وذلك بوضع إشارة X بعدد مرات تكرار القيم التي أمثلها فوق النقاط على المستقيم التي تمثل نوع البيانات.

أمثلة

١ أمثل عدد الأهداف التي سجلها الفريق المدرسي لكرة القدم بالنقاط المجمعَة.
الخطوة (١): أرسم مستقيماً وأحدد عليه المباريات

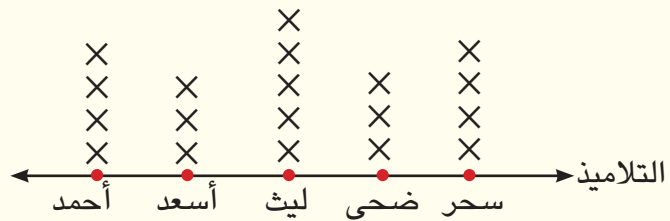


الخطوة (٢): أضع إشارات X التي تمثل عدد الأهداف فوق كل مباراة



عدد اللوحات	التلميذ
٤	احمد
٣	اسعد
٥	ليث
٣	ضحى
٤	سحر

٢ يبين الجدول المجاور مشاركة عدد من تلاميذ الصف الخامس في المعرض السنوي للمدرسة، أمثل البيانات بالنقاط المجمعَة.

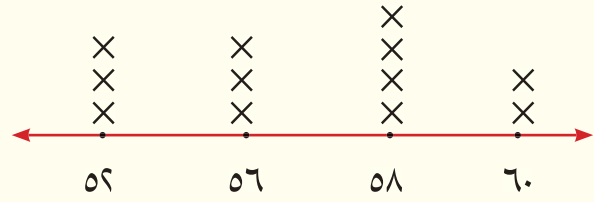


أي تلميذ أكثر مشاركة؟ ليث



٣ أمثل البيانات بالنقاط المجمعة.

أطوال الأطفال (سم)			
٥٢	٥٨	٥٦	٥٢
٦٠	٥٦	٥٨	٦٠
٥٦	٥٨	٥٨	٥٢



كم طفلاً طوله ٥٨ سم؟ ٤

أتأكد

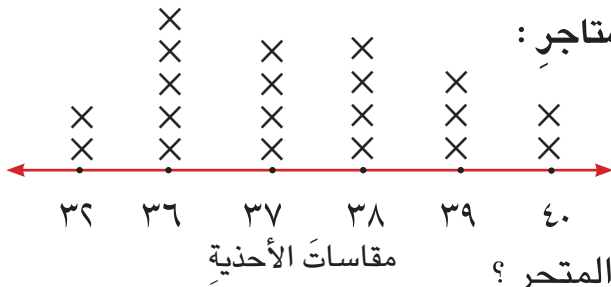
أمثل البيانات بالنقاط المجمعة:

أعمار التلاميذ			
١٢	٩	١٠	١١
١٢	١٢	١١	٩
١١	١٢	٩	١٠

٢

البرامج التلفزيونية المفضلة	
عدد المشاهدين	البرامج
٦	العلمية
٥	الرياضية
٦	الفنية
٤	الثقافية

١



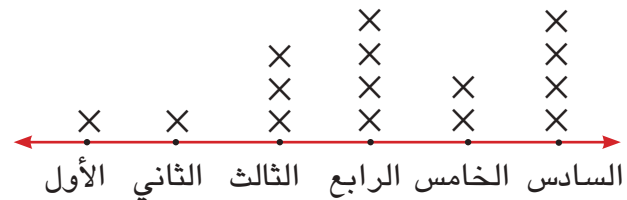
يظهر التمثيل المجاور مقاسات الأحذية في أحد المتاجر:

٣ كم عدد الأحذية بمقاس ٣٨؟

٤ ما المقاس الأكثر عدداً في المتجر؟

٥ ما المقاسات المتساوية العدد من الأحذية في المتجر؟

يمثل التمثيل المجاور تلاميذ المدرسة المشاركين في مسابقة تلاوة القرآن الكريم.



٦ أي الصفوف شارك بأكثر عدد من التلاميذ؟

٧ أي الصفوف شارك في مسابقتين؟

٨ أي الصفوف شارك بأقل مسابقة؟



أحدثُ: كيف أستعملُ مستقيماً لتمثيلِ البياناتِ بالنقاطِ المجمعَةِ وتفسيرها.







أحل

أمثلُ البياناتِ بالنقاطِ المجمعَةِ :

الالعابِ المفضلة	
عدد التلاميذ	اللعبة
٤	الصحن الطائر
٦	دولاب الهواء
٣	المقص
٧	سباق السيارات

١٠

المشاركين بالمهرجان الرياضي	
عدد التلاميذ	اللعبة
٧	السباحة 
١٢	الجري 
٤	رمي الرمح 
٣	رمي القرص 

٩

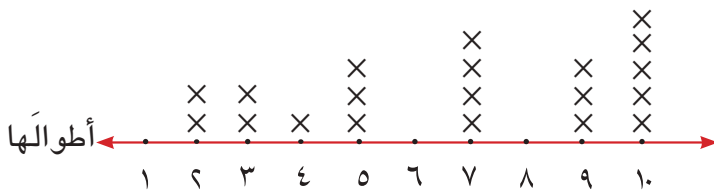
وجبات الافطار المفضلة			
البيض	الجبن	القشطة	البيض
البيض	الجبن	القشطة	البيض
الجبن	البيض	الحليب	القشطة
الحليب	القشطة	البيض	الحليب

١١ يبينُ الجدولُ المجاورُ الوجباتِ التي يفضلُها عددٌ من الأشخاصِ ، أمثلُ البياناتِ بالنقاطِ المجمعَةِ.



جمعَ أيمنُ وأصدقاؤه ٢٠ حشرةً من الجرادِ وقاسوا أطوالاً

بصورةٍ تقريبيةٍ بالسنتيمترِ ومثلوا قياساتهمِ بالنقاطِ المجمعَةِ :



١٢ ما الفرقُ بينَ أطولِ جرادَةٍ وأقصَرها؟

١٣ ماذا يمثلُ لك القياسُ ٦ سم على مستقيمِ

الأعداد؟

١٤ ماعددُ الجرادِ الذي طولُهُ يساوي ١٠ سم؟ وماذا يمثلُ هذا الطولُ؟

أفكر

١٥ **مسألةٌ مفتوحةٌ:** عندَ إجراءِ مسحٍ للموادِ الأكثرَ تفضيلاً لدى التلاميذ وجدَ أنَّ ٩ تلاميذ

يفضلونَ الرياضياتِ ، كم تلميذٌ تتوقعُ يفضلُ العلومَ؟

١٦ **تحدُّ:** في السؤالِ ٣ هل النقاطُ المجمعَةُ تصفُ قياساتٍ فرديةً أم زوجيةً في الأغلبِ؟ أفسرُ

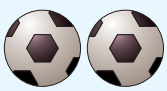

إجابتي .

كيفَ أمثلُ بياناتِ بالنقاطِ المجمعَةِ؟

أكتب



أتعلم



أراد سالم توزيع الكرات بصورة متساوية في كل صندوق من الصناديق التالية :

فنقل كرتين من الصندوق ١ ووضعها في الصندوق ٤

ثم نقل كرة واحدة من الصندوق ٢ ووضعها في الصندوق ٣ فأصبحت في كل صندوق ٤ كرات .

ماذا يمثل العدد ٤ للكرات في كل صندوق ؟

فكرة الدرس

أجد وأفسر الوسط الحسابي والوسيط والمنوال والمدى لمجموعة بيانات

المفردات

المعدل

الوسط الحسابي

الوسيط

المنوال

المدى

الوسط الحسابي لمجموعة البيانات هو مجموع البيانات مقسوماً على عددها .
الوسيط هو القيمة التي تتوسط القيم بعد ترتيبها تصاعدياً أو تنازلياً ويكون عدد القيم الأقل منها يساوي عدد القيم الأكثر منها إذا كان عدد القيم فردياً وإذا كان عدد القيم زوجياً فهو القيمة الناتجة من جمع القيمتين الوسطيتين مقسوماً على ٢ . المنوال هو القيمة أو القيم الأكثر تكراراً في البيانات . المدى هو الفرق بين أكبر قيم البيانات وأصغرها

أمثلة

١ العدد ٤ يمثل معدل أعداد الكرات الناتجة عن إعادة توزيعها بشكل متساوٍ ويسمى بالوسط الحسابي لعدد الكرات :

الوسط الحسابي لمجموعة البيانات هو مجموع البيانات مقسوماً على عددها
الوسط الحسابي لعدد الكرات في الصندوق هو:

$$\begin{array}{l} \text{مجموع البيانات} \longrightarrow 6 + 5 + 3 + 2 = \\ \text{عدد البيانات} \longrightarrow 4 \\ \text{أبسط} \qquad \qquad \qquad 4 = \frac{16}{4} \end{array}$$

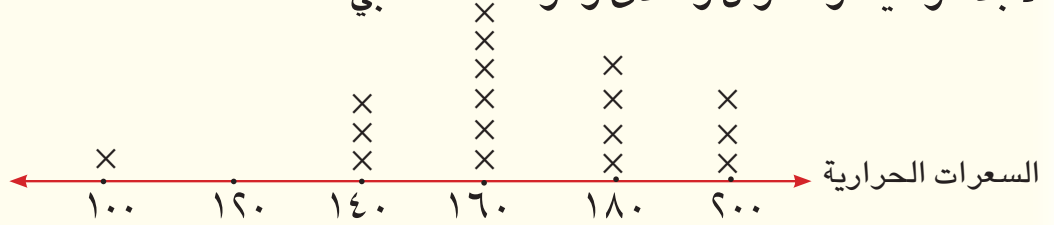
٢ أجد الوسيط والمنوال والمدى للبيانات التالية : ٨٦ ، ٥٢ ، ٨٦ ، ٧٦ ، ١٠٤ ، ٥٢
لايجاد الوسيط نرتب القيم تصاعدياً : ٥٢ ، ٥٢ ، ٧٦ ، ٨٦ ، ٨٦ ، ١٠٤

الوسيط = ٨١ ، المنوال : ٥٢ ، ٨٦ القيم الأكثر تكراراً

المدى = ١٠٤ - ٥٢ = ٥٢ لذا المدى هو ٥٢

٣ يبين التمثيل المجاور أعداد السرعات الحرارية في وجبة غذائية ، استعمل هذا التمثيل

لأجد الوسيط والمنوال والمدى والوسط الحسابي .



الوسيط = ١٦٠ ، المنوال = ١٦٠ ، المدى = ١٠٠ = ١٠٠ - ٢٠٠ =

الوسط الحسابي لعدد السرعات الحرارية هو:

$$\frac{٣ \times ٢٠٠ + ٤ \times ١٨٠ + ٦ \times ١٦٠ + ٣ \times ١٤٠ + ١ \times ١٠٠}{١٧} = ١٦٤,٧ \text{ تقريبا}$$

أتأكد

أجد الوسيط الحسابي والوسيط والمنوال والمدى لكل مجموعة من الأعداد التالية :

١ ٥ ، ٣ ، ١١ ، ٧ ، ٣ ، ١ ، ٦ ، ٥ ، ٣

٢ ٢٤ ، ٣٤ ، ٤٢ ، ١٠٤ ، ٢٤ ، ٣٤ ، ٩٣

٣ ٧٦١ ، ١٧ ، ٢٠٥ ، ٣٩ ، ٨٧ ، ١٧

٤ أجد الوسيط الحسابي والوسيط والمدى والمنوال للبيانات في الجدول التالي:

اسعار ملابس بالدينار		
٢٥٠٠٠	١٠٠٠٠	١٥٠٠٠
١٢٠٠٠	١٥٠٠٠	٣٠٠٠٠
١٠٠٠٠٠	٧٠٠٠	٥٠٠٠

أستعمل الجدول في أدناه الذي يمثل درجات لإحد تلاميذ الصف الخامس الابتدائي، للإجابة عن

الاسئلة ٥ - ٧ :

المادة	التربية الاسلامية	اللغة العربية	اللغة الانكليزية	العلوم	الرياضيات	التاريخ
الدرجة	٩٢	٧٦	٨٧	٩٤	٨٧	٨٦



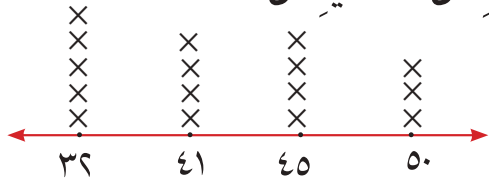
٥ ما الوسط الحسابي والوسيط للدرجات؟

٦ ما المنوال؟

٧ ما مدى الدرجات؟

أستعمل التمثيل بالنقاط المجمعة لأوزان مجموعة من التلاميذ من

الشكل المجاور للإجابة عن السؤالين ٨، ٩ :



٨ ما الوسط الحسابي والوسيط للأوزان؟

٩ ما المنوال والمدى للأوزان؟

أتحدّث: كيف أجد المنوال والمدى لمجموعة من البيانات؟ أفسر إجابتي.

أحل

أجد الوسط الحسابي والوسيط والمنوال والمدى لكل مجموعة من الأعداد التالية :

١٠ ٥ ، ٦ ، ٣٤ ، ٦ ، ٥ ، ٧ ، ١٦ ، ٦ ، ٥

١١ ٣٤ ، ٢٨ ، ٨٠٨ ، ٢٨٨ ، ٢٨ ، ٢٦٦ ، ٧٧

١٢ ٦٣ ، ٣٦٧ ، ٦٧٣ ، ٧٣٦ ، ٣٦٧

١٣ أمثل البيانات في الجدول المجاور بالنقاط المجمعة:

البيانات					
٥	٠	٣	٩	٨	٥
٧	١٠	٠	٥	٦	٢

١٤ ما الوسط الحسابي والوسيط والمنوال والمدى؟

١٥ اذا كانت درجات الحرارة اليومية خلال أسبوع من شهر تموز هي :

٣٩° ، ٤٣° ، ٤٥° ، ٤٧° ، ٤٥° ، ٤٦° ، ٤٢°

ما الوسيط والمدى والمنوال لدرجات الحرارة؟

يبين الجدول المجاور كمية الأمطار الساقطة

لأقرب مليمتر في بعض المحافظات .

١٦ ما الوسط الحسابي والوسيط والمدى

والمنوال لكمية الأمطار الساقطة؟

أفكر

١٧ تحدّ: جد إن أمكن المنوال للأعداد

٥٥ ، ٦٦ ، ٣٤ ، ٤٣ ، ١٢ ، ٢١؟ أفسر إجابتي.

مثالاً أحدد فيه الفرق بين المنوال والمدى لمجموعة بيانات.

أكتب

أتعلم



سجل رافدُ الألوان المفضلة لدى أصدقائه في الصف فوجد أن ٥ يفضلون اللون الأخضر و ٣ يفضلون اللون الأبيض و ٦ يفضلون اللون الأزرق. ما زيادة عدد الذين يفضلون اللون الأزرق على الذين يفضلون اللون الأبيض؟ أمثل البيانات على مستقيم بالنقاط المجمعة.

فكرة الدرس

أحل مسألة بانشاء قائمة منظمة.

أفهم

ما معطيات المسألة؟ الألوان المفضلة لدى أصدقاء رافد ما المطلوب في المسألة؟ أجد زيادة عدد الذين يفضلون اللون الأزرق على عدد الذين يفضلون اللون الأبيض. وأمثل البيانات على مستقيم بالنقاط المجمعة.

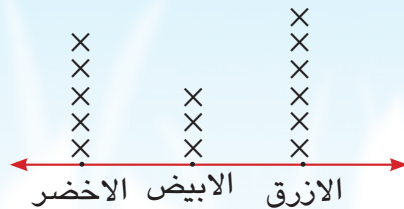
أخطط

كيف أحل المسألة باستعمال قائمة منظمة. افرغ البيانات في جدول من عمودين و أمثلها على مستقيم.

أحل

الالوان المفضلة	
اللون	العدد
الاخضر	٥
الابيض	٣
الازرق	٦

أكون قائمة مكونة من عمودين كما هو موضح في الشكل المجاور:
عدد الذين يفضلون اللون الأزرق ٦ ، وعدد الذين يفضلون اللون الأبيض ٣ .
الزيادة في عدد الذين يفضلون اللون الأزرق عن اللون الأبيض $6 - 3 = 3$



أتحقق

هل إجابتي معقولة (أستعمل العملية العكسية) بما أن عدد الذين يفضلون اللون الأبيض زائد الزيادة في عدد الذين يفضلون اللون الأزرق عن اللون الأبيض يساوي عدد الذين يفضلون اللون الأزرق ، لذا الإجابة صحيحة .



مَسَائِلُ

١ تقطعُ سيارةٌ ٨ كم كل ١٠ دقائقُ أكونُ جدولاً يمثُلُ البياناتِ لتحديدِ الزمنِ اللازمِ لقطعِ السيارةِ مسافةً ٤٠ كم .

٢ يستهلكُ مولدٌ كهربائيٌّ ٥ لتراتٍ من الوقودِ مدةً ٢ ساعةً ، أكونُ جدولاً يبيِّنُ استهلاكَ المولدِ من الوقودِ إذا عملَ مدةً ٥ ساعاتٍ ؟

٣ يبيِّنُ الجدولُ المجاورُ أعمارَ عددٍ من التلاميذِ:

أعمار عدد من التلاميذ				
٩	١١	١٣	٩	١٠
١٢	١٣	١٠	٩	١١
٩	١١	١٢	١٣	١٠
١٣	٩	١٢	١١	٩

* أكونُ قائمةً بإعدادِ التلاميذِ وأعمارهم وأمثلُ

البياناتِ بالنقاطِ المجمعة .

* أجدُ الوسطَ الحسابيَّ لأعمارِ التلاميذِ.

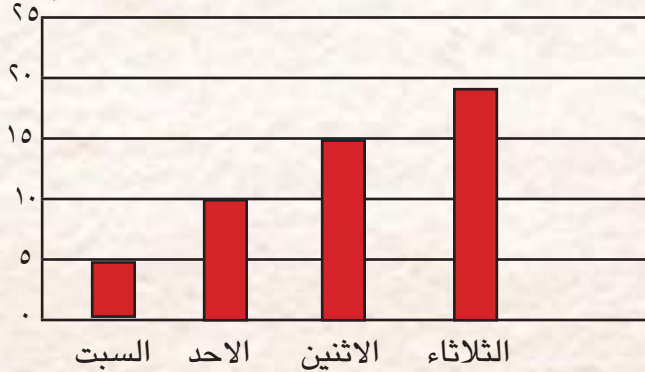
* أجدُ المدىَ والمنوالَ والوسيطَ لأعمارِ التلاميذِ.

٤ الكتبُ المباعةُ من أحدِ المكتباتِ في أربعةِ أيامٍ مبينةٌ في الشكلِ أدناه.

* أكونُ قائمةً بإعدادِ الكتبِ المباعةِ.

* ما متوسطُ عددِ الكتبِ المباعةِ في يومِ الاثنينِ ؟

عدد الكتب المباعة



مراجعة الفصل

المفردات

النقاط المجمعّة، الوسط الحسابي، المنوال، المدى

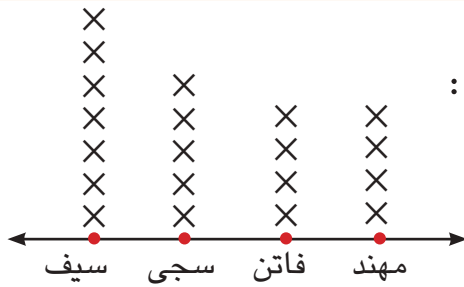
أكمل الجمل الآتية باستخدام المفردات في الجدول في أعلاه :

- ١ هو القيمة أو القيم الأكثر تكراراً في البيانات .
- ٢ هو الفرق بين أكبر قيم البيانات وأصغرها.
- ٣ لمجموعة بيانات هو ناتج قسمة مجموعها على عددها
- ٤ هو تمثيل البيانات بوضع إشارات X .

تمثيل البيانات بالنقاط المجمعّة و تفسيرها

الدرس (١)

مثال :



يبين التمثيل بالنقاط المجمعّة المجاور أعمار بعض الأطفال :

* من هو الأكبر عمراً؟ سيف

* كم ينقص عمر مهند عن عمر سجي؟ ١

تدريب :

يبين الجدول المجاور وسائط النقل المختلفة التي يستخدمها

تلاميذ الصف الخامس الابتدائي للذهاب إلى المدرسة

أمثل البيانات بالنقاط المجمعّة. وأجب عن الاسئلة التالية :

* كم تلميذاً يذهب إلى المدرسة بالدراجة؟

* بكم يزيد عدد الذين يحضرون للمدرسة بالحافلة على الذين

يحضرون مشياً على الأقدام؟

وسيلة النقل	عدد التلاميذ
حافلة	١٠
سيارة خاصة	٥
دراجة	٨
مشياً على الأقدام	٦



مثال ١ :

أجد الوسط الحسابي لمجموعة بيانات أعمار التلاميذ بالسنوات .

١٦ ، ١٨ ، ١٤ ، ١٢

$$\frac{60}{4} = \frac{16 + 18 + 14 + 12}{4} = \text{الوسط الحسابي} \\ 15 =$$

لذا الوسط الحسابي لأعمار التلاميذ الأربعة هو العدد ١٥ .

تدريب ١ :

* أجد الوسط الحسابي لمجموعة بيانات الآتية :

٢٦ ، ٢٠ ، ٣٤ ، ٢٠

* إذا كان الوسط الحسابي للأعداد ١٧ ، ١٨ ، ١٥ ، س ، هو ١٦ فما قيمة س

* جد الوسط الحسابي للأعداد ٢٥ ، ٢٧ ، ٢٩ ، ٣٥ ، كم يصبح اذا أضفنا ٥ لكل عدد منها

مثال ٢ :

أجد الوسط الحسابي والوسيط والمنوال والمدى للأعداد

٥٦ ، ٤٤ ، ١٢٤ ، ٦٥ ، ٤٤ ، ٦٧ ، ٣٥

$$\frac{435}{7} = \frac{56 + 44 + 124 + 65 + 44 + 67 + 35}{7} = \text{الوسط الحسابي} \\ 62 \approx$$

أرتب تصاعدياً ٣٥ ، ٤٤ ، ٤٤ ، ٥٦ ، ٦٥ ، ٦٧ ، ١٢٤

الوسيط = ٥٦

المنوال : ٤٤

المدى : ١٢٤ - ٣٥ = ٨٩

لذا المدى هو ٨٩

تدريب ٢ :

* اذا كان المنوال للأعداد ٥ ، ٧ ، ٨ ، ٨ ، س هو ٨ ، فما الوسط الحسابي للأعداد ؟

* أجد الوسيط والمنوال والمدى للأعداد ٣٧ ، ٧٧ ، ٥٤ ، ٦٣٥ ، ٥٤ ، ١٧ .

* أجد المدى للأعداد ٣٥ ، ١٥ ، ١٢ ، وكم يصبح اذا أضيف ٧ الى كل منها ؟

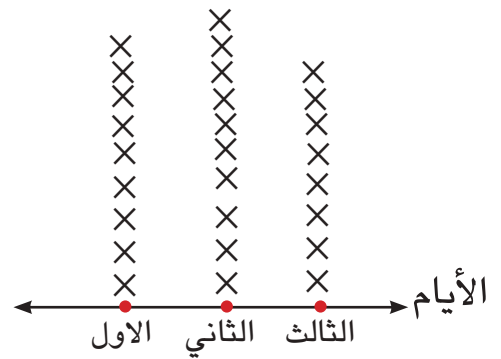
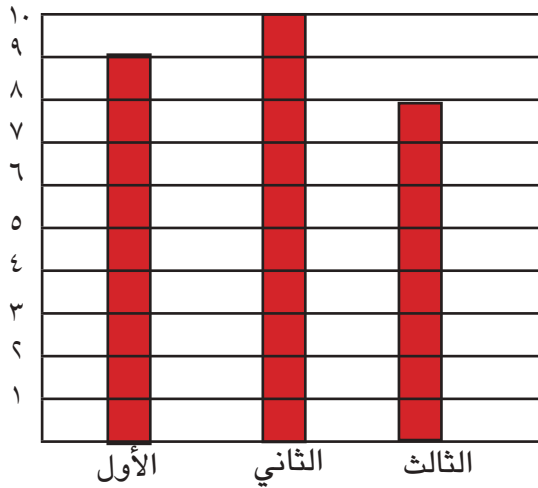
مثال ٣ :

يبين الجدول المجاور عدد الكتب المباعة خلال ٣ أيام في إحدى المكتبات .

اليوم	عدد الكتب
الأول	٩
الثاني	١٠
الثالث	٨

* أمثل البيانات بالأعمدة .

* أمثل البيانات بالنقاط المجمعة .



* أي الأيام بيعت أكبر عدد من الكتب؟ الثاني

* ما عدد الكتب التي بيعت في اليوم الثالث؟ ٨

تدريب ٣ :

أجد للأعداد ٣٧ ، ٧٧ ، ٥٤ ، ٦٣٥ ، ٥٤ ، ١٩

* الوسط الحسابي

* الوسيط

* المنوال

* المدى

أختبار الفصل

العدد	الهواية
٤	كرة قدم
٣	القراءة
٢	السباحة

اليوم	عدد الساعات
السبت	٨
الاحد	٦
الاثنين	٨
الثلاثاء	٦
الاربعاء	٩
الخميس	٥

عدد النشاطات الرياضية

٢ ، ١ ، ٣ ، ٢
١ ، ٢ ، ٤ ، ١ ، ١
٢ ، ١ ، ٣ ، ٢ ، ٢ ، ٣

١ إذا كانت هويات أفراد عائلة كما في الجدول المجاور:

أمثل البيانات بالنقاط المجمع وأجب عن الاسئلة.

* ما عدد أفراد العائلة الذين يفضلون كرة القدم؟

* كم فرداً هوايته السباحة؟

* هل عدد الأفراد الذين هوايتهم القراءة أقل من ٤؟

٢ يمثل الجدول المجاور عدد ساعات عمل أحد العمال

في ٦ أيام ، أمثل البيانات بالنقاط المجمع.

٤ يمثل الجدول المجاور عدد النشاطات الرياضية التي

يمارسها التلاميذ بعد المدرسة.

* مثل البيانات بالنقاط المجمع.

* جد الوسط الحسابي والوسيط والمنوال والمدى .

٥ يبين الجدول في أدناه النشاطات اليومية التي يقوم بها ٢٥ تلميذاً في الصف الخامس

الإبتدائي

٢٥	المحافظة على الصلاة	
١٦	الاستيقاظ مبكراً	
٢٠	كتابة الواجبات	
١٥	تناول جميع الوجبات مع باقي العائلة	
١٩	النظافة البدنية والمظهر الشخصي	

* ما عدد التلاميذ الذين يحافظون على صلاتهم؟

* ما عدد التلاميذ الذين لا يكتبون واجباتهم؟

* ما المتوسط الحسابي للأعداد

٢٥ ، ١٦ ، ٢٠ ، ١٥ ، ١٩ ؟

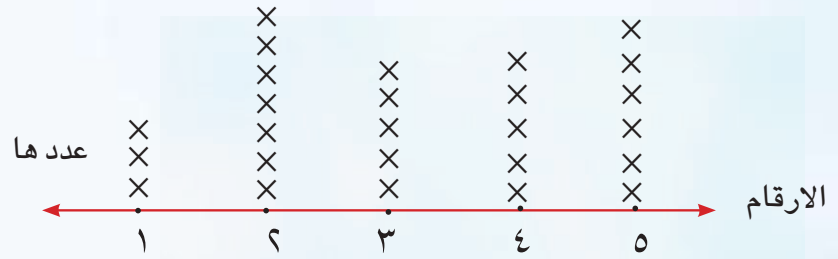
* ما الوسيط والمنوال والمدى؟

٦ بيّن الجدول في أدناه عدد السيارات الموجودة في أحد المواقع .

عدد السيارات في الموقف			
١٠	١٠	١٥	٢٠
٤٥	٣٠	٢٥	١٠
٢٥	٢٠	١٠	٢٠

أمثل البيانات باستعمال النقاط المجمعّة وأجد الوسط الحسابي والوسيط والمنوال والمدى لها.

بيّن التمثيل في أدناه أعداد الأرقام الموجودة في مجموعة البيانات.



٧ أي الأرقام تكررهما الأقل؟

٨ ما الوسيط والمدى والمنوال؟

٩ ما الوسط الحسابي؟

١٠ إذا كانت درجاتك في ٤ امتحانات :

٨٧ ، ٩٣ ، ٨٥ ، ٩٤ ، فما الدرجة التي يجب أن تحصل عليها في الامتحان القادم ليكون

الوسط الحسابي لدرجاتك ٩٠ درجة ؟

١١ إذا كان الوسط الحسابي ١٢ والمنوال ٩ للبيانات :

٩ ، ؟ ، ١٠ ، ٢٠ فما البيانات المفقودة ؟