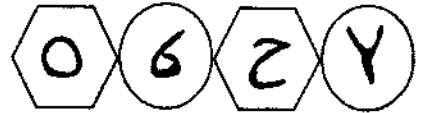


منهاجي
متعة التعليم الهادف



إدارة الامتحانات والاختبارات
قسم الامتحانات العامة

امتحان شهادة الدراسة الثانوية العامة لعام ٢٠٢١

(وثيقة محمية/محدودة)
المبحث: الجغرافيا (خطة ٢٠٢١، ٢٠٢٠، ٢٠١٩) رقم المبحث: ١٥٤ مدة الامتحان: $\frac{3}{1}$ ساعة
الفرع: الأدبي، الفندقية والسياحي (جامعات) رقم النموذج: (١) اليوم والتاريخ: الخميس ٢٠٢١/٧/٨
اسم الطالب: رقم الجلوس:

اختر رمز الإجابة الصحيحة في كل فقرة مما يأتي، ثم ظلل بشكل غامق الدائرة التي تشير إلى رمز الإجابة في نموذج الإجابة (ورقة القارئ الضوئي) فهو النموذج المعتمد (فقط) لاحتساب علامتك، علماً بأن عدد الفقرات (٥٠)، وعدد الصفحات (٦).

١- إذا علمت أن درجة الحرارة حسب النظام المئوي تبلغ (٣٠) درجة، فإنها تعادل حسب النظام الفهرنهايتي:
(أ) ٤٧° (ب) ٥٤° (ج) ٨٦° (د) ٧٩°

٢- كل من الأجهزة الآتية من أجهزة قياس الضغط الجوي ما عدا:

(أ) التيرموميتر (ب) الباروميتر الزئبقي (ج) الباروميتر المعدني (د) الباروغراف

٣- يتغير الضغط الجوي مع الارتفاع عن مستوى سطح البحر، فعند الارتفاع (١٠٠٠) م فوق سطح البحر يكون مقدار الضغط الجوي:

(أ) ٨١٥ مليبار (ب) ٩١٥ مليبار (ج) ١٠٠٠ مليبار (د) ١٠١٣ مليبار

٤- العنصر الذي يُعد من أهم العناصر المناخية في توزيع الحرارة على سطح الأرض:

(أ) الضغط الجوي (ب) الرطوبة (ج) الأمطار (د) الرياح

٥- يُصبح التحدّر في قوة الضغط الجوي شديداً عندما تكون خطوط الضغط الجوي المتساوي:

(أ) متقاطعة (ب) متقاربة (ج) متعكسة (د) متباعدة

٦- بعد دراستك للشكل المجاور الذي يمثل كيفية حدوث الأمطار التضاريسية، يوصف الهواء المشار إليه بالرمز


(س) إلى هواء:

(أ) دافئ جاف

(ب) بارد رطب

(ج) دافئ رطب

(د) بارد جاف



٧- يكثر ضباب البر في فصلي:

(أ) الخريف والشتاء (ب) الشتاء والربيع (ج) الربيع والصيف (د) الصيف والخريف

٨- شكل التكاثف، الذي يعمل على إبطاء عملية التبخر والنتح مدة من الوقت هو:

(أ) السحب (ب) الضباب (ج) الندى (د) الصقيع

يتبع الصفحة الثانية

الصفحة الثانية


٩- تتركز المنخفضات الجوية في منطقة غرب أوروبا وشمال المحيط الأطلسي في فصلي:

(أ) الشتاء والربيع (ب) الخريف والشتاء (ج) الربيع والصيف (د) الصيف والخريف

١٠- من أشهر أعاصير التيفون والذي ضرب عُمان عام ٢٠٠٧م هو إعصار:

(أ) هايان (ب) غونو (ج) التورنادو (د) الهاريكين

١١- الإقليم المناخي المحدد في الشكل المجاور والمشار إليه بالرمز (س) هو:



(أ) المناخ المداري الموسمي

(ب) المناخ المداري القاري

(ج) المناخ الاستوائي

(د) مناخ البحر المتوسط

١٢- يقع الأردن بين دائرتي عرض:

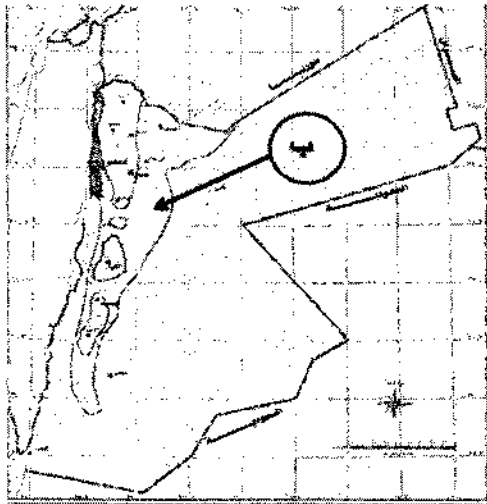
(أ) (٢٩ - ٣٣) شمالاً (ب) (٢٩ - ٣٤) شمالاً

(ج) (٢٩ - ٣٥) شمالاً (د) (٢٩ - ٣٦) شمالاً

١٣- يبلغ المتوسط السنوي لدرجات الحرارة في الأردن :

(أ) (١٧) م° (ب) (١٨) م° (ج) (١٩) م° (د) (٢٠) م°

١٤- الإقليم المناخي الذي يسود في المنطقة المشار إليها بالرمز (ب):



(أ) شبه الصحراوي

(ب) الصحراوي

(ج) الغوري

(د) البحر المتوسط

١٥- قدرة مكونات البيئة على استمرار الحياة على سطح الأرض دون مخاطر أو مشكلات تؤثر على الحياة البشرية

تعريف لمفهوم:

(أ) الوعي البيئي (ب) الإخلال البيئي (ج) النزوح البيئي (د) التوازن البيئي

يتبع الصفحة الثالثة

منهاجي
متعة التعليم الهادف

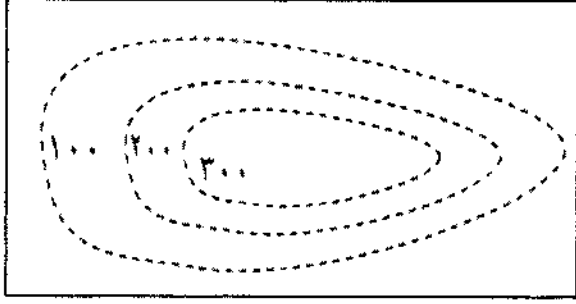


الصفحة الثالثة

- ١٦- النظرية التي تعرضت للنقد كونها تُعظّم دور الإنسان في البيئة هي النظرية:
 (أ) التوافقية (ب) الحتمية (ج) الإمكانية (د) الاحتمالية
- ١٧- كل مما يأتي من أمثلة الصخور الرسوبية ما عدا:
 (أ) الحجر الجيري (ب) المتحجرات (ج) الجرانيت (د) الركام الجليدي
- ١٨- جميع العوامل الآتية من العوامل الطبيعية للتغير المناخي ما عدا:
 (أ) التجارب النووية (ب) التغير في كمية الإشعاع الشمسي الذي يصل إلى سطح الأرض
 (ج) الانفجارات البركانية (د) التغير في مكونات الغلاف الجوي
- ١٩- وتوقع العلماء ارتفاع درجة حرارة الهواء في نهاية القرن الحادي والعشرين بمقدار يصل إلى:
 (أ) $(٤,٥ - ٢,٥)^\circ \text{م}$ (ب) $(٥,٥ - ٢,٥)^\circ \text{م}$ (ج) $(٤,٥ - ٣,٥)^\circ \text{م}$ (د) $(٥,٥ - ٣,٥)^\circ \text{م}$
- ٢٠- (أسلوب علمي منظم يهدف إلى إيجاد أفضل الوسائل المناسبة في استثمار موارد البيئة الطبيعية بتنفيذ الإنسان مجموعة من المشروعات الاقتصادية التي تحافظ على البيئة وفق جدول زمني معين) التعريف السابق يخص:
 (أ) التوازن البيئي (ب) التقييم البيئي (ج) الحمولة البيئية (د) التخطيط البيئي
- ٢١- يُعد إسهام التخطيط البيئي في إيجاد بيئة صحية تساعد الأفراد على العمل والإنتاج، ويدفع إلى الاعتماد على الخبرات والتقنيات المحلية من:
 (أ) الفوائد البيئية (ب) الفوائد الاجتماعية (ج) الفوائد الاقتصادية (د) الفوائد الصحية
- ٢٢- أكبر محمية طبيعية في الأردن من حيث المساحة هي محمية:
 (أ) ضانا (ب) الموجب (ج) عجلون (د) الشومري
- ٢٣- الاتفاقية التي حُدثت في عام ١٩٩٧م خطة لتبادل الانبعاثات الكربونية بين الدول الصناعية والدول النامية هي:
 (أ) قمة الأرض (ب) اتفاقية كيوتو (ج) اتفاقية فينا (د) اتفاقية باريس
- ٢٤- من مصادر الطاقة المتجددة:
 (أ) الوقود الأحفوري (ب) الطاقة الكهرومائية (ج) النفط (د) الغاز الطبيعي
- ٢٥- أكثر الدول إنتاجًا للطاقة الكهربائية من طاقة الرياح هي:
 (أ) البرازيل (ب) الأرجنتين (ج) فرنسا (د) الصين
- ٢٦- الخرائط التي تظهر عليها ظواهر سطح الأرض الطبيعية والبشرية ويتم رسمها بمقاييس رسم كبيرة لإظهار أكبر قدر من تفاصيل سطح الأرض هي:
 (أ) الخرائط السياسية (ب) خرائط الطقس
 (ج) الخرائط الطبوغرافية (د) الخرائط الاقتصادية
- ٢٧- تقارب خطوط الكنتور في الخريطة الطبوغرافية يدل على أنها منطقة:
 (أ) شديدة الانحدار (ب) متوسطة الانحدار (ج) قليلة الانحدار (د) سهلية



الصفحة الرابعة



٢٨- المظهر التضاريسي الذي يمثله الشكل المجاور هو:

- (أ) منطقة منخفضة
(ب) مصب
(ج) منطقة سهلية
(د) منطقة مرتفعة

٢٩- من أهم مصادر المعلومات للدراسة الجيومورفولوجية التي تتميز بالدقة والسرعة في تحليل البيانات:

- (أ) الدراسة الميدانية
(ب) تقنية الاستشعار عن بُعد
(ج) الخرائط
(د) الخرائط الطبوغرافية

٣٠- من أهم الجوانب التطبيقية لعلم الجيومورفولوجيا:

- (أ) تحديد الشبكة المائية
(ب) تحديد تضرس المنطقة
(ج) الاستخدام في النواحي العسكرية والحروب
(د) تحليل الغطاء النباتي واستعمالات الأرض

٣١- عملية انفصال وتفتت للصخور دون حدوث أي تغيرات في خصائصها الكيميائية) التعريف السابق يخص:

- (أ) التعرية المائية (ب) التجوية الميكانيكية
(ج) التجوية الكيميائية (د) التجوية الحيوية

٣٢- يزداد نشاط التجوية الميكانيكية على السفوح:

- (أ) قليلة الانحدار (ب) معتدلة الانحدار
(ج) شديدة الانحدار (د) المستوية

٣٣- مستعينا بالشكل المجاور، فإن شدة التجوية عندما يكون معدل درجة الحرارة السنوي (صفر) درجة مئوية، والمعدل

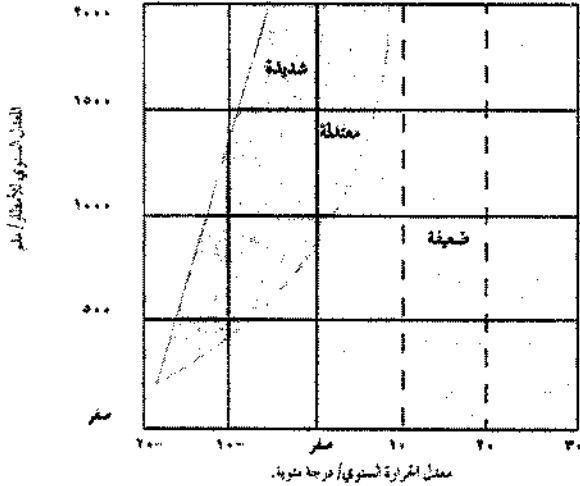
السنوي للأمطار (١٠٠٠) ملم:

(أ) ضعيفة جداً

(ب) شديدة

(ج) معتدلة

(د) ضعيفة



٣٤- تنشأ التربة وتزداد سمكاً في المناطق:

- (أ) الرطبة (ب) الرطبة الحارة
(ج) الحارة (د) الباردة

٣٥- كل مما يأتي من الأشكال الأرضية الناتجة عن الحت والتذرية ما عدا:

- (أ) الكتبان الرملية (ب) الموائد الصخرية
(ج) حفر التذرية (د) الشواهد الصخرية

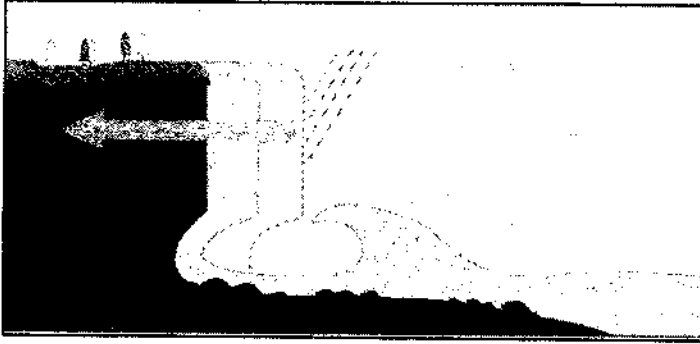
يتبع الصفحة الخامسة



الصفحة الخامسة

٣٦- الكثبان الرملية التي تنشأ نتيجة وجود رياح من اتجاهين هي:

- (أ) الكثبان الهلالية (ب) الكثبان النجمية (ج) التموجات الرملية (د) الكثبان الطولية



٣٧- الحت الذي يظهر في الشكل المجاور هو الحت:

- (أ) الرأسي
(ب) الجانبي
(ج) التراجعي
(د) الرأسي والجانبي معاً

٣٨- تقع شلالات نياجارا على نهر:

- (أ) الأمازون (ب) سان لورانس (ج) الزمبيزي (د) الراين

٣٩- نمط الدلتا لنهر التيبر هو النمط:

- (أ) المدبب (ب) المثلث (ج) الإصبعي (د) القوسي

٤٠- (إزالة الحواجز والحدود السياسية بين الدول عن طريق هيمنة الدول القوية اقتصادياً وثقافياً ومعرفياً واجتماعياً على

الدول الأخرى) التعريف السابق يخص:

- (أ) الفيدرالية (ب) الكونفدرالية (ج) العولمة (د) الأحلاف العسكرية

٤١- من أمثلة الدول الفيدرالية:

- (أ) فرنسا (ب) إسبانيا (ج) إيطاليا (د) أستراليا

٤٢- تمكن الدولة من مراقبة تدفق السلع عبر حدودها لمنع التهريب وفرض الرسوم الجمركية على السلع المستوردة

لحماية منتجاتها المحلية، تُعد هذه الوظيفة للحدود من الوظائف:

- (أ) الاقتصادية (ب) القانونية (ج) الأمنية (د) السياسية

٤٣- يفصل نهر الأورانج بين:

- (أ) جنوب أفريقيا وزامبيا (ب) ناميبيا وجنوب أفريقيا

- (ج) زامبيا وناميبيا (د) ناميبيا وليسوتو

٤٤- النهر الذي يُعد من أكثر الأمثلة تعبيراً عن المشكلات الحدودية النهرية بين الدول هو نهر:

- (أ) بوج (ب) الراين (ج) ريوجراند (د) الأمازون

٤٥- تتداخل المياه الإقليمية والمنطقة الاقتصادية الخالصة في منطقة القنال الإنجليزي بين:

- (أ) بريطانيا وإسبانيا (ب) بريطانيا وهولندا (ج) بريطانيا وبلجيكا (د) بريطانيا وفرنسا

٤٦- يمتد الوطن العربي من الشرق إلى الغرب من:

- (أ) عُمان شرقاً إلى المغرب غرباً (ب) عُمان شرقاً إلى موريتانيا غرباً

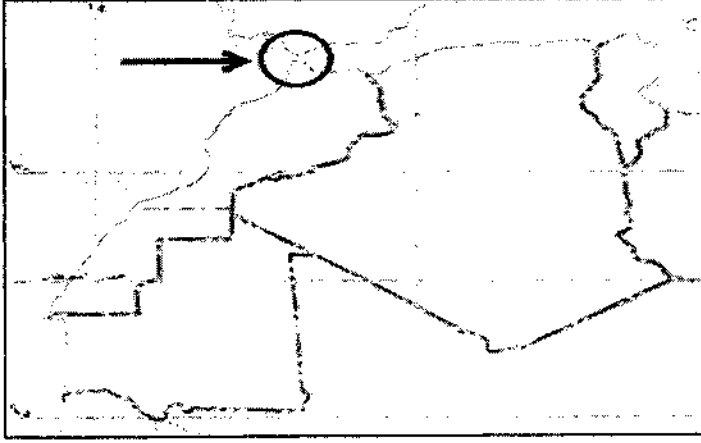
- (ج) موريتانيا شرقاً إلى عُمان غرباً (د) العراق شرقاً إلى موريتانيا غرباً

يتبع الصفحة السادسة



الصفحة السادسة

٤٧- الممر المائي المشار إليه والمحدّد بالدائرة في الخريطة المجاورة هو:



(أ) مضيق جبل طارق

(ب) مضيق هرمز

(ج) مضيق باب المندب

(د) قناة السويس

٤٨- تُعد الصحراء الغربية أرضًا متنازع عليها بين:

(أ) موريتانيا وجبهة البوليساريو

(ج) المغرب وجبهة البوليساريو

٤٩- تقع قناة بنما في قارة:

(أ) أمريكا الجنوبية

(ب) أمريكا الشمالية

(ج) أفريقيا

(د) أمريكا الوسطى

٥٠- من الدول التي تكوّنت بعد تفكك الاتحاد اليوغسلافي السابق:

(أ) صربيا

(ب) أندريجان

(ج) لتوانيا

(د) أوكرانيا

﴿ انتهت الأسئلة ﴾

