



إدارة الامتحانات والاختبارات  
قسم الامتحانات العامة

## امتحان شهادة الدراسة الثانوية العامة لعام ٢٠٢٢ / التكميلي

(وثيقة مسمية/معدود)

مدة الامتحان:  $\frac{3}{2}$  س

رقم المبحث: 101

المبحث: الكيمياء

اليوم والتاريخ: الأربعاء ١١/١/٢٠٢٣  
رقم الجلوس:

رقم النموذج: (١) (جامعات) (الزراعي والاقتصاد المنزلي والبيطري)  
اسم الطالب:

اختر الإجابة الصحيحة في كل فقرة مما يأتي، ثم ظلل بشكل غامق الدائرة التي تشير إلى رمز الإجابة في نموذج الإجابة (ورقة القارئ الضوئي) فهو النموذج المعتمد (فقط) لاحتساب علامتك، علماً بأن عدد الفقرات (50):

١- المادة التي تسلك سلوكاً حمضياً عند تفاعلها مع  $\text{NH}_3$  :

أ-  $\text{OH}^-$       ب-  $\text{CN}^-$       ج-  $\text{H}_2\text{PO}_4^-$       د-  $\text{HCOO}^-$

٢- محلول  $\text{KNO}_3$  تركيزه (0.1 M)، وتغير تركيزه ليصبح (0.01 M)، فإن: (أهمل التغير في الحجم)

أ- pH تزداد      ب-  $[\text{OH}^-]$  تقل      ج- pH تثبت      د-  $[\text{H}_3\text{O}^+]$  تزداد

٣- الزوج المترافق من الحمض والقاعدة  $\text{H}_2\text{O}/\text{H}_3\text{O}^+$  ناتج من تفاعل:

أ-  $\text{H}_2\text{O} + \text{CN}^-$       ب-  $\text{H}_2\text{O} + \text{HCOO}^-$       ج-  $\text{H}_2\text{O} + \text{H}_2\text{CO}_3$       د-  $\text{H}_2\text{O} + \text{C}_5\text{H}_5\text{N}$

٤- المحلول الملحي من محاليل الأملاح الآتية المتساوية التركيز التي يكون فيها تركيز  $[\text{OH}^-]$  الأعلى هو:

أ-  $\text{CH}_3\text{COONa}$       ب-  $\text{NaCl}$       ج-  $\text{NH}_4\text{Cl}$       د-  $\text{NaBr}$

٥- محلول قاعدة ضعيفة تركيزه (0.4 M)، فإن تركيز  $[\text{H}_3\text{O}^+]$  (M) يساوي:

(  $K_w = 1 \times 10^{-14}$  ،  $K_b$  القاعدة =  $1 \times 10^{-9}$  )

أ-  $2 \times 10^{-5}$       ب-  $2 \times 10^{-10}$       ج-  $5 \times 10^{-12}$       د-  $5 \times 10^{-10}$

٦- المادة التي لا تسلك سلوكاً أمفوتيرياً في تفاعلاتها:

أ-  $\text{HCOO}^-$       ب-  $\text{HSO}_3^-$       ج-  $\text{H}_2\text{O}$       د-  $\text{HCO}_3^-$

٧- المادة التي لا تسلك سلوكاً حمضياً وفق مفهوم كل من أرهينيوس وبرونستد - لوري:

أ-  $\text{HI}$       ب-  $\text{NH}_4\text{Cl}$       ج-  $\text{N}_2\text{H}_5\text{I}$       د-  $\text{Cu}^{2+}$

٨- محلول مكون من القاعدة الضعيفة B والملح  $\text{BHCl}$  المتساويين في التركيز له pH يساوي (9)، وعند تغير تراكيز كل من الملح والقاعدة لتصبح pH المحلول تساوي (8)، فإن نسبة [القاعدة] إلى [الملح] تساوي: (أهمل التغير في الحجم) علماً أن ( $K_w = 1 \times 10^{-14}$ )

أ- 10      ب- 0.1      ج- 0.01      د- 0.001

- ادرس المعلومات الآتية لمحاليل القواعد الافتراضية (D,C,B,A) المتساوية التركيز، ثم أجب عن الفقرات (9, 10, 11) علماً أن ( $K_w = 1 \times 10^{-14}$ )

- قيمة pH القاعدة B أقل منها للقاعدة C

- الملح DHCl أكثر قدرة على التميح من الأملاح (AHCl, BHCl, CHCl)

- تركيز  $[AH^+]$  لمحلول القاعدة A أكبر من  $[CH^+]$  لمحلول القاعدة C

٩- محلول القاعدة الأعلى تأيناً في الماء:

أ- A      ب- B      ج- C      د- D

١٠- محلول الملح الذي يكون له تركيز  $[H_3O^+]$  الأقل عند تساوي تراكيز الأملاح:

أ- AHCl      ب- BHCl      ج- CHCl      د- DHCl

١١- ينتج عند تفاعل الحمض المرافق للقاعدة الأضعف مع الماء:

أ-  $A + H_3O^+$       ب-  $D + H_3O^+$       ج-  $CH^+ + OH^-$       د-  $BH^+ + OH^-$

١٢- محلول الحمض HCl تركيزه (0.05 M)، فإن تركيز  $[OH^-]$  (M) يساوي: ( $K_w = 1 \times 10^{-14}$ )

أ-  $1 \times 10^{-13}$       ب-  $2 \times 10^{-13}$       ج-  $5 \times 10^{-12}$       د-  $5 \times 10^{-13}$

المعلومات	محلول الملح
$[OH^-] = 1 \times 10^{-5} M$	CH <sub>3</sub> COOK
pH = 8	KNO <sub>2</sub>
$[H_3O^+] = 2 \times 10^{-10} M$	KOCl

- يمثل الجدول المجاور محاليل أملاح متساوية التركيز (0.1 M) لحموض ضعيفة ومعلومات عنها، ادرسه، ثم أجب عن الفقرات (13, 14, 15)، علماً بأن ( $K_w = 1 \times 10^{-14}$ ,  $\log 2 = 0.3$ ).

١٣- الترتيب الصحيح للحموض وفقاً لقوتها:

أ-  $CH_3COOH < HOCl < HNO_2$

ب-  $HOCl < CH_3COOH < HNO_2$

ج-  $HNO_2 < CH_3COOH < HOCl$

د-  $CH_3COOH < HNO_2 < HOCl$

١٤- أيون الملح الأكثر قدرة على التفاعل مع الماء:

أ-  $K^+$       ب-  $NO_2^-$       ج-  $CH_3COO^-$       د-  $ClO^-$

١٥- صيغة الأيون المشترك عند إضافة بلورات الملح CH<sub>3</sub>COOK إلى محلول الحمض

:CH<sub>3</sub>COOH

أ-  $CH_3COO^-$       ب-  $K^+$       ج-  $CH_3COOH$       د-  $OH^-$

١٦- نصف التفاعل الذي يزداد عدد تأكسد النتروجين (N) فيه بمقدار (4)، هو:

أ-  $N_2H_4 \rightarrow NO$       ب-  $NO_2 \rightarrow N_2O_4$

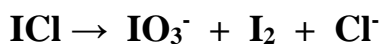
ج-  $NO \rightarrow N_2$       د-  $NO_2^- \rightarrow NO_3^-$

١٧- في المعادلة  $MnO_4^- + NO_2 \rightarrow MnO_2 + NO_3^-$ ، فإن العبارة الصحيحة:

أ- يقل عدد التأكسد لذرة N بمقدار (1).      ب- يزداد عدد التأكسد لذرة Mn بمقدار (3).

ج-  $NO_2$  عاملاً مختزلاً.      د-  $MnO_2$  عاملاً مؤكسداً.

١٨- عدد الإلكترونات المفقودة أو المكتسبة اللازم لموازنة التفاعل الآتي في الوسط الحمضي، يساوي:



د- 8

ج- 6

ب- 4

أ- 2

التفاعلات الخلية	$E^{\circ}_{\text{cell}}$ (V)
$\text{A} + \text{X}^{2+} \rightarrow \text{X} + \text{A}^{2+}$	0.32
$\text{A} + \text{Y}^{2+} \rightarrow \text{Y} + \text{A}^{2+}$	0.62
$\text{Z}^{2+} + \text{A} \rightarrow \text{A}^{2+} + \text{Z}$	0.48

• يبين الجدول المجاور عدداً من التفاعلات التي تتم في عدد من الخلايا الجلفانية أقطابها فلزات لها رموز افتراضية مع قيم ( $E^{\circ}_{\text{cell}}$ )، ادرسه، ثم أجب عن الفقرتين (19، 20)

١٩- الترتيب الصحيح للرموز الافتراضية لعناصر فلزية وفقاً لقوتها كعوامل مختزلة:



٢٠- إذا علمت أن الفلز الذي له الرمز الافتراضي M يستطيع اختزال أيونات الفلز Y ولا يستطيع اختزال أيونات الفلز Z فإن العبارة الصحيحة:

أ- يمكن تحريك محلول الفلز Y بملعقة مصنوعة من M

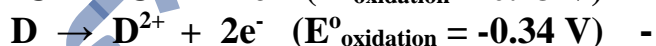
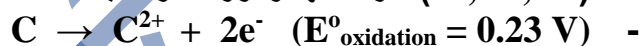
ب- يمكن حفظ محلول M في وعاء مصنوع من Z

ج- في الخلية Y/M تقل كتلة القطب M

د- Z عامل مختزل أضعف من M

• ادرس المعلومات الآتية، ثم أجب عن الفقرتين (21، 22)

- (C, D, W) فلزات لها رموزاً افتراضية.



- قيمة جهد الاختزال المعياري للهيدروجين تساوي صفراً.

- W هو القطب الموجب في الخلية الجلفانية قطباها (W/H<sub>2</sub>) قيمة ( $E^{\circ}_{\text{cell}} = 1.5 \text{ V}$ ).

٢١- الخلية الجلفانية التي لها أقل جهد معياري ( $E^{\circ}_{\text{cell}}$ ):

د- C/W

ج- C/H<sub>2</sub>

ب- D/H<sub>2</sub>

أ- D/C

٢٢- قيمة جهد الخلية المعياري ( $E^{\circ}_{\text{cell}}$ ) للخلية الجلفانية قطباها W/D، يساوي بوحدة (V):

د- 1.61

ج- 1.24

ب- 1.16

أ- 1.84

$E^{\circ}_{\text{cell}}$ (V)	المعلومات	الخلية
1.04	يمكن حفظ أيونات $\text{Y}^{2+}$ في وعاء مصنوع من Z	Y/Z
0.40	يتصاعد غاز H <sub>2</sub>	X/H <sub>2</sub>
0.26	ترسبت ذرات Z عند وضع قطعة من الفلز X في محلول أيونات $\text{Z}^{2+}$	X/Z
0.74	W أضعف كعامل مختزل من X	X/W

• يتضمن الجدول المجاور خلايا جلفانية في الظروف المعيارية، أقطابها فلزات لها رموز افتراضية (X, Y, Z, W) والتي تكون ثنائية الشحنة الموجبة في مركباتها، بالإضافة إلى قطب الهيدروجين المعياري. علماً أن (جهد الاختزال المعياري للهيدروجين يساوي صفراً) أجب عن الفقرات (23، 24، 25)

٢٣- في الخلية الجلفانية قطباها (Y/Z)، فإن العبارة الصحيحة:

أ- القطب Y يمثل القطب الموجب.

ب- يمكن تحريك محلول أيونات Z بملعقة من Y

ج- يستطيع العنصر Y اختزال أيونات Z من محاليله.

د- تتحرك الإلكترونات عبر الأسلاك من Z إلى Y

٢٤- الأيون الذي يستطيع أكسدة عنصر الهيدروجين H<sub>2</sub> :

أ- Z<sup>2+</sup> ب- X<sup>2+</sup> ج- Y<sup>2+</sup> د- W<sup>2+</sup>

٢٥- المعادلة التي تمثل التفاعل غير التلقائي:

أ- W<sup>2+</sup> + Z → Z<sup>2+</sup> + W ب- Y + W<sup>2+</sup> → W + Y<sup>2+</sup>

ج- Y<sup>2+</sup> + X → Y + X<sup>2+</sup> د- Z + 2H<sup>+</sup> → Z<sup>2+</sup> + H<sub>2</sub>

٢٦- التفاعل الافتراضي الآتي A → B يحدث عند درجة حرارة معينة، إذا كانت قيمة ثابت سرعة التفاعل (M.s<sup>-1</sup>) عندما يكون تركيز A يساوي (0.01 M) فإن سرعة التفاعل (M.s<sup>-1</sup>) تساوي:

أ- 1.5 x 10<sup>-6</sup> ب- 15 x 10<sup>-4</sup> ج- 1.5 x 10<sup>-4</sup> د- 15 x 10<sup>-6</sup>

رقم التجربة	[B] (M)	[A] (M)	السرعة الابتدائية M/s
1	0.1	0.1	4.4 x 10 <sup>-6</sup>
2	0.5	0.1	4.4 x 10 <sup>-6</sup>
3	0.1	0.3	1.32 x 10 <sup>-5</sup>
4	0.1	X	8.8 x 10 <sup>-6</sup>

• يبين الجدول المجاور بيانات تفاعل افتراضي: نواتج A + B → ، عند درجة حرارة معينة، ادرسه ثم أجب عن الفقرات (27, 28, 29)

٢٧- قانون سرعة هذا التفاعل هو:

أ- R = k [A]<sup>1</sup> ب- R = k [B]<sup>1</sup>

ج- R = k [A]<sup>1</sup> [B]<sup>1</sup> د- R = k [A]<sup>1</sup> [B]<sup>2</sup>

٢٨- قيمة ثابت سرعة هذا التفاعل k ، تساوي:

أ- 4.4 x 10<sup>-5</sup> ب- 4.4 x 10<sup>-4</sup>

ج- 8.8 x 10<sup>-5</sup> د- 8.8 x 10<sup>-4</sup>

٢٩- تركيز المادة X (M)، تساوي:

أ- 0.6 ب- 0.3 ج- 0.2 د- 0.1

٣٠- يحدث التفاعل الافتراضي نواتج Z + Y → عند درجة حرارة معينة، إذا علمت أن سرعة التفاعل تضاعفت (9) مرات عند مضاعفة تركيز Z (3) مرات بثبوت تركيز Y ، كما تتضاعف سرعة التفاعل (9) مرات عند مضاعفة تركيز كل من Z و Y (3) مرات، فإن الرتبة الكلية للتفاعل:

أ- صفر ب- 1 ج- 2 د- 3

٣١- العبارة الصحيحة المتعلقة بطاقة التنشيط للتفاعل الأمامي:

أ- تزداد بزيادة درجة الحرارة.

ب- تزداد بزيادة تركيز المادة المتفاعلة.

ج- تقل بزيادة مساحة سطح المادة المتفاعلة.

د- تقل باستخدام العامل المساعد.

- ٣٢- في التفاعل الافتراضي  $A + B \rightarrow C + D$  عند درجة حرارة معينة، إذا علمت أن قانون سرعة التفاعل  $R = k [A]^1$ ، فإن كلاً مما يأتي يؤثر في سرعة التفاعل ما عدا:
- أ- زيادة تركيز A  
ب- زيادة تركيز B  
ج- إضافة العامل المساعد.  
د- زيادة درجة الحرارة.

الرقم	التفاعلات	طاقة التنشيط (kJ)
1	نتاج $A \rightarrow$	10
2	نتاج $B \rightarrow$	40
3	نتاج $C \rightarrow$	20
4	نتاج $D \rightarrow$	30

- يبين الجدول المجاور تفاعلات افتراضية عند درجة حرارة معينة وعند ظروف التفاعل نفسها مع قيم طاقة التنشيط للتفاعل، ادرسه ثم أجب عن الفقرتين (34, 33)

٣٣- تكون سرعة التفاعل أعلى في التفاعل رقم:

- أ- 1  
ب- 2  
ج- 3  
د- 4

٣٤- رقم التفاعل الأقل سرعة عند إضافة عامل مساعد إلى جميع التفاعلات:

- أ- 1  
ب- 2  
ج- 3  
د- 4

- في التفاعل الافتراضي نواتج  $AB + 40kJ \rightarrow$ ، عند درجة حرارة معينة، إذا علمت أن قيمة طاقة المواد المتفاعلة تساوي (X kJ)، وعند إضافة العامل المساعد إلى وعاء التفاعل انخفضت طاقة التنشيط للتفاعل الأمامي بمقدار (10 kJ) وأصبحت طاقة التنشيط للتفاعل العكسي = (100 kJ). اعتماداً على المعلومات أعلاه، أجب عن الفقرات (35, 36, 37, 38):
- ٣٥- قيمة طاقة المواد الناتجة (kJ)، تساوي:

- أ- 40 - X  
ب- 40 + X  
ج- 50 + X  
د- 50 - X

٣٦- قيمة طاقة التنشيط للتفاعل الأمامي (kJ) بوجود عامل مساعد، تساوي:

- أ- 110  
ب- 120  
ج- 140  
د- 150

٣٧- قيمة طاقة التنشيط للتفاعل العكسي (kJ) بدون عامل مساعد، تساوي:

- أ- 110  
ب- 120  
ج- 140  
د- 150

٣٨- قيمة طاقة المعقد المنشط (kJ) بدون عامل مساعد، تساوي:

- أ- 150 + X  
ب- 150 - X  
ج- 140 + X  
د- 140 - X

٣٩- كل مما يأتي يؤثر فيها درجة حرارة التفاعل ما عدا:

- أ- عدد التصادمات الفعالة.  
ب- سرعة التفاعل الكيميائي.

ج- طاقة التنشيط للتفاعل.  
د- متوسط الطاقة الحركية للجسيمات.

٤٠- تؤدي إضافة عامل مساعد إلى التفاعل الكيميائي إلى نقصان:

- أ- طاقة المواد المتفاعلة.  
ب- التغير في المحتوى الحراري للتفاعل.

ج- زمن حدوث التفاعل.  
د- طاقة المواد الناتجة.

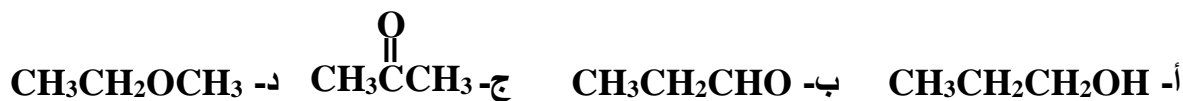
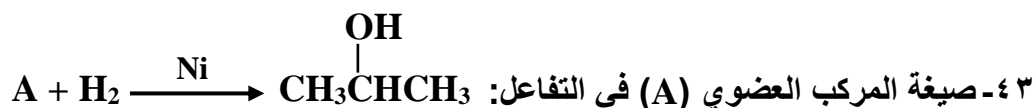
- في تفاعل ما عند درجة حرارة معينة، إذا علمت أن طاقة المواد الناتجة أقل من طاقة المواد المتفاعلة بمقدار (30 kJ)، وأن طاقة المعقد المنشط تساوي (150 kJ)، وطاقة التنشيط للتفاعل العكسي تساوي (110 kJ)، فأجب عن الفقرتين (41, 42):

٤١- قيمة طاقة المواد المتفاعلة (kJ)، تساوي:

- أ- 70  
ب- 60  
ج- 50  
د- 40

٤٢- طاقة التنشيط للتفاعل الأمامي (kJ) تساوي:

- أ- 70  
ب- 80  
ج- 90  
د- 100



٤٤- أنواع التفاعلات التي تُستخدم في تحضير المركب 2- بيوتانول  $CH_3CH_2\overset{OH}{\underset{|}{CH}}CH_3$  من المركب 1- كلوروبيوتان  $CH_3CH_2CH_2CH_2Cl$  هي:

أ- تآكسد - اختزال - إضافة      ب- تآكسد - حذف - إضافة

ج- استبدال - إضافة - تآكسد      د- استبدال - حذف - إضافة

٤٥- المادة غير العضوية المناسبة لتحضير حمض الإيثانويك  $CH_3COOH$  من مركب الإيثانول  $CH_3CH_2OH$  هي:

أ-  $KOH$       ب-  $PCC/CH_2Cl_2$

ج-  $H^+/K_2Cr_2O_7$       د-  $H_2SO_4 /$  تسخين

٤٦- المركب الذي يمكن استخدامه في تحضير المركب 1- بيوتانول  $CH_3CH_2CH_2CH_2OH$  بخطوة واحدة وباستخدام مادة غير عضوية مناسبة هو:

أ-  $CH_3CH_2CH=CH_2$       ب-  $CH_3CH_2CH_2CH_2Cl$

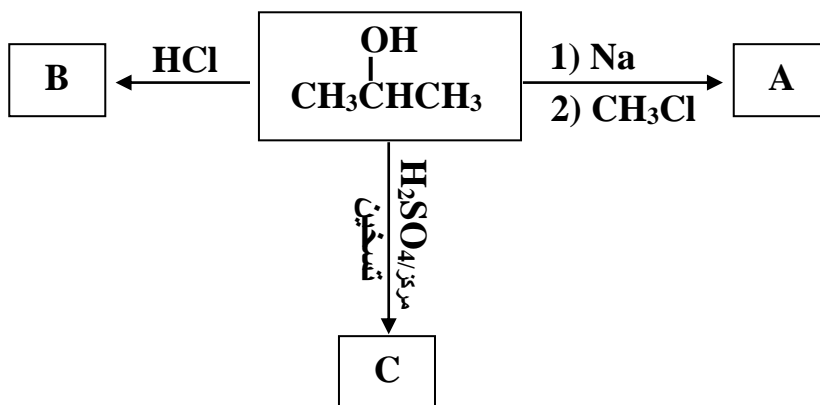
ج-  $CH_3CH_2\overset{OH}{\underset{|}{CH}}CH_3$       د-  $CH_3CH_2\overset{O}{\parallel}CCH_3$

٤٧- صيغة المركب العضوي الذي لا يتآكسد:

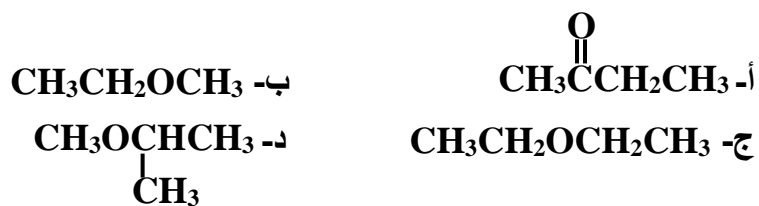
أ-  $CH_3CH_2CH_2CHO$       ب-  $CH_3CH_2\overset{OH}{\underset{|}{CH}}CH_3$

ج-  $CH_3CH_2CH_2CH_2OH$       د-  $CH_3\overset{CH_3}{\underset{CH_3}{\parallel}C}OH$

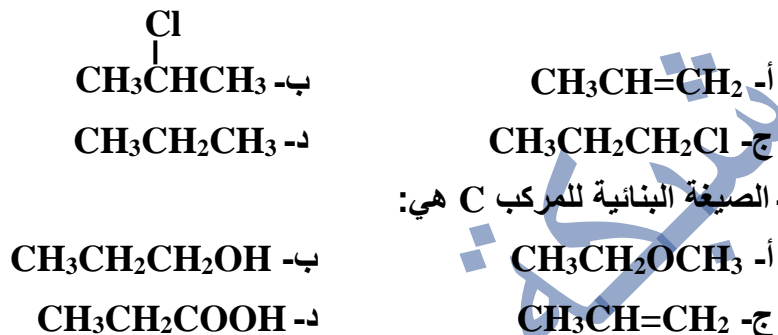
• ادرس المخطط الآتي، ثم أجب عن الفقرات (48، 49، 50).



٤٨- الصيغة البنائية للمركب A هي:



٤٩- الصيغة البنائية للمركب B هي:



انتهت الأسئلة

Ahmad Al-hossain

إجابات أسئلة الدورة التكميلية ٢٠٢٢  
الفرع العلمي والفروع المهنية مسار جامعات



١٠	٩	٨	٧	٦	٥	٤	٣	٢	١
أ	أ	ب	د	أ	د	أ	ج	ج	ج
٢٠	١٩	١٨	١٧	١٦	١٥	١٤	١٣	١٢	١١
ج	ب	ب	ج	أ	أ	د	ب	ب	ب
٣٠	٢٩	٢٨	٢٧	٢٦	٢٥	٢٤	٢٣	٢٢	٢١
ج	ج	أ	أ	أ	ج	د	ج	ب	ج
٤٠	٣٩	٣٨	٣٧	٣٦	٣٥	٣٤	٣٣	٣٢	٣١
ج	ج	أ	أ	ج	ب	ب	أ	ب	د
٥٠	٤٩	٤٨	٤٧	٤٦	٤٥	٤٤	٤٣	٤٢	٤١
ج	ب	د	د	ب	ج	د	ج	ب	أ

تم تحميل الملف من شبكة مناهجي التعليمية