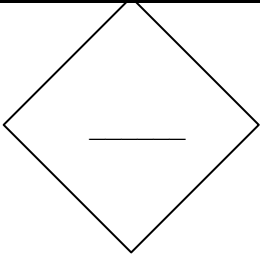


أوراق عمل الدراسات الاجتماعية

المف الرابع الفصل الثاني

المنهاج الأردني

اعداد
أميرة عيال سلمان السعودي



المدرسة

درس : (1) بناء الشخصية
الصف الرابع : الشعبة ()

الاسم :

السؤال الاول : أضع المفهوم المناسب من بنك الكلمات الآتي في الفراغ المناسب ؟

العوامل المكتسبة العوامل الوراثية بناء الشخصية

- 1-..... مجموعة من العوامل التي تسهم في تشكيل صفات الفرد وسلوكه ، وتطوير الشخصية .
- 2-..... تنتقل من الاباء الى الابناء .
- 3..... : يكتسبها الفرد بالتدريب والتعلم ، وتنشأ نتيجة الخبرات والمواقف التي يمر فيها.

السؤال الثاني : اصنف العبارات الآتية الى عبارات تعبر عن صفات مكتسبة واخرى وراثية ؟

(امتلاك عيون بنية ، تصميم العاب الكترونية ، اتقان التحدث باللغة الانجليزية ، طول القامة ، اتقان العزف على آلة العود)

صفات مكتسبة	صفات وراثية

السؤال الثالث : أصل الكلمات الآتية بالعبارات المناسبة للوصول الى عبارة تفيد دور الوالدين في بناء الشخصية ؟

الاستماع

مشاركة

الكشف

التنشئة

تشجيع

4-.....
الابناء
اهتماماتهم

5-.....
الاجتماعية

3-.....
الجيد لهم

1.....
الابناء
وتحفيزهم

2-.....
عن مواهبهم
ومهاراتهم

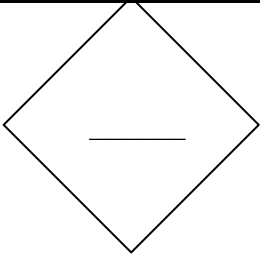
السؤال الرابع : استخرج من الشبكة الآتية ما يناسب كل من العبارات الآتية

1. توجه أبناءها نحو العمل السليم النافع عن طريق التربية الصحيحة

2. تسهم في تكوين شخصية الطلبة واكتشاف مهاراتهم وتطويرها.

3. الصفات ليست ثابتة .

				ر	ر	س	أ	ل	ا
		ة	س	ر	د	م	ل	ا	
		ل	ا	م	و	ع	ل	ا	
				ة	ب	س	ك	ت	



المدرسة

درس : (1) الحوار
الصف الرابع : الشعبة ()

الاسم :

السؤال الأول : اعيد ترتيب الكلمات الآتية لتكون جملة تفيد معنى الحوار ؟

ويكون حول موضوع معين ، بين شخصين أو أكثر ، هو تبادل الحديث

الحوار : هو

السؤال الثاني : ابدى رأيي في العبارة الآتية بـ (أوافق - أو - لا أوافق) :

■ الحوار من وسائل التواصل وتبادل الآراء والأفكار بين الناس :

السؤال الثالث : أصل العبارات التي تعبر عن فوائد الحوار بـ الشكل الآتي :

تعزيز العلاقات بين
الأفراد والمجتمع

زيادة الخلافات
في المجتمع

التعامل مع المشكلات
بعيدا عن العنف ،
والوصول الى حلول



التعبير عن
النفس والحاجات

زيادة الطلاقة
اللغوية عند الأفراد

تقليل الثقة بالنفس

السؤال الرابع : اجيب بـ (نعم) امام أسس الحوار و (لا) امام العبارات التي لا تعبر عن أسس الحوار :

1. () الاصغاء والاستماع.

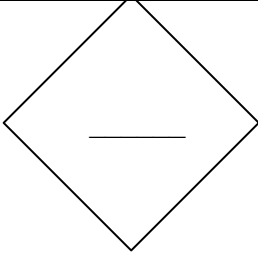
2. () عدم وضوح الفكرة.

3. () عدم التحيز للرأي .

4. () المقاطعة أثناء الحديث .

5. () قبول أفكار الآخر.

المعلمة : أميرة عيال سلمان

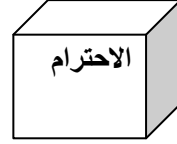
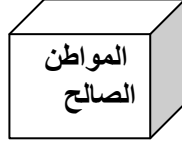


المدرسة

درس : (2) الاحترام
الصف الرابع : الشعبة ()

الاسم :

السؤال الأول : أختار من بنك الكلمات المفهوم المناسب لكل من الآتي ؟



- 1 هو خلق انساني يعبر عن تقديرك لذاتك ، والتعامل مع كل ما حولك بتقدير واهتمام وعناية.
- 2 هو خلق يدعو الى تقدير قيمة الآخرين بإظهار الاهتمام بهم ، وعدم الإساءة اليهم .
- 3 هو الذي يحترم الآخرين ويؤدي واجباته تجاه وطنه .

السؤال الثاني : واحدة من العبارات الآتية لا تدل على أهمية الاحترام : ارسم دائرة حولها .

- أ- نشر المحبة والمودة بين الناس .
- ب- تقوية العلاقات والروابط في المجتمع .
- ج- التقليل من الاهتمام بالآخرين
- د - الابتعاد عن السلوكيات العدائية بين الأفراد .

السؤال الثالث : استنتج من الشكل المجاور ثلاثا من أشكال الاحترام ؟

تعدد أشكال الاحترام وتنوعه ، ويميز معرفه بعضها عن طريق تامل الصور والبطاقات الآتية .

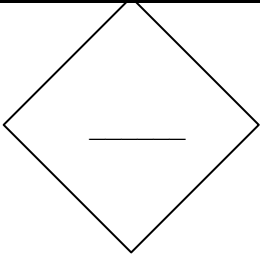


- 1
- 2
- 3

السؤال الرابع : اصل بخط بين مظاهر الاحترام الآتية ومكانها ؟

- احترم والدي .
 - احترم العاملين جميعهم في مدرستي .
 - أتعامل مع الجميع بكل لطف ومودة .
 - ألتزم بما يطلبانه .
 - أحافظ على البيئة المدرسية .
 - احترم عادات وتقاليد مجتمعي .
- في البيت
- في المدرسة
- في المجتمع

المعلمة : أميرة عيال سلمان



المدرسة

درس : الحقيقة والرأي
الصف الرابع : الشعبة ()

الاسم :

السؤال الاول : اكتب (الحقيقة) امام العبارات التي تناسب الحقيقة و (الرأي) امام العبارات التي تناسب الرأي ؟

1. هي معلومات أو أحداث ثابتة لا تتغير ، جرى اثبات صحتها والتأكد من دقتها بالعلم
2. يعبر عما يفكر به الشخص أو يشعر به تجاه موضوع وقد يكون صحيحا أو غير صحيح
3. مثبتة علميا . لا يختلف عليها أحد
4. نختلف عليه حسب شعورنا وفكرنا وخبراتنا
5. حقيقة دوران الارض حول الشمس
6. اللون الازرق اجمل الالوان
7. نستعمل كلمات مثل أحب ، أفضل ، أرى ، أظن

السؤال الثاني : أصنف الصور الآتية الى (حقيقة) أو (رأي) ؟



البحر الميت أخفض بقعة عن مستوى سطح البحر.

(_____)



فصل الشتاء أجمل فصول السنة.

(_____)



الشمس أكبر من الأرض.

(_____)



التعلم الإلكتروني أكثر متعة من التعلم التقليدي.

(_____)



لعبة كرة القدم لعبة للبين فقط.

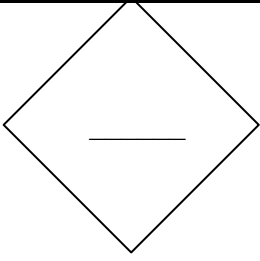
(_____)



قيادة الدراجة أصعب من قيادة السيارة.

(_____)

المعلمة : أميرة عيال سلمان



المدرسة

درس : الحقوق والواجبات والمسؤوليات
الصف الرابع : الشعبة ()

الاسم :

السؤال الأول : أضع المفهوم المناسب في كل مما يلي ؟

الواجبات المسؤوليات الحقوق

1. هي التي يتمتع بها كل انسان بوصفه انسانا ، دون تمييز أو تفرقة بسبب اللون أو الجنس أو العرق أو الدين أو اللغة .
- 2 هي التزام أخلاقي نلتزم به تجاه الآخرين .
- 3 مهام تختص بكل منا ، يجب علينا انجازها على أكمل وجه.

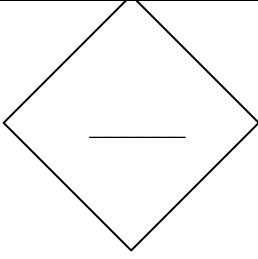
السؤال الثاني : أعدد ثلاثا من حقوق الإنسان ؟

1. _____
2. _____
3. _____

السؤال الثالث : اصنف الواجبات الآتية الى واجبات تجاه الاسرة أو المدرسة أو الوطن في الجدول الآتي ؟

الواجب	الاسرة	المدرسة	الوطن
بر الوالدين			
الالتزام بالأنظمة والقوانين			
احترام النظام المدرسي ، والالتزام بالتعليمات			
احترام عادات المجتمع وتقاليده			
المشاركة في الاعمال المنزلية			
الحفاظ على نظافة المدرسة ومرافقها			

المعلمة : أميرة عيال سلمان



المدرسة

درس : المشاركة المجتمعية والعمل التطوعي
الصف الرابع : الشعبة ()

الاسم :

السؤال الأول : أضع المفهوم المناسب في كل مما يلي ؟

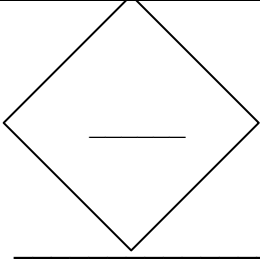
العمل التطوعي المشاركة المجتمعية

1. هي اسهامات الأفراد الايجابية والتطوعية في مجتمعهم ، عبر تنفيذهم أنشطة ومبادرات لخدمة مجتمعهم وتنمية تكافله وتعزيزه .
2. هو العمل او الجهد الذي يقدم دون مقابل ، بدافع اخلاقي تجاه الوطن والمجتمع.

السؤال الثاني : اختار رمز الاجابة الصحيحة في كل من الآتي ؟

1. يطلق على العمل الذي يكون دون مقابل :
أ - العمل الاجتماعي ب- العمل التطوعي ج- العمل السياسي
2. كل ما يلي من ايجابيات العمل التطوعي ما عدا :
أ- تأكيد الثقة بالنفس ب- نشر الخير في المجتمع ج- كسب المال
3. تعد المشاركة في حملات التوعية البيئية وترشيد الاستهلاك ، مثال على المشاركة في المجال :
أ-المجال البيئي ب- المجال الاجتماعي ج- المجال الصحي
- 4.تعد المشاركة في مبادرات الحفاظ على اللغة العربية وزيارة معارض الكتب وتشجيع القراءة . مثال على المجال .
أ-المجال الاجتماعي ب- المجال الثقافي ج- المجال الاعلامي
5. تقديم المساعدة للطلبة ذوي الإعاقة من صور ؟
أ- العمل التطوعي ب- العمل الرسمي ج- العمل الاجباري
6. كل ما يلي من قيم العمل التطوعي ما عدا :
أ- انتماء ، تعاون ب- كراهية وحقد ج- محبة ، عطاء

المعلمة : أميرة عيال سلمان



المدرسة

درس : المجموعة الشمسية
الصف الرابع : الشعبة ()

الاسم _____

السؤال الأول : أضع المفهوم المناسب في كل من الآتي :

- 1 _____ يدور حولها عدد كبير من الكواكب ومنها كوكب الارض .
- 2 _____ النظام الذي يتكون من نجم الشمس أكبر الاجرام السماوية ، وتدور حوله ثمانية كواكب معتمدة تستمد الضوء من الشمس ، ومن ضمنها كوكب الارض .
- 3 _____ جسم مضيء بذاته ، درجة حرارته مرتفعة جدا .
- 4 _____ جسم معتم يستمد الضوء والطاقة من النجم .
- 5 _____ تستمد الضوء والطاقة من الشمس ، وهي الكوكب الوحيد الذي تعيش عليه الكائنات الحية .
- 6 _____ يدور حول الارض ، ويستمد الضوء والحرارة من الشمس ، ويتغير شكله على مدار الشهر حسب موقعه من الارض .

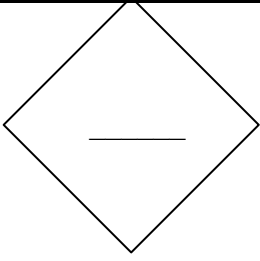
السؤال الثاني : أكمل الفراغ في كل من الآتي ؟

- 1- كم عدد كواكب المجموعة الشمسية _____
2. يدور حول الأرض ، هو _____
- 3 . اقرب الكواكب الى الشمس ، هو _____
- 4 . أبعد الكواكب عن الشمس ، هو _____
- 5 . ترتيب كوكبنا الارض بالنسبة الى الشمس ، هو _____
- 6 . الكوكب الذي تحيط به حلقات ، هو _____
- 7 . أكبر كواكب المجموعة الشمسية ، هو _____

السؤال الثالث : أكمل المعلومة الآتية على نحو صحيح :

- تدور الأرض حول ويدور القمر حول تستمد الأرض والقمر الضوء والحرارة من يتغير شكله بتغير موقعه ، هو

المعلمة : أميرة عيال سلمان _____



المدرسة

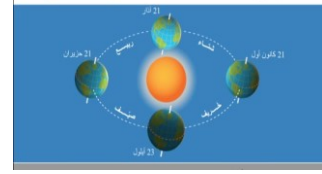
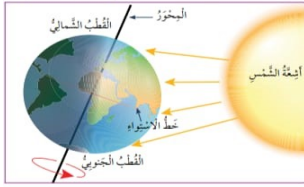
درس : حركة الأرض
الصف الرابع : الشعبة ()

الاسم :

السؤال الأول : أكمل الفراغ بما هو مناسب ؟

1. تتحرك الأرض حركتان هما ؟ الحركة و الحركة
2. دوران الأرض حول محورها (نفسها) بعكس عقارب الساعة ، الحركة :
3. دوران الأرض حول الشمس الحركة :
5. تدور الأرض حول الشمس مرة كل (.....) يوما و(.....) ساعات .
6. تدور الأرض حول نفسها مرة كل
7. ينتج عن دوران الأرض حول نفسها
8. ينتج عن دوران الأرض حول الشمس

السؤال الثاني : أكتب اسفل الصورة المعلومة المناسبة لها ؟



دوران الأرض

دوران الأرض

السؤال الثالث : اكتب بداية كل فصل من الفصول الأربعة ؟

1. بداية فصل الشتاء :
2. بداية فصل الربيع :
3. بداية فصل الصيف :
4. بداية فصل الخريف :

السؤال الرابع : اجيب بما هو مناسب عن الأسئلة الآتية :

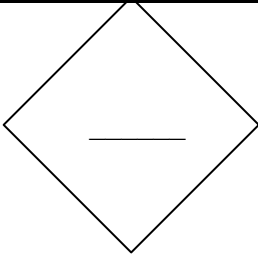
1. السنة التي يضاف لها يوم واحد كل اربع سنوات في التقويم الميلادي، السنة

ي ك ا ب س ل ة

2. (365) يوما و (6) ساعات هي عدد أيام السنة : أ. العادية _ ام _ ب. الكبيسة

3. (366) يوما هي عدد ايام السنة : أ. العادية _ ام _ ب. الكبيسة

المعلمة : أميرة عيال سلمان



المدرسة

درس : المناطق الحرارية
الصف الرابع : الشعبة ()

الاسم :

السؤال الأول : اختر من صندوق الاجابات الاجابة المناسبة وكتبها في الفراغ ؟

الحارة شكل الأرض الكروي خط الاستواء
اقل حرارة المنطقة الحرارية

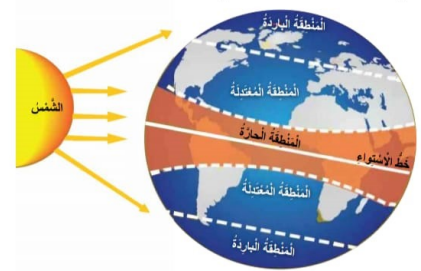
1. منطقة ناتجة عن اختلاف كمية الاشعاع الشمسي التي تصل الى سطح الأرض - المنطقة
2. خط وهمي يقسم الكرة الارضية الى قسمين شمالي وجنوبي - هو
3. المناطق التي تسقط عليها اشعة الشمس بصورة عمودية تكون
4. المناطق التي تسقط عليها اشعة الشمس بصورة مائلة شمالا وجنوبا تكون
5. تختلف كمية الاشعاع الشمسي الذي يصل الى الأرض - بسبب :

السؤال الثاني : اصل المناطق الحرارية الآتية بموقعها على الارض ؟

- المنطقة المعتدلة

- المنطقة الحارة

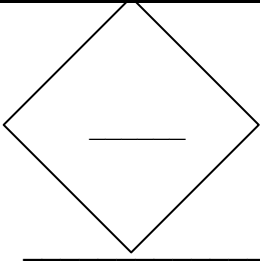
- المنطقة الباردة



السؤال الثالث : اجيب بـ (نعم) أو (لا) ؟

1. () تتوزع اشعة الشمس بصورة متساوية على سطح الأرض .
2. () أدى تنوع المناطق الحرارية الى تنوع الانتاج الزراعي ، وتنوع النباتات الطبيعية والحيوانات .
3. () تمتاز المناطق المجاورة لخط الاستواء بانخفاض درجة الحرارة .

المعلمة : أميرة عيال سلمان



المدرسة

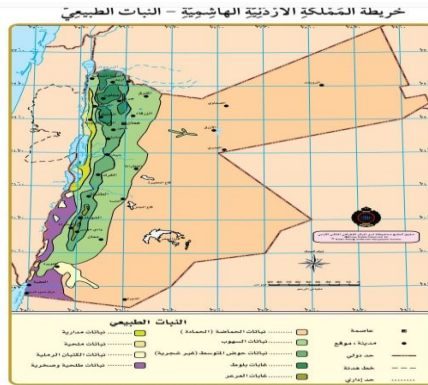
درس : الخريطة وعناصرها
الصف الرابع : الشعبة ()

الاسم _____

السؤال الأول : اكتب المفهوم المناسب امام كل عبارة من العبارات الآتية :

- 1..... رسم مصغر لسطح الأرض أو لجزء منه ، ويمكن أن يكون هذا الرسم لإحدى الظواهر الطبيعية أو البشرية أو للاثنتين معا .
- 2..... أداة تستعمل لتحديد الاتجاهات بالاعتماد على القطبين المغناطيسيين للأرض .
- 3..... يحيط بالخريطة من الخارج ، ويحدد المنطقة الجغرافية التي تمثلها الخريطة .
- 4..... يبين محتوى الخريطة ويدل على الفكرة الرئيسية منها .
- 5..... شكل هندسي يوضع في احد جوانب الخريطة، وتكمن مهمته الرئيسية في توضيح ما تعنيه هذه الألوان والرموز
- 6..... شكل يبين الاتجاهات الاربعة على الخريطة .

السؤال الثاني : أصل عناصر الخريطة الآتية بالخريطة المجاورة .

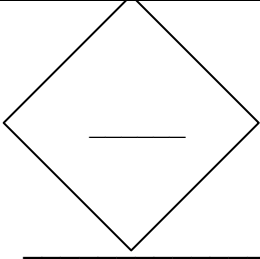


- 1- إطار الخريطة
- 2- عنوان الخريطة
- 3- مفتاح الخريطة
- 4- مؤشر الاتجاهات

السؤال الثالث : أكتب إشارة (√) امام المعلومة الصحيحة و (X) امام المعلومة الخاطئة .

1. الادريسي : () عالم عربي مسلم .
() مؤسس علم الجغرافيا .
() عالم فيزياء .
() رسم أول خريطة للكرة الأرضية في العالم ، على شكل كروي .
2. أهمية الخرائط في حياتنا : () تساعدنا على تحديد الموقع .
() تساعدنا على تطوير الصناعة .
() تساعدنا على تسهيل الملاحة الجوية والبحرية .
() معرفة التضاريس والظواهر الجغرافية والطبيعية والبشرية .

أميرة عيال سلمان



المدرسة

درس : انواع الخرائط
الصف الرابع : الشعبة ()

الاسم _____

السؤال الأول : اختار من بنك المفاهيم المفهوم المناسب في كل من الآتي .

الخريطة الطبيعية ، الحدود ، الأطلس ، الخريطة السياسية

1. هو كتاب يحتوي على مجموعة خرائط جغرافية عن الأرض أو منطقة محددة من الأرض مرتبطة بموضوع محدد .
2. خريطة تمثل الدول والحدود المرسومة بينها .
3. خريطة تمثل الظواهر الطبيعية كالجبال والسهول والهضاب والأنهار وغيرها .
4. خطوط وهمية ، تفصل بين الدول على الخريطة .

السؤال الثاني : أصل بخط بين الالوان الآتية ودلائنها على الخريطة .

- الأخضر
- الأزرق
- الاصفر
- البني
- يدل على المرتفعات الجبلية .
- يدل على الهضاب .
- يدل على المناطق السهلية .
- يدل على المسطحات المائية .

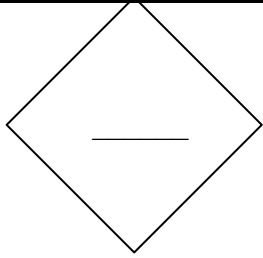
السؤال الثالث : أكمل الفراغ في كل من الآتي .

1. تقسم الخرائط الى نوعان هما الخريطة والخريطة
2. الخريطة التي تستعمل فيها الألوان (البني ، الاخضر ، الازرق ، الاصفر) ، الخريطة

السؤال الرابع : احدد انواع الخرائط الآتية بوضع اشارة (√) امام النوع المناسب للشكل .



- خريطة الأردن السياسية ()
خريطة الأردن الطبيعية ()
خريطة الأردن السياسية ()
خريطة الأردن الطبيعية ()



السؤال الأول : أكمل الفراغ بما هو مناسب في كل من الآتي .

أ. دول بلاد الشام الأربع ، هي 1.....2.....3.....4.....

السؤال الثاني : اضع اشارة (√) امام المعلومة الصحيحة و (×) امام المعلومة الخاطئة .

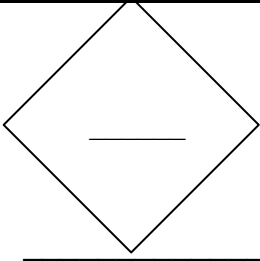
1. تقع بلاد الشام والعراق : () شرق قارة آسيا .
() غرب قارة آسيا .

2. تسمى قارة (آسيا وافريقيا وأوروبا) بـ () قارات العالم الجديد .
() قارات العالم القديم .

3. تسمى (الأردن وسورية ولبنان وفلسطين) بـ () دول بلاد العرب .
() دول بلاد الشام .

السؤال الثالث : أملأ الجدول الآتي بما هو مناسب .

الدولة	العاصمة	اسم الحضارة	اللون علم الدولة
المملكة الأردنية الهاشمية			
دولة فلسطين			
الجمهورية العراقية			
الجمهورية العربية السورية			
الجمهورية اللبنانية			



المدرسة

درس : شبه الجزيرة العربية
الصف الرابع : الشعبة ()

الاسم

السؤال الأول : اختار الاجابة الصحيحة من بنك الاجابات .

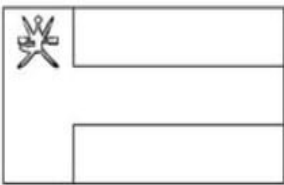
الجزيرة / لأن المياه تحيط بها من ثلاث جهات / / السعودية / شبه الجزيرة العربية

1. سبب تسمية شبه الجزيرة العربية هذا الاسم ؟
2. تحيط بها المياه من الجهات الأربع.....
3. تحيط بها المياه من ثلاث جهات
4. الدولة التي تحتل المساحة الأكبر من شبه الجزيرة العربية

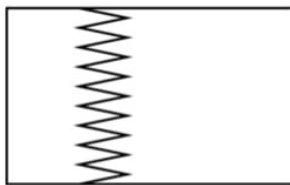
السؤال الثاني : أملأ الجدول الآتي بما هو مناسب .

اسم الدولة	المملكة العربية السعودية	الجمهورية اليمنية	سلطنة عمان	دولة الامارات العربية المتحدة	دولة قطر	مملكة البحرين	دولة الكويت
العاصمة							

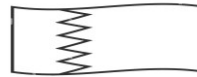
السؤال الثالث : اللون اعلام الدول العربية الآتية




سلطنة عمان



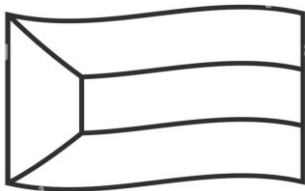
دولة قطر



مملكة البحرين



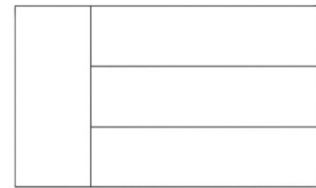
السعودية



الكويت



اليمن



الأمارات

المعلمة : أميرة عيال سلمان