

أوراق عمل دراسات اجتماعية الصف الخامس الفصل الثاني

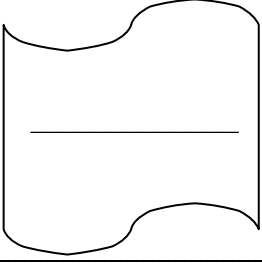
المنهاج الاردني

اعداد

أميرة عيال سلمان السعودي

الخامس

الفصل الثاني



المدرسة.....

درس : الثورة العربية الكبرى
الصف الخامس : الشعبة ()

الاسم _____

السؤال الأول اختر من بنك المفاهيم المفهوم المناسب

الانتداب ، الحكم ، سايكس بيكو

1. اتفقت بريطانيا مع فرنسا سرا على تقسيم البلاد العربية بموجب اتفاقية سرية عرفت باسم (.....).
2. شكل من أشكال الاستعمار ، اذ تفرض دولة قوية سيطرتها على دولة ضعيفة (.....).

السؤال الثاني : اختر رمز الاجابة الصحيحة في كل من الآتي .

1. اعلن قيام الثورة العربية الكبرى من مكة المكرمة في ؟

أ- العاشر من حزيران عام 1916 م ب- 2022 م ج- 1955 م د- 1812 م

2. انطلقت جيوش الثورة العربية الكبرى من ؟

أ- اليمن ب- فطر ج- مكة المكرمة د- المدينة المنورة

3. الراية التي حملتها قوات الثورة العربية الكبرى ؟

أ- راية الأردن ب- راية العرب ج- راية السعودية د- راية الثورة العربية الكبرى

السؤال الثالث : اختر الاجابة المناسبة بوضع اشارة (v) .

1. من اسباب الثورة العربية الكبرى : () كانت البلاد العربية في آسيا تحت الحكم العثماني .
() كانت البلاد تحت الحكم الفرنسي .

2. سبب اختيار العرب الشريف الحسين بن علي قائدا للثورة العربية الكبرى () أنه متعلم .
() لمكانته الدينية والسياسية

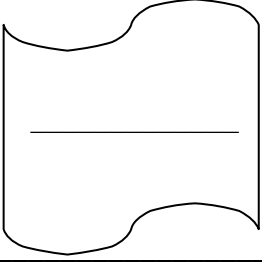
7. ابناء الشريف الحسين الذين قادوا الثورة العربية الكبرى ، هم الامراء : () علي ، عبد الله ، فيصل ، زيد
() علي ، عبد الله ، فيصل

السؤال الرابع : اصنف العبارات الآتية (أهداف) او (نتائج)

- أ- انتهاء الحكم العثماني للبلاد العربية : (أهداف) (نتائج)
- ب- تحرير البلاد العربية ووحدتها : (أهداف) (نتائج)
- ج- تأسيس امارة شرق الاردن : (أهداف) (نتائج)
- د- تأسيس ممالك عربية في الحجاز والعراق وسوريا : (أهداف) (نتائج)
- هـ - تحسين أوضاع العرب الصحية والتعليمية والاقتصادية (أهداف) (نتائج)

السؤال الخامس : اكتب الالوان التي

دلالة اللون	شعار الدولة الاموية	راية العقاب ، وهي راية الرسول ﷺ	الشعار الذي اشتهر به آل البيت	شعار الأسرة الهاشمية
اللون				



المدرسة.....

درس : الدولة الأردنية
الصف الخامس : الشعبة ()

الاسم

السؤال الأول : اختار من بنك الاجابات الاجابة المناسبة .

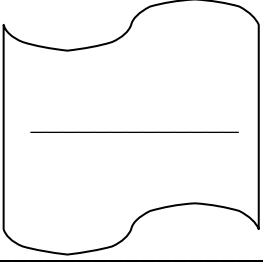
1921م ، القانون الاساسي ، معان ، 25 ايار 1946م ، الاتفاقية الاردنية البريطانية

1. وصل الأمير عبد الله بن الحسين عام 1920م الى
2. نجح الأمير عبد الله بتأسيس امارة شرق الأردن في عام.....
3. الاتفاقية التي وقعها الاردن مع بريطانيا عام 1928م وحصل بموجبها على اعتراف رسمي بتأسيس إمارة شرق الاردن ، هي
4. القانون الذي صدر في عام 1928م ونظم الحياة التشريعية والإدارية في الإمارة
5. اعترفت بريطانيا باستقلال امارة شرق الاردن واعلانها دولة مستقلة بتاريخ

السؤال الثاني : اختار رمز الاجابة الصحيحة في كل من الآتي .

1. استشهد الملك عبد الله الاول على باب المسجد :
أ- الاقصى ب- الحرام ج- النبوي د- لاشيء مما ذكر
2. نودي به ملكا على البلاد بعد ان استشهد الملك عبد الله الاول ، هو :
أ- الملك الحسين بن طلال ب- الملك عبد الله الثاني ج- الحسين بن علي د- الملك طلال بن عبد الله
3. نص الدستور الاردني عام 1952م على ان نظام الحكم :
أ- نيابي ب- نيابي ملكي وراثي ج- ملكي د- وراثي
4. الملك الذي نجح بتعريب الجيش العربي الاردني في 1 آذار 1956م ، هو :
أ- الملك الحسين بن طلال ب- الملك عبد الله الثاني ج- الحسين بن علي د- الملك طلال بن عبد الله
5. منظمة اقليمية تضم حاليا جميع الدول العربية الاثنتين والعشرين .
أ- الامم المتحدة ب- حقوق الانسان ج- جامعة الدول العربية د- الدول العربية

*****المعلمة : أميرة عيال سلمان*****



المدرسة.....

درس : الإنجازات الحضارية للدولة الأردنية

الصف الخامس : الشعبة ()

الاسم _____

السؤال الأول : أكتب اثنين من إنجازات الدولة الاردنية في المجالات الآتية :

1. في مجال التعليم.....

.....

2. في مجال الصحة.....

.....

3. في مجال المواصلات والاتصالات.....

.....

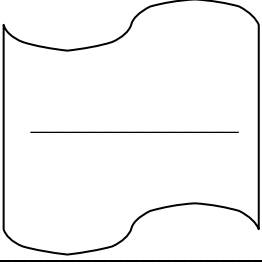
السؤال الثاني : أكمل الفراغ بما هو مناسب في كل من الآتي :

1. أول جامعة تأسست في الاردن ، هي

2. من الأمثلة على المستشفيات الأردنية ، مدينة

3. أول نظام نقل سريع في مدينة عمان ، وهو آمن ومتطور ، الباص

المعلمة : أميرة عيال سلمان



المدرسة.....

درس : مفاهيم اقتصادية
الصف الخامس : الشعبة ()

الاسم

السؤال الأول : اكتب المفهوم المناسب في كل من الآتي :

- 1..... مقدار ما يتوافر من سلعة او خدمة ما .
- 2..... مقدار ما يطلبه المستهلكون من تلك السلعة أو الخدمة .

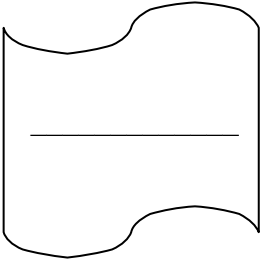
السؤال الثاني أجيب بـ (نعم) أو (لا) امام كل عبارة من العبارات الآتية .

1. () يتغير سعر السلعة إذا تغير العرض او الطلب .
2. () يختلف الطلب على الحقائب المدرسية والقرطاسية في الاجازة الصيفية بالمقارنة مع الطلب عليها عند اقتراب بداية العام الدراسي .
3. () زيادة العرض من سلعة تؤدي الى ارتفاع سعرها .
4. () زيادة الطلب على سلعة يؤدي الى انخفاض سعرها .
5. () كلما زادت الحاجة او الرغبة في منتج معين زاد الطلب عليه.

السؤال الثاني : أصل بخط بين العوامل المؤثرة في العرض والطلب والامثلة عليها .

- السعر :
- يزيد الطلب على شراء الملابس في موسم الاعياد ، كما يرتفع الطلب على اشغال الفنادق في موسم الصيف والعطلات .
- توقيت الطلب على السلع والخدمات :
- كلما ارتفع سعر السلعة قل الطلب عليها الا اذا كانت سلعة اساسية .
- أذواق المستهلكين :
- عندما يزيد مستوى الدخل ، يزداد الطلب على السلع والخدمات .
- مستوى دخل الافراد
- يؤدي تعدد الأذواق وتغيرها الى التغير في الطلب .

المعلمة : أميرة عيال سلمان



المدرسة.....

درس : قطاع التجارة
الصف الخامس : الشعبة ()

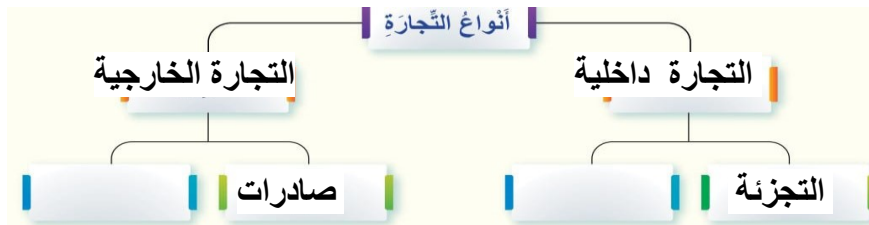
الاسم

السؤال الأول : اختر من بنك المفاهيم المفهوم المناسب واكتبه في الفراغ .

تجارة الجملة، التجارة الإلكترونية ، التجارة ، تجارة التجزئة (المفرق) ،
التجارة الداخلية ، التجارة الخارجية

1. عملية يجري فيها بيع السلع والخدمات وشراؤها ؛ لتحقيق منفعة اقتصادية لكل من طرفي العملية ، البائع والمشتري .
2. هي عملية بيع السلع والخدمات داخل حدود الدولة وشراؤها .
3. هي عملية بيع السلع والخدمات وشراؤها ، خارج حدود الدولة .
4. هي بيع السلع والخدمات بكميات كبيرة الى تجار التجزئة ؛ لغايات بيعها الى المستهلكين.
5. بيع التاجر السلع والخدمات الى المستهلكين مباشرة.
6. نمط التجارة الذي يجري فيه الشراء عبر الانترنت عن طريق التطبيقات الرقمية المختلفة .

2. أكمل المخطط الآتي الذي يبين أنواع التجارة .



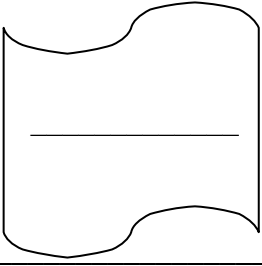
السؤال الثالث : اختر رمز الاجابة الصحيحة في كل من الآتي .

1. ينتج الاردن العديد من المنتجات ويصدرها الى الأسواق الخارجية ، تسمى: أ- الصادرات ب- الواردات
2. شراء السلع والخدمات من دول اخرى لسد حاجات الأسواق المحلية ، وتسمى: أ - الصادرات ب- الواردات

السؤال الرابع : اصنف الآتية الى (صادرات) (واردات)

الأدوية ، المعدات الثقيلة ، والحبوب ، والسيارات، والفاكهة ، والأدوات الكهربائية والإلكترونية ، والأسمدة ، والمنسوجات ، والنفط

	الصادرات
	الواردات



المدرسة.....

درس : قطاع الخدمات
الصف الخامس : الشعبة ()

الاسم _____

السؤال الأول : اختار المفهوم المناسب واكتبه في الفراغ .

الخدمات ، الصناعة ، قطاع الخدمات

- 1.....: النشاط الاقتصادي الذي تقدمه الدولة (القطاع العام) أو القطاع الخاص والمجتمع ؛ لتلبية منافع الناس وحاجاتهم .
- 2.....: قطاع مهم في اقتصاد الدولة ، ينتج عنه منفعة غير ملموسة تلبي حاجات الناس .

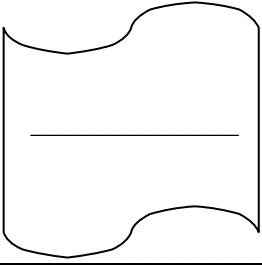
السؤال الثاني : اكمل الشكل الآتي بأنواع الخدمات .



السؤال الثالث : اضع اشارة (√) امام العبارة المناسبة و (×) اما العبارة غير المناسبة .

1. من فوائد قطاع الخدمات : () توفير فرص العمل للمواطنين .
() الاسهام في تحقيق النمو الاقتصادي .
() عدم تلبية حاجات المستهلكين .
2. الآثار الايجابية التي يحققها قطاع الخدمات الصحية: () المحافظة على الاوضاع الصحية لأفراد المجتمع .
() زيادة انتشار الامراض .
() تحسين الرعاية الصحية .
3. فوائد قطاع النقل : () عدم تأمين الوصول الى الاسواق المحلية والدولية .
() تسهيل التنقل للأفراد والبضائع التجارية عبر المدن والدول .
() تنشيط حركة التجارة والزراعة والصناعة .
4. أنواع النقل : () النقل البري
() النقل الرقمي
() النقل البحري
() النقل الجوي

المعلمة : أميرة عيال سلمان



المدرسة.....

درس : الموقع و نظام تحديد الموقع العالمي GPS
الصف الخامس : الشعبة ()

الاسم

السؤال الأول : اكتب المفهوم المناسب الفراغ .

1.....هو الحيز الذي يوجد فيه الانسان على سطح الأرض ، ويتضمن وصفا للموقع والظروف البيئية والخصائص الطبيعية والبشرية له .

2.....: هي انصاف دوائر وهمية متساوية الطول تمتد من القطب الشمالي الى القطب الجنوبي

3.....: هي دوائر وهمية تحيط بالكرة الارضية من الشرق الى الغرب.

السؤال الثاني : اميز بين العبارتين الآتيتين أي منهما تعني (الموقع النسبي الجغرافي) او (الموقع الفلكي) .

● هو تحديد منطقة ما على سطح الارض بالنسبة الى ما يجاورها من مناطق أخرى . (.....)

● هو تحديد نقطة على سطح الكرة الأرضية باستخدام احداثيات خطوط الطول ودوائر العرض (.....)



● الموقع الذي يحدده الشكل المقابل هو موقع الأردن (.....)

السؤال الثالث : اقرن بين خطوط الطول ودوائر العرض من حيث .

دوائر العرض	خطوط الطول
عددها	عددها
الخط الرئيس	الخط الرئيس
ارسمها على الشكل المجاور	ارسمها على الشكل المجاور

السؤال الرابع : أكمل الفراغ بما هو مناسب .

1. خط الطول الرئيس الذي يمر بضاحية غرينتش غرب مدينة لندن ومنها أخذ الاسم ، هو
2. عدد دوائر العرض الرئيسية

السؤال الخامس : اكتشف الاجابة الصحيحة والاجابة الخاطئة من أزواج العبارات الآتية بوضع (√) أو (×)

1. ● تساعد خطوط الطول على حساب اختلاف التوقيت الزمني بين الدول ()
● تساعد دوائر العرض على حساب اختلاف التوقيت الزمني بين الدول ()
2. ● تساعد دوائر العرض على معرفة المناطق الحرارية على سطح الارض ()
● تساعد خطوط الطول على معرفة المناطق الحرارية على سطح الارض ()
3. ● تساعد خطوط الطول فقط على تحديد المواقع على سطح الكرة الارضية ()
● تساعد خطوط الطول ودوائر العرض على تحديد المواقع على سطح الكرة الارضية ()
4. ● دوائر العرض متساوية الطول ()
● دوائر العرض غير متساوية الطول ()
5. ● خطوط الطول متساوية الطول ()
● خطوط الطول غير متساوية الطول ()
6. ● خطوط الطول تمتد من القطب الشمالي الى القطب الجنوبي ()
● خطوط الطول تمتد من القطب الشمالي الى القطب الغربي ()
7. ● دوائر العرض تحيط بالكرة الارضية من الشمال الى الجنوب ()
● دوائر العرض تحيط بالكرة الارضية من الشرق الى الغرب ()

السؤال السادس : اختار اسم التطبيق الآتي :

(نظام تحديد الموقع العالمي GPS)

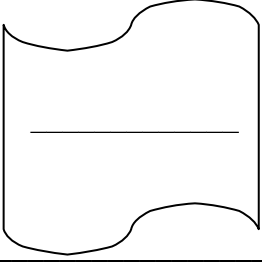


(تطبيق (خرائط جوجل))

السؤال السابع : اعيد ترتيب خطوات استخدام تطبيق (خرائط قوقل) بوضع ارقام من (1 الى 5)

- () أفتح تطبيق (خرائط جوجل) (Google Maps) على الهاتف الذكي .
- () أنقر على أيقونة البدء ، واتبع المسار المحدد للوصول متحف الأطفال في عمان .
- () أحدد الموقع المراد الذهاب إليه . مثل الذهاب الى متحف الأطفال في حدائق الحسين في عمان
- () أتصل بشبكة الإنترنت .
- () أحدد نقطة الانطلاق (موقعي)

المعلمة : أميرة عيال سلمان



المدرسة.....

درس : دول وادي النيل والقرن الإفريقي
الصف الخامس : الشعبة ()

الاسم

اختار رمز الاجابة الصحيحة :

1. يقع الوطن العربي على امتداد قارتي :

أ- اوروبا و استراليا ب- اوروبا و اسيا ج- آسيا و إفريقيا

2. يشمل وادي النيل دولتي :

أ- (مصر و السودان) ب- ليبيا و مصر ج- مصر و فلسطين

3. النهر الذي يمر في دولتي (مصر و السودان) ، هو :

أ- نهر الفرات ب- نهر النيل ج- نهر الامازون

4. النهر الأطول في العالم ، هو :

أ- نهر النيل ب- نهر الأردن ج- نهر دجلة

5. يتكون القرن الإفريقي من دولتي :

أ- اليمن و السعودية ب- الصومال و جيبوتي ج- الاردن و لبنان

5. مضيق يصل بين البحر الاحمر والمحيط الهندي :

أ- المضيق الاحمر ب- مضيق هرمز ج- مضيق باب المندب

السؤال الخامس : اكتشف الاجابة الصحيحة والاجابة الخاطئة من أزواج العبارات الآتية بوضع (√) أو (×)

1. ينبع نهر النيل من : () هضبة البحيرات الإفريقية الكبرى
() هضبة البحيرات الإفريقية الصغرى

2. يصب نهر النيل في : () البحر المتوسط
() البحر الأحمر

3. القناة التي تربط بين البحرين المتوسط والأحمر : () قناة بنما
() قناة السويس

4. ممر مائي طبيعي ضيق ، يصل بين مسطحين مائيين : () القناة
() المضيق

5. ممر صناعي حفره الانسان للربط بين مسطحات مائية مختلفة : () القناة
() المضيق



السؤال الثالث: اكتب اسم دولة (مصر) و (السودان) في موقعها على الخريطة :

الشكل (6): خريطة مصر والسودان.

السؤال الرابع : انسب المزايا الآتية الى الدولة التي تمتاز بها :

جيبوتي ، الصومال ، جزر القمر ، السودان ، مصر

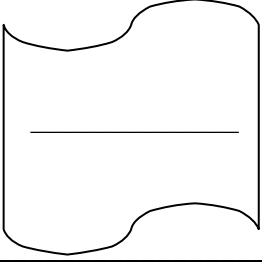
1. ميزتها : أكثر الدول العربية سكانا . تشتهر بـ : إنتاج قصب السكر والأرز والقطن.....
- 2-ميزتها : تربتها الخصبة الصالحة للزراعة ، وتمتلك ثروة حيوانية ضخمة جدا.....
3. من أصغر الدول العربية مساحة . - تمتلك ثروة سمكية وفيرة ، وتتمتع بموقع استراتيجي.....
4. دولة عربية تقع في المحيط الهندي في القرب من الساحل الشرقي لإفريقيا - وآخر الدول العربية التي استقلت عن الاستعمار الفرنسي.....
5. هي الدولة العربية الوحيدة التي يمر بها خط الاستواء.....

السؤال الخامس : اكتب أسماء عواصم الدول العربية الآتية :

● جيبوتي ● الصومال ● جزر القمر ● السودان ● مصر

(.....) (.....) (.....) (.....) (.....)

المعلمة : أميرة عيال سلمان

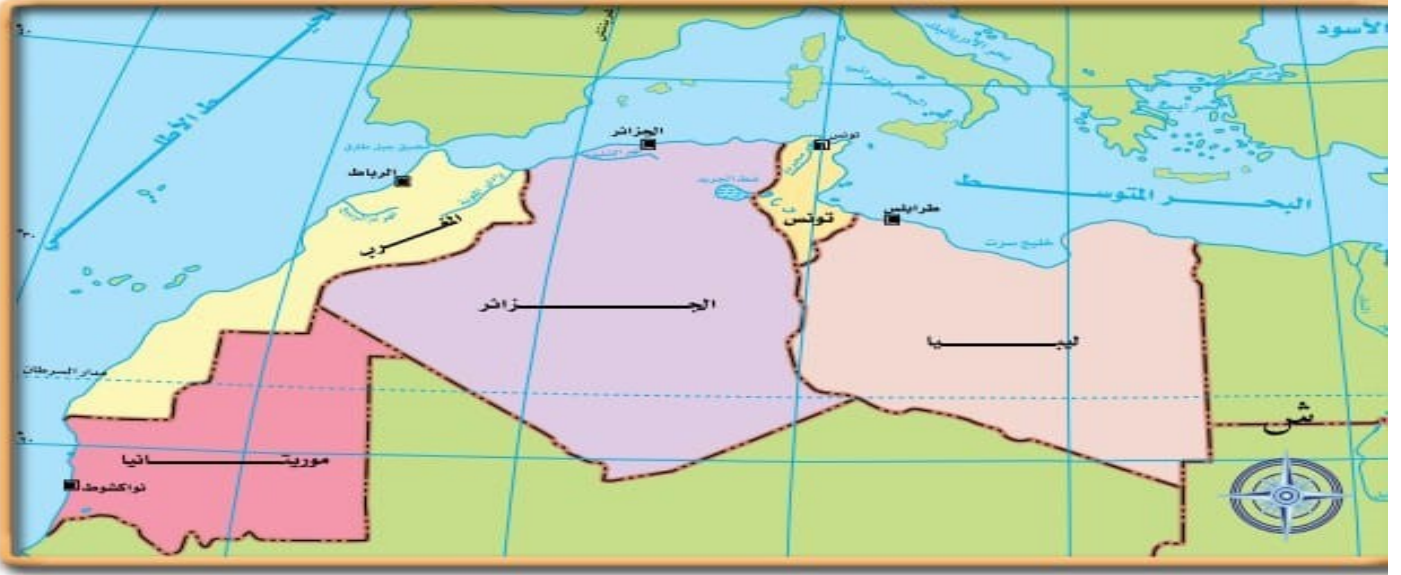


المدرسة.....

درس : دول المغرب العربي
الصف الخامس : الشعبة ()

الاسم _____

1. اكتب اسماء دول المغرب العربي وعواصمها الخمس باستعمال الخريطة الآتية :



الشَّكْل (8): دَوْلُ الْمَغْرِبِ الْعَرَبِيِّ.

1. الدولة :العاصمة.....
2. الدولة :العاصمة.....
3. الدولة :العاصمة.....
4. الدولة :العاصمة.....
5. الدولة :العاصمة.....

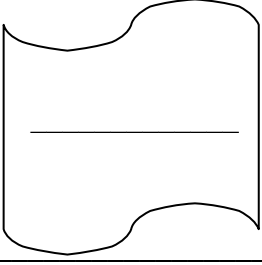
السؤال الثاني : اكتب اسم كل الدولة تحت العلم :



.....

السؤال الثالث : اكمل الفراغ بما هو مناسب :

1. الدولة التي يمر بها خط غرينتش ، هي
2. تقع مدن (فاس) و(الدار البيضاء) و(مراكش) ، في



المدرسة.....

درس : الثقافة
الصف الخامس : الشعبة ()

الاسم _____

السؤال الأول : اختار المفهوم المناسب وكتبه في الفراغ .

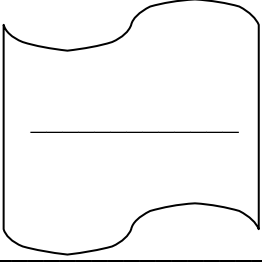
القيم	التاريخ	الدين	الثقافة	العادات والتقاليد	الفنون	اللغة
-------	---------	-------	---------	-------------------	--------	-------

- 1..... عنصر أساسي من ثقافة أي مجتمع ، وتشمل الإنتاج الأدبي من شعر ونثر.
- 2..... مجموعة المعتقدات والتشريعات والقواعد الأخلاقية التي تنظم علاقة الانسان بالخالق عز وجل والكون والإنسان .
- 3..... مجموعة القيم والعادات والتقاليد والمعتقدات والأعراف والأدوات ، التي تعبر عن هوية الفرد والمجتمع .
- 4..... مجموعة المبادئ والمفاهيم التي يسترشد بها الأفراد في سلوكهم ، وتحدد معايير الصواب والخطأ وهي جزء .
- 5..... انماط سلوكية وطقوس اجتماعية تتوارثها الاجيال في أي مجتمع ، وتوفر شعورا بالهوية والانتماء .
- 6..... عنصر أساسي من هوية المجتمع ، ويشكل ذاكرة المجتمع والأفراد ، ويمكننا من معرفة تجارب الحضارات الأخرى .
- 7..... عنصر أساسي من هوية المجتمع ، يمكن الأفراد والمجتمعات من التعبير عن هويتهم الثقافية ، عن طريق الرسم والموسيقى والنحت والمسرح وغيرها .

السؤال الثاني : أكمل الفراغ بما هو مناسب :

1. اللغة الرسمية في مجتمعنا الاردني هي :
2. الدين الرسمي في الأردن بموجب الدستور ، هو :
3. أعدد أمثلة على القيم : ، ،

المعلمة : أميرة عيال سلمان



المدرسة.....

درس : التراث الثقافي الأردني
الصف الخامس : الشعبة ()

الاسم

السؤال الأول : اكتب المفهوم المناسب في الفراغ :

1..... هو كل ما خلفه لنا الآباء والأجداد من قيم وعادات وتقاليد وفنون وآثار .

السؤال الثاني : اصنف عناصر التراث الآتية وفق الجدول :

القطع النقدية / العادات والتقاليد / المخطوطات / الألعاب الشعبية / المواقع السياحية / الأمثال

التراث الثقافي (غير المادي)	التراث الثقافي (المادي)

السؤال الثالث : اختر من الصندوق الاجابة المناسبة .

الألعاب الشعبية التقليدية	الأمثال	الأهازيج الشعبية	المأكولات الشعبية
المواقع الأثرية	الدبكات الشعبية	الأزياء الشعبية	الحرف التقليدية

- 1 الثياب التراثية التي نرتديها في المناسبات المختلفة
- 2 المنسف ، و المكمورة ، و المسخن ، و المقلوبة ، و المجللة ، و الرشوف
- 3 الحجلة ، و شد الحبل ، و الغماية ، و الزقطة
- 4 نمط من أنماط الفن الشعبي ، يمارس في العرس الأردني والاحتفالات الشعبية والوطنية
- 5 خلفتها الحضارات السابقة على أرض الأردن مثل: البترا ، و قلعة الكرك ، و قلعة عجلون
- 6 الصناعات البسيطة التي تعتمد على المهارات اليدوية من دون استخدام الآلات الحديثة
- 7 جمل صغيرة متوارثة عبر الأجيال ناتجة عن تجربة شعبية
- 8 نوع من النشيد الشعبي الغنائي الذي يردده الناس في مناسبتهم ؛ كالزواج والفرح بالمولود