

أتحقق من فهمي

حل المتباينات بالجمع والطرح

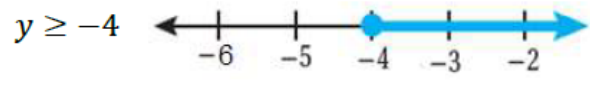
أتحقق من فهمي: صفحة 17

3 $x - 4 < 1$

منهاجي



4 $y - 6 \geq -10$



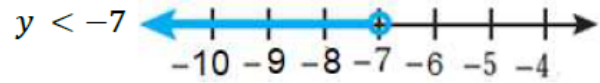
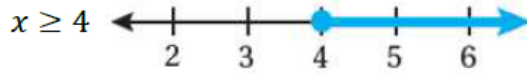
أتحقق من فهمي:

3 $2 + x \geq 6$

منهاجي



4 $5 > y + 12$



أتحقق من فهمي: صفحة 20



سيارات: تريد مَلِكُ شراءِ سيارَةٍ لا يقلُّ ثمنُها عنَ JD 15000، وقد وُفِّرَتْ
JD 13500، كم المبلغ المتبقي عليها لشراءِ السيارة؟

$x \leq 1500$