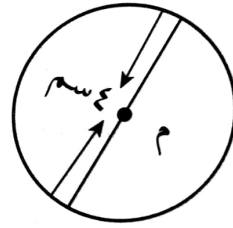
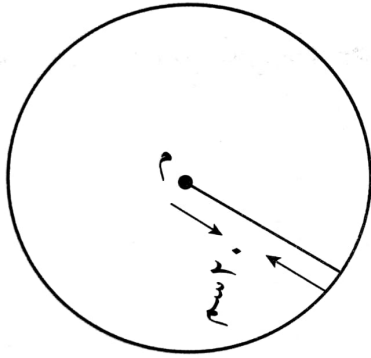


إجابات أسئلة تدريبات الدرس

مساحة الدائرة

تدريب (1) صفحة (79):

جد مساحة كلٍّ من الدوائر الآتية:



الحل:

الدائرة اليسرى:

مساحة الدائرة = نق^٢ π

$$= (20)^2 \times 3,14$$

$$\approx 1256 \text{ سم}^2$$

الدائرة اليمنى:

مساحة الدائرة = نق^٢ π

$$= (2)^2 \times 3,14$$

$$\approx 12,56 \text{ سم}^2$$

تدريب (2) صفحة (79):

دائرة محيطها 44 سم، احسب مساحتها.

الحل:

مساحة الدائرة = نق^٢ π

$$22 \times 7 \approx \frac{22}{7} \times (7)^2 \approx$$

$$\approx 154 \text{ سم}^2$$


محيط الدائرة = ٢ نق π

$$44 = 2 \times \frac{22}{7} \times \text{نق}$$

$$\text{نق} \approx 7 \text{ سم}$$

تدريب (3) صفحة (80):

إذا كان قطر الدائرة التي تقع في منتصف ملعب كرة القدم يساوي 9 أمتار تقريبًا، جد مساحتها بدلالة π



الحل:

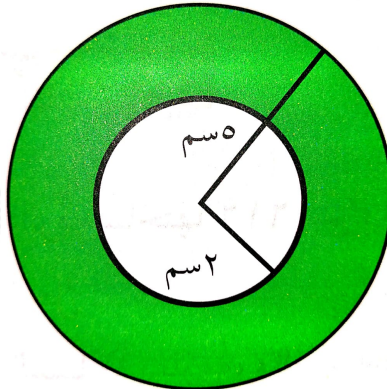
مساحة الدائرة = πr^2

$$\pi \times (4,5)^2 =$$

$$= 20,25 \pi \text{ م}^2$$

تدريب (4) صفحة (80):

الشكل الآتي يمثل دائرتين متحدتين بالمركز، نصف قطر الأولى 2 سم، ونصف قطر الثانية 5 سم، جد مساحة المنطقة المظللة باللون الأخضر.



الحل:

مساحة الدائرة الكبرى = $\pi \times ٥^2$

$$\pi \times (٥)^2 =$$

$$= ٢٥ \pi \text{ سم}^2.$$

مساحة الدائرة الصغرى = $\pi \times ٢^2$

$$\pi \times (٢)^2 =$$

$$= ٤ \pi \text{ سم}^2.$$

مساحة المنطقة المظللة = $\pi \times ٥^2 - \pi \times ٢^2$

$$= \pi \times ٢١$$

$$\approx \frac{٢٢}{٧} \times ٢١$$

$$\approx ٦٦ \text{ سم}^2.$$