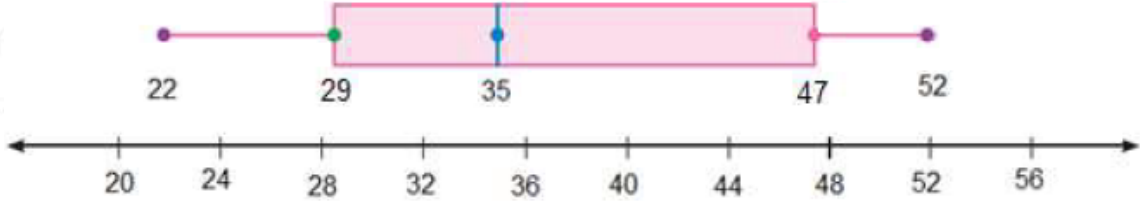


أتحقق من فهمي: ✓

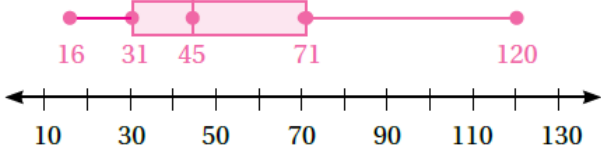
أستعمل الصندوق ذا العارضتين لتمثيل البيانات الآتية التي تمثل أعمار المعلمين في إحدى المدارس:

30, 52, 26, 35, 45, 22, 49, 32, 28, 50, 42, 35



أتحقق من فهمي: صفحة 149 ✓

ساعات: يبين تمثيل الصندوق ذي العارضتين المجاور أسعار الساعات في أحد المحال.



4 أصف توزيع البيانات.

5 أجد المدى الربيعي للبيانات.

6 هل البيانات أكثر تشتتاً أسفل الربع الأدنى أم فوق الربع الأعلى؟ أبرر إجابتي.

4 أصف توزيع البيانات. 104 16

31 71 31

120 71

5 أجد المدى الربيعي للبيانات. 40

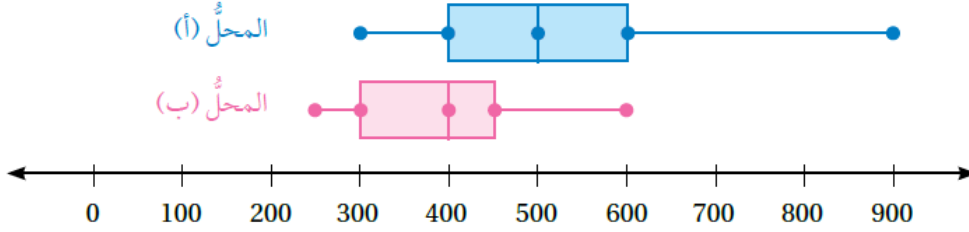
40

6 هل البيانات أكثر تشتتاً أسفل الربع الأدنى أم فوق الربع الأعلى؟ أبرر إجابتي.

أتحقق من فهمي:



هواتف: يبين تمثيل الصندوق ذي العارضتين المزدوج أدناه أسعار الهواتف النقالة في المحلّين (أ) و (ب):



3 أيّ المحلّين أسعار الهواتف فيه أكثر تشتتاً؟ أبرّر إجابتي.

4 أيّ المحلّين أسعار الهواتف فيه أعلى؟ أبرّر إجابتي.

3 أيّ المحلّين أسعار الهواتف فيه أكثر تشتتاً؟ أبرّر إجابتي. المحلّ (أ) المحلّ (ب) لا أستطيع الإجابة. لا أعرف.

4 أيّ المحلّين أسعار الهواتف فيه أعلى؟ أبرّر إجابتي. المحلّ (أ) المحلّ (ب) لا أستطيع الإجابة. لا أعرف.