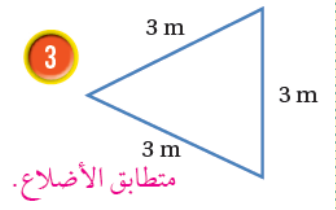
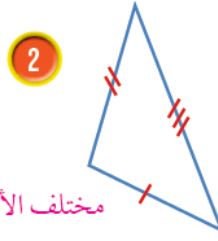
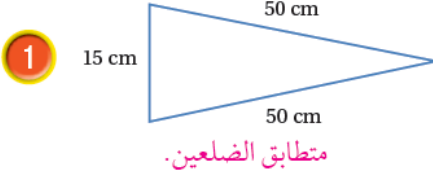


أتحقق من فهمي

تصنيف المثلثات حسب أطوال أضلاعها

أَتَحَقَّقُ مِنْ فَهْمِي: أُصَنِّفُ كُلًّا مِنَ الْمُثَلَّثَاتِ الْآتِيَةِ حَسَبَ أَطْوَالِ أَضْلَاعِهَا، وَأُبَرِّرُ إِجَابَتِي:



أَتَحَقَّقُ مِنْ فَهْمِي:



منهاجي

الشَّكْلُ الْمُجَاوِرُ هَرَمٌ طَوَّلُ كُلِّ حَافَّةٍ فِيهِ يُسَاوِي 17 cm

أُصَنِّفُ الْمُثَلَّثَ الْأَمَامِيَّ فِي الْهَرَمِ وَفَقًّا لِأَطْوَالِ أَضْلَاعِهِ. متطابق الأضلاع.