

## أتحقق من فهمي

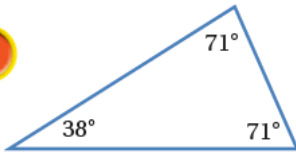
### تصنيف المثلثات حسب قياسات زواياها

#### أَتَحَقَّقُ مِنْ فَهْمِي:



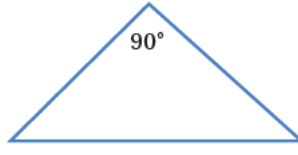
أَصْنَفُ كُلًّا مِنَ الْمُثَلَّثَاتِ الْآتِيَةِ حَسَبَ قِيَاسَاتِ زَوَايَاهَا، وَأُبَرِّرُ إِجَابَتِي:

1



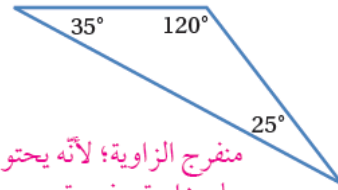
حاد الزوايا؛ لأن زواياها جميعها حادة.

2



قائم الزاوية؛ لأنه يحتوي على زاوية قائمة.

3



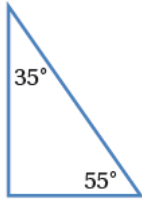
منفرج الزاوية؛ لأنه يحتوي على زاوية منفرجة.

#### أَتَحَقَّقُ مِنْ فَهْمِي:



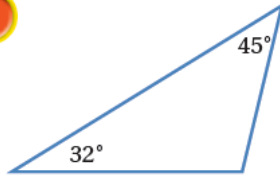
أَصْنَفُ كُلًّا مِنَ الْمُثَلَّثَاتِ الْآتِيَةِ حَسَبَ قِيَاسَاتِ زَوَايَاهَا، وَأُبَرِّرُ إِجَابَتِي:

1



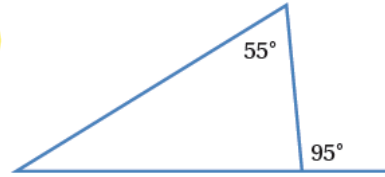
قائم الزاوية.

2



منفرج الزاوية.

3



حاد الزوايا.