

## إجابات كتاب التمارين

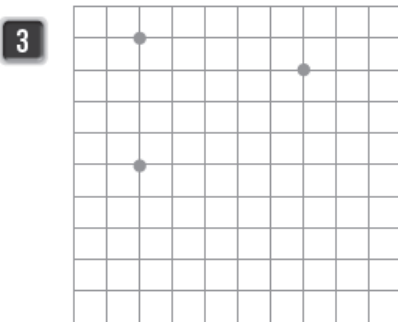
### الأشكال الرباعية

1 أصنّف الأشكال الرباعية الآتية حسب أضلاعها وزواياها:

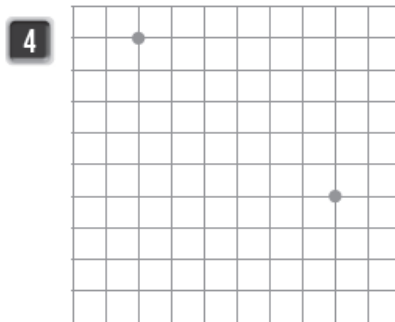
الشكل	شكل رباعي	متوازي أضلاع	شبه منحرف
			✓
		✓	
	✓		

2 هل يمكنني رسم شبه منحرف فيه 3 زوايا قائمة؟ أبرّر إجابتي. لا؛ لأنه سيصبح مستطيلاً.

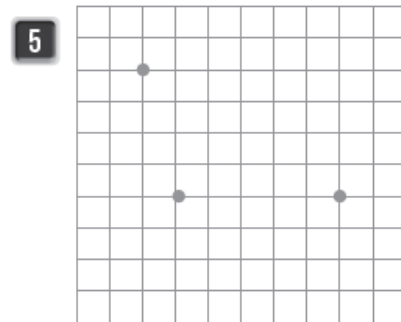
أكمل الرسم باستخدام المسطرة؛ لأحصل على شكل شبه منحرف في كل مما يأتي:



تختلف الرسوم.



تختلف الرسوم.



تختلف الرسوم.