

أتحقق من فهمي


الضرب في 2

أَتَحَقَّقُ مِنْ فَهْمِي



أَكْتُبُ جُمْلَةَ الضَّرْبِ الْمُنَاسِبَةَ:

1




$$\underline{4} \times \underline{2} = \underline{8}$$

2




$$\underline{1} \times \underline{2} = \underline{2}$$

3



$$\underline{2} \times \underline{2} = \underline{4}$$

4



$$\underline{3} \times \underline{2} = \underline{6}$$

أَحُلُّ الْمَسْأَلَةَ



5 رَتَّبَ عَيْسَى حَبَّاتِ بُرْتُقَالٍ فِي 4 مَجْمُوعَاتٍ، وَوَضَعَ فِي كُلِّ مِنْهَا 2 حَبَّةً، كَمْ الْمَجْمُوعُ الْكُلِّيُّ لِعَدَدِ حَبَّاتِ الْبُرْتُقَالِ الَّتِي رَتَّبَهَا عَيْسَى؟

$$4 \times 2 = 20 \quad ; \quad 8 \text{ حبات}$$