

أتحقق من فهمي


الضرب في 4

أَتَحَقَّقُ مِنْ فَهْمِي



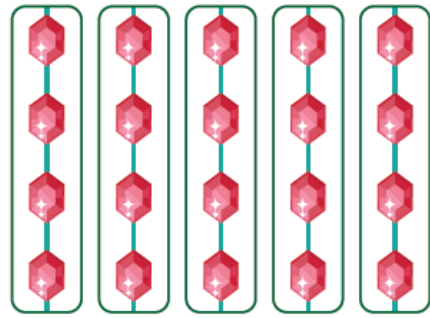
أَكْتُبُ جُمْلَةَ الضَّرْبِ الْمُنَاسِبَةَ:

1



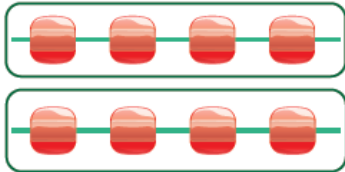
$$\underline{4} \times \underline{4} = \underline{16}$$

2



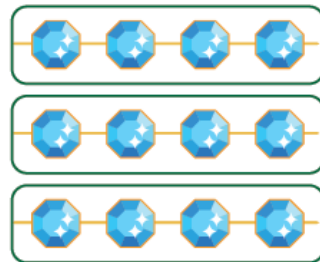
$$\underline{5} \times \underline{4} = \underline{20}$$

3



$$\underline{2} \times \underline{4} = \underline{8}$$

4



$$\underline{3} \times \underline{4} = \underline{12}$$

أَحُلِّ الْمَسْأَلَةَ



لَوْنُ الْعُيُونِ	
▲	أَخْضَرُ
▲ ▲ ▲	أَسْوَدُ
▲ ▲ ▲ ▲	بَيْضٌ

المِفْتَاحُ: كُلُّ ▲ يُمَثِّلُ 4 أَشْخَاصٍ.

5 الحِسُّ الْعَدَدِيُّ: يُبَيِّنُ الشَّكْلُ الْمُجَاوِرَ أَلْوَانَ عُيُونِ

بَعْضِ الطَّلَبَةِ، مَا عَدَدُ الطَّلَبَةِ الَّذِينَ لَوْنُ عُيُونِهِمْ أَسْوَدٌ؟

أَبْرُرُ إِجَابَتِي مُسْتَعِدِّمًا الضَّرْبَ.

$3 \times 4 = 12$; 12 طالب