





أتحقق من فهمي

المتر

أتحقق من فهمي



أَبْحَثُ عَنِ الْأَشْيَاءِ الْآتِيَةِ، ثُمَّ أَقْدِّرُ طَوْلَ كُلِّ مِنْهَا، ثُمَّ أَجِدُ قِيَاسَهُ بِالْأَمْتَارِ:

الشيء	التقدير	القياس
1 	<u>3</u> m	<u>3</u> m
2 	<u>1</u> m	<u>1</u> m
3 	<u>1</u> m	<u>1</u> m
4 	<u>1</u> m	<u>1</u> m

أحل المسألة



5 التبرير: أي الحبلين أطول: حبل طوله 7m أم حبل طوله 7cm؟

أبرر إجابتي؟ الحبل الذي طوله 7 m