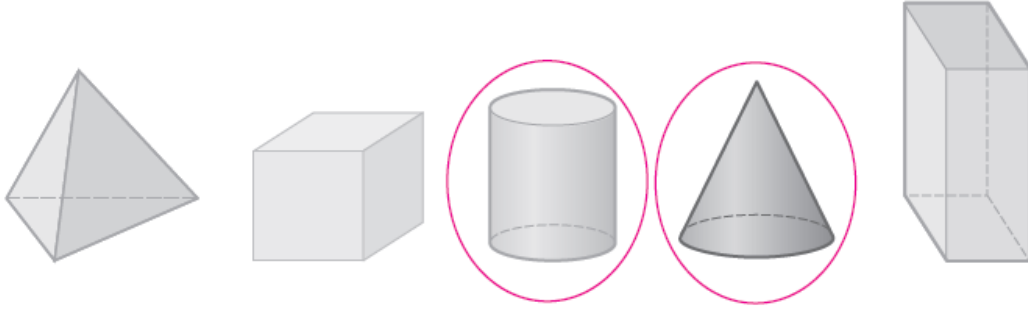


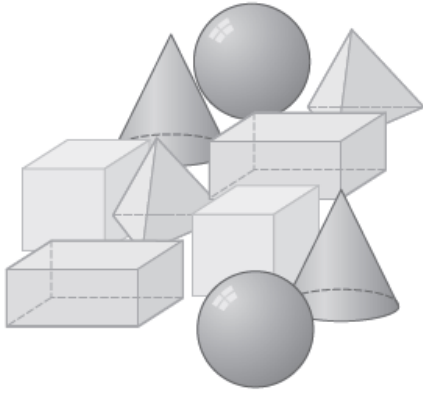
## أسئلة كتاب التمارين

### المجسمات

1 أحوط الأشكال التي لها سطوح منحنيّة:





















2 أكتب أسماء المجسمات التي أراها في الشكل المجاور:



المجسمات هي: كرة، هرم، مخروط، متوازي  
مستطيلات، مكعب.

3 أحوط المجسمات التي تُطابق الوصف:

لها سطوح منحنيّة فقط.						
لها سطوح مستويّة فقط.						
لها سطوح منحنيّة وسطوح مستويّة.						

4 أوضّح الاختلاف بين المكعب ومتوازي المستطيلات. المكعب جميع أوجهه متطابقة.