

## أتحقق من فهمي

### تمثيل الأعداد ضمن منزلتين

أَتَحَقَّقُ مِنْ فَهْمِي



1 أمثل العدد بالتماذج، ثم أكتب الأحاد والعشرات:



عَشْرَاتٍ  
5

أَحَادٍ  
2

منهاجي


أرسم العدد، ثم أكتب الأحاد والعشرات:

2




عَشْرَاتٍ  
3

أَحَادٍ  
1




3



عَشْرَاتٍ  
4

أَحَادٍ  
4



أحل المسألة



4 أكتشف الخطأ: مثلت سلمى العدد 32 بالتماذج كما في الشكل المجاور.

أكتشف الخطأ في حل سلمى، ثم أصححه.

الخطأ أن التمثيل للعدد 23 وليس 32

