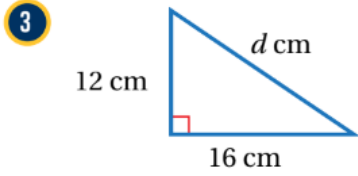


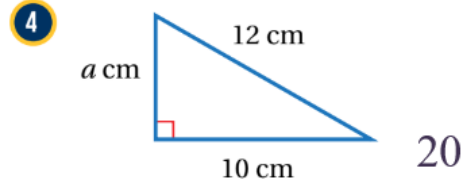
أتحقق من فهمي نظرية فيثاغورس



منهاجي



6.6



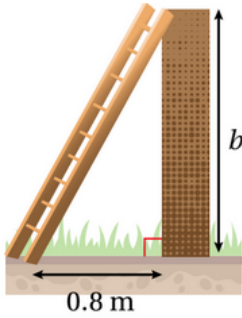
أتحقق من فهمي: صفحة 24



3 12, 5, 13 غير قائم

4 24, 18, 25 قائم

أتحقق من فهمي: صفحة 26



منهاجي



أتحقق من فهمي: صفحة 27



يستند سلم طوله 2 m إلى حائط عمودي، وتبعد قاعدته 0.8 m عن الحائط.
أجد ارتفاع أعلى السلم عن الأرض (b).

1.8