

أتحقق من فهمي الكسور المساوية للواحد

أتحقق من فهمي




منهاجي




أكتب الكسر الذي يمثل عدد الأجزاء الملونة من الكل أو من مجموعة:

1



$$\frac{5}{5} = 1$$

2



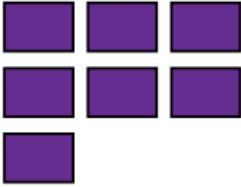
$$\frac{6}{6} = 1$$

$$\frac{5}{5} = 1$$

منهاجي



3



$$\frac{7}{7} = 1$$

4

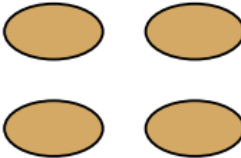


$$\frac{6}{6} = 1$$

منهاجي

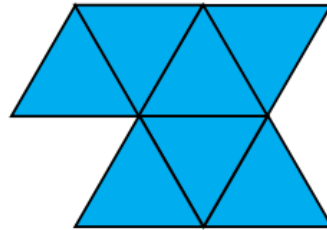


5



$$\frac{4}{4} = 1$$

6



$$\frac{7}{7} = 1$$

منهاجي

