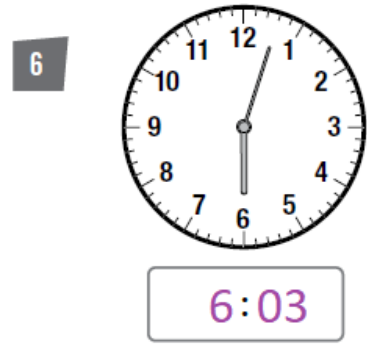
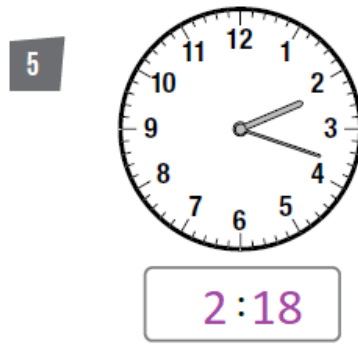
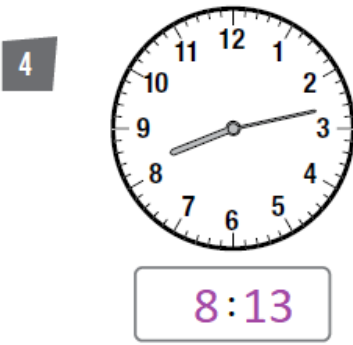
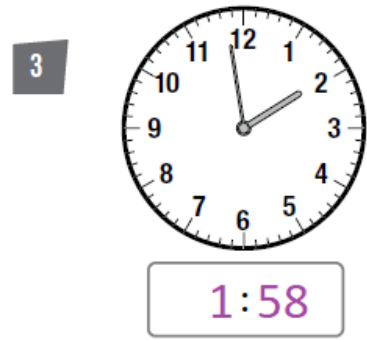
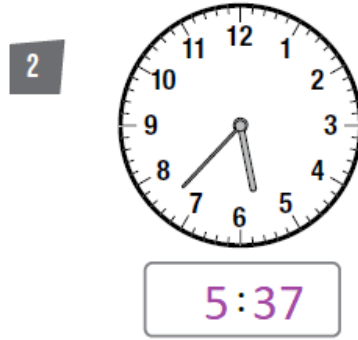
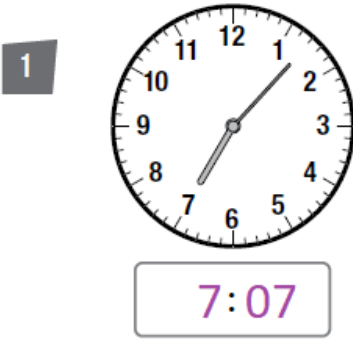


أسئلة كتاب التمارين

الوقت بالدقائق

أقرأ الوقت، ثم أكتبه في الساعة الرقمية:



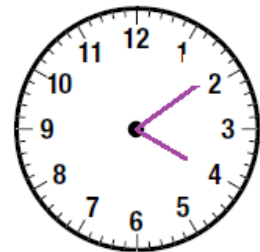
أرسم عقربي الساعة بحسب الوقت المعطى:

8 الحادية عشرة و 48 دقيقة.

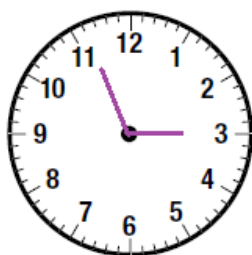


منهاجي

7 الرابعة و 9 دقائق.



10 الثانية و 56 دقيقة.



منهاجي

9 السابعة و 17 دقيقة.

