


## مراجعة الدرس الثاني

1- الفكرة الرئيسة: كيف تنتج الخلية الجلفانية الطاقة الكهربائية؟

2- أوضح المقصود بكل من:

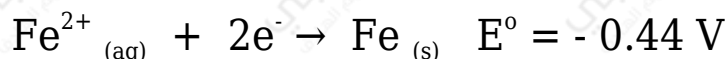
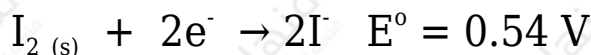
- القنطرة الملحية.
- جهد الاختزال المعياري.

3- خلية جلفانية يحدث فيها التفاعل الآتي:



- أ- أحدد فيها المصعد والمهبط.
- ب- أكتب نصفي تفاعل التأكسد والاختزال.
- ج- أحسب جهد الخلية المعياري، وأكتب تعبيراً رمزياً للخلية الجلفانية.
- د- ما التغير الذي يحدث لكتلة كلا القطبين؟

4- نصف التفاعل الآتيان يشكلان خلية جلفانية في الظروف المعيارية:



أجب عن الأسئلة الآتية المتعلقة بهما:

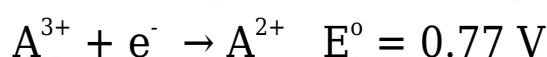
- أ- أكتب معادلة التفاعل الكلي في الخلية.
- ب- أحسب جهد الخلية المعياري.
- ج- ما التغير الذي يحدث لتركيز أيونات كل من  $\text{I}^-$  و  $\text{Fe}^{2+}$ ؟

$E_{\text{Cell}}^{\circ} \text{ (V)}$	المصعد	قطبا الخلية
1.3	D	D-B
1.5	E	E-B
0.4	C	C-E
0.3	B	A-B

5- أدرس الجدول الآتي، الذي يوضح جهد الخلية المعياري لعدد من الخلايا الجلفانية المكونة من الفلزات ذوات الرموز (A,B,C,D,E)، وجميعها تكون أيونات ثنائية موجبة، ثم أجب عن الأسئلة الآتية:

- أ- أحدد الفلز الذي له أعلى جهد اختزال معياري: D أم C .  
 ب- أحدد أقوى عامل مؤكسد.  
 ج- انتبأ: هل يمكن تحريك محلول نترات E بملعقة من A ؟ أفسر إجابتي.  
 د- أحدد اتجاه حركة الإلكترونات عبر الأسلاك في الخلية الجلفانية المكونة من نصف خلية  $E^{2+} | E$  ونصف خلية  $D^{2+} | D$  .  
 هـ- أكتب جهد الخلية المعياري للخلية الجلفانية المكونة من نصف خلية  $C^{2+} | C$  ونصف خلية  $B^{2+} | B$  .

6- فلان أعطيا الرموز الافتراضية A و B ، قيست جهود الاختزال المعيارية لنصفي الاختزال المعياريين المكونين لخلية جلفانية كالآتي:



- أ- أكتب معادلة كيميائية للتفاعل الكلي في الخلية الجلفانية.  
 ب- أكتب  $E^{\circ}$  للتفاعل الكلي.

ج- أحدد العامل المؤكسد والعامل المختزل في التفاعل.

7- أدرس الجدول المجاور الذي يمثل جهود الاختزال المعيارية لبعض المواد، ثم أجب عن الأسئلة الآتية:

المادّة	$E^{\circ}$ (V)
$\text{Co}^{2+}$	-0.28
$\text{Br}_2$	1.07
$\text{Pb}^{2+}$	-0.13
$\text{Ag}^+$	0.80
$\text{Mn}^{2+}$	-1.18
$\text{Cd}^{2+}$	-0.40

أ- أعدد أقوى عامل مؤكسد وأقوى عامل مختزل.

ب- أستنتج: هل يمكن حفظ محلول البروم  $\text{Br}_2$  في وعاء من الفضة؟ أفسر إجابتني.

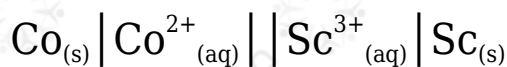
ج- أقرن: ما الفلزين اللذين يكونان خلية جلفانية لها أكبر جهد خلية معياري.

د- أستنتج المادة التي تستطيع أكسدة  $\text{Cd}$  ولا تؤكسد  $\text{Pb}$ .

هـ- أعدد القطب الذي تزداد كتلته في الخلية الجلفانية ( $\text{Cd-Pb}$ ).

و- أعدد الفلز الذي لا يحرر غاز الهيدروجين من محلول حمض  $\text{HCl}$  المخفف.

ز- في الخلية الجلفانية التي أعطيت الرمز الآتي:



إذا علمت أن جهد الخلية المعياري  $E^{\circ}_{\text{cell}} = 1.8 \text{ V}$ ، فأجب عن الأسئلة الآتية:

أ- أعدد اتجاه حركة الإلكترونات عبر الأسلاك في الخلية.

ب- أحسب جهد الاختزال المعياري لقطب السكانيديوم  $\text{Sc}$ .

ج- أكتب معادلة التفاعل الكلي في الخلية.