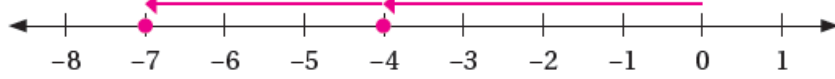


أدرب وأحل المسائل

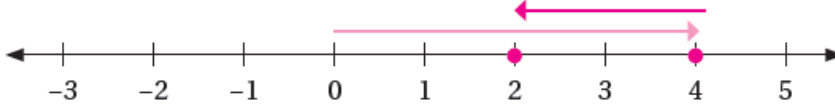
جمع الأعداد الصحيحة

أجدُ نَاتِجَ كُلِّ مِمَّا يَأْتِي، ثُمَّ أَتَحَقَّقُ مِنْ صِحَّةِ الْحَلِّ بِاسْتِعْمَالِ خَطِّ الْأَعْدَادِ:

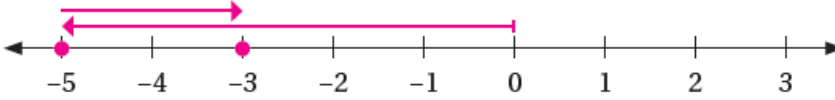
$$(1) -4 + (-3) = -7$$



$$(2) 4 + (-2) = 2$$



$$(3) -5 + 2 = -3$$



أجدُ نَاتِجَ الْجَمْعِ فِي كُلِّ مِمَّا يَأْتِي:

$$(4) -11 + (-12) = -23$$

$$(5) -9 + 30 = 21$$

$$(6) 2 + (-10) = -8$$

$$(7) -32 + 15 = -17$$

$$(8) -23 + (-45) = -68$$

$$(9) 11 + |3| = 14$$

(10) هَوَاتِفُ: سَعَةُ ذَاكِرَةِ الْهَاتِفِ الْمَحْمُولِ لِخَالِدٍ 32 GB، اسْتَعْمَلَ مِنْهَا 10 GB، ثُمَّ 3 GB لتسجيل صُورٍ وَمَقَاطِعِ فِيدِيُو لِأَحَدِي رِحْلَاتِهِ. أَعْبُرْ عَنْ هَاتَيْنِ السَّعَتَيْنِ بِالْأَعْدَادِ

الصَّحِيحة، تُمَّ أَحْسَبُ مَا بَقِيَ مِنْ سَعَةِ ذَاكِرَةِ هَاتِفِهِ.

$$10 + 3 = 13 \text{ GB}$$

$$32 - 13 = 19 \text{ GB}$$