

اختبار نهاية الوحدة

التكامل

أختار رمز الإجابة الصحيحة في كل مما يأتي:

(1) قيمة $\int_0^2 e^{2x} dx$ هي:

a) $e^4 - 1$

b) $e^4 - 2$

c) $2e^4 - 2$

d) $12e^4 - 12$

$\int_0^2 e^{2x} dx = 12e^{2x} \Big|_0^2 = 12e^4 - 12 \dots \dots \dots$

(2) قيمة $\int_{-4}^4 (x^2 - 4) dx$ هي:

a) 0

b) 4

c) 16

d) 8

$\int_{-4}^4 (x^2 - 4) dx = \int_{-4}^4 (x^2) dx - \int_{-4}^4 4 dx = \left(\frac{1}{3}x^3 - 4x \right) \Big|_{-4}^4 = \left(\frac{1}{3}(64) - 16 \right) - \left(\frac{1}{3}(-64) - 16 \right) = \left(\frac{64}{3} - 16 \right) - \left(-\frac{64}{3} - 16 \right) = \frac{64}{3} - 16 + \frac{64}{3} + 16 = \frac{128}{3} = 42.66 \dots \dots \dots$

(3) يبين الشكل الآتي المنطقة المحصورة بين منحنىي الاقترانين:

$y = x^3 - 3x^2 + 4$ ، $y = x^2 - x - 2$ ، في الفترة $[-1, 2]$

التكامل المحدود الذي يمكن عن طريقه إيجاد مساحة المنطقة المظللة هو:

a) $\int_{-1}^2 (x^3 - 4x^2 + x + 6) dx$

b) $\int_{-1}^2 (x^3 + 4x^2 - x - 6) dx$

$$\int (x^3 - 4x^2 - x + 2) dx \quad (c)$$

$$\int (x^3 - 2x^2 - x + 2) dx \quad (d)$$

$$A = \int -12(x^3 - 3x^2 + 4 - (x^2 - x - 2)) dx = \int -12(x^3 - 4x^2 + x + 6) dx \dots \dots \dots$$

(... (a

(4) حل المعادلة التفاضلية: $\frac{dy}{dx} = 2xy$ الذي تحققه النقطة (0,1) هو:

$$y = e^{x^2} \quad (a)$$

$$y = x^2 y \quad (b)$$

$$y = x^2 y + 1 \quad (c)$$

$$y = x^2 y^2 + 1 \quad (d)$$

$$|y| = x^2 \Rightarrow |y| = e^{x^2} y = |y| = x^2 + C \quad (0,1) \Rightarrow 0 = 0 + C \Rightarrow C = 0 \Rightarrow \int \frac{dy}{y} = \int 2x dx \Rightarrow \ln |y| = x^2 \dots \dots \dots a$$

أجد كلاً من التكاملات الآتية:

$$\int (1 - e^x) dx \quad (5)$$

$$\int (1 - e^x) dx = \int e^{-12x} dx = -\frac{1}{12} e^{-12x} + C$$

$$\int (2x + e^{3x} - 1) dx \quad (6)$$

$$\int (\cos^2 x + e^{3x} - 1) dx = -\frac{1}{2} \int (2x \cos^2 x + e^{3x} - 1) dx = \int (-12x - 2 \sin^2 x) dx$$

$$\int |x| + C \quad 2|x| + 13e^{3x} - \ln$$

$$\int (x) dx \quad (7) \int x(1 + \tan^2 x) dx$$

$$\int (x + \sec^2 x) dx = \int (\csc^2 x \cos^2 x \sin^2 x + 1 \sin^2 x) dx = \int (\csc^2 x (1 + \tan^2 x) dx$$

$$\int x + C + \tan x) dx = -\cot$$

$$\int (e^{2x} + 5) dx \quad (8)$$

$$\int (e^{2x} + 5) + C e^{2x} + 5 dx = \frac{1}{2} \int 2e^{2x} + 5 dx = \frac{1}{2} \ln |$$

$$(2x^2+7x-3)dx \quad (9) \int$$

$$\int (2x^2+7x-3)dx = \frac{2}{3}x^3 + \frac{7}{2}x^2 - 3x + C$$

$$(2x-1)dx \quad (10) \int \sec^2$$

$$\int (2x-1)dx = x^2 - \frac{1}{2}x + C$$

$$(5x+1)dx \quad (11) \int \cot$$

$$\int (5x+1)dx = \frac{5}{2}x^2 + x + C$$

$$x dx \quad (12) \int \cos \frac{\pi}{2} \sin$$

$$\int_0^{\pi/2} x \cos x dx = -14(-1-1) = 28$$

$$(0.5x)dx \quad (13) \int \cos^2$$

$$\int_0^{\pi} x dx = 12((\pi) + (0)) - 0 = 12\pi$$

$$(x^3-1)dx \quad (14) \int_0^2$$

$$\int_0^2 (x^3-1)dx = \left(\frac{x^4}{4} - x\right) \Big|_0^2 = \left(\frac{16}{4} - 2\right) - (0 - 0) = 4 - 2 = 2$$

$$(4x)dx \quad (15) \int_0^{\pi/4} (\sec^2$$

$$\int_0^{\pi/4} 4x dx = 2x^2 \Big|_0^{\pi/4} = 2\left(\frac{\pi^2}{16}\right) - 0 = \frac{\pi^2}{8}$$

$$(2x)dx \quad (16) \int_0^{\pi/3} (2x+\pi^3)-1+\cos$$

$$\int_0^{\pi/3} (2x+\pi^3-1+\cos 2x)dx = \left(x^2 + \pi^3 x - x + \frac{1}{2}\sin 2x\right) \Big|_0^{\pi/3} = \left(\frac{\pi^2}{9} + \pi^3 \frac{\pi}{3} - \frac{\pi}{3} + \frac{1}{2}\sin \frac{2\pi}{3}\right) - 0 = \frac{\pi^2}{9} + \frac{\pi^4}{3} - \frac{\pi}{3} + \frac{\sqrt{3}}{4}$$

$$(2x)dx \quad (17) \int_0^{\pi/8} x \cos$$

$$\int_0^{\pi/8} 4x dx = 2x^2 \Big|_0^{\pi/8} = 2\left(\frac{\pi^2}{64}\right) = \frac{\pi^2}{32}$$

$$(4x^2-4)dx \quad (18) \int$$

$$\int \frac{4x^2 - 4}{(x-2)(x+2)} dx = \int \frac{Ax-2+B}{(x-2)(x+2)} dx = \int \frac{Ax-2+B}{(x-2)(x+2)} dx = \int \frac{Ax-2+B}{(x-2)(x+2)} dx$$

$$= \int \frac{Ax-2+B}{(x-2)(x+2)} dx = \int \frac{Ax-2+B}{(x-2)(x+2)} dx = \int \frac{Ax-2+B}{(x-2)(x+2)} dx$$

$$= \int \frac{Ax-2+B}{(x-2)(x+2)} dx = \int \frac{Ax-2+B}{(x-2)(x+2)} dx = \int \frac{Ax-2+B}{(x-2)(x+2)} dx$$

(19) $\int \frac{x+7x^2-x-6}{(x+2)(x-3)} dx$

$$\int \frac{x+7x^2-x-6}{(x+2)(x-3)} dx = \int \frac{Ax-3+Bx+2A}{(x+2)(x-3)} dx = \int \frac{Ax-3+Bx+2A}{(x+2)(x-3)} dx$$

$$= \int \frac{Ax-3+Bx+2A}{(x+2)(x-3)} dx = \int \frac{Ax-3+Bx+2A}{(x+2)(x-3)} dx = \int \frac{Ax-3+Bx+2A}{(x+2)(x-3)} dx$$

$$= \int \frac{Ax-3+Bx+2A}{(x+2)(x-3)} dx = \int \frac{Ax-3+Bx+2A}{(x+2)(x-3)} dx = \int \frac{Ax-3+Bx+2A}{(x+2)(x-3)} dx$$

(20) $\int \frac{x-1x^2-2x-8}{(x-1)(x^2-2x-8)} dx$

$$\int \frac{x-1x^2-2x-8}{(x-1)(x^2-2x-8)} dx = 12 \int \frac{2x-3-1}{(x-1)(x-4)(x+2)} dx = 12 \ln |x-1| + C$$

(21) $\int \frac{x^2+3x^3+x}{x^2+1} dx$

$$\int \frac{x^2+3x^3+x}{x^2+1} dx = \int \frac{Ax+B+Cx^2+1}{x^2+1} dx + \int \frac{Dx+E}{x} dx = \int \frac{Ax+B+Cx^2+1}{x^2+1} dx + \int \frac{Dx+E}{x} dx$$

$$= \int \frac{Ax+B+Cx^2+1}{x^2+1} dx + \int \frac{Dx+E}{x} dx = \int \frac{Ax+B+Cx^2+1}{x^2+1} dx + \int \frac{Dx+E}{x} dx$$

$$= \int \frac{Ax+B+Cx^2+1}{x^2+1} dx + \int \frac{Dx+E}{x} dx = \int \frac{Ax+B+Cx^2+1}{x^2+1} dx + \int \frac{Dx+E}{x} dx$$

(22) $\int \frac{1-x^2}{(1-x)(1+x)} dx$

$$\int \frac{1-x^2}{(1-x)(1+x)} dx = \int \frac{Ax+B}{(1-x)(1+x)} dx = \int \frac{Ax+B}{(1-x)(1+x)} dx = \int \frac{Ax+B}{(1-x)(1+x)} dx$$

$$= \int \frac{Ax+B}{(1-x)(1+x)} dx = \int \frac{Ax+B}{(1-x)(1+x)} dx = \int \frac{Ax+B}{(1-x)(1+x)} dx$$

$$= \int \frac{Ax+B}{(1-x)(1+x)} dx = \int \frac{Ax+B}{(1-x)(1+x)} dx = \int \frac{Ax+B}{(1-x)(1+x)} dx$$

(23) $\int \frac{x-3\cos x \cos^2 \sin x}{x} dx$

$$\int \frac{x-3\cos x \cos^2 \sin x}{x} dx = \int \frac{u-3\cos u \cos^2 \sin u}{u} du = \int \frac{u-3\cos u \cos^2 \sin u}{u} du = \int \frac{u-3\cos u \cos^2 \sin u}{u} du$$

$$= \int \frac{u-3\cos u \cos^2 \sin u}{u} du = \int \frac{u-3\cos u \cos^2 \sin u}{u} du = \int \frac{u-3\cos u \cos^2 \sin u}{u} du$$

$$= \int \frac{u-3\cos u \cos^2 \sin u}{u} du = \int \frac{u-3\cos u \cos^2 \sin u}{u} du = \int \frac{u-3\cos u \cos^2 \sin u}{u} du$$

$$\int (xx-4)dx \quad (24)$$

$$u=x \Rightarrow u^2=x, dx=2u du \int xx-4 = \int uu^2-4 \times 2u du = \int 2u^2u^2-4 du = \int (2+8u^2-4) du$$

$$8u^2-4 = Au^{-2} + Bu + 2 \Rightarrow A(u+2) + B(u-2) = 8u = 2 \Rightarrow A = 2, u = -2 \Rightarrow B$$

$$|u+2| + C = 2x |u-2| - 2 \ln = -2 \int xx-4 = \int (2+2u^{-2} + -2u+2) du = 2u + 2 \ln |x-2x+2| + C + 2 \ln$$

$$\int (x dx) (25x^1 + \tan x \tan \sec^2 x)$$

$$x(u-1)u du \sec^2 x dx = \int \sec^2 x (1 + \tan x \tan x) \sec^2 x dx \Rightarrow dx = du \sec^2 u = 1 + \tan x$$

$$x) 32x) 52 - 23(1 + \tan x = \int (u^3 - u) du = 25u^5 - 23u^3 + C = 25(1 + \tan + C$$

$$\int (x^4 - 3x^3) dx \quad (26)$$

$$u = 4 - 3x \Rightarrow dx = du - 3, x = 4 - u \int x^4 - 3x^3 dx = \int 13(4-u)u^13 x du - 3 = -19$$

$$\int (4u - 13 - u^23) du = -19(6u^23 - 35u^53) + C = -23u^23 + 115u^53 + C = -2$$

$$3(4-3x)^23 + 115(4-3x)^53 + C$$

$$\int (x)^6 x dx \quad (27 \ln)$$

$$x)^6 x dx = \int x u^6 x du = \int u^6 du = 17u^7 + C = 17(x \Rightarrow du dx = 1/x, dx = x du) \int (\ln u = \ln$$

$$x)^7 + C \ln$$

$$\int (x+1)^{2x-2} dx \quad (28)$$

$$u = x - 2 \Rightarrow x = u + 2, dx = du \int (x+1)^{2x-2} dx = \int (u+3)^{2u} du = \int (u^2 + 6u + 9)$$

$$u^{12} du = \int (u^5 + 6u^3 + 9u) du = 27u^7 + 125u^5 + 6u^3 + C = 27(x-2)$$

$$7 + 125(x-2)^5 + 6(x-2)^3 + C$$

$$\int (x dx) (29x \csc^2 x)$$

$$xx + \int \cot x dx = -x \cot x \int x \csc^2 x dx du = dx v = -\cot x dx u = x dv = \csc^2 x \csc^2 \int$$

$$x| + C | \sin x + \ln x dx = -x \cot x \sin x + \int \cos dx = -x \cot$$

$$\int (x^2 - 5x) e^x dx \quad (30)$$

$$u = x^2 - 5x dv = e^x dx du = (2x - 5) dx v = e^x \int (x^2 - 5x) e^x dx = (x^2 - 5x) e^x - \int (2$$

$$\int (2x-5)ex dx = \int 2xex dx - \int 5ex dx = 2 \int xex dx - 5 \int ex dx = 2(xex - \int ex dx) - 5ex = 2xex - 2ex - 5ex + C = ex(x^2 - 7x + 7) + C$$

$$\int (2x^2 + 31x \sin^2 x) dx$$

$$\int (2x^2 - 12 \cos^2 x) dx = \int 2x^2 dx - \int 12 \cos^2 x dx = \frac{2}{3}x^3 - 12 \int \cos^2 x dx = \frac{2}{3}x^3 - 12 \int \frac{1 + \cos 2x}{2} dx = \frac{2}{3}x^3 - 6x - 3 \sin 2x + C$$

أجد قيمة كل من التكاملات الآتية:

$$\int_0^1 t^3 t^2 dt \quad (32)$$

$$u = t^2 \Rightarrow dt = \frac{1}{2}u^{-1/2} du \Rightarrow \int_0^1 t^3 t^2 dt = \int_0^1 t^5 dt = \frac{1}{6}t^6 \Big|_0^1 = \frac{1}{6}$$

$$\int (\pi/4 - \pi/3 \cot^3 x) dx$$

$$\int (\pi/4 - \pi/3 \cot^3 x) dx = \int \pi/4 dx - \pi/3 \int \cot^3 x dx = \pi/4 x - \pi/3 \int \cot^2 x \cot x dx = \pi/4 x - \pi/3 \int (\csc^2 x - 1) \cot x dx = \pi/4 x - \pi/3 \int \csc^2 x \cot x dx + \pi/3 \int \cot x dx = \pi/4 x - \pi/3 (-\csc x) + \pi/3 \ln |\sin x| + C = \pi/4 x + \pi/3 \csc x + \pi/3 \ln |\sin x| + C$$

$$\int (4x^4 + 3 \sin \pi x \cos x) dx$$

$$\int (4x^4 + 3 \sin \pi x \cos x) dx = \int 4x^4 dx + 3 \int \sin \pi x \cos x dx = \frac{4}{5}x^5 + 3 \int \frac{1}{2} \sin 2\pi x dx = \frac{4}{5}x^5 + \frac{3}{4} \cos 2\pi x + C$$

$$\int (10x^2 - xx^2 + x - 2) dx \quad (35)$$

$$\int (10x^2 - xx^2 + x - 2) dx = \int (10x^2 - x^3 + x - 2) dx = \frac{10}{3}x^3 - \frac{1}{4}x^4 + \frac{1}{2}x^2 - 2x + C$$

$$\int (1232x^2 + 416x^2 - 1) dx \quad (36)$$

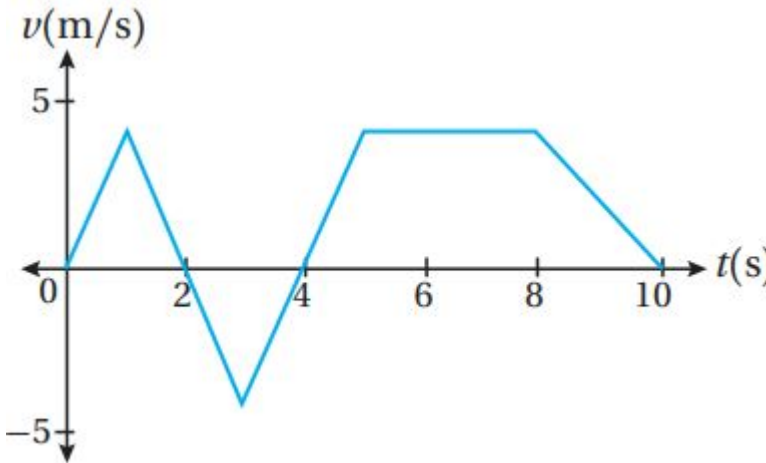
$$\int (1232x^2 + 416x^2 - 1) dx = \int (1648x^2 - 1) dx = \frac{1648}{3}x^3 - x + C$$

$$35275)=2+34\ln 3-34\ln(2+34\ln$$

$$(2x dx (371/2e/2x \ln f$$

$$2x|12e2 - \int 12e2x^2 dx = x^2 \ln 2x dv = x dx du = 1xv = x^2 \int 12e2x \ln u = \ln$$

$$(2x|12e2 - 14x^2|12e2 = 116(e^2 + 1) dx = x^2 \ln$$



يبين الشكل الآتي منحنى السرعة المتجهة - الزمن لجسيم يتحرك على المحور x في الفترة الزمنية [0,10]، إذا بدأ الجسيم الحركة من x=0 عندما t=0، فأجب عن الأسئلة الثلاثة التالية تباعاً:

(38) أجد إزاحة الجسيم في الفترة الزمنية المعطاة.

$$s(10) - s(0) = \int_0^{10} v(t) dt = R_1 - R_2 + R_3 = 12(2)(4) - 12(2)(4) + 12(3+6)(4) = 18m$$

(39) أجد المسافة التي قطعها الجسيم في الفترة الزمنية المعطاة له.

$$\int_0^{10} |v(t)| dt = R_1 + R_2 + R_3 = 4 + 4 + 18 = 26m$$

(40) أجد الموقع النهائي للجسيم.

$$s(10) - s(0) = 18 \Rightarrow s(10) - 0 = 18 \Rightarrow s(10) = 18m$$

(41) أجد مساحة المنطقة المحصورة بين منحنىي الاقترانين: $g(x) = x^2, f(x) = x$.

$$x^2 = x \Rightarrow x^2 - x = 0 \Rightarrow x(x-1) = 0 \Rightarrow x=0, x=1 \quad A = \int_0^1 (x-x^2) dx = (2/3 x^3 - 1/2 x^2) \Big|_0^1 = (2/3 - 1/2) - (0) = 1/6$$

(42) أجد المساحة المحصورة بين منحنىي الاقترانين: $g(x) = x, f(x) = x^3$.

$$x = x^3 \Rightarrow x(x^2 - 1) = 0 \Rightarrow x=0, x=1, x=-1 \quad A = \int_{-1}^0 (x-x^3) dx + \int_0^1 (x-x^3) dx$$

$$=(14x^4-12x^2)|_{-10}+(12x^2-14x^4)|_0=12$$

(43) أجد مساحة المنطقة المحصورة بين منحنى الاقترانين:
 $x=2, x=-2$ والمستقيمين $g(x)=x^2+2, f(x)=-x$

$$x^2+2=-x \Rightarrow x^2+x+2=0$$

هذه المعادلة التربيعية لا حلول لها، لأن المميز سالب، إذن، منحنيا الاقترانين لا يتقاطعان.

$$A = \int_{-2}^2 (x^2+2+x) dx = (13x^3+2x+12x^2)|_{-2}^2 = 403$$

(44) أثبت أن: $\int_{-2}^2 (x^2-1) dx = 3+12 \ln 2$.

$$x^2-1=1+1x^2-1=1+Ax-1+Bx+1 \Rightarrow A(x+1)+B(x-1)=1 \Rightarrow A=12$$

$$|x=-1 \Rightarrow B=-12 \int_{-2}^2 (x^2-1) dx = \int_{-2}^2 (1+12x-1-12x+1) dx = (x+12 \ln 2|x+1|)|_{-2}^2 = 3+12 \ln 2 - 12 \ln 2$$

يتحرك جسيم في مسار مستقيم، وتعطى سرعته المتجهة
بالاقتران: $v(t)=t^2-6t+9$ ، حيث t الزمن بالثواني، و v سرعته المتجهة بالمتري لكل
ثانية:

(45) أجد إزاحة الجسيم في الفترة $[1,10]$.

$$D = \int_{10}^{110} v(t) dt = \int_{10}^{110} (19t - (t+6) - 12) dt = (118t^2 - 2t + 6)|_{10}^{110} = (27 - 52)$$

$$m \approx 2.792m$$

(46) أجد المسافة الكلية التي قطعها الجسيم في الفترة $[1,10]$.

$$v(t) = 19t - (t+6) - 12$$

لتكن d المسافة المقطوعة وهي تمثل المساحة بين منحنى $v(t)$ والمحور t بين
المستقيمين $t=1, t=10$

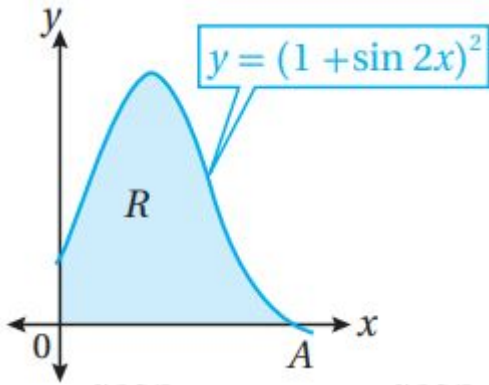
$$d = \int_{10}^{110} |v(t)| dt = \int_{10}^{110} |19t - (t+6) - 12| dt$$

$$19t - (t+6) - 12 = 0 \Rightarrow 19t = 1t + 6 + 12 \Rightarrow 18t = 18 \Rightarrow t = 1$$

$$+6 = 9 \Rightarrow t^2(t+6) = 81 \Rightarrow t^3 + 6t^2 - 81 = 0 \Rightarrow (t-3)(t^2+9t+81) = 0 \Rightarrow t = 3 \Rightarrow d = -$$

$$\int_{10}^{110} 13(19t - (t+6) - 12) dt + \int_{310}^{310} (19t - (t+6) - 12) dt = (2t+6-118t^2)|_{10}^{110} + ($$

$$118t^2-2t+6)|_{310}^{310} = 15518 - 27 \approx 3.32m$$



يمثل الشكل المجاور منحنى
الاقتران: $y = (1 + \sin 2x)^2$ حيث: $0 \leq x \leq \frac{3\pi}{4}$

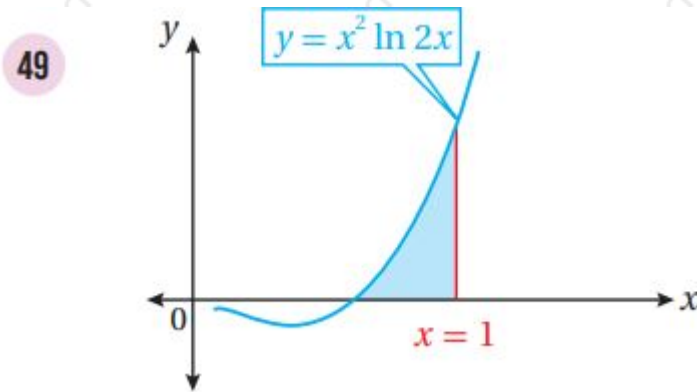
(47) أجد إحداثيي النقطة A.

$$(2x)^2 = 0 \Rightarrow \sin 2x = -1 \Rightarrow 2x = \frac{3\pi}{2} \Rightarrow x = \frac{3\pi}{4} \Rightarrow A\left(\frac{3\pi}{4}, 0\right)$$

(48) أجد مساحة المنطقة R.

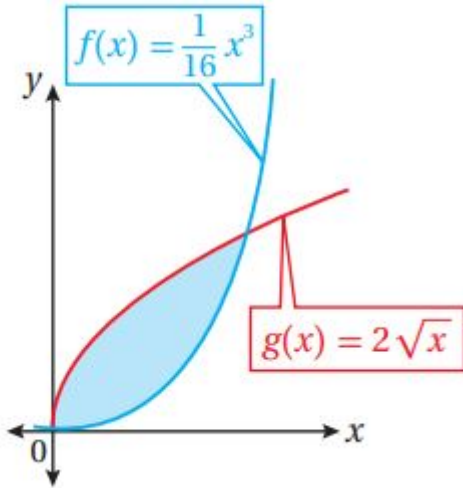
$$\begin{aligned} A(R) &= \int_0^{\frac{3\pi}{4}} (1 + \sin 2x)^2 dx = \int_0^{\frac{3\pi}{4}} (1 + 2\sin 2x + \sin^2 2x) dx \\ &= \int_0^{\frac{3\pi}{4}} (1 + 2\sin 2x + \frac{1 + \cos 4x}{2}) dx = \int_0^{\frac{3\pi}{4}} (\frac{3}{2} + 2\sin 2x + \frac{1}{2}\cos 4x) dx \\ &= \left[\frac{3}{2}x - \cos 2x + \frac{1}{8}\sin 4x \right]_0^{\frac{3\pi}{4}} = \frac{9\pi}{8} + 1 - 18\sin \end{aligned}$$

أجد مساحة المنطقة المظللة في كل من التمثيلين البيانيين الآتيين:



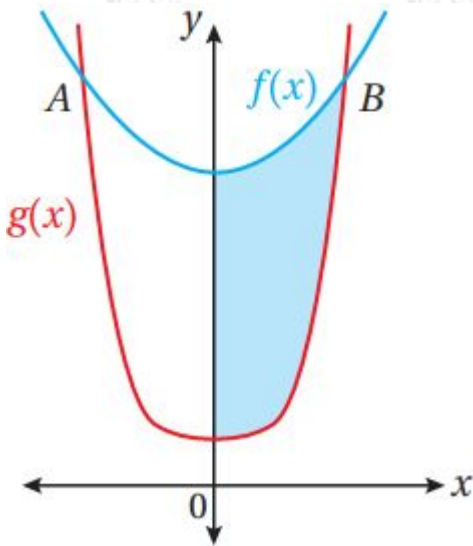
$$\begin{aligned} x^2 \ln 2x = 0 &\Rightarrow x = \frac{1}{2} \text{ or } x = 0 \\ A &= \int_{\frac{1}{2}}^1 x^2 \ln 2x dx \\ &= \int_{\frac{1}{2}}^1 x^2 (\ln 2 + \ln x) dx = \ln 2 \int_{\frac{1}{2}}^1 x^2 dx + \int_{\frac{1}{2}}^1 x^2 \ln x dx \\ &= \ln 2 \left[\frac{x^3}{3} \right]_{\frac{1}{2}}^1 + \int_{\frac{1}{2}}^1 x^2 \ln x dx \\ &= \frac{\ln 2}{3} + \int_{\frac{1}{2}}^1 x^2 \ln x dx \\ &= \frac{\ln 2}{3} + \left[\frac{x^3}{3} \ln x - \int \frac{x^3}{3} \cdot \frac{1}{x} dx \right]_{\frac{1}{2}}^1 \\ &= \frac{\ln 2}{3} + \left[\frac{x^3}{3} \ln x - \frac{x^2}{6} \right]_{\frac{1}{2}}^1 \\ &= \frac{\ln 2}{3} + \left(\frac{1}{3} \ln 1 - \frac{1}{6} \right) - \left(\frac{1}{24} \ln \frac{1}{2} - \frac{1}{24} \right) \\ &= \frac{\ln 2}{3} - \frac{1}{6} + \frac{1}{24} \ln 2 + \frac{1}{24} \\ &= \frac{8\ln 2 + 1}{24} \end{aligned}$$

50



$$116x^3 = 2x \Rightarrow 1256x^6 - 4x = 0 \Rightarrow x(1256x^5 - 4) = 0 \Rightarrow x = 0, x = 4(256)^{1/5} = 2105$$

$$= 4A = \int_0^4 (2x - 116x^3) dx = (43x^3 - 164x^4) \Big|_0^4 = 203$$



يبين الشكل الآتي منحنىي الاقترانين:
: $f(x) = x^2 + 14, g(x) = x^4 + 2$

(51) إذا كان منحنيا الاقترانين يتقاطعان في النقطة A والنقطة B، فأجد إحداثي نقطتي التقاطع.

$$x^2 + 14 = x^4 + 2 \Rightarrow x^4 - x^2 - 12 = 0 \Rightarrow (x^2 - 4)(x^2 + 3) = 0 \Rightarrow x = \pm 2 \Rightarrow A(-2, f(-2))$$

$$= (-2, 18) B(2, f(2)) = (2, 18)$$

(52) أجد حجم الجسم الناتج من دورات المنطقة المظللة حول المحور x.

نلاحظ أن منحنىي f, g واقعان فوق المحور x، وأن منحنى f فوق منحنى g في الفترة $[-2, 2]$

$$V = \pi \int_0^2 (f^2(x) - g^2(x)) dx = \pi \int_0^2 ((x^2 + 14)^2 - (x^4 + 2)^2) dx = \pi \int_0^2 (-x^8 - \rightarrow$$

$$3x^4 + 28x^2 + 192) dx = \pi(-19x^9 - 35x^5 + 283x^3 + 192x) \Big|_0^2 = 17216\pi 45$$

(53) أجد حجم المجسم الناتج من دورات المنطقة المحصورة بين منحنى الاقتران:
 $f(x) = xe^{-x}$ والمحور x والمستقيمين: $x=1$ و $x=2$ حول المحور x .

$$V = \pi \int_1^2 (f(x))^2 dx = \pi \int_1^2 x^2 e^{-2x} dx$$

$$u = x^2 \quad v = e^{-2x} \quad du = 2x dx \quad dv = -2e^{-2x} dx$$

$$x^2 e^{-2x} = -\frac{1}{2} x^2 e^{-2x} + \int e^{-2x} dx = -\frac{1}{2} x^2 e^{-2x} - \frac{1}{4} e^{-2x} + C$$

$$V = \pi \left(-\frac{1}{2} x^2 e^{-2x} - \frac{1}{4} e^{-2x} \right) \Big|_1^2 = 2e - 3e^2 \pi$$

أحل كلاً من المعادلات التفاضلية الآتية:

$$(54) \quad \frac{dy}{dx} = yx$$

$$\int \frac{dy}{y} = \int x dx \Rightarrow \ln|y| = \frac{1}{2} x^2 + C \Rightarrow y = e^{\frac{1}{2} x^2 + C} = e^{\frac{1}{2} x^2} \cdot e^C = e^{\frac{1}{2} x^2} \cdot C$$

$$(55) \quad \frac{dy}{dx} = x \sec y$$

$$\int \sec y dy = \int x dx \Rightarrow \ln|\sec y + \tan y| = \frac{1}{2} x^2 + C$$

$$\ln|\sec y + \tan y| = \frac{1}{2} x^2 + C \Rightarrow \sec y + \tan y = e^{\frac{1}{2} x^2 + C} = e^{\frac{1}{2} x^2} \cdot e^C = e^{\frac{1}{2} x^2} \cdot C$$

$$(56) \quad 3y^2 \frac{dy}{dx} = 8x$$

$$\int 3y^2 dy = \int 8x dx \Rightarrow y^3 = 4x^2 + C$$

$$(57) \quad x \frac{dy}{dx} = 3xy + 4y$$

$$\int \frac{dy}{y} = \int (3x + 4) dx \Rightarrow \ln|y| = \frac{3}{2} x^2 + 4x + C$$

$$y = e^{\frac{3}{2} x^2 + 4x + C} = e^{\frac{3}{2} x^2 + 4x} \cdot e^C = e^{\frac{3}{2} x^2 + 4x} \cdot C$$

أجد الحل الخاص الذي يحقق الشرط الأولي المعطى لكل معادلة تفاضلية مما يأتي:

$$(58) \quad \frac{dy}{dx} + 4y = 8; y(0) = 3$$

$$\frac{dy}{dx} + 4y = 8 \Rightarrow \frac{dy}{dx} = 8 - 4y$$

$$\int \frac{dy}{8 - 4y} = \int dx \Rightarrow -\frac{1}{4} \ln|8 - 4y| = x + C$$

$$\ln|8 - 4y| = -4x - 4C \Rightarrow 8 - 4y = e^{-4x - 4C} = e^{-4x} \cdot e^{-4C} = e^{-4x} \cdot C$$

$$8 - 4y = C e^{-4x} \Rightarrow 4y = 8 - C e^{-4x} \Rightarrow y = 2 - \frac{C}{4} e^{-4x}$$

الحل الخاص $y(0) = 3$ نعوض $x=0, y=3$ في المعادلة $3 = 2 - \frac{C}{4} \Rightarrow \frac{C}{4} = -1 \Rightarrow C = -4$

$$(59) \quad \frac{dy}{dx} = 5e^y(2x+1)(x-2); y(-3) = 0$$

$$\int 5e^y dy = \int (2x+1)(x-2) dx = \int (2x^2 - 3x - 2) dx = \frac{2}{3} x^3 - \frac{3}{2} x^2 - 2x + C$$

$$+1)=1x=2\Rightarrow B=15x=-12\Rightarrow A=-25\int dy5ey=f(-252x+1+15x-2)dx-5+C5+15\ln15\ln-=-15-\text{الحل العام } |x-2|+C|2x+1|+15\ln e^{-y5}=-15\ln|x-2|-15\Rightarrow 1-|2x+1|+15\ln e^{-y5}=-15\ln-\text{نعوض } \Rightarrow C=-15 \quad x=-3, y=0$$

$$||x-22x+1|x-22x+1|\Rightarrow 1-e^{-y}=\ln e^{-y5}=15\ln$$

أسماك: يتغير عدد الأسماك في إحدى البحيرات بمعدل يمكن نمذجته بالمعادلة التفاضلية: $\frac{dx}{dt}=0.2x$, حيث x عدد الأسماك، و t الزمن بالسنوات منذ هذه السنة:

(60) أحل المعادلة التفاضلية لإيجاد عدد الأسماك في البحيرة بعد t سنة، علماً بأن عددها هذه السنة هو 300 سمكة.

$$|x|=0.2t+C\Rightarrow x=e^{0.2t+C}=e^C(e^{0.2t})=Ke^{0.2t}\Rightarrow \int dx = \int 0.2dt \Rightarrow \ln 0.2t$$

حيث k ثابت يساوي e^C وبملاحظة أن عدد الأسماك x أكبر من صفر (فيكون $|x|=x$)

$$\text{الحل الخاص } x(0)=300\Rightarrow 300=Ke^{0.2(0)}\Rightarrow K=300 \quad x(t)=300e^{0.2t}$$

(61) أجد عدد الأسماك في البحيرة بعد 5 سنوات.

$$x(5)=300e^{0.2(5)}=300e^{\approx 815}$$

إذن، عدد الأسماك في البحيرة بعد 5 سنوات هو 815 سمكة تقريباً.

(62) تجارة: يمثل الاقتران $p(x)$ سعر القطعة الواحدة (بالدينار) من منتج معين، حيث x عدد القطع المباعة من المنتج بالمئات. إذا كان: $p'(x)=-300x(9+x^2)^3$ هو معدل التغير في سعر القطعة الواحدة من المنتج، فأجد $p(x)$ ، علماً بأن سعر القطعة الواحدة هو 75JD عندما يكون عدد القطع المباعة من المنتج 400 قطعة.

$$p(x)=\int -300x(9+x^2)^3 dx \quad u=9+x^2\Rightarrow dx=du \quad 2x=du \Rightarrow \int -150u-32du=300u+C\Rightarrow p(x)=300(9+x^2)+C \quad p(4)=300(5)+C\Rightarrow 75=60+C\Rightarrow C=15\Rightarrow p(x)=15+300(9+x^2)$$